

تم تحميل هذا الملف من موقع المناهج الكويتية



الملف نموذج إجابة اختبار منطقة حولي التعليمية

[موقع المناهج](#) ⇨ [المناهج الكويتية](#) ⇨ [الصف السادس](#) ⇨ [علوم](#) ⇨ [الفصل الثاني](#)

روابط مواقع التواصل الاجتماعي بحسب الصف السادس



روابط مواد الصف السادس على تلغرام

[الرياضيات](#)

[اللغة الانجليزية](#)

[اللغة العربية](#)

[التربية الاسلامية](#)

المزيد من الملفات بحسب الصف السادس والمادة علوم في الفصل الثاني

بنك أسئلة	1
دليل المعلم	2
دليل المعلم	3
كتاب الطالب 6	4
تحضير درس مخطط جسمك	5

منطقة حولي التعليمية

اختبار نهاية الفترة الدراسية الثانية

موقع
المنهج الكويتية
almanahj.com/kw

العام الدراسي ٢٠٢٢/٢٠٢٣

الصف السادس

نموذج إجابة اختبار مادة

العلوم

السؤال الأول : اختر الإجابة الصحيحة علمياً لكل من العبارات التالية و ضع علامة (√)

في المربع المقابل لها : (8 × 2 = 16 درجة)

1. وحدة التركيب الأساسية في الكائن الحي: ص 21



موقع
المنهج الكويتية
almanahj.com/kw

2. عضية توجد في الخلية النباتية ولا توجد بالخلية الحيوانية: ص 22

البلاستيدات الخضراء

فجوة عصارية صغيرة

غشاء الخلية

3. الفيروس في الشكل المقابل متخصص في إصابة : ص 49

الحيوان

النبات

البكتيريا

الإنسان

4. مرض بكتيري يصيب الإنسان: ص 78

الانفلونزا

الكوليرا

النكاف

الحصبة

5. قدرة الكائن الحي على إنتاج أفراد جديدة: ص 89

الهضم

التنفس

التكاثر

الإخراج

6. أحد النباتات التالية يتكاثر لا جنسياً: ص 89

الخيار

الفول

الجزر

البصل

7. خليط من مادتين سائلتين أو أكثر لا تدوبان ولا تمتزجان : ص 115

الحليب

ماء وسكر

شراب التفاح

الخل

8. طريقة لفصل وتنقية المواد الكيميائية المختلطة : ص 129

التبلور



الترشيح

الاستشراب

التقطير

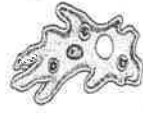


السؤال الثاني : أكتب بين القوسين كلمة (صحيحة) للعبارة الصحيحة وكلمة (خطأ) للعبارة

غير الصحيحة لمآبتي : ($8 = 1 \times 8$ درجات)

- 8
1. المجهر أداة تستخدم لإظهار التفاصيل الدقيقة للأشياء . ص18 (..... صحيحة)
 2. جدار الخلية يقوم بتنظيم مرور المواد من و إلى الخلية. ص22 (..... خطأ)
 3. نواة الخلية الحيوانية غالباً ما تكون مركزية . ص23 (..... صحيحة)
 4. الشكل المقابل يوضح أحد مستويات التعضي يسمى النسيج. ص26  (..... خطأ)
 5. غسل اليدين لا يحد من انتشار مسببات الأمراض . ص 44 (..... خطأ)
 6. المادة الصلبة المتشكلة في المحلول السائل تسمى الراسب. ص 112 (..... صحيحة)
 7. الشكل المقابل يمثل مستحلب . |  ص 115 (..... صحيحة)
 8. التبلور طريقة تستخدم لفصل مادة صلبة عن مادة سائلة. ص 120 (..... خطأ)

السؤال الثالث : في الجدول التالي اختر العبارة او الشكل من المجموعة (ب) وأكتب رقمها أمام مايناسبها

من عبارات المجموعة (أ) : ($6 = 1 \times 6$ درجات)

رقم	المجموعة (أ)	المجموعة (ب)
2	• فيروس يصيب نبات التبغ بمرض التبرقش.	 (3)
1	• فيروس يصيب الإنسان بمرض الإنفلونزا.	 (2)
6	• دور تقوم به البكتيريا في أمعاء الإنسان.	 (1)
4	• دور تقوم به البكتيريا في الصناعة .	4- إنتاج المضادات الحيوية.
7	• المرحلة الأولى لإعادة تدوير الورق.	5- إنتاج البلورات السامة.
9	• المرحلة الأخيرة لإعادة تدوير الورق.	6- هضم السليلوز .
	ص 132	7- الجمع.
		8- الغسل.
		9- التجفيف.

10

السؤال الرابع (أ) : علل لما يأتي تعليلاً علمياً دقيقاً : ($2 \times 2 = 4$ درجات)

1. الخلايا العصبية طويلة وكثيرة التفرع . ص 31

تساعدنا في نقل الإشارات (المعلومات) بين أجزاء الجسم





2. النواة في الخلية البكتيرية بدائية . ص 71

لعدم وجود الغشاء النووي

4

السؤال الرابع (ب) : قارن بين كل مما يلي : ($2 \times 3 = 6$ درجات)

6

		وجه المقارنة
..... <u>حلزوني</u> <u>كروي</u> ص 71	الشكل البكتيري
		وجه المقارنة
..... <u>تكاثر جنسي</u> <u>تكاثر لا جنسي</u>	نوع التكاثر ص 89 - ص 90
الشاي	السلطة	وجه المقارنة
..... <u>محلول</u> <u>مخلوط</u>	نوع المادة ص 112 (محلول - مخلوط - مستحلب)

السؤال الخامس (أ) : اختر أي مما يلي لا ينتمي للمجموعة بوضع خط مع ذكر السبب:

(2×2 = 4 درجات)

10

1- (جدار الخلية - البلاستيده الخضراء - الجسم المركزي - فجوة عصارية كبيرة)
ص 22 - ص 23

السبب: لأنه من عضيات..... الخلية الحيوانية..... والباقي من عضيات..... الخلية النباتية.....

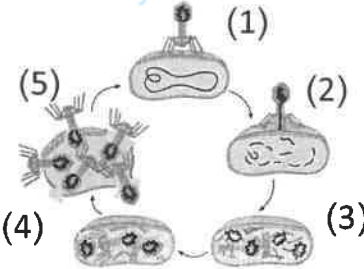
ص 54 - ص 87

2- (مرض التفاف أوراق البطاطس - الحمى القلاعية - الحصبة - التهاب البلعوم)

السبب : لأنه من الأمراض البكتيرية..... والباقي من الأمراض الفيروسية.....

2

السؤال الخامس (ب) : أدرس الرسومات التالية جيداً ثم أجب عن المطلوب : (2×3 = 6 درجات)

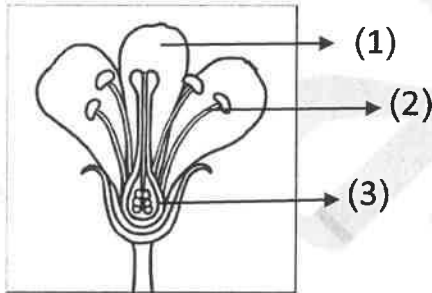


1- الرسم المقابل يوضح مراحل تكاثر فيروس آكل البكتيريا :

- المرحلة التي يتم فيها حقن المادة الوراثية يمثلها الرقم (2).....
- يتركب الفيروس من مادة وراثية محاطة بـ..... غلاف بروتيني.....

ص 52 - ص 53

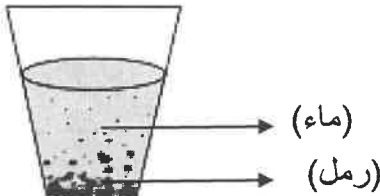
2



2- الرسم المقابل يوضح تركيب أعضاء التكاثر في الزهرة: ص 90

- عضو التكاثر الذكري في الزهرة يسمى..... البداة.....
- عضو التكاثر الأنثوي في الزهرة يمثلها الرقم (.....3.....)

2



3- الرسم المقابل يوضح خليط من الماء و الرمل: ص 112 - ص 118

- يعتبر الماء في هذا الخليط: (مذيب - مذاب)
- الطريقة المناسبة لفصل مكونات هذا الخليط هي..... الترشيح.....

انتهت الأسئلة