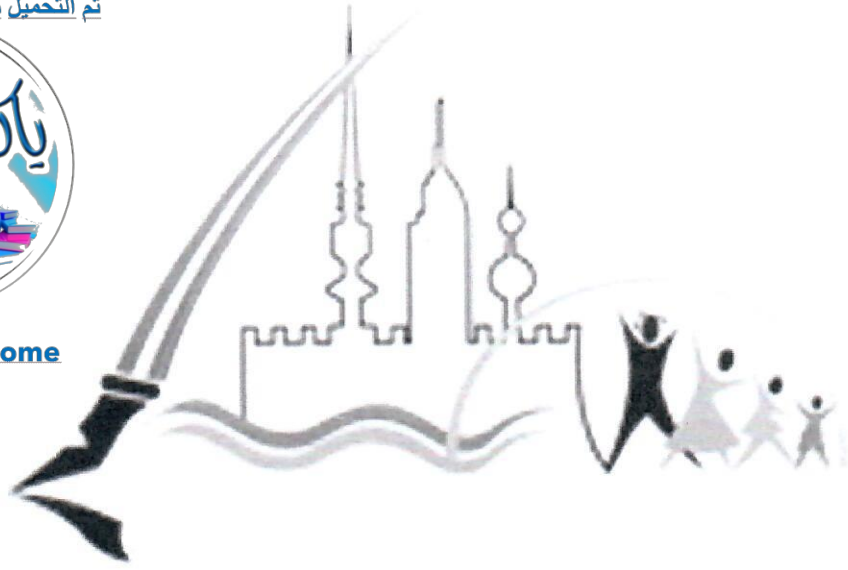


تم التحميل من شبكة ياكويت التعليمية



Telegram:
ykuwait_net_home



منطقة العاصمة التعليمية

الإجابات
التنمؤودزجائية



وزارة التربية

الإدارة العامة لمنطقة العاصمة التعليمية

التوجيه الفني للاجتماعيات

إجابة امتحان نهاية الفترة الدراسية الأولى

العام الدراسي ٢٠٢٣ - ٢٠٢٤م

لمقرر الكويت و دول الخليج العربية

للسف السادس المتوسط

الزمن: ساعة وخمس وأربعون دقيقة

عدد الأوراق ٦

السؤال الأول : (موضوعي) : ويتكون من (أ - ب) :

أ - ظلل الإجابة الصحيحة من بين البدائل التي تلي كل عبارة مما يلي :- (٦ درجات)

١- تقع منطقة الخليج العربية بالنسبة لقارة آسيا في الجهة : ص ١٩

الشمالية الغربية	الجنوبية الغربية	الشمالية الشرقية	الجنوبية الشرقية
يبدأ موسم الغوص على اللؤلؤ في شهر:			

يونيو	أغسطس	سبتمبر	أكتوبر
يطلق على صانع السفينة:			

الرضيف	القلاف	السيب	التبابة
الدولة الخليجية التي توجد بها آثار حضارة دلمون:			

الكويت	عمان	الإمارات	البحرين
القرن الميلادي الذي ظهر فيه الإسلام :			

الخامس	السادس	السابع	الثامن
العام الذي عقدت فيه اتفاقية الحماية البريطانية لإمارة الكويت:			

١٨٩٩م	١٨٨٨م	١٨٧٧م	١٨٦٦م
-------	-------	-------	-------



ب - أكمل العبارات التالية بما يناسبها مما درست :- (٦ درجات)

- ١- يتصف مناخ منطقة الخليج العربية بأنه صحراوي. ص ٢٥
- ٢- عُرف الخليج العربي قديماً باسم البحر الأدنى أو بحر شروق الشمس. ص ٤٧
- ٣- البلد الخليجي الوحيد الذي لم يتعرض للاستعمار يسمى السعودية. ص ٦٥
- ٤- الدولة الخليجية التي توجد بها دار الآثار الإسلامية تسمى الكويت. ص ٥٣
- ٥- أول دولة أوروبية استعمارية وصلت للخليج العربي تسمى البرتغال. ص ٦٠
- ٦- المدينة التي اتخذت مقراً لمجلس التعاون لدول الخليج العربية تسمى الرياض. ص ٧٠

١٢ درجة

السؤال الثاني : (موضوعي) : ويتكون من (أ- ب):

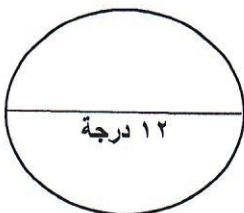
أ - أكتب المفهوم أو المصطلح الدال على كل من العبارات التالية :- (٧ درجات)

١	الخليج العربي	ذراع مائي لبحر العرب يمتد من خليج عُمان جنوباً حتى شط العرب شمالاً. ص ١٩
٢	النهام	مطرب السفينة. ص ٣٢
٣	المناخ	حالة الجو في مكان ما خلال فترات زمنية طويلة. ص ٢٥
٤	خطوط الطول	خطوط وهمية أي غير موجودة على سطح الأرض ترسم على الكرة الأرضية وتقسّم الكرة الأرضية إلى قسمين شرقي وغربي وعددها ٣٦٠. ص ٢١
٥	نبات حولي	نباتات يرتبط وجودها بموسم سقوط المطر. ص ٢٦
٦	الواحة	منطقة تقع في الصحراء فيها مياه عذبة صالحة للزراعة. ص ٢٩
٧	الطواويز (طواش)	تجار اللؤلؤ. ص ٣٢

ب - وزع مناطق الاستقرار للهجرات التالية حسب مكانها الصحيح في الجدول أدناه:-

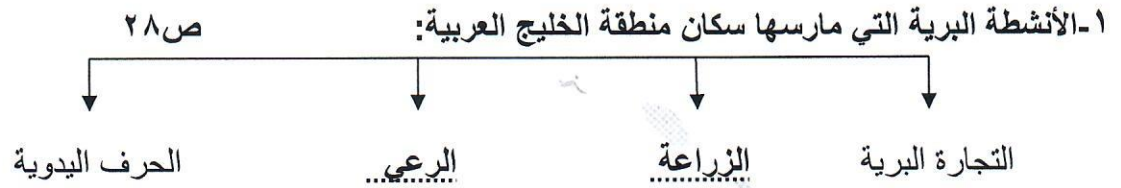
(رأس الخيمة – أبوظبي – الكويت والبحرين – عُمان - قطر) :- ص ٥٧ (٥ درجات)

الرقم	الهجرة	منطقة الاستقرار
١	الأزد	عُمان
٢	القواسم	رأس الخيمة
٣	العتوب	الكويت والبحرين
٤	بني ياس	أبوظبي
٥	المعاضيد	قطر



السؤال الثالث : (موضوعي) : ويتكون من (أ - ب - ج):

أ - أكمل المخططات السهمية التالية بما يناسبها:- (٤ درجات)



تم التحميل من شبكة ياكويت التعليمية



Telegram:
ykuwait_net_home



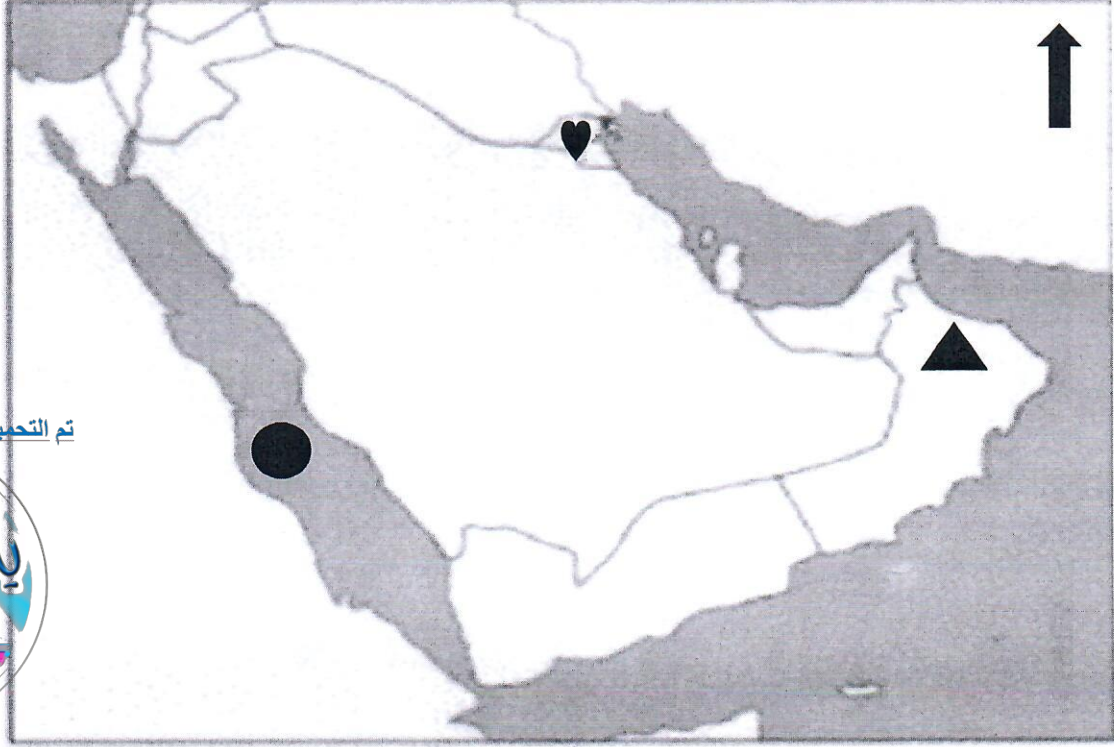
ب - صنف إنجازات مجلس التعاون الخليجي التالية حسب الجدول التالي:- ص ٧٧- ٧٨ (٤ درجات)

اتفاقية الدفاع المشترك واستمرار تعزيز قوة درع الجزيرة / وثيقة التطوير الشامل للتعليم / إقامة الاتحاد الجمركي/ انطلاق السوق الخليجي المشترك في يناير ٢٠٠٨م.

الإنجازات العسكرية	الإنجازات الاقتصادية	الإنجازات الثقافية
* اتفاقية الدفاع المشترك واستمرار تعزيز قوة درع الجزيرة.	* إقامة الاتحاد الجمركي. * انطلاق السوق الخليجي المشترك في يناير ٢٠٠٨م.	* وثيقة التطوير الشامل للتعليم.

ج- لاحظ خريطة شبه الجزيرة العربية التي أمامك ثم استعن بالأشكال التي عليها لإكمال العبارات التالية:-

(٤ درجات)



تم التحميل من شبكة باكويت التعليمية



Telegram:
ykuwait_net_home

ص ٦٦

١- الرمز (♥) يمثل دولة خليجية تسمى الكويت

ص ٢٢

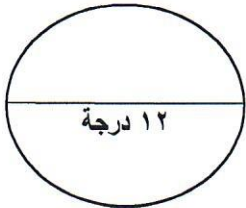
٢- يشير السهم (↑) على الخريطة إلى جهة تسمى الشمال

ص ٢٣

٣- الرمز (●) يمثل على الخريطة بحر أسمه البحر الأحمر

ص ٢٣

٤- الرمز (▲) يمثل على الخريطة جبل أسمه الجبل الأخضر



السؤال الرابع : (مقالى) و يتكون من (أ- ب - ج) :

تم التحميل من شبكة ياكويت التعليمية



Telegram:
ykuwait_net_home

(٤ درجات)

أ - علل لما يلي (اذكر السبب):

ص ١٩

١- أهمية موقع منطقة الخليج العربية.

- تتحكم بأهم الطرق التجارية العالمية.

- تقع وسط العالم.

ص ٣١

٢- انصراف سكان منطقة الخليج العربية عن مهنة الغوص .

- اكتشاف النفط .

- ظهور اللؤلؤ الصناعي

(٤ درجات)

ب - فرق بين كل مما يلي من حيث (التعريف) :

الموقع النسبي ص ٢٠	الموقع الفلكي ص ٢٠
الموقع بالنسبة لليابس والماء.	الموقع بالنسبة لخطوط الطول ودوائر العرض.
القفال ص ٣٢	الدشة ص ٣٢
نهاية موسم الغوص.	بداية موسم الغوص.

(٤ درجات)

ج - أكتب اثنين لكل مما يلي :

ص ٥٥

١- مظاهر الحضارة الإسلامية.

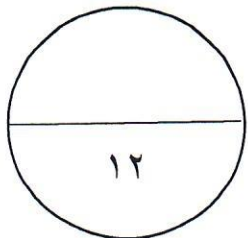
- الصناعة - الفن - العمران .

٢- أهداف مجلس التعاون لدول الخليج العربية. ص ٧٦

- تحقيق التعاون بين الدول الأعضاء في جميع المجالات.

- تحقيق الترابط والصلات بين دول مجلس التعاون.

- العمل على تقدم دول مجلس التعاون في المجال العلمي.



السؤال الخامس (مقالى) و يتكون من (أ - ب - ج):

ص ٤٧

أ - اقرأ الفقرة التالية ثم أجب عما يليها من أسئلة :

كان الخليج العربي ملتقى الحضارات الكبرى في الشرق مما جعل المنطقة مصدراً لجذب السكان ، كما عثر على الكثير من المواقع الأثرية ومنها أفران صهر المعادن وأختام دلمون.

***في ضوء الفقرة السابقة اذكر اثنين مما يلي:- (٤ درجات)**

١- أسماء الحضارات التي قامت في منطقة الخليج العربية قديماً.

- فيلكا (الهليستية) / دلمون / مجان.

٢- الآثار والأنشطة التي عثر عليها في منطقة الخليج العربية قديماً.

- أفران صهر المعادن (معدن النحاس) - أختام (دلمون - فيلكا).

ب - عدد اثنين لكل مما يلي : (٤ درجات)

١- البضائع التي وصلت لمنطقة الخليج العربية عن طريق التجارة البحرية. ص ٣٤

- الشاي - الأرز - السكر- التوابل - الأخشاب .

٢- السمات (الصفات) المشتركة بين دول مجلس التعاون لدول الخليج العربية. ص ٧٠

- وحدة التراث - الانتماء - الدين - المصالح المشتركة.

ج - لاحظ الصورة التي أمامك والتي تمثل معاهدة الاستقلال ثم أجب عما يليها من أسئلة :ص ٦٣ (٤ درجات)

١- عرف الاستقلال : تحرر الدولة من المستعمر الأجنبي وقيامها بمسؤولية إدارة شؤونها الداخلية والخارجية.

٢- ما أسم حاكم الكويت الذي يظهر في الصورة ؟ (الشيخ عبدالله السالم الصباح)

٣- من هو الطرف الأجنبي الذي وقع المعاهدة ؟ (بريطانيا)

٤- ما العام الذي استقلت فيه دولة الكويت ؟ (١٩٦١م)



انتهت الأسئلة