

تم تحميل هذا الملف من موقع المناهج الكويتية



الملف مذكرة لخريطة الطاقة وخريطة لمشكلة المياه

[موقع المناهج](#) ← [المناهج الكويتية](#) ← [الصف الثاني عشر الأدبي](#) ← [جغرافيا](#) ← [الفصل الأول](#)

روابط مواقع التواصل الاجتماعي بحسب الصف الثاني عشر الأدبي



روابط مواد الصف الثاني عشر الأدبي على تلغرام

[الرياضيات](#)

[اللغة الانجليزية](#)

[اللغة العربية](#)

[التربية الاسلامية](#)

المزيد من الملفات بحسب الصف الثاني عشر الأدبي والمادة جغرافيا في الفصل الأول

<a href="#">توزيع مقرر الجغرافيا لعام</a>	1
<a href="#">نماذج اختبارات ممتازة في مادة الجغرافيا</a>	2
<a href="#">مذكرة سلمان الفارسي في مادة الجغرافيا</a>	3
<a href="#">نموذج احابة اختبارلنهاية الفترة الدراسية الاولى في مادة الجغرافيا</a>	4
<a href="#">نموذج احابة امتحان الفترة الاولى 20162017</a>	5



# خريطة الطاقة



دولة الكويت  
وزارة التربية  
التوجيه الفني العام للاجتماعيات

امتحان نهاية الفترة الدراسية الأولى  
لمقرر قضايا البيئة والتنمية المعاصرة  
للفص الثاني عشر / القسم الأدبي  
نموذج الإجابة

العام الدراسي: ٢٠٢٣ / ٢٠٢٤ م  
الزمن: ساعتان وربع  
عدد الأوراق: ٥

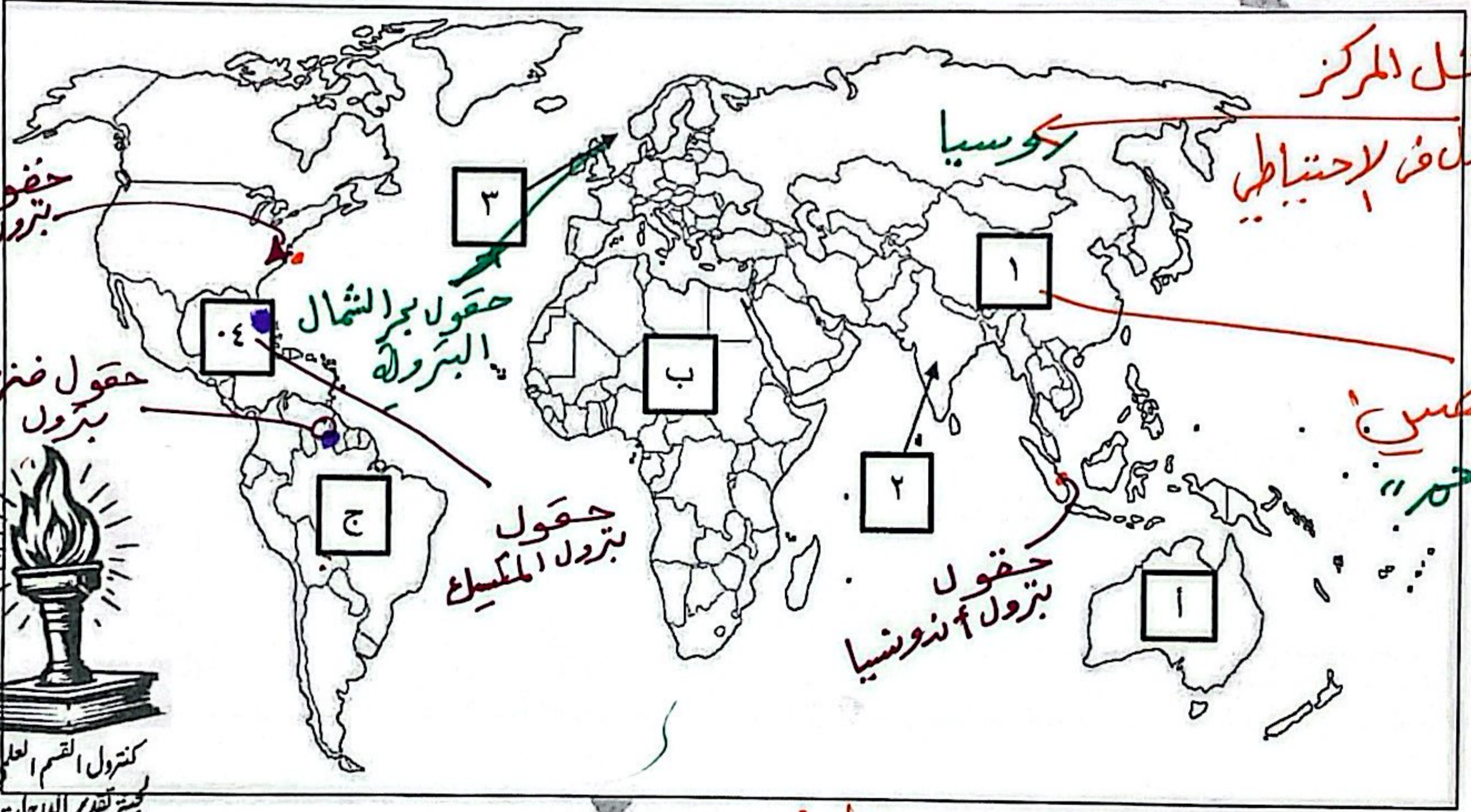
نهاية

مراجعة

أجب عن جميع الأسئلة

- السؤال الأول الموضوعي يتكون من ( أ - ب - ج - د ) لكل نقطة درجة واحدة = ١٧ درجة

( أ ) لاحظ خريطة العالم التي أمامك ثم اكتب الرقم أو الحرف الدال على العبارات التالية: ١ × ٣ = ٣ درجات



- الدولة التي يقل فيها منسوب الماء من ١ إلى ٣ متر سنوياً يمثلها على الخريطة الرقم ( ٢ ) ص ٦٠
  - القارة الأقل من حيث توفير المياه النقية لسكانها عام ٢٠٠١م يمثلها على الخريطة الحرف ( ب ) ص ٦٠
  - حقول بحر الشمال البترولية يمثلها على الخريطة الرقم ( ٣ ) ص ٩٧
- ( ب ) صحح ما تحته خط في العبارات التالية وذلك بكتابة الإجابة الصحيحة في مكانها المناسب:

١- الهند المركز الأول في الاحتياطي  
٢- حقول فنزويلا البترولية رقم ٤

التصويب	العبارة	الدرجة
١	مرحلة من مراحل تطور العلاقة بين الإنسان والبيئة تم فيها اكتشاف النار هي المرحلة الثالثة ص ١٨	١
٢	زيادة نسبة المياه للمحاصيل والمزروعات يطلق عليه <u>تملح التربة</u> . ص ٧٣	٢
٣	اكتشف معدن اليورانيوم المشع على يد العالم <u>لاكور</u> . ص ١٠٠	٣
٤	مصدر الطاقة الذي يسهم بنسبة ١٩,٦% من إنتاج الطاقة الكهربائية عالمياً عام ٢٠٠٥م هو <u>النفط</u> ص ١٠٤	٤

وزارة التربية

التوجيه الفني العام للاجتماعيات





**مشكلة البيئة**

امتحان الفترة الدراسية الأولى

دولة الكويت  
وزارة التربية  
التوجيه الفني العام للاجتماعيات

العام الدراسي: ٢٠٢١/٢٠٢٢ م  
الزمن: ساعتان وربع  
عدد الأوراق: ٦

لمقرر قضايا البيئة والتنمية المعاصرة  
للسف الثاني عشر الأدبي

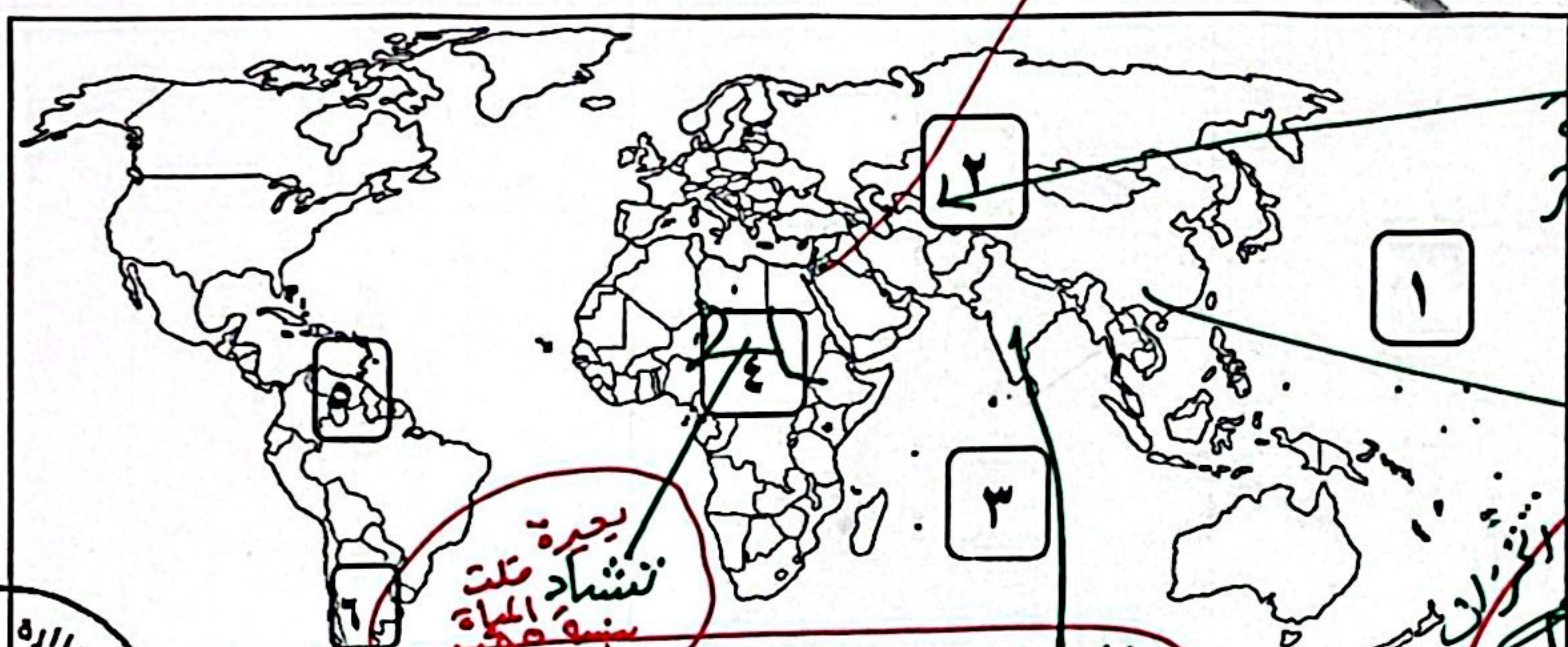
تم لجميع  
الامتحانات ولماذج الإجابة  
وأرشفتها إلكترونياً  
من قبل الموجه الفني  
أ. حمد إبراهيم البحوه

نموذج الإجابة

أجب عن جميع الأسئلة التالية

السؤال الأول: موضوعي يتكون من (أ- ب- ج- د- هـ) لكل إجابة درجة واحدة = ١٧ درجة

(أ) لاحظ خريطة العالم التي أمامك ثم اكتب الرقم الدال على العبارات التالية: (٣ درجات)



الهند "يقدر مستوى المياه من ٣٠ متر سنوياً"



أ- القارة التي يوجد بها بحر آرال يمثلها على الخريطة الرقم ٢  
- المحيط الهندي يمثلها على الخريطة الرقم ٣

حقول فنزويلا البترولية يمثلها على الخريطة الرقم ٤  
- دولة أسورية قلت مياهها ١٦ متر سنوياً

(ب) ظل الحرف (أ) إذا كانت العبارة صحيحة، وظل الحرف (ب) إذا كانت العبارة خاطئة:

(٣ درجات)

القارة الأقل من حيث تنوع المياه النقية لسكانها أفريقيا (٤)

العبارة خاطئة	العبارة صحيحة	القارة الثانية من حيث تنوع المياه النقية لسكانها آسيا (٤)
ب	أ	١ - اكتشف الإنسان النار في المرحلة الثانية من مراحل تطور علاقته مع البيئة. ص ١٨
ب	أ	٢ - إيران تتحكم في أعالي روافد نهر دجلة والفرات. ص ٦٣
ب	أ	٣ - التصحر المعتدل ينخفض فيه الإنتاج النباتي بنسبة تصل إلى ٦٥٪. ص ٧٤

وزارة التربية

التوجيه الفني العام للاجتماعيات



# خريطة العالم

امتحان الفترة الدراسية الأولى

دولة الكويت

العام الدراسي: ٢٠٢١/٢٠٢٢ م

الزمن: ساعتان وربع

لمقرر قضايا البيئة والتنمية المعاصرة

وزارة التربية

عدد الأوراق: ٦

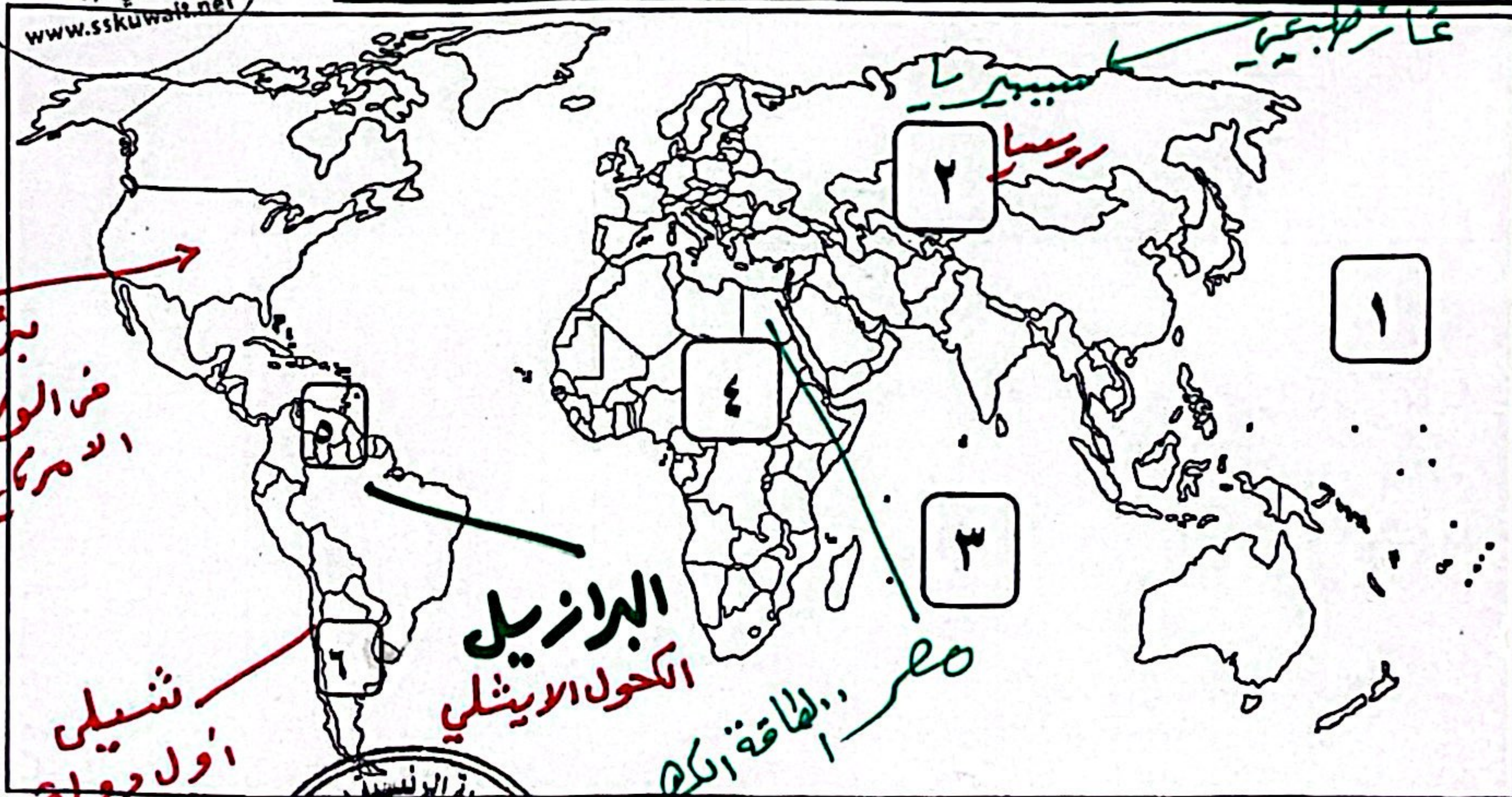
للمصف الثاني عشر الأدبي

التوجيه الفني العام للاجتماعيات

أجب عن جميع الأسئلة التالية

السؤال الأول: موضوعي يتكون من ( أ - ب - ج - د - هـ )

( أ ) لاحظ خريطة العالم التي أمامك ثم اكتب الرقم الدال على العبارات التالية:



- القارة التي يوجد بها بحر آرال يمثلها على الخريطة الرقم .....

- المحيط الهندي يمثل على الخريطة الرقم .....

- حقول فنزويلا البترولية يمثلها على الخريطة الرقم .....



حضرات  
بغناز  
في الولايات المتحدة  
الأمريكية  
٢٠١٨ م  
تشيلي  
أول دولة  
الطاقة الشمسية  
في تحلية مياه البحر



النص

العام الدراسي: ٢٠١٧-٢٠١٨ م  
الزمن: ساعتان وربع  
عدد الأوراق: ٧

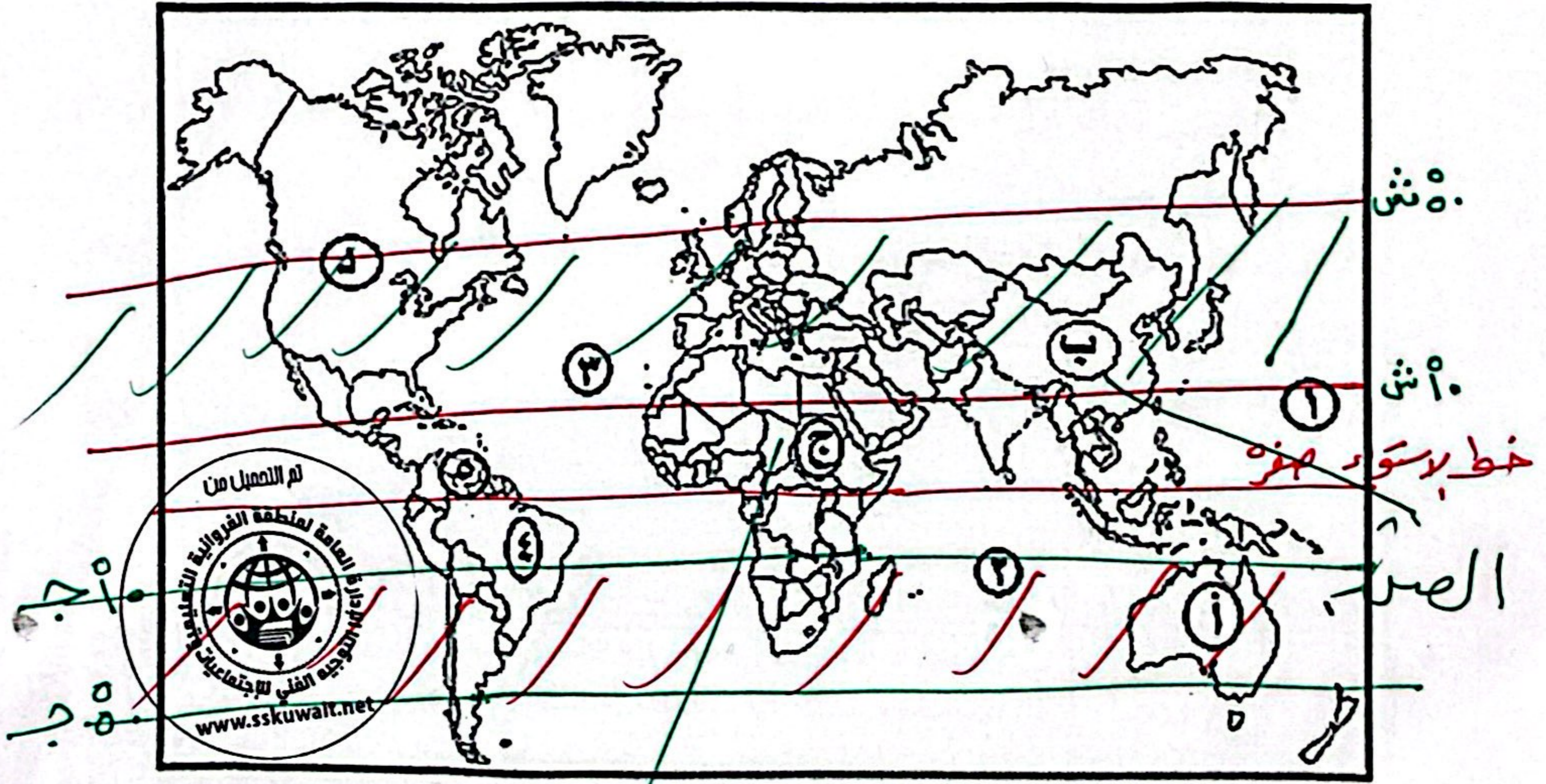
امتحان نهاية الفترة الدراسية الأولى  
لمقرر قضايا البيئة والتنمية المعاصرة  
للسف الثاني عشر الأدبي

دولة الكويت  
وزارة التربية  
التوجيه الفني العام للاجتماعيات

أجب عن أربعة فقط من الأسئلة التالية على أن يكون السؤال الأول منها إجبارياً

السؤال الأول: موضوعي (إجباري) ويتكون من (أ، ب، ج، د، هـ)

(أ) لاحظ خريطة العالم التي أمامك ثم أكتب الرقم أو الحرف الدال على العبارات التالية:



كل نقط بنصف درجة = درجتان

- القارة التي يوجد بها حزام الجوع يمثلها الحرف (ج) (ص ٢٢)

- الدولة التي يقل مستوى الماء بخرانها ١,٥ متر سنوياً يمثلها الحرف (ب) (ص ١٠)

- المحيط الاطلسي (الاطلسي) يمثله الرقم (٣) (ص ٨١)

- دولة فنزويلا المنتجة للبتروك تمثلها الرقم (٥) (ص ٩٧)

الجواب

حرف ج → قارة أفريقيا تحتوي على أكبر مساحة مساهمات المناطق الجافة وسية الجافة إذا قورنت ببقية قارات العالم.

- قارة استراليا ← توجد بها أكبر نسبة من الأراضي الجافة والكافة من أراضي المناطق الجافة (أ)