

تم تحميل هذا الملف من موقع المناهج الكويتية



الملف نموذج إجابة منطقة حولي

[موقع المناهج](#) ⇐ [المناهج الكويتية](#) ⇐ [الصف الثامن](#) ⇐ [اجتماعيات](#) ⇐ [الفصل الثاني](#)

روابط مواقع التواصل الاجتماعي بحسب الصف الثامن



روابط مواد الصف الثامن على تلغرام

[الرياضيات](#)

[اللغة الانجليزية](#)

[اللغة العربية](#)

[التربية الاسلامية](#)

المزيد من الملفات بحسب الصف الثامن والمادة اجتماعيات في الفصل الثاني

تلخيص	1
امتحان دولة الكويت والعالم الاسلامي	2
حل التقويم لمادة الاجتماعيات	3
نموذج احابة اختبار في مادة الاجتماعيات لنهاية الفترة الدراسية الثانية	4
نموذج الاحابة لامتحان الاجتماعيات فرواتية	5



اختبار نهاية الفترة الدراسية الثانية
المناهج الكويتية
almanahj.com/kw

العام الدراسي 2022/2021م

الصف الثامن

نموذج إجابة اختبار مادة

الاجتماعيات

الأحد - 5 / 6 / 2022



وزارة التربية

الإدارة العامة لمنطقة حولي التعليمية

التوجيه الفني للاجتماعيات

العام الدراسي: ٢٠٢١/٢٠٢٢م

الزمن: ساعة و ٤٥ دقيقة

عدد الصفحات: (٥)

امتحان نهاية الفترة الدراسية الثانية

مقرر/ دولة الكويت والعالم الإسلامي

للمصف الثامن المتوسط

السؤال الأول الموضوعي يتكون من (أ - ب - ج - د - هـ) : (٣٠ درجة لكل نقطة درجة واحدة)

(أ) ظل الخيار الصحيح من بين الخيارات التي تلي كل عبارة :

١- المنطقة التي أنشأت فيها أول محطة كهرباء تعمل بالطاقة الشمسية في دولة الكويت: ص ٩٣

الأحمدي	الجهرء	الشقايا	السالمي
---------	--------	---------	---------

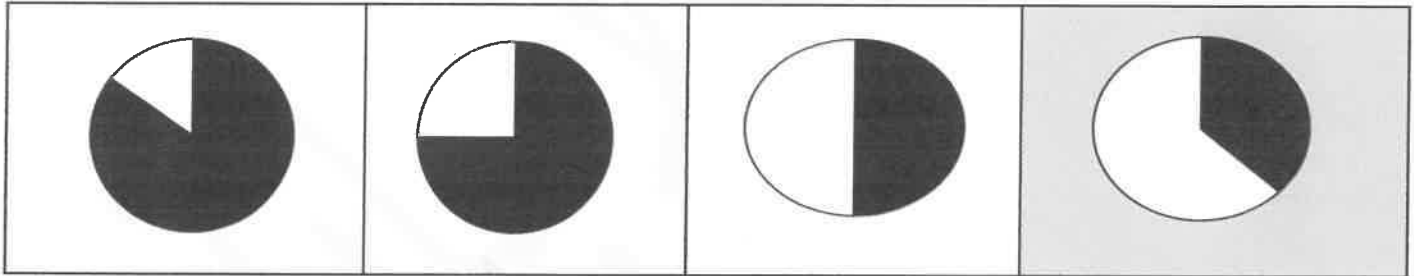
٢- الدولة التي تصل فيها نسبة التلوث الهوائي ٤٠٪ بسبب عوادم السيارات: ص ٨٣

باكستان	سورينام	تركيا	ماليزيا
---------	---------	-------	---------

٣- العام الذي تم فيه تحرير دولة الكويت من العدوان العراقي الغاشم : ص ١٢٢

١٩٩٣م	١٩٩٢م	١٩٩١م	١٩٩٠م
-------	-------	-------	-------

٤- نسبة السكان الذين يعيشون تحت مستوى خط الفقر في العالم الإسلامي يمثلته الجزء المظلل من الدائرة البيانية: ص ٩٧



٥- المنظمة الإسلامية التي تهدف لدعم التنمية الاقتصادية وتنمية التجارة الخارجية للدول الأعضاء : ص ١٤٥

وكالة الانباء الإسلامية الدولية	اللجنة الإسلامية للهلال الدولي	مجمع الفقه الإسلامي	البنك الإسلامي للتنمية
---------------------------------	--------------------------------	---------------------	------------------------

٦- الدولة التي استضافت المؤتمرات الثلاثة للمانحين لدعم الوضع الإنساني في سوريا : ص ١٦٠

الجزائر	المملكة العربية السعودية	الكويت	مصر
---------	--------------------------	--------	-----

تابع السؤال الأول :

(ب) صنف مصادر التلوث البيئي حسب الجدول التالي : ص ٨١

البراكين - النفايات - التطور الصناعي - الغبار - المبيدات الحشرية - الانفجارات النووية

مصادر بشرية	مصادر طبيعية
النفائات التطور الصناعي المبيدات الحشرية الانفجارات النووية	البراكين الغبار

(ج) اكتب المفاهيم أو المصطلحات الدالة على العبارات التالية :

الفرق بين قيمة الصادرات وقيمة الواردات بالدولة . ص ١٠٠	١- الميزان التجاري
خطوط حددت بواسطة الانسان ورسمت حتى تفصل بين سيادة الدولة ودولة أخرى . ص ١٠٢	٢- الحدود
أدنى مستوى من الدخل يحتاجه المرء أو الأسرة حتى يكون بالإمكان توفير مستوى معيشة ملائم في بلد ما . ص ٩٧	٣- خط الفقر
الازعاج أو الضجيج وهي إحدى ملوثات البيئة ولا تقل خطورة عن غيرها من الملوثات الأخرى . ص ٨٧	٤- التلوث الضوضائي
الزيادة الكبيرة في اعداد السكان . ص ٩٥	٥- الانفجار السكاني
أي تغيير غير مرغوب به في الخواص الطبيعية أو الكيميائية أو البيولوجية للبيئة (الهواء - الماء - التربة) والذي قد يتسبب في الاضرار بحياة الانسان والكائنات الأخرى . ص ٨١	٦- التلوث البيئي

(د) اكمل العبارات التالية بما يناسبها :

١- الشيخ الكويتي الذي لقب بقائد العمل الإنساني اسمه الشيخ صباح الاحمد الصباح رحمه الله ص ٨٢

٢- العام الذي عُقدت فيه اتفاقية الحماية بين الشيخ مبارك الصباح والحكومة البريطانية ١٨٩٩م . ص ١٠٦

٣- المؤتمر الذي كان يهدف لإيجاد حل لمشاكل الحدود بين نجد والعراق والكويت عام ١٩٢٢م اسمه العقير

ص ١٠٣

٤- الدولة الأعلى في نسبة الفقر بالنسبة لدول العالم الإسلامي عام ٢٠١٥م اسمها بنغلاديش ص ٩٧

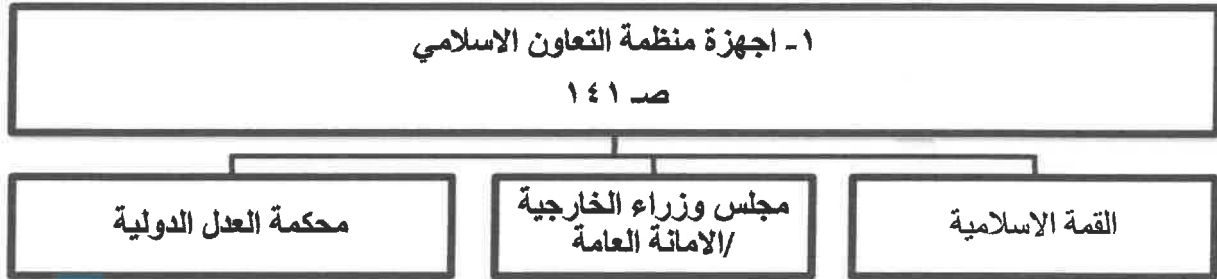
٥- بطلة شاركت في إطفاء حرائق النفط الناجمة عن الغزو العراقي الغاشم على دولة الكويت اسمها سارة أكبر

ص ١١٩

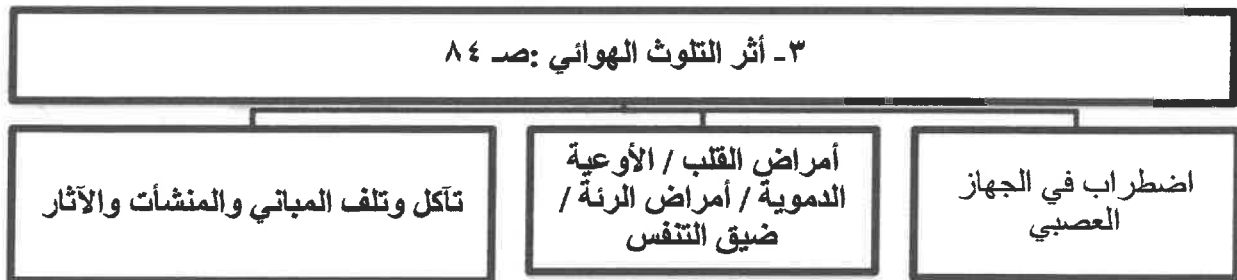
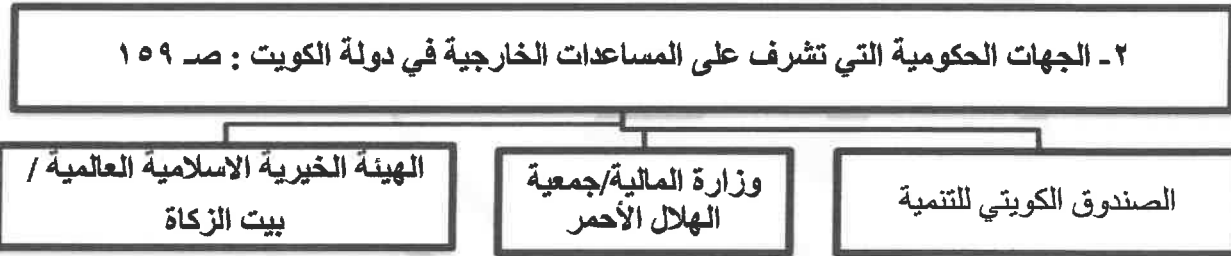
٦- المدينة التركية التي عقد بها المؤتمر الإسلامي الثالث عشر عام ٢٠١٦م اسمها إسطنبول ص ١٤٤

تابع السؤال الأول :

(هـ) اكمل المخططات السهمية التالية :



موقع
المناهج الكويتية
almanahj.com/kw



السؤال الثاني مقالي ويتكون من (أ - ب - ج)

(أ) اجب عن الأسئلة التالية في الخريطة الذهنية للصندوق الكويتي للتنمية : (خمس درجات) ص ١٥٩



١- اذكر صاحب فكرة انشاء الصندوق الكويتي للتنمية ؟
الشيخ جابر الأحمد الجابر الصباح رحمه الله

٢- عدد أهداف الصندوق الكويتي للتنمية. (يكتفى بنقطتين).
* تقديم القروض الميسرة للدول المحتاجة.
* تقديم المنح على سبيل المثال المعونات الفنية.
* الإسهام في برامج التنمية

٣- ما نطاقات عمل الصندوق الكويتي للتنمية ؟
* المساعدات الزراعية / المساعدات الصناعية
* المساعدات الصحية / المساعدات التعليمية

(ب) علل لما يلي : (ست درجات)

١- تعرضت دولة الكويت لتلوث بيني خطير عام ١٩٩٠ م . (يكتفى بنقطتين) ص ٨٥

* بسبب الغزو العراقي ١٩٩٠م البائد عندما قامت وبشكل متعمد بسكب كميات كبيرة من النفط الكويتي بمياه الخليج العربي
* تكون سحب دخانية كثيفة ناتجة عن احتراق آبار النفط الكويتية لمدة سبعة أشهر أثناء وبعد حرب التحرير عام ١٩٩١م.
* تلوث مياه الخليج عن طريق تساقط الأمطار الحمضية في مياه الخليج العربي .

٢- حدوث الفقر في الدول الإسلامية . (يكتفى بنقطتين) ص ٩٨

* عدم توفر فرص العمل / ضعف اقتصاد الدولة
* انتشار البطالة / تضخم أسعار السلع والخدمات
* قلة التبرعات والصدقات في المجتمع .

٣- مشكلة الإدمان . (يكتفى بنقطتين) ص ١٢٦

* ضعف الوازع الديني وانحدار القيم الأخلاقية / ضعف الرقابة من الأسرة على الفرد
* رفاء السوء / * التقليد الأعمى واستيراد قيم جديدة غريبة على مجتمعاتنا تتنافى مع مبادئ ديننا الحنيف
* انتشار التدخين بين المتعلمين في المدارس / * قضاء أوقات الفراغ في أمور تافهة لا تعود على الشباب بالنفع .

(ج) فرق بين كل من : (أربع درجات)

التدوير ص ٩١	النفائيات ص ٩١
إعادة استخدام المخلفات لإنتاج منتجات أخرى أقل جودة من المنتج الأصلي .	هي أي مواد زائدة وغير مرغوبة من مخلفات البيئة أو الفضلات .
العولمة ص ٩٩	التكامل الاقتصادي ص ١٠٠
نظام عالمي جديد يقوم على الإبداع العلمي ، والتطور التقني ، والتكنولوجي ، وثورة الاتصالات بحيث تزول الحدود الثقافية بين الشعوب بالعالم ويصبح العالم كقرية واحدة .	عملية اقتصادية واجتماعية يتم بموجبها إزالة جميع الحواجز بين الوحدات المختلفة ، وتؤدي إلى تحقيق الفرص أمام جميع عناصر الإنتاج في دول التكامل .

السؤال الثالث مقالتي ويتكون من (أ - ب - ج)

(أ) ما النتائج المترتبة على كل من : (ثلاث درجات)

١- تلوث التربة . (يكتفى بنقطتين) ص ٨٨

*الاخلال بالتوازن البيئي للتربة .

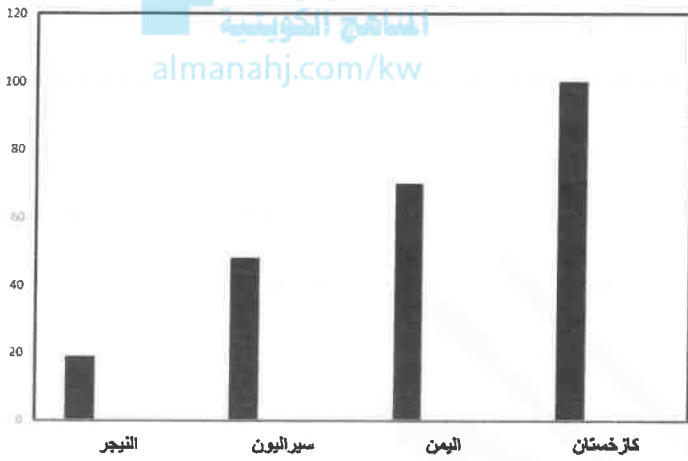
* ضعف عمليات البناء الضوئي للنبات / انحسار الغطاء النباتي .

٢- الاحتباس الحراري . (يكتفى بنقطة) ص ٩٠

*احتباس الحرارة في طبقة الغلاف الجوي * ارتفاع تدريجي في معدل درجات الحرارة

* تغيير المناخ مثل ذوبان الجليد في القطب الشمالي والجنوبي / غرق مناطق كثيرة من العالم .

(ب) لاحظ الجدول الذي أمامك ، ثم اجب عن الأسئلة التي تليه : ص ١٢٩ (ست درجات)



مجموع معدلات محو الأمية في الدول الأعضاء في

منظمة التعاون الإسلامي لعام ٢٠١٥ م

المجموع	البلدان
٩٩,٩٧	كازاخستان
٤٨,٠٩	سيراليون
٧٠,٠٧	اليمن
١٩,١٣	النيجر

١- حول مجموع معدلات محو الأمية لأعمدة بيانية . (لكل عامود درجة = ٤ درجات)

٢- استخرج من الجدول السابق ، الدولة الأعلى والأقل في معدل محو الأمية : (درجتين)

الدولة الأعلى	الدولة الأقل
كازخستان	النيجر

(ج) قارن بين كل من : (ست درجات)

أوجه المقارنة	المؤتمر الإسلامي الأول ص ١٤٢	المؤتمر الإسلامي الخامس ص ١٤٣
العام	١٩٦٩ م	١٩٨٧ م
مقر الانعقاد	الرباط (المملكة المغربية)	دولة الكويت
سبب الانعقاد	* احراق المحتل الصهيوني الاسرائيلي المسجد الأقصى	* تلبية لدعوة أمير دولة الكويت الراحل الشيخ جابر الأحمد الجابر الصباح رحمه الله .

انتهت الأسئلة