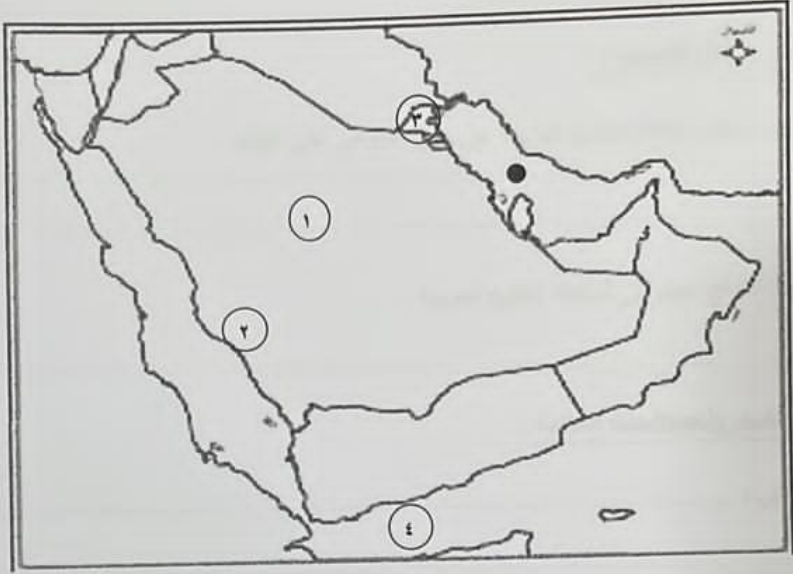
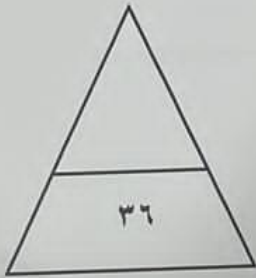


نلاحظ خريطة دول الخليج العربية ثم أجب عن الأسئلة التي تليها :




- هضبة نجد يمثلها على الخريطة الرقم
- جبال عسير يمثلها على الخريطة الرقم
- الدولة الخليجية التي ظهرت بها الحضارة الهلنستية يمثلها على الخريطة الرقم
- خليج عدن يمثلها على الخريطة الرقم
- الشكل (●) على الخريطة يرمز إلى مسطح مائي اسمه



ج) اكتب العنوان المناسب اسفل كل صورة لكل مما يلي :

(خياطة البشوت - سفينة البغلة - صناعة الخوص)



د) (أ) أكمل العبارات الآتية بما يناسبها مما درست :-

- ١- الموقع بالنسبة لخطوط الطول ودوائر العرض يعرف باسم
- ٢- الدولة الخليجية التي يقع فيها الجبل الأخضر تسمى
- ٣- يطلق على ربان السفينة في الكويت قديماً اسم
- ٤- الدولة الخليجية العربية الوحيدة التي لم تتعرض للاستعمار تسمى
- ٥- المدينة التي اتخذت مقراً دائماً لمنظمة مجلس التعاون الخليجي تسمى
- ٦- عرف الخليج العربي قديماً باسم
- ٧- العام الذي أعلن فيه قيام مجلس التعاون لدول الخليج العربية هو.....م



وزارة التربية
الإدارة العامة لمنطقة الفروانية التعليمية
التوجيه الفني للاجتماعيات

للعام الدراسي ٢٠٢٣ - ٢٠٢٤ م
الزمن: ساعة وخمسة وأربعون دقيقة
عدد الصفحات: (٦)

امتحان نهاية الفترة الدراسية الأولى
للمستوى السادس
المجال: الكويت ودول الخليج العربية

السؤال الأول (الموضوعي) ويتكون من (أ - ب - ج - د - هـ - و - ز):

أ) اختر البديل المناسب من بين البدائل التي تلي كل عبارة وضع تحته خط :-

١- الجهة التي تقع فيها منطقة الخليج العربية بالنسبة لقارة آسيا هي :

أ- الشمالية الشرقية ب- الشمالية الغربية ج- الجنوبية الشرقية د- الجنوبية الغربية

٢- الدولة الخليجية التي قامت على أرضها حضارة دلمون تسمى :

أ- الإمارات ب- قطر ج- البحرين د- عمان

٣- العام الذي تم فيه انطلاق السوق الخليجي المشترك هو :

أ- ٢٠٠٧ م ب- ٢٠٠٨ م ج- ٢٠٠٩ م د- ٢٠١٠ م

٤- القمة السابعة والعشرين لمجلس التعاون لدول الخليج العربية اطلق عليها اسم الشيخ :

أ- صباح السالم الصباح ب- جابر الأحمد الصباح ج- سعد العبدالله الصباح د- صباح الأحمد الصباح

٥- الاسم الذي يطلق على الصبية الذين يعملون على ظهر السفينة لاكتساب الخبرة:

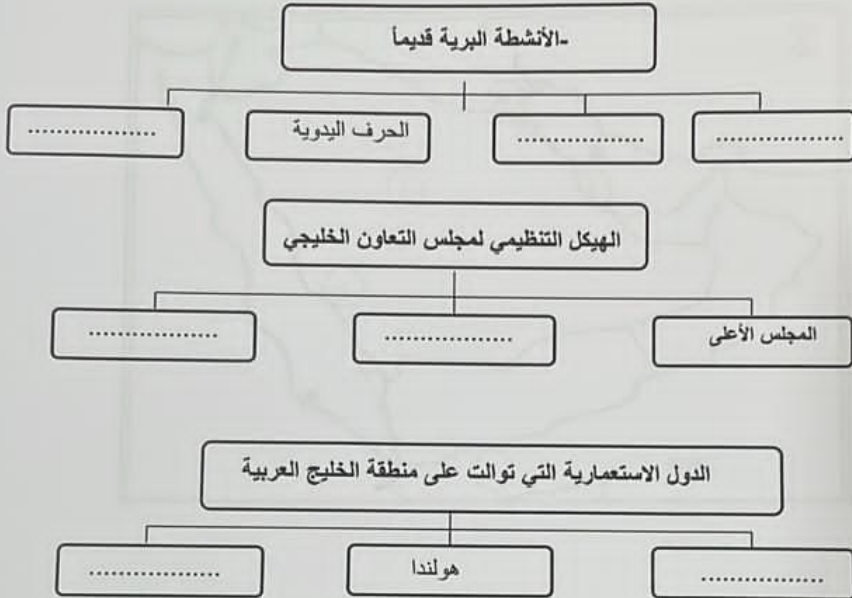
أ- التباية ب- الطواويش ج- الغواصين د- النواخذة

ب) صنف أسماء النباتات الطبيعية التالية حسب مكانها المناسب في الجدول :-

(الخبيزة - الصبار - العرفج - الحويذان)

النباتات الحولية	النباتات المعمرة
.....
.....

٥) أكمل المخططات السهمية التالية :



و- أكتب المفهوم أو المصطلح الدال على العبارات التالية :

المفهوم	التعريف
١-.....	ذراع مائي لبحر العرب يمتد من خليج عمان جنوباً حتى شط العرب شمالاً.
٢-.....	الشخص الذي يغوص في أعماق البحر بحثاً عن اللؤلؤ .
٣-.....	منطقة تقع في الصحراء بها مياه عذبة صالحة للزراعة .
٤-.....	نباتات يرتبط وجودها بموسم سقوط الأمطار .
٥-.....	تحرر الدولة من المستعمر الأجنبي وقيامها بمسؤولية إدارة شؤونها الداخلية والخارجية .

السؤال الثالث : ويتكون من (أ - ب)

أ) قارن بين (معاهدة الحماية والاستقلال) لدولة الكويت مع بريطانيا حسب الجدول التالي :

أوجه المقارنة	معاهدة الحماية	معاهدة الاستقلال
العام
اسم الحاكم

ب) اكتب فيما يلي مما درست :

١- أنواع الرياح التي تهب على منطقة الخليج العربية .

.....
.....

٢- أهم الأنشطة البحرية في منطقة الخليج العربية قديماً .

.....
.....

٣- أهداف مجلس التعاون لدول الخليج العربية .

.....
.....

٤- تعتبر سفينة البغلة من أفضل أنواع السفن المستعملة في السفر قديماً في منطقة الخليج العربية.

.....
.....

انتهت الأسئلة

السؤال الثاني : يتكون من : [أ ، ب]

أ) علل لما يلي : (اذكر السبب) :

١- انصرف سكان منطقة الخليج العربية عن حرفة الغوص على اللؤلؤ .

.....
.....

٢- أهمية الموقع الجغرافي لمنطقة الخليج العربية .

.....

ب) عرف المفاهيم والمصطلحات التالية :

١-الموقع النسبي :

٢- المناخ :

٣- الاستعمار :

السؤال الثالث : عدد لكل مما يلي :

١- وسائل صيد الأسماك قديماً .

.....

٢- أشكال سطح الأرض (التضاريس) .

.....

٣- الصفات المشتركة بين دول الخليج العربية .

.....