

تم تحميل هذا الملف من موقع المناهج الكويتية

سعود المونس

الملف أوراق عمل إثرائية بالإضافة لكراسة التمارين

موقع المناهج ← المناهج الكويتية ← الصف الحادي عشر الأدبي ← تاريخ ← الفصل الأول

روابط مواقع التواصل الاجتماعي بحسب الصف الحادي عشر الأدبي



روابط مواد الصف الحادي عشر الأدبي على تلغرام

الرياضيات

اللغة الانجليزية

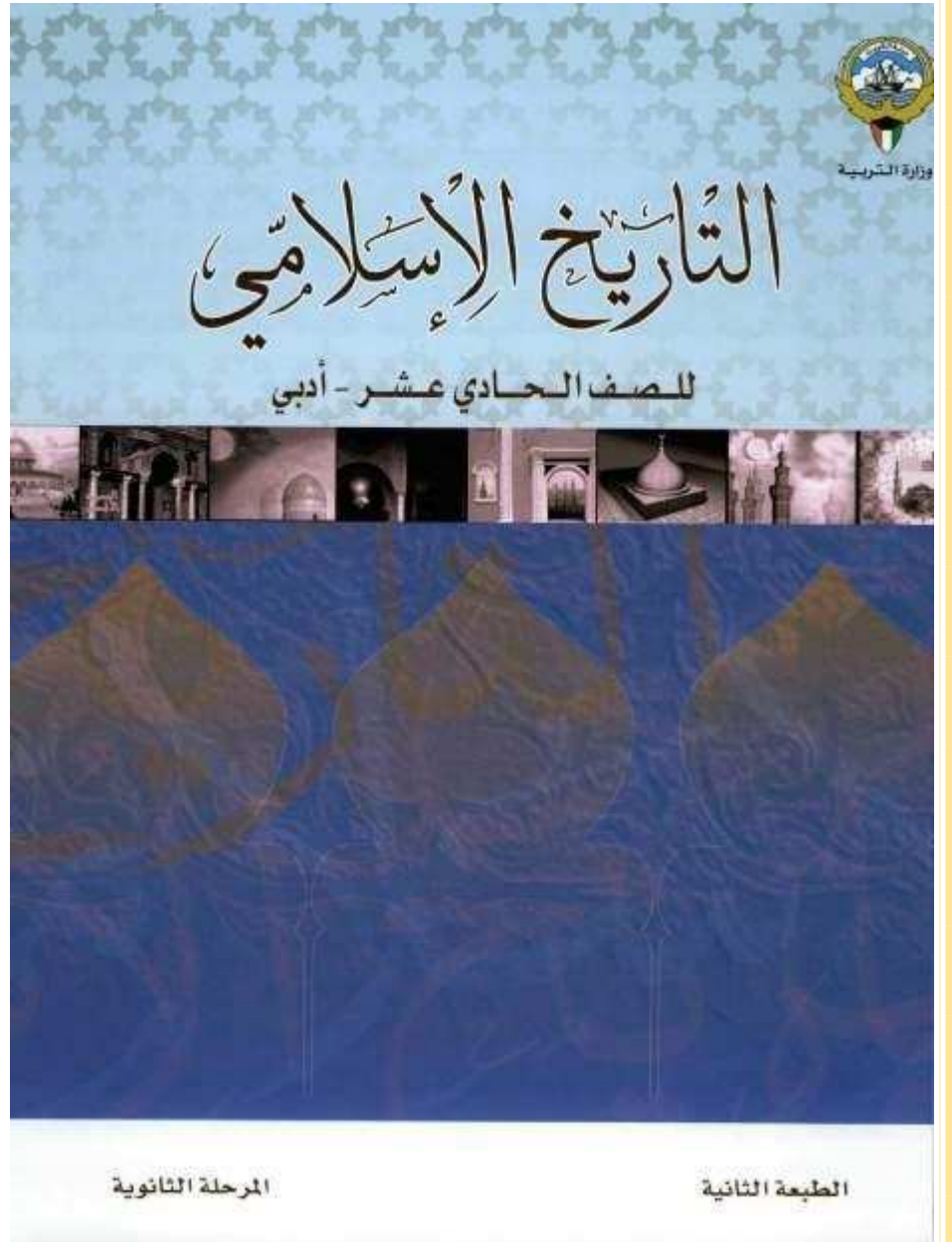
اللغة العربية

التربية الاسلامية

المزيد من الملفات بحسب الصف الحادي عشر الأدبي والمادة تاريخ في الفصل الأول

مراجعة هامة في مادة التاريخ	1
توزيع مقرر التاريخ لعام	2
بنك الأسئلة المقرر للتاريخ الإسلامي	3
مذكرة ثانوية الفارسي في مادة التاريخ	4
نماذج مجمعة لثانوية سلمان الفارسي في مادة التاريخ	5

اعداد وتنسيق
أ. سعود المونس
رئيس قسم الاجتماعيات



[دليل الأسئلة وأوراق العمل لمادة التاريخ الاسلامي-للمصف الحادي عشر أدبي]

الفصل الدراسي الأول

اسم الطالب/ة

الصف ١١ اد

ورقة متابعة أنشطة الطالب الصفية واللاصفية للعام الدراسي ٢٠٢٠ - ٢٠٢١ م

اليوم و التاريخ	ملاحظات/ النشاط الصفي واللاصفى	الدرجة	توقيع ولي الأمر
() الأحد () الاثنين () الثلاثاء () الأربعاء () الخميس الموافق / /	الفصول في : ١- () التأخر في موعد التسليم. ٢- تسجيل () التاريخ - () العنوان. ٣- تعريف المفاهيم والمصطلحات. ٤- () إكمال الدروس والواجبات الناقصة. ٥- () حل أنشطة ورقة العمل واستكمالها. ٦- () لصق ورق العمل. ٧- المهارات من حيث: أ- الخرائط: () الرسم والتلوين - () دقة التوزيعات - () قراءة وتحليل الخريطة. ب- () تحليل الصور والأشكال والجداول الإحصائية والبيانية. ٨- () أشرك لتميزك في الأنشطة الصفية. ٩- () بارك الله فيك لتميزك في الأنشطة اللاصفية. ١٠- ملاحظات أخرى:		
() الأحد () الاثنين () الثلاثاء () الأربعاء () الخميس الموافق / /	الفصول في : ١- () التأخر في موعد التسليم. ٢- تسجيل () التاريخ - () العنوان. ٣- تعريف المفاهيم والمصطلحات. ٤- () إكمال الدروس والواجبات الناقصة. ٥- () حل أنشطة ورقة العمل واستكمالها. ٦- () لصق ورق العمل. ٧- المهارات من حيث: أ- الخرائط: () الرسم والتلوين - () دقة التوزيعات - () قراءة وتحليل الخريطة. ب- () تحليل الصور والأشكال والجداول الإحصائية والبيانية. ٨- () أشرك لتميزك في الأنشطة الصفية. ٩- () بارك الله فيك لتميزك في الأنشطة اللاصفية. ١٠- ملاحظات أخرى:		
() الأحد () الاثنين () الثلاثاء () الأربعاء () الخميس الموافق / /	الفصول في : ١- () التأخر في موعد التسليم. ٢- تسجيل () التاريخ - () العنوان. ٣- تعريف المفاهيم والمصطلحات. ٤- () إكمال الدروس والواجبات الناقصة. ٥- () حل أنشطة ورقة العمل واستكمالها. ٦- () لصق ورق العمل. ٧- المهارات من حيث: أ- الخرائط: () الرسم والتلوين - () دقة التوزيعات - () قراءة وتحليل الخريطة. ب- () تحليل الصور والأشكال والجداول الإحصائية والبيانية. ٨- () أشرك لتميزك في الأنشطة الصفية. ٩- () بارك الله فيك لتميزك في الأنشطة اللاصفية. ١٠- ملاحظات أخرى:		
() الأحد () الاثنين () الثلاثاء () الأربعاء () الخميس الموافق / /	الفصول في : ١- () التأخر في موعد التسليم. ٢- تسجيل () التاريخ - () العنوان. ٣- تعريف المفاهيم والمصطلحات. ٤- () إكمال الدروس والواجبات الناقصة. ٥- () حل أنشطة ورقة العمل واستكمالها. ٦- () لصق ورق العمل. ٧- المهارات من حيث: أ- الخرائط: () الرسم والتلوين - () دقة التوزيعات - () قراءة وتحليل الخريطة. ب- () تحليل الصور والأشكال والجداول الإحصائية والبيانية. ٨- () أشرك لتميزك في الأنشطة الصفية. ٩- () بارك الله فيك لتميزك في الأنشطة اللاصفية. ١٠- ملاحظات أخرى:		

ملاحظات:

- ✓ يكتب الطالب /ة الاسم والفصل في بداية الورقة.
- ✓ تلتصق الورقة في بداية الدفاتر أو كراس الأنشطة.
- ✓ تجمع الدفاتر كل حصة أولى من كل أسبوع دراسي.
- ✓ يتم توقيع ولي الأمر على الدرجة.
- ✓ تتم مراجعة المعلم أثناء الفرض فقط وتترك ورقة في حال عدم تواجد المعلم.

فكرة وإعداد وتصميم رئيس قسم الاجتماعيات
أ.سعود المونس
www.q84s.com
جميع الحقوق محفوظة

جدول الحصص الأسبوعي

اليوم	الحصّة الأولى	الحصّة الثانية	الحصّة الثالثة	الحصّة الرابعة	الحصّة الخامسة	الحصّة السادسة	الحصّة السابعة
الأحد							
الاثنين							
الثلاثاء							
الأربعاء							
الخميس							

ملاحظات

ملاحظات:

.....

.....

.....

.....

.....

.....

.....

.....

.....

.....

ملاحظات:

.....

.....

.....

.....

.....

.....

.....

.....

.....

الفصل الأول: عصر الرسالة || ورقة عمل ص ١٣ إلى ١٤**س ١/ اكتب المصطلح الدال على العبارات التالية:**

- ١- () هم القوم الذين سكنوا شبه الجزيرة العربية واتخذوها موطناً لهم.
- ٢- () تعني الصحاري والقفار والأرض المجدبة التي لا ماء فيها ولا نبات.
- ٣- () هم الأقوام التي عاشت ثم انقرضت وقد ورد ذكرها بعضها في القرآن الكريم.
- ٤- () هم بنو يعرب بن قحطان وسكنوا جنوب شبه الجزيرة العربية.
- ٥- () هم بنو معد بن عدنان بن إسماعيل وسكنوا شمال شبه الجزيرة العربية.
- ٦- () عبارة عن هضبة تتحدر من الغرب نحو الشرق.

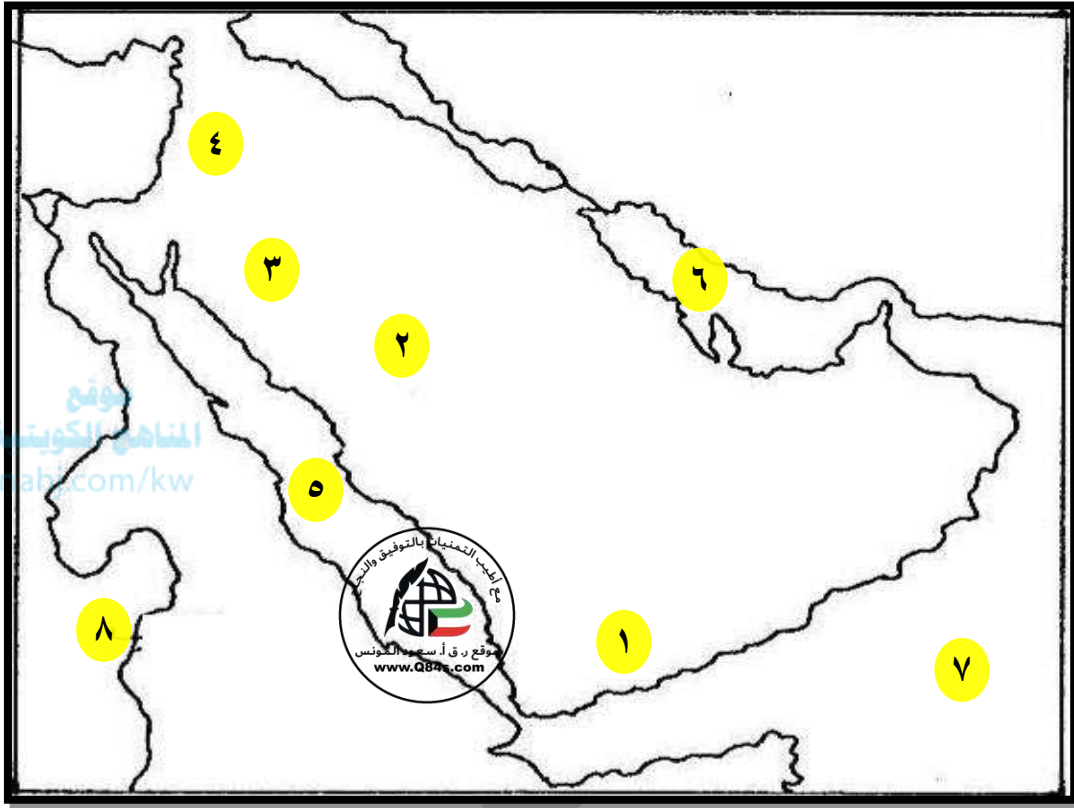
س ٢/ اذكر: المميزات المناخية للإقليم الصحراوي الذي يسود شبه الجزيرة العربية.

- ١-
- ٢-
- ٣-

س ٣/ أكمل الفراغات التالية بما يناسبها:

- ١- الأرض التي كانت مهبطاً لآخر الرسالات السماوية ومركز انطلاق الإسلام تسمى
- ٢- تعتبر شبه الجزيرة الموطن الأصلي لجماعات تسمى
- ٣- الجهة التي تقع فيها شبه الجزيرة العربية بالنسبة لقارة آسيا
- ٤- عُرفت الجماعات العربية التي استقرت في شبه الجزيرة العربية باسم

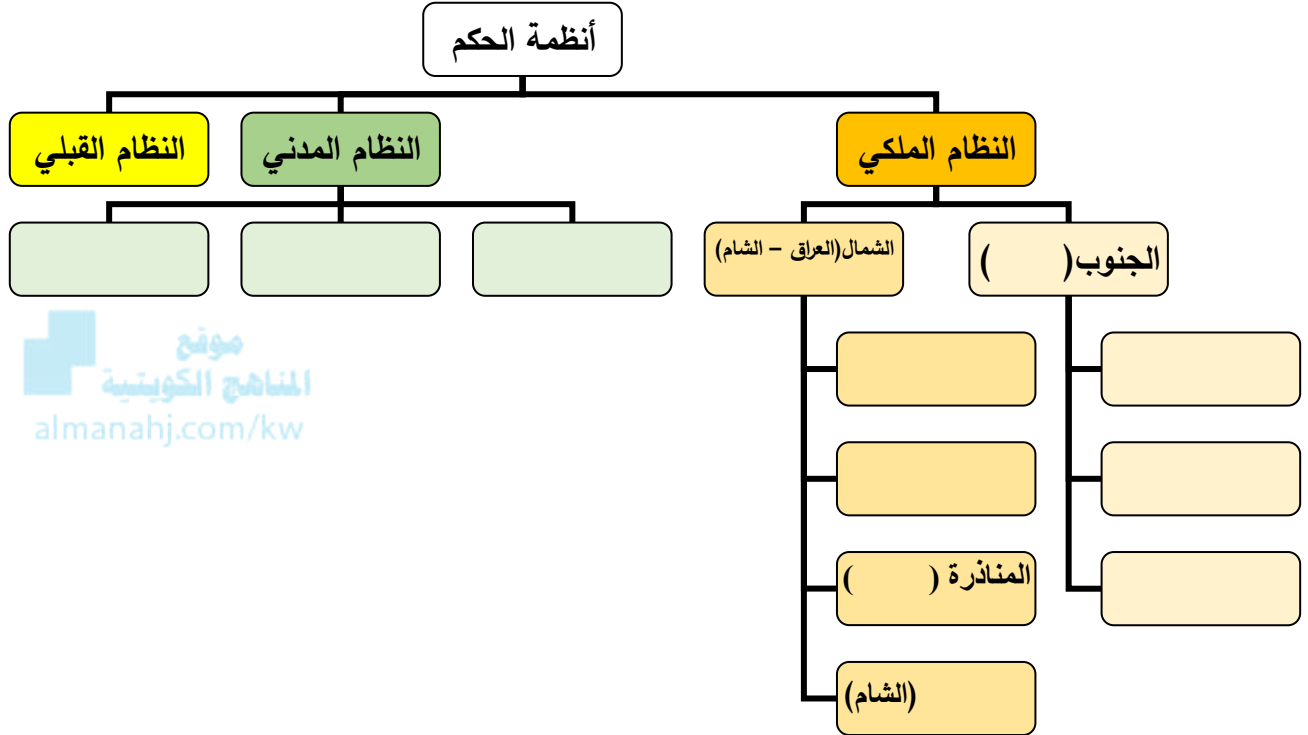
س ٤ / لاحظ الخريطة جيداً ثم أجب عما يلي:



- المنطقة التي سكنها قوم عاد يمثلها على الخريطة الرقم
- المنطقة التي سكنها قوم ثمود يمثلها على الخريطة الرقم
- منطقة لقوم أبادهم الله يمثلها على الخريطة الرقم
- موقع بلاد الشام يمثلها على الخريطة الرقم
- موقع بحر القلزم يمثلها على الخريطة الرقم
- موقع الخليج العربي يمثلها على الخريطة الرقم
- موقع بحر العرب يمثلها على الخريطة الرقم

ورقة عمل ص ١٥

س ١/أكمل: المخطط السهمي التالي حول أنظمة الحكم في شبه الجزيرة العربية قبل الإسلام.



س ٢/عرف القبيلة:

س ٣/عدد: اسس اختيار شيخ القبيلة في شبه الجزيرة العربية قبل الإسلام.

١-

٢-

٣-

س ٤/اكتب المصطلح الدال على العبارات التالية:

١- (حكومة مصغرة أساس كيانها السياسي العصبية والمنافع المتبادلة في حماية الناس والأرض.

٢- (النظام السياسي الذي ساد جميع الأنظمة السياسية في شبه الجزيرة العربية قبل الإسلام.

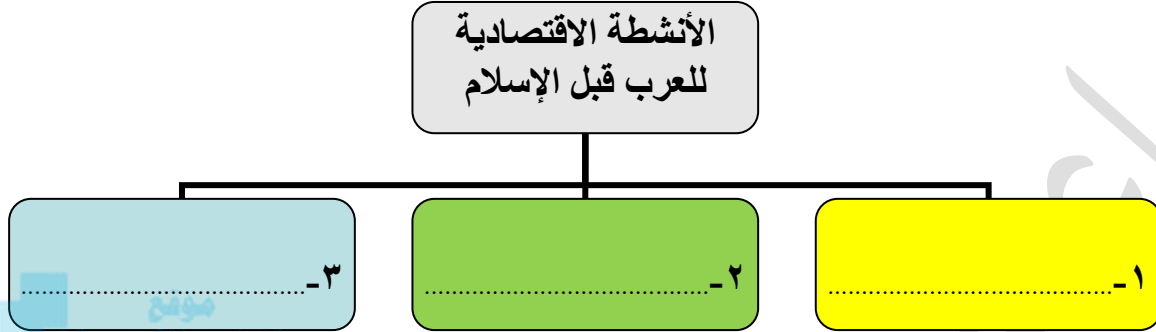
س ٥/أكمل الفراغات التالية بما يناسبها:

١- الكيان السياسي للقبيلة يسمى

٢- رئيس القبيلة يسمى

ورقة عمل ص ١٦ إلى ١٧

س١/ارسم: خريطة ذهنية للأنشطة الاقتصادية للعرب قبل الإسلام.



س٢/دلل على صحة العبارة التالية: لرحلة الشتاء والصيف أثر واضح على مكانة قريش.

١-.....

٢-.....

٣-.....

س٣/ما النتائج المترتبة على:

١-اعتماد العرب على حرفة الرعي.

٢-توفر مياه الامطار في الجنوب ومياه الآبار والعيون شمالاً وشرقاً.

س٤/ فرق بين: مياه الزراعة المستخدمة قديماً في جهة الجنوب والشمال والشرق.

الجنوب	الشمال والشرق

س٥/ أكمل الفراغات التالية بما يناسبها:

١-مركز تجارة شبه الجزيرة العربية قبل الإسلام مدينة تسمى

٢-زعيم قريش الذي نظم رحلة الشتاء والصيف يسمى

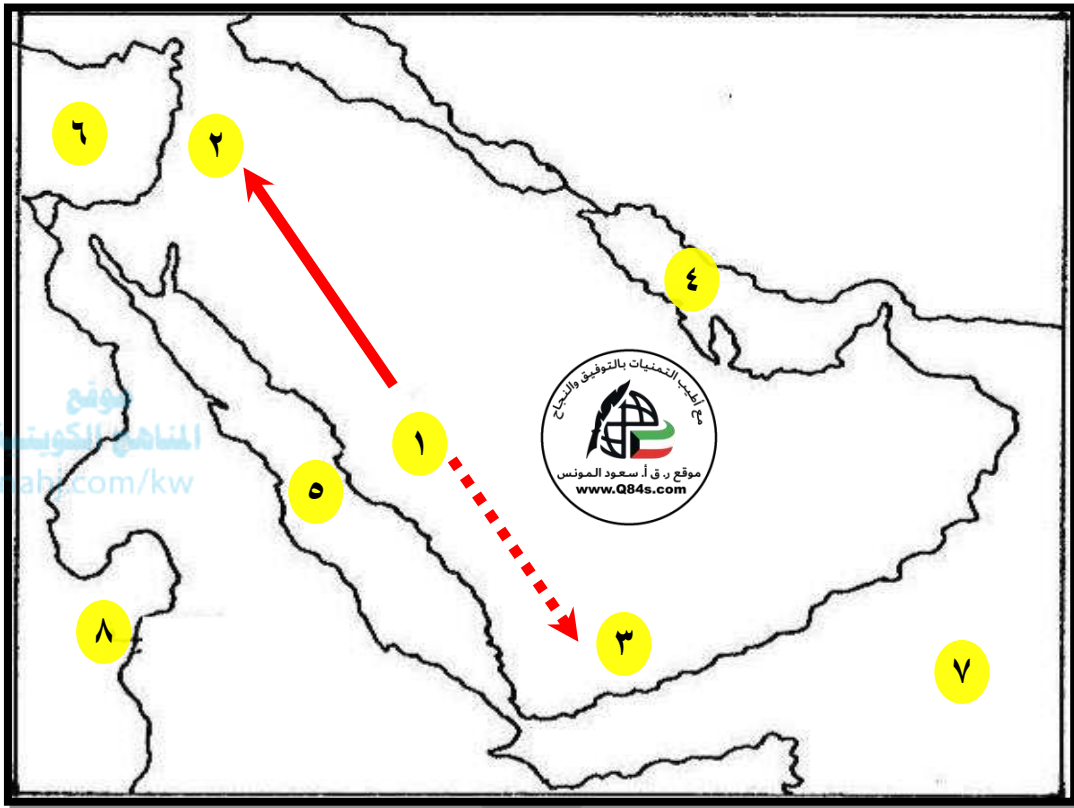
٣-الحرفة الرئيسية في شبه الجزيرة العربية قبل الإسلام تسمى

٤-أقل الحرف انتشاراً في شبه الجزيرة العربية تسمى

٥-اتجهت رحلة الشتاء من مكة قديماً إلى منطقة تسمى

٦-اتجهت رحلة الصيف من مكة قديماً إلى منطقة تسمى

س٦/ لاحظ الخريطة جيداً ثم أجب عما يلي:



- المنطقة التي كانت مركز انطلاق رحلتي الشتاء والصيف على الخريطة يمثلها الرقم
- المنطقة التي تمثل محطة وصول رحلة الصيف على الخريطة يمثلها الرقم
- المنطقة التي تمثل محطة وصول رحلة الشتاء على الخريطة يمثلها الرقم
- موقع بحر القلزم على الخريطة يمثلها الرقم
- موقع بحر الروم على الخريطة يمثلها الرقم
- رحلة الصيف على الخريطة يمثلها الشكل
- رحلة الشتاء على الخريطة يمثلها الشكل

ورقة عمل ص ١٨

س١/قارن بين: طبقات المجتمع العربي قبل الإسلام وفقاً للجدول التالي.

وجه المقارنة	التعريف	أهم الحقوق والواجبات
١- العرب الصرحاء		-١
		-٢
		-٣
٢-الموالي		
٣-العبيد		

س٢/فرق بين ما يلي:

أ-العادات الحسنة والعادات السيئة التي امتلكها العرب قبل الإسلام.

صفحة رقم - ٨ -	العادات السيئة	العادات الحسنة

ب-مكانة المرأة في المجتمع العربي في مجتمع البادية وفي النظام الملكي.

النظام الملكي	مجتمع البادية

س٣/عرف زواج المقت:

ورقة عمل ص ١٨ إلى ٢٠س١/ اكتب المصطلح الدال على العبارات التالية:

- ١- (حالة الجهل وهي الصفة التي أطلقها القرآن الكريم على الوثنيين من العرب قبل الإسلام.
- ٢- (عبادة الأصنام والأوثان.
- ٣- (العرب الذين سفهوا عبادة الأصنام و اعتنقوا ديانة سيدنا إبراهيم عليه السلام.

س٢/ برهن على صحة العبارة التالية: تأثرت الحياة الفكرية بالظروف الخارجية والأحداث الداخلية وارتبطت بالنظام القبلي في شبه الجزيرة العربية قبل الإسلام.

موقع
المنهج الكويتية
almanahj.com.kw

- ١-
- ٢-

س٣/ عرف المعلقات:س٤/ عدد: الأسواق الأدبية التي امتلكها العرب قبل الإسلام.

- ١-
- ٣-
- ٣-

س٥/ علل: تميزت شبه الجزيرة العربية بمميزات هيأتها لتكون بيئة قادرة لتقبل رسالة الإسلام.

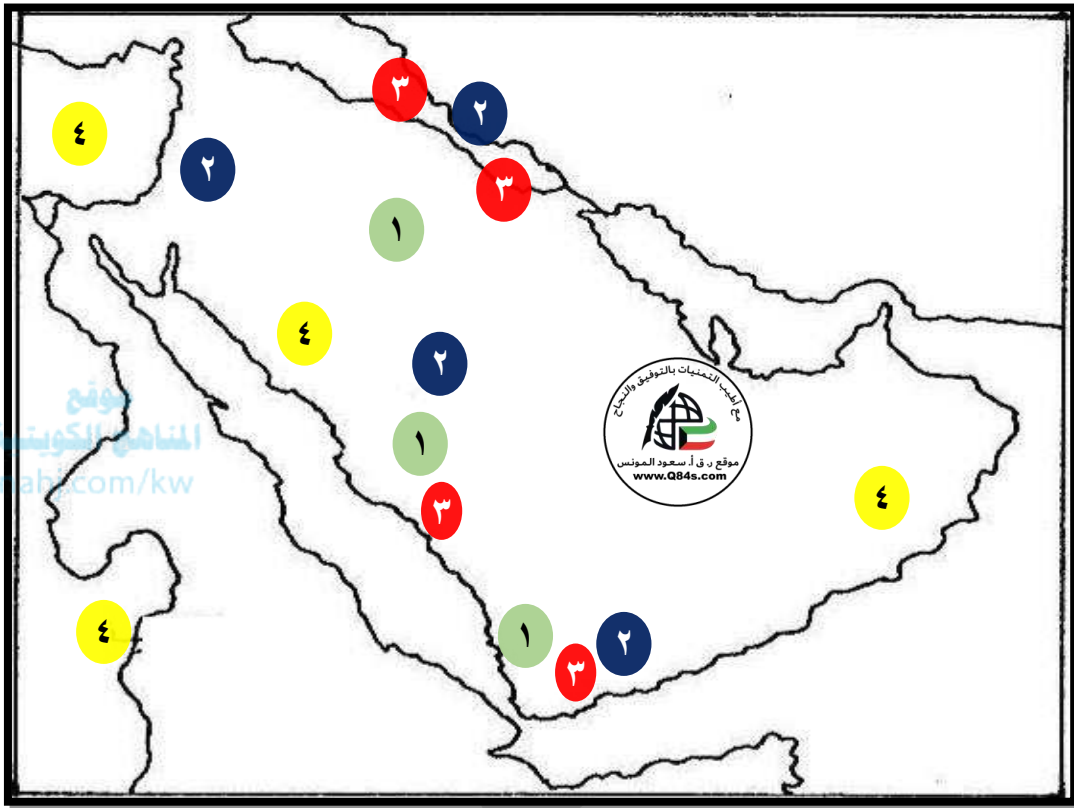
- ١-
- ٢-
- ٣-
- ٤-
- ٥-
- ٦-

س٦/ ما النتائج المترتبة على:

أ- الموقع الجغرافي لشبه الجزيرة العربية في وسط العالم القديم.

ب- وجود البيت الحرام في مكة.

س ٧ / لاحظ الخريطة جيداً ثم أجب عما يلي : ص ١٩



- المناطق التي تركزت فيها الديانة الوثنية على الخريطة يمثلها الرقم
- المناطق التي تركزت فيها الديانة اليهودية على الخريطة يمثلها الرقم
- المناطق التي تركزت فيها الديانة المسيحية على الخريطة يمثلها الرقم

ورقة عمل ص ٢١ إلى ٢٢

س ١/صمم: هوية تعريفية للرسول ﷺ .

- الاسم:
- تاريخ الميلاد:
- مكان الميلاد:

س ٢/صنف: الأعمال وفقاً للشخصيات في الجدول التالي:

حمل اللواء في الحرب - السقاية والرفادة - وحد قريش وأسس دار الندوة - أول من سن رحلتي الشتاء والصيف - أعاد حفر بئر زمزم - عمه الذي كفل الرسول بعد وفاة جده عبد المطلب.

موقع
almanahj.com/kw

الأعمال	الشخصية
	١ - قصي بن كلاب
	٢ - عبد الدار بن قصي بن كلاب
	٣ - عبد مناف بن قصي بن كلاب
	٤ - هاشم بن عبد مناف
	٥ - عبد المطلب بن هاشم

س ٣/أكمل الفراغات التالية بما يناسبها:

- ١- عرف العام الذي ولد فيه الرسول باسم
- ٢- ولد الرسول ﷺ في دار تسمى
- ٣- ولد الرسول ﷺ في يوم الاثنين ١٢ ربيع الأول عام
- ٤- كافل الرسول ﷺ بعد وفاة والده يسمى
- ٥- عم الرسول ﷺ الذي كفله بعد وفاة جده يسمى

ورقة عمل ص ٢٢ إلى ٢٥

س ١/ عدد ما يلي:

أ- أعمال الرسول ﷺ قبل البعثة.

-١

-٢

-٣

-٤

-٥



ب- الصفتين اللتين اشتهر بهما الرسول ﷺ.

س ٢/ أكمل الفراغات التالية بما يناسبها:

١- مهنة عمل بها الرسول ﷺ في شبابه تسمى

٢- ذهب الرسول ﷺ مع عمه أبي طالب للتجارة وهو في عمر

٣- تزوج الرسول ﷺ من السيدة خديجة بنت خويلد وقد بلغ من العمر

٤- الراهب الذي تنبأ بنوياً محمد ﷺ في الشام يسمى

٥- البلدة التي وصلها الرسول ﷺ مع عمه أبو طالب للتجارة تسمى

٦- دار شهد فيها الرسول ﷺ حلف الفضول تسمى

٧- حرب شارك فيها الرسول ﷺ وعمره خمسة عشرة عاماً تسمى

س ٣/ من قائل العبارة التالية وما المناسبة:

"لقد شهدت في دار عبد الله بن جدعان حلفاً ما أحب أن لي به حمر النعم، ولو أدعي به في الإسلام لأجبت"

١- القائل:


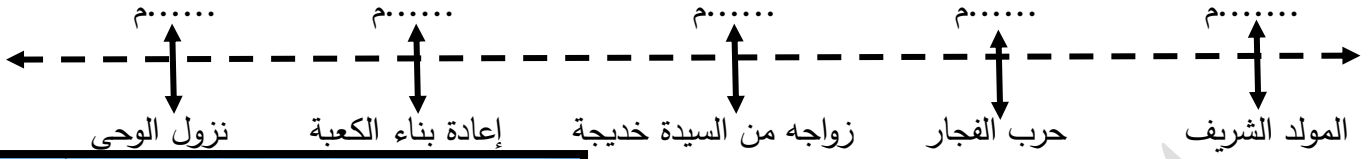
٢- المناسبة:

س ٤/ اذكر: العبر والعظات التي يمكن استخلاصها من سيرة الرسول ﷺ قبل البعثة.

-١

-٢

س ٥/ارسم: مخطط سهمي لحياة الرسول ﷺ قبل البعثة.

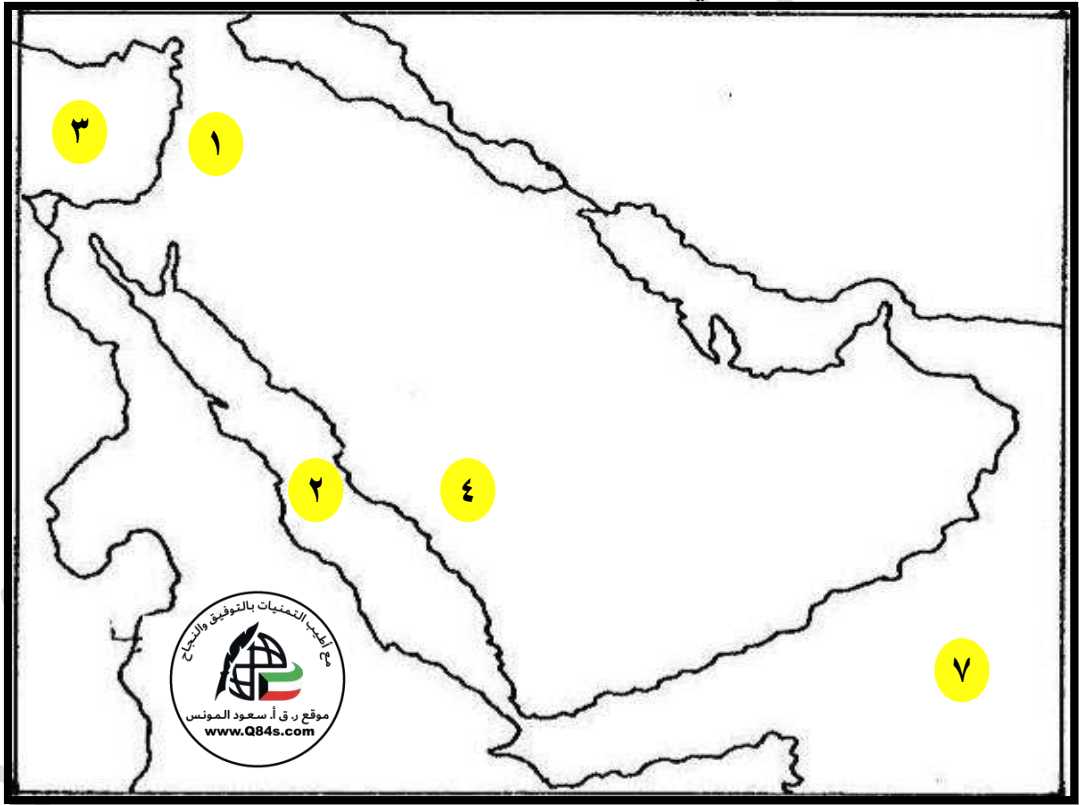


س ٦/اكتب تعليقاً مناسباً للشكل التالي.

.....

.....


س ٧/ لاحظ الخريطة جيداً ثم أجب عما يلي:



- المدينة التي خرج لها الرسول للتجارة وعمره اثنا عشر عاماً على الخريطة يمثلها الرقم
- موقع بحر القلزم على الخريطة يمثلها الرقم
- موقع بحر الروم على الخريطة يمثلها الرقم
- موقع مدينة مكة على الخريطة يمثلها الرقم

ورقة عمل ص ٢٥ إلى ٢٨

س ١/ اكتب: تعليقاً مناسباً للشكل التالي.



(ب)

س ٢/ اذكر: موقف السيدة خديجة من نزول الوحي على الرسول ﷺ.

س ٣/ من القائل وما المناسبة:

" إن صدقت يا خديجة لقد جاء الوحي الذي ينزل على الرسل وإنه لنبي هذه الأمة، فقولي له فليثبت "

*القائل:

*المناسبة:

س ٤/ صنف: احداث مراحل الدعوة الإسلامية وفقاً للجدول التالي.

استمرت ثلاث سنوات واتخذ الرسول من دار الأرقم بن الأرقم مقراً لدعوته - استجاب الرسول ﷺ لنداء الله وانطلق يدعو للإسلام فدعا السادة والعبيد والأقربين والغريب والحجاج - استجاب له من بني عبد المطلب عل بن ابي طالب فقط ولم يسمع منهم ما يكره ما عدا عمه ابو لهب الذي رد رداً قبيحاً- عرض الاسلام سراً على اهل بيته وخاصة اصحابه

المرحلة	الاحداث
المرحلة الأولى (المرحلة السرية)	
المرحلة الثانية (دعوة ذوي القربى)	
المرحلة الثالثة (المرحلة الجهرية)	

س ٥/ أكمل الفراغات التالية بما يناسبها:

- ١- المرأة التي وصفت الرسول ﷺ تسمى
- ٢- الغار الذي كان يتأمل فيه الرسول ﷺ خلق الله يسمى
- ٣- نزل الوحي على الرسول ﷺ في رمضان عام
- ٤- السن التي بلغها الرسول ﷺ عند نزول الوحي
- ٥- الدار التي اتخذها الرسول ﷺ مقراً له في بداية الدعوة تسمى
- ٦- أحد مراحل الدعوة الإسلامية والتي استمرت ثلاث سنوات تسمى
- ٧- الشخص الذي استجاب من بني عبد المطلب في المرحلة الثانية يسمى
- ٨- عم النبي ﷺ الذي رد رداً قبيحاً في المرحلة الثانية للدعوة يسمى

ورقة عمل ص ٢٨ إلى ٣٠

س١/فسر: معارضة قريش للدعوة الإسلامية.

-١

-٢

-٣

-٤

س٢/عدد: أساليب قريش في مقاومة الدعوة الإسلامية.

-١

-٢

-٣

-٤

-٥

-٦

س٣/نفذ كما هو مطلوب منك بين الأقواس:

(علل)

١- اللامبالاة وعدم الاهتمام بأمر الدعوة في بدايتها.

(النتائج)

٢- تعذيب وحرمان العبيد والضعفاء مثل آل ياسر وبلال.

س٤/ماذا يحدث لو لم: يرفض الرسول ﷺ الجاه والمال مقابل أن يتوقف عن الدعوة.

س٥/من قائل العبارات التالية وما المناسبة:

١- "والله يا عم لو وضعوا الشمس في يميني والقمر في يساري على أن أترك هذا الأمر ما فعلت حتى يظهره الله أو أهلك دونه".

*القائل: - *المناسبة:

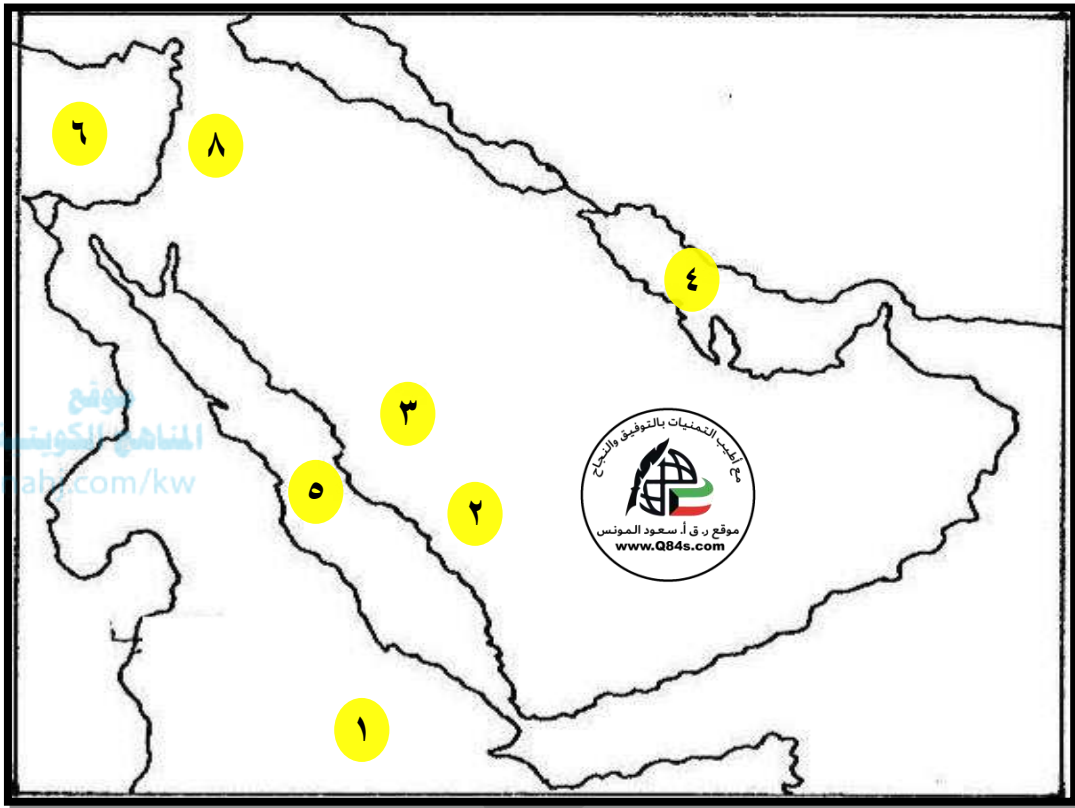
٢- "أذهب يا ابن أخي فافعل ما أحببت وحدث بما شئت".

*القائل: - *المناسبة:

٣- "لو خرجتم إلى الحبشة فإن بها ملكاً لا يظلم عنده أحد".

*القائل: - *المناسبة:

س٦/ لاحظ الخريطة جيداً ثم أجب عما يلي:



- المدينة التي هاجر لها المسلمون الهجرة الأولى على الخريطة يمثلها الرقم
- موقع مدينة مكة المكرمة على الخريطة يمثلها الرقم
- موقع مدينة يثرب (المدينة المنورة) على الخريطة يمثلها الرقم
- موقع بحر القلزم على الخريطة يمثلها الرقم
- موقع بحر الروم على الخريطة يمثلها الرقم
- ارسم خط سير رحلة المسلمين إلى الحبشة.

ورقة عمل ص ٣٠ إلى ٣١

س١/علل: تسمية العام العاشر للبعثة بعام الحزن ٦١٩م.

س٢/قارن بين: بيعة العقبة الأولى والثانية وفقاً للجدول التالي.

بيعة العقبة الثانية	بيعة العقبة الأولى	وجه المقارنة
		العام
		الأحداث

س٣/ما تفسيرك: إرسال الرسول ﷺ مصعب بن عمير إلى يثرب بعد بيعة العقبة الأولى.

س٤/دلل على صحة العبارة التالية:

للعباس بن عبد المطلب دوراً هاماً في بيعة العقبة الثانية.

-١

-٢

س٥/أكمل الفراغات التالية بما يناسبها:

١-المدينة التي اتجه لها الرسول ﷺ لما اشتد عليه أذى قريش تسمى

٢-عاد الرسول ﷺ من الطائف إلى مكة ودخل في حماية رجل يسمى

٣-عرف العام العاشر للبعثة النبوية ٦١٩م باسم

٤-الصحابي الذي أرسله الرسول ﷺ مع أهل يثرب ليعلمهم أمور دينهم ويدعوهم للإسلام يسمى

٥-أول المتكلمين مع وفد يثرب في بيعة العقبة الثانية ٦٢٢م يسمى

٦-الصحابي الذي كان لهم دور كبير في بيعة العقبة الثانية ولم يكن وقتها مسلماً يسمى

ورقة عمل ص ٣٢ إلى ٣٣

س ١/ علل ما يلي:

أ- خافت قريش من هجرة المسلمين إلى يثرب (المدينة المنورة).

ب- اتفاق جميع قبائل قريش على قتل الرسول ﷺ.

-١

موقع
المنهج الكويتية
almanahj.com/kw

-٢

-٣

س ٢/ اكتب: تعليقاً مناسباً للشكل التالي:

س ٣/ من القائل وما المناسبة:

طلع البدر علينا من ثنيات الوداع
وجب الشكر علينا ما دعا لله داع
أيها المبعوث فينا جنّت بالأمر المطاع

*القائل: - *المناسبة:

س ٤/ أكمل الفراغات التالية بما يناسبها:

- ١- الدار التي اجتمع فيها زعماء قريش للتفكير في القضاء على الرسول ﷺ تسمى
- ٢- الصحابي الذي هاجر مع الرسول ﷺ من مكة إلى المدينة يسمى
- ٣- الصحابي الذي نام في فراش الرسول ﷺ ليلة الهجرة وأمر برد الأمانات لأهلها يسمى
- ٤- أول مسجد في الإسلام يسمى
- ٥- عام ٦٢٢م أصبحت يثرب عند العرب تسمى
- ٦- وصل الرسول ﷺ إلى يثرب عام

ورقة عمل ص ٣٢ إلى ٣٥

س١/ارسم: خريطة ذهنية لأعمال الرسول ﷺ في المدينة المنورة.

أعمال الرسول في المدينة المنورة

- ١-
- ٢-
- ٣-
- ٤-



س٢/اكتب: تعليقاً مناسباً للشكل التالي.

س٣/ من القائل وما المناسبة:

اللهم لاعيش إلا عيش الآخرة ... فاغفر للأنصار والمهاجرة
*القائل: - *المناسبة:

س٤/اذكر: دور المسجد في الاسلام.

- ١-
- ٢-

س٥/عرف يوم بعث:

س٦/دلل على صحة العبارة التالية: "ضرب الأنصار أروع الأمثلة في التضحية والإيثار مع المهاجرين في المدينة"

س٧/أكمل الفراغات التالية بما يناسبها:

- ١- أول عمل قام به الرسول ﷺ في المدينة المنورة هو
- ٢- آخر الحروب التي نشبت بين الأوس والخزرج قبل الهجرة تسمى
- ٣- وحد الرسول بين قبليتي الأوس والخزرج تحت مسمى
- ٤- قام أول مجتمع مثالي في شبه الجزيرة العربية يسوده النظام وروح الإخاء والمساواة في مدينة تسمى

تابع ورقة عمل ص ٣٦ إلى ٣٧س١/ عرف الصحيفة:س٢/ عدد: بنود الصحيفة التي وضعها الرسول ﷺ بعد وصوله للمدينة المنورة.

-١

-٢

-٣

-٤

س٣/ برهن على صحة العبارة التالية: نجاح شخصية الرسول ﷺ كقائد للأمة الإسلامية.

-١

-٢

-٣

-٤

-٥

س٤/ اكتب المفهوم الدال لما يلي:

١- () فرقة من الجنود بقيادة أحد الصحابة.

س٥/ حدد: مهام السرية في الإسلام.

-١

-٢

-٣

-٤

س٦/ علل: كلف الرسول ﷺ الصحابي عبد الله بن جحش لقيادة سرية نخلة.س٧/ من قائل العبارة التالية وما المناسبة: ما أمرتكم بقتال في الشهر الحرام.

*القائل: - *المناسبة:

س٨/ أكمل الفراغات التالية بما يناسبها:

١- الصحابي الذي اختاره الرسول ﷺ لقيادة سرية نخلة يسمى

٢- قاد عبد الله بن جحش سرية نخلة عام

٣- وادي يقع بين مدينتي مكة والطائف يسمى

ورقة عمل ص ٣٨ إلى ٤١

س ١ / لاحظ الخريطة جيداً ثم رتب غزوات الرسول ﷺ تصاعدياً وفقاً للجدول التالي.



العام	الغزوة
٧هـ	غزوة خيبر

صفحة رقم - ٢١ -



س ٢ / انظر الشكل ٢ ثم أكتب تعليقاَ مناسباً.

.....

.....

.....

.....

تابع ورقة عمل ص ٣٨ إلى ٤١

س٣/اذكر: السبب المباشر لغزوة بدر الكبرى ٢هـ.

س٤/من قائل العبارة وما المناسبة: "لقد آمنا بك وصدقناك وشهدنا أن ما جئت به هو الحق واعطيناك على ذلك عهدونا ومواثيقنا على السمع والطاعة فامضي لما أردت فنحن معك والذي بعثك بالحق لو استعرضت بنا هذا البحر فخضته لخضناه معك".

*القائل: - *المناسبة:

س٥/قارن بين: أطراف غزوة بدر وفقاً للجدول التالي.

وجه المقارنة	المسلمون	قريش
القادة		
عدد الجيش	٣١٧ رجلاً	٩٥٠ رجلاً
أسباب الغزوة	-١	-١
	-٢	-٢
النتائج	-١	
	-٢	
	-٣	

س٦/ما تفسيرك: اخراج الرسول ﷺ يهود بنو قينقاع من المدينة المنورة.

س٧/أكمل الفراغات التالية بما يناسبها:

- ١- الصحابي الذي أنابه الرسول ﷺ في المدينة قبيل غزوة بدر يسمى
- ٢- الصحابي الذي أشار على النبي ﷺ أن يعسكر المسلمين وخلفهم بنر بدر يسمى
- ٣- الجماعة اليهودية التي أخرجها الرسول ﷺ من المدينة بعد غزوة بدر الكبرى تسمى

ورقة عمل ص ٤١ إلى ٤٢

س١/قارن بين: أطراف غزوة أحد وفقاً للجدول التالي.

وجه المقارنة	المسلمون	الكفار
القادة		
عدد الجيش		
الأسباب		
النتائج	١- هزيمة المسلمين وسقوط ٧٠ شهيد. ٢- طرد قبيلة بني النضير اليهودية.	انتصار قريش.

س٢/علل ما يلي:

أ- وقوع غزوة أحد عام ٥٣هـ.

ب- هزيمة المسلمين في غزوة أحد ٥٣هـ.

س٣/ماذا يحدث لو لم: ينزل الرماة من أماكنهم في غزوة أحد عام ٥٣هـ.

١-

٢-

س٤/انظر الشكل ثم أجب عما يلي:

١- الشكل ١ يمثل

٢- بلغ عدد الرماة المسلمين في غزوة أحد

٣- قائد رماة المسلمين في جبل أحد يسمى

٤- قائد خيالة قريش الذي استغل مخالفة الرماة المسلمين لأوامر قادتهم

يسمى

٥- الرمز XX يمثل



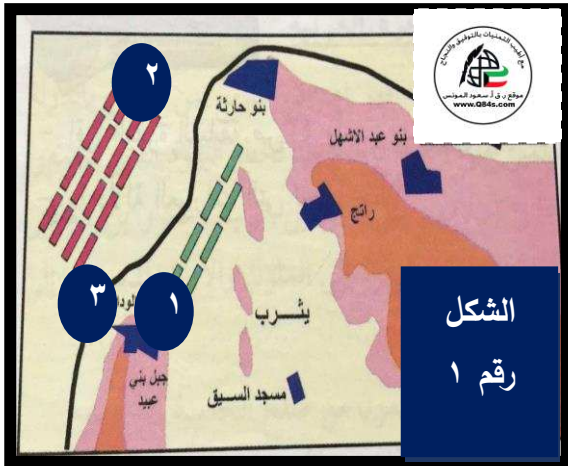
الشكل

رقم ١

ورقة عمل ص ٤١ إلى ٤٣

س١/قارن بين: أطراف غزوة الخندق وفقاً للجدول التالي.

وجه المقارنة	المسلمون	القبائل العربية بقيادة قريش
القادة		
العدد	٣٠٠٠ رجل	١٠٠٠٠ رجل
الأسباب		١- ٢-
النتائج	١- ٢-	



س٢/انظر الشكل ثم أجب عما يلي:

١- الشكل رقم ١ يمثل

٢- الخندق الذي اشار الصحابي سلمان الفارسي ببنائه يمثله

على الخريطة الرقم

٣- جيش المسلمين في غزوة الخندق يمثله على الخريطة الرقم

٤- جيش الاحزاب في غزوة الخندق يمثله على الخريطة الرقم

س٣/ماذا يحدث لو لم: يقيم المسلمون بحفر الخندق.

١-

٢-

س٤/أكمل الفراغات التالية بما يناسبها:

١- الصحابي الذي أشار على الرسول ﷺ بحفر الخندق يسمى

٢- القبيلة اليهودية التي كان لها دوراً مع القبائل العربية في غزوة الخندق تسمى

ورقة عمل ص ٤٣ إلى ٤٥س ١/ علل: قام المسلمون بمبايعة الرسول ﷺ بيعة الشجرة (الرضوان) عام ٦هـ.س ٢/ عدد: بنود صلح الحديبية عام ٦هـ.

-١

-٢

-٣

-٤

موقع
المنهج الكويتية
almanahj.com/kw

س ٣/ دلل على صحة العبارة التالية: " كان صلح الحديبية عام ٦هـ نصراً عظيماً للرسول ﷺ ودعوته"

-١

-٢

-٣

-٤

س ٤/ أكمل الفراغات التالية بما يناسبها:

١- عرفت بيعة الشجرة باسم آخر هو

٢- الصحابي الذي أرسله الرسول ﷺ ليفاوض قريش لأداء العمرة عام ٦هـ يسمى

٣- مبعوث قريش الذي أرسلته لعقد صلح الحديبية مع الرسول ﷺ يسمى

٤- القبيلة التي دخلت في حلف الرسول ﷺ بعد صلح الحديبية عام ٦هـ تسمى

ورقة عمل ص ٤٥ إلى ٤٦

س ١/ صنف الرسل التالية اسمائهم وفقاً للجدول التالي:

- عمرو بن العاص السهمي - سليط بن عامر العامري - المهاجر بن أمية المخزومي - شجاع بن وهب الأسدي -
 - العلاء بن الحضرمي - حاطب بن أبي بلتعة - عمرو بن أمية الضمري - عبد الله بن حذافة السهمي -
 دحية بن خليفة الكلبي.

اسم الرسول	الملك / موقفه من الدعوة
	قيصر ملك الروم (هرقل) / خاف على ملكه ولم يسلم
	كسرى ملك فارس / مزق كتاب الرسول
	النجاشي ملك الحبشة / أسلم ووضع الكتاب على عينه
	المقوقس حاكم مصر / لم يسلم ولكنه أكرم وفادته
	ملك البحرين "المنذر بن ساوي" / أسلم وأسلم قومه
	أمير الغساسنة "الحارث الغساني" / هدد بغزو المدينة وقتل الرسول
	حاكم اليمن "الحارث الحميري" / أسلم
	أمير اليمامة "هوذة الحنفي" / اشترط لكي يسلم الأمر من بعده
	ملكا عمان "ابنا الجلندي" / أسلم

س ٢/ قارن بين ما يلي:

١- غزوة خيبر ومؤته وفقاً للجدول التالي.

وجه المقارنة	غزوة خيبر	غزوة مؤتة
العام		٥٨ هـ
الأسباب		
النتائج		

٢- غزوة حنين وتبوك وفقاً للجدول التالي.

وجه المقارنة	غزوة حنين	غزوة تبوك
العام		
الأسباب		
النتائج		١- ٢-

س٣/علل: قيام الرسول ﷺ بفتح مكة في عام ٨ هـ.

س٤/ماذا يحدث لو لم: تعدي قبيلة بكر على قبيلة خزاعة.

س٥/ما النتائج المترتبة على: فتح مكة عام ٨ هـ.

١-

٢-

س٦/من القائل وما المناسبة:

"أيها الناس اسمعوا قولي فإني لا أدري لعلي لا ألقاكم بعد عامي هذا، أيها الناس، إن دماءكم وأموالكم عليكم حرام إلي أن تلقوا ربكم، كحرمة يومكم هذا، وكحرمة شهركم هذا، وإنكم ستلقون ربكم فيسألكم عن أعمالكم، وقد بلغت، فمن كانت لديه أمانة فليؤدها إلي من أئتمنته عليها، وقد تركت فيكم ما إن تمسكتم به فلن تضلوا أبداً بئناً كتاب الله وعام نبيه".

*القائل: - *المناسبة:

س٧/أكمل الفراغات التالية بما يناسبها:

١- القبيلة التي دخلت في حلف قريش في صلح الحديبية ٦ هـ تسمى

٢- القبيلة التي دخلت في حلف الرسول ﷺ في صلح الحديبية عام ٦ هـ تسمى

٣- ملك الفرس الذي دعاه الرسول ﷺ لدخول الإسلام فمزق كتابه يسمى

٤- بلغ عدد جيش المسلمين بقيادة الرسول ﷺ لفتح مكة

٥- حج الرسول ﷺ حجة الوداع عام

٦- بلغ عدد المسلمين في حجة الوداع

٧- توفي الرسول ﷺ ١٢ ربيع الأول عام

٨- الشكل (١) يمثل



الشكل ١

ورقة عمل ص ٥٣ إلى ٥٥

س ١/ عرف ما يلي:

١- دولة الخلفاء الراشدين:

٢- الخلافة:

س ٢/ علل ما يلي:

١- تسمية دولة الخلفاء الراشدين بهذا الاسم.

٢- أطلق لقب الخليفة مفهوم جديد.

س ٣/ فند العبارة التالية: " كانت الخلافة في أسرة معينة " .

س ٤/ صمم بطاقة تعريفية لأبو بكر الصديق ﷺ.



○ عبد الله

○ أطلق عليه الرسول

○ لقب

○ كان بزازاً أي

○ صفاته

ورقة عمل ص ٥٥ إلى ٥٧

س ١/ من قائل هذه العبارات وما المناسبة:

١- "من كان يعبد محمد فإن محمد قد مات ومن كان يعبد الله فإن الله حي لا يموت".

*القائل: - *المناسبة:

٢- "لكن العرب لا تخضع إلا لهذا الحي من قريش ونحن الأمراء وأنتم الوزراء لانقطع في أمر دونكم"

*القائل: - *المناسبة:

٣- "من يتقدم عليك يا أبا بكر وأنت أول الناس إسلاما وثاني اثنين إذ هما في الغار، وقد ارتضاك النبي بدله في الصلاة في مرضه فارتضاك لديننا فكيف لا نرضيك لدينانا".

*القائل: - *المناسبة:

٤- "أيها الناس فإني قد وليت عليكم ولست بخيركم فإن أحسنت فأعينوني أن أسأت فقوموني، الصدق أمانة والكذب خيانة والضعيف فيكم قوي عندي حتى أريح ... لا يدع قوم الجهاد في سبيل الله إلا خذلهم ... أطيعوني ما أطعت الله ورسوله ... قوموا إلى صلاتكم يرحمكم الله" ص ٥٧

*القائل: - *المناسبة:

س ٢/ علل: اجتماع الأنصار في سقيفة بني ساعدة.

س ٣/ فرق بين ما يلي:

١- البيعة العامة والبيعة الخاصة.

البيعة العامة	البيعة الخاصة

٢- فضل المهاجرين والأنصار.

فضل الأنصار	فضل المهاجرين
١-	١-
٢-	٢-
٣-	٣-
	٤-

ورقة عمل ص ٥٧ إلى ٥٨

س ١/علل: إعداد الرسول ﷺ جيش أسامة بن زيد.

س ٢/من قائل هذه العبارات وما المناسبة:

١- "والله لا أحل عقدة عقدها رسول الله ﷺ ولو أن الطير تخطفنا والسباع من حول المدينة ولو أن الكلاب جرت بأرجل أمهات المؤمنين لأجهز جيش أسامة".

*القائل: - *المناسبة:

٢- "لا أرد قضاء قضى به الرسول ﷺ ولو ظننت أن السباع تختطفني لأنفقت جيش أسامة كما أمر النبي"

*القائل: - *المناسبة:

٣- "لتركبن أو لأنزلن وما على أن أغبر قدمي ساعة في سبيل الله الخ".

*القائل: - *المناسبة:

٤- "والله لو منعوني عقال بغير كان يؤتونه رسول الله لقاتلتهم عليه حتى يؤدوه".

*القائل: - *المناسبة:

س ٣/عرف ما يلي:

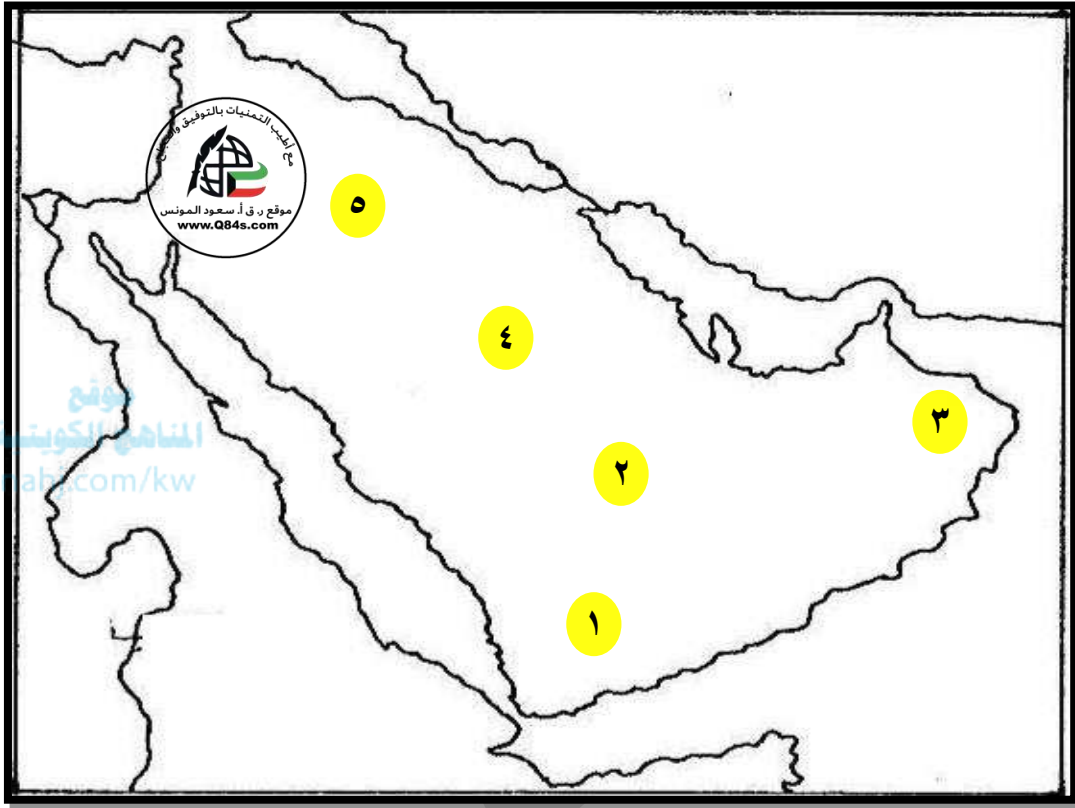
أ- الردة:

ب-المتنبئة:

س ٤/فند العبارة التالية: ظهرت حركة الردة في أوائل الدعوة الإسلامية. (أسباب الردة).

س ٥/عدد: أسماء مدعي النبوة.

س ٥ / لاحظ الخريطة جيداً ثم أجب عما يلي:



- المنطقة التي ظهر فيها المتنبئ الأسود العنسي على الخريطة يمثلها الرقم
- المنطقة التي ظهر فيها المتنبئ مسيلمة الكذاب على الخريطة يمثلها الرقم
- المنطقة التي ظهر فيها المتنبئ لقيط بن مالك على الخريطة يمثلها الرقم
- المنطقة التي ظهر فيها المتنبئ طليحة بن خويلد على الخريطة يمثلها الرقم
- المنطقة التي ظهرت فيها المتنبئه سجاح على الخريطة يمثلها الرقم

ورقة عمل ص ٥٨ إلى ٦٠

س ١/ دلل على صحة العبارة التالية: "تجلت حكمة أبو بكر الصديق ﷺ في مواجهة مشكلة الردة".

-١

-٢

س ٢/ قارن بين ما يلي: معركة بزاخة وعقرباء وفقاً للجدول التالي.

وجه المقارنة	معركة بزاخة	معركة عقرباء "حديقة الموت"
الأطراف والقادة	المسلمون X بنو أسد	المسلمون X بنو حنيفة
العام	١١ هـ	
المكان	في منطقة نجد عند ماء لبني أسد	في أرض اليمامة وسط شبه الجزيرة العربية
الأحداث	-١ -٢ -٣	

س ٣/ أكمل الفراغات التالية بما يناسبها:

- ١- عدد الألوية التي عقدها أبوبكر الصديق ﷺ لمواجهة حركة الردة
- ٢- عرفت معركة عقرباء باسم آخر وهو
- ٣- متنبئ فر إلى بلاد الشام ثم عاد وأسلم وشارك في فتح العراق
- ٤- معركة استشهد فيها الكثير من حفظة القرآن الكريم تسمى
- ٥- قاتل مسيلمة الكذاب في معركة عقرباء يسمى
- ٦- بلغت المدة الزمنية للقضاء على حركة الردة

س ٤/ ماذا يحدث لو لم: يتمكن أبو بكر الصديق ﷺ من القضاء على حركة الردة.

-١

-٢

ورقة عمل ص ٦١ إلى ٦٢س١/ **فرق بين:** الأسباب التي دفعت المسلمين نحو الفتوح الإسلامية.

دينية	سياسية
الحماسة الدينية من خلال:	
١-	
٢-	
٣-	

س٢/ **من قائل العبارات التالية وما المناسبة:**

١- "لاتخونوا ولا تغدروا ولا تغلوا ولا تمثلوا ولا تقتلوا طفلاً ولا شيخاً كبيراً ولا امرأة ولا تعقروا نخلًا ... وسوف تمرن بأقوام قد فرغوا أنفسهم في الصوامع فدعوهم ... وسوف تقدمون على قوم بآنية فيها ألوان الطعام ..." ص ٦١

*القائل: - *المناسبة:

٢- " جننكم بقوم يحبون الموت كما تحبون الحياة "

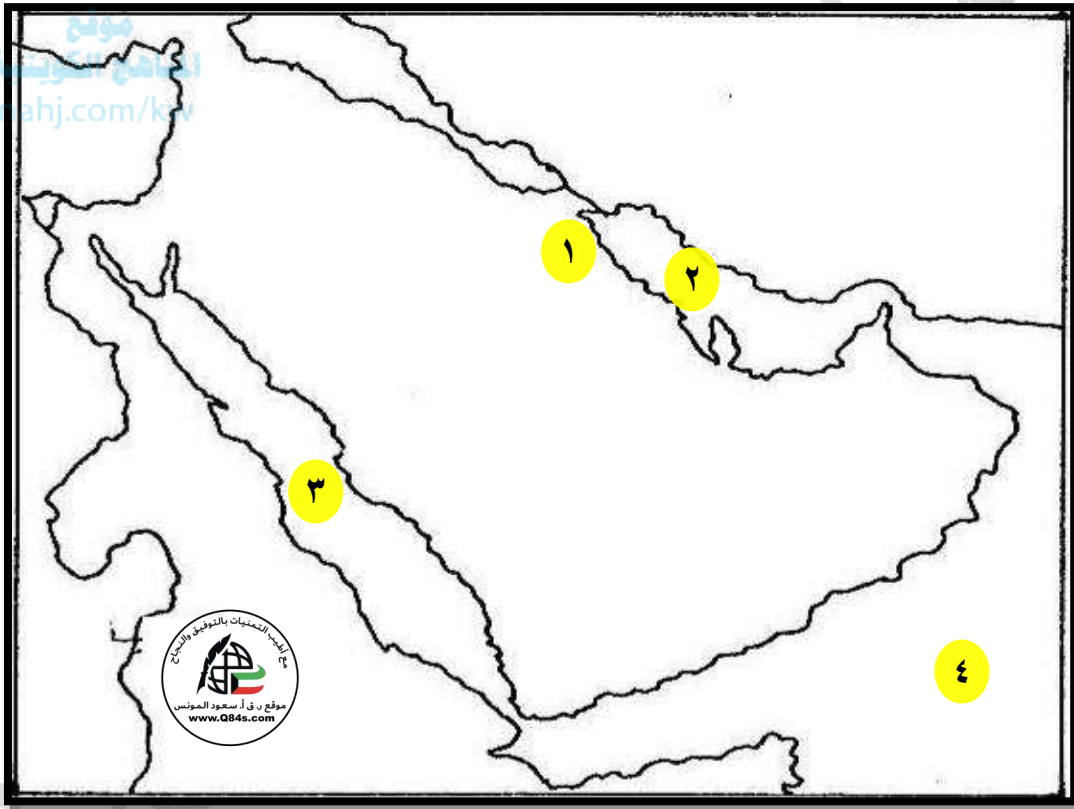
*القائل: - *المناسبة:

س٣/ **قارن بين:** معارك الفتح الإسلامي شرقاً في عهد الخليفة أبو بكر الصديق رضي الله عنه.

وجه المقارنة	الأطراف والقادة	العام	النتائج
كاظمة (ذات السلاسل)	المسلمون X الفرس	١٢ هـ / ٦٣٢ م	١- ٢-
الجسر	المسلمون X الفرس	١٣ هـ / ٦٣٤ م	١- ٢-
البويب	المسلمون X الفرس مهران بن أبذان.	١٣ هـ	انتصار المسلمون على الفرس.

س ٤/ أكمل الفراغات التالية بما يناسبها:

- ١- المدينة التي صالح خالد بن الوليد أهلها على الجزية تسمى
- ٢- ابنة كسري شيرويه فارس التي خلفته بالحكم بعد وفاته تسمى
- ٣- المدينة التي فتحها خالد بن الوليد وكانت مخزناً للغلال تسمى
- ٤- المعركة التي انهزم فيها المسلمون عام ١٣هـ تسمى
- ٥- القائد الذي استشهد عندما برك عليه الفيل في المعركة يسمى

س ٥/ لاحظ الخريطة جيداً ثم أجب عما يلي:

- المعركة التي انتصر فيها المسلمون على الفرس عام ١٢هـ على الخريطة يمثلها الرقم
- بحر الخليج العربي على الخريطة يمثلها الرقم

ورقة عمل ص ٦٢ إلى ٦٤

س ١/ أكمل الناقص: حول معركة أجنادين وفقاً للجدول التالي.

المعركة	الأطراف والقادة	العام	النتائج
أجنادين	المسلمون	١٣ هـ	١-
	X الروم ثيودور	٦٣٤ م	٢-

س ٢/ من قائل العبارات التالية وما المناسبة:

١- "كيف أفعال شيئاً لم يفعله رسول الله ﷺ".

*القائل: *المناسبة:

٢- "هو والله خير".

*القائل: *المناسبة:

س ٣/ أكمل الفراغات التالية بما يناسبها:

١- أرسل أبو بكر الصديق ﷺ أربعة جيوش لبلاد الشام بقيادة

٢- القائد الذي أرسله الخليفة أبو بكر الصديق ﷺ مدداً لجيوش الشام يسمى

٣- تجمعت الجيوش الإسلامية لمواجهة الروم تحت لواء بقيادة

٤- الفترة الزمنية لخلافة أبو بكر الصديق ﷺ

٥- توفي أبو بكر الصديق ﷺ في عام

٦- الخليفة الذي جمع القرآن في عهده وسماه مصحفاً يسمى

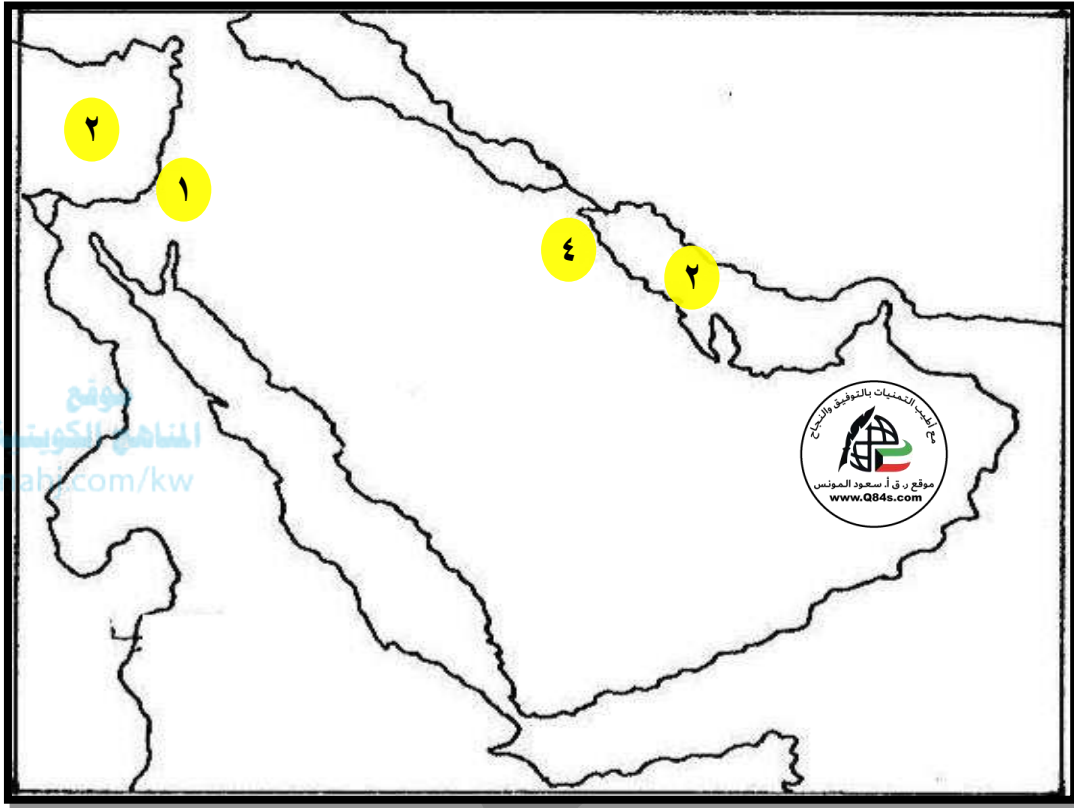
٧- الصحابي الذي طلب منه الخليفة أبو بكر الصديق جميع القرآن وتدوينه يسمى

٨- الخليفة الذي عتق وشهد جميع الغزوات مع الرسول ﷺ يسمى

٩- الخليفة الذي تولي الخلافة وأبوه حي يسمى

س ٤/ ماذا يحدث لو لم: يجمع أبو بكر الصديق ﷺ القرآن الكريم.

س ٥ / لاحظ الخريطة جيداً ثم أجب عما يلي:



- المعركة التي انتصر فيها المسلمون على الروم عام ١٣هـ، وأصبحت فلسطين كلها بيد المسلمين على الخريطة يمثلها الرقم
- موقع بحر الروم على الخريطة يمثله الرقم

ورقة عمل ص ٦٥ إلى ٦٦

س ١/صمم بطاقة تعريفية ل عمر بن الخطاب ؓ.



موقع
المنهاج الكويتية
almanahj.com/kw

- عمر
- ولد
- يجتمع مع الرسول ﷺ في
- كناه الرسول ﷺ
- لقب

س ٢/علل ما يلي:

١- تسمية عمر بن الخطاب ؓ بأبي حفص.

٢- اختيار أبو بكر الصديق عمر بن الخطاب ؓ ليكون خليفة من بعده.

-١

-٢

س ٣/من قائل العبارة وما المناسبة: "أيها الناس أي كنت عازم على الخروج معكم وإن ذوي اللب والرأي منكم قد صرفوني عن هذا الرأي وأشاروا بأن أقيم رجلا من الصحابة يتولى أمور الحرب".

*القائل: - *المناسبة:

س ٤/أكمل الفراغات التالية بما يناسبها:

١- الخليفة الذي كان إسلامه فتحاً وهجرته نصراً وإمارته رحمة يسمى

٢- تولى عمر بن الخطاب ؓ الخلافة عام

٣- لقب أطلقه الرسول ﷺ على عمر بن الخطاب هو

٤- الفترة الزمنية لخلافة أبو بكر الصديق ؓ

٥- توفي عمر بن الخطاب ؓ في عام

ورقة عمل ص ٦٦ إلى ٦٨س ١/ قارن بين: معارك فتوح الشرق في عهد الخليفة عمر بن الخطاب رضي الله عنه.

وجه المقارنة	القادسية	جلولاء	نهاوند
العام هـ	١٦ هـ هـ
الأطراف والقادة	المسلمون <small>رضي الله عنه</small> X الفرس	المسلمون X الفرس مهران	المسلمون X الفرس يزجرد الثالث
الأحداث والنتائج	مرت المعركة بثلاثة أيام رئيسية: ١- اليوم الأول ويسمى: أرماث ٢- اليوم الثاني ويسمى: أغواث ٣- الثالث ويسمى: عماس	 -١ -٢ -٣	-١ -٢

س ٢/ فرق بين: أيام معركة القادسية وفقاً للجدول التالي.

أرماث	أغواث	عماس

س ٣/ علل ما يلي:

أ- تسمية معركة جلولاء بهذا الاسم.

ب- تسمية معركة نهاوند بفتح الفتوح.

-١

-٢

ج- فتح العراق من أعسر الفتوحات الإسلامية.

س ٤/ أكمل الفراغات التالية بما يناسبها:

١- السورة القرآنية التي أمر سعد بن أبي وقاص رضي الله عنه قراءتها في بداية معركة القادسية تسمى

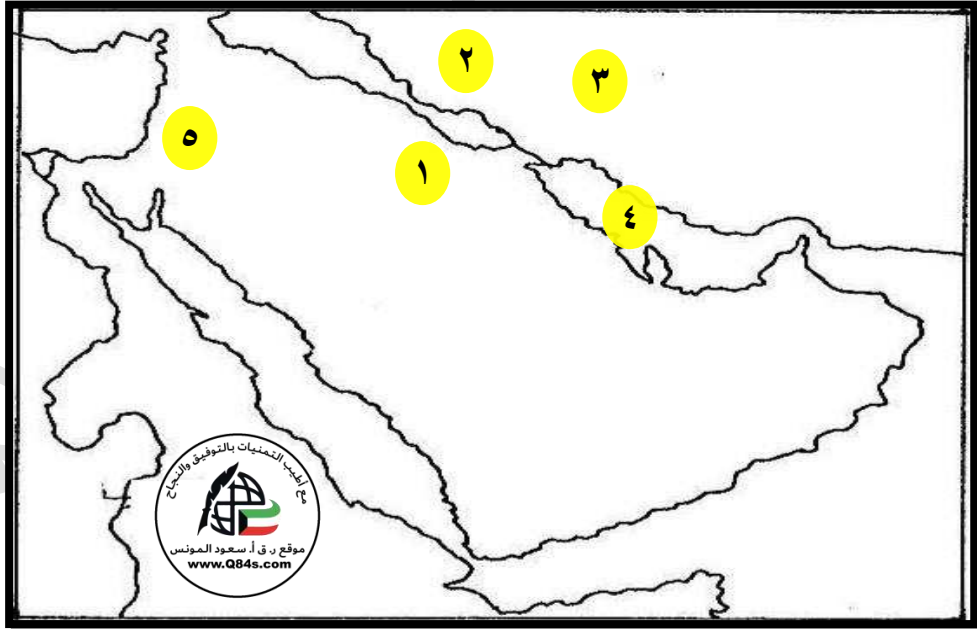
٢- عاصمة دولة الفرس التي سقطت بعد معركة القادسية تسمى

٣- القصر الذي دخله سعد بن أبي وقاص رضي الله عنه بعد فتح المدائن يسمى

٤- الصحابي الذي كان من ضمن الجيش في فارس واعطي سوارى كسرى يسمى

٥- القائد الذي فتح شمال الموصل عام ١٧هـ يسمى

س ٥/ لاحظ الخريطة جيداً ثم أجب عما يلي: ص ٧١



• المعركة التي انتصر فيها المسلمون على الفرس عام ١٥هـ على الخريطة يمثلها الرقم

• المعركة التي انتصر فيها المسلمون على الفرس عام ١٦هـ وانتشر القتلى على الخريطة يمثلها الرقم

• المعركة التي قضت على الدولة الساسانية عام ٢١هـ واعتبرت فتح الفتوح على الخريطة يمثلها الرقم

ورقة عمل ص ٦٨ إلى ٧٠س ١/ دلل على صدق العبارة التالية: "خالد بن الوليد أول من استحدث تنظيم الجيوش".

-١

-٢

-٣

-٤

س ٢/ أكمل الناقص: حول معركة اليرموك وفقاً للجدول التالي.

المعركة	الأطراف والقادة	العام	العدد	النتائج
اليرموك	المسلمون	هـ..... ٦٣٦ م	٤٦ ألف	١- انتصار المسلمين.
	*القلب: أبو عبيدة بن الجراح ومعه المهاجرين والأنصار		X	-٢
	*الميمنة:		-٣	
	*الميسرة: يزيد بن أبي سفيان		٢٠٠ ألف	
	X			
	الروم ماهان			

س ٣/ من قائل العبارات التالية وما المناسبة:

١- "يا عباد الله انصروا الله ينصركم ويثبت أقدامكم..".

*القائل: - *المناسبة:

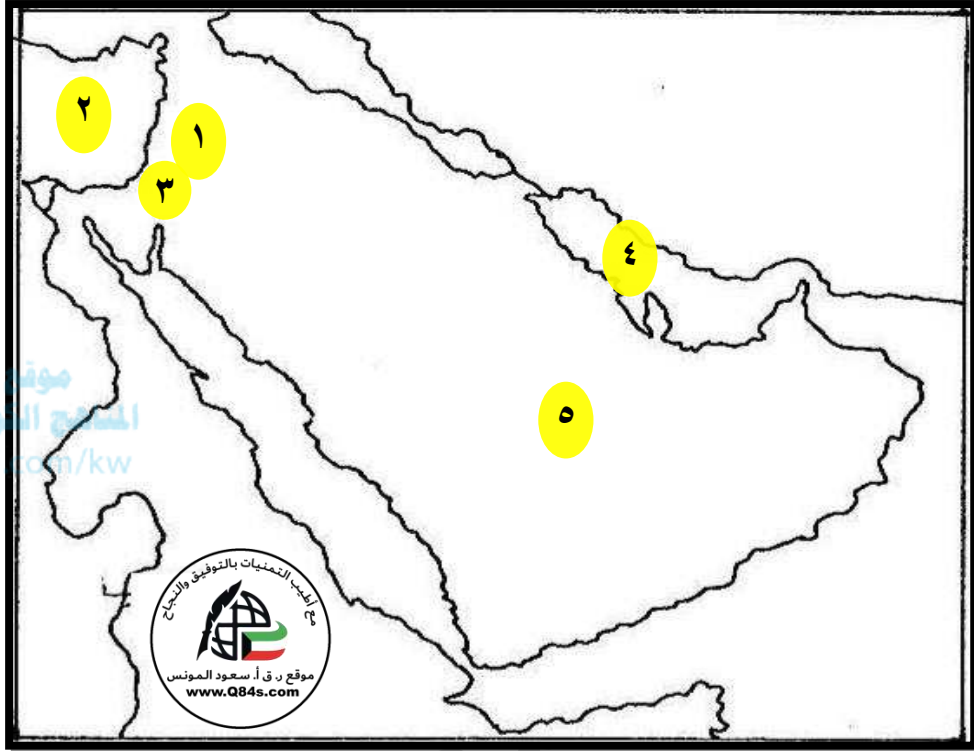
٢- "يا أهل الإسلام لم يبق عند القوم من الجلد والقتال ... فالشدة الشدة، ليعطينكم الله الظفر عليهم الساعة".

*القائل: - *المناسبة:

٣- "السلام عليك يا سورية سلاماً لا لقاء بعده ونعم البلد أنت للعدو وليس الصديق لا يدخلها رومي بعد الآن إلا خائفاً"

*القائل: - *المناسبة:

س ٤ / لاحظ الخريطة جيداً ثم أجب عما يلي: ص ٧١



- المعركة التي انتهت وجود الروم عام ١٥ هـ على الخريطة يمثلها الرقم
- موقع بحر الروم على الخريطة يمثلها الرقم
- المدينة التي حاصرها المسلمون شهرين ثم فحت سلماً على الخريطة يمثلها الرقم

ورقة عمل ص ٧٠ إلى ٧٢

س ١/ أوجد العلاقة: بكتابة فقرات مترابطة بالاستعانة بالكلمات التالية.

(إيلياء - أبو عبيدة بن الجراح - بيت المقدس - شهرين).

س ٢/ من قائل العبارات التالية وما المناسبة:

١- "بسم الله الرحمن الرحيم. إلى بطارقة أهل إيلياء وسكانها. سلام على من اتبع الهدى وأمن بالله وبالرسول. أما بعد: فإننا ندعوكم إلى شهادة أن لا إله إلا الله محمد رسول الله، وأن الساعة آتية لا ريب فيها، وأن الله يبعث من في القبور. فإن شهدتم بذلك، حرمت علينا دماؤكم وأموالكم وذراريكم، وكنتم لنا إخواناً. وإن أبيتم، فأقروا لنا بأداء الجزية عن يد وأنتم صاغرون. وإن أنتم أبيتم، سرت إليكم بقوم هم أشد حباً للموت منكم لشرب الخمرة وأكل لحم الخنزير. ثم لا أرجع عنكم إن شاء الله أبداً، حتى أقتل مقاتلكم وأسبي نراريكم".

*القائل:

*المناسبة:

٢- "الله ابتعثنا لنخرج من شاء من عبادة العباد إلى عبادة الله، ومن ضيق الدنيا إلى سعتها، ومن جور الأديان إلى عدل الإسلام، فأرسلنا بدينه إلى خلقه لندعوهم إليه، فمن قبل ذلك قبلنا منه ورجعنا عنه، ومن أبى قاتلناه أبداً حتى نفضي إلى موعود الله".

*القائل:

*المناسبة:

٣- "فقال ... وما موعودُ الله؟"

*القائل:

*المناسبة:

٤- "قال: الجنة لمن مات على قتال من أبي، والظفر لمن بقي".

*القائل:

*المناسبة: رداً على سؤال رستم.

ورقة عمل ص ٧٣ إلى ٧٤

س ١/ علل ما يلي:

١- أهمية مصر بالنسبة للروم.

٢- تأمل الشعب المصري بدولة جديدة تخلصهم من حكم الروم.

-١

٢- الصراع المذهبي.

س ٢/ من قائل العبارات التالية وما المناسبة:

١- " إنك أن فتحتها كانت قوة للمسلمين وعونا لهم".

*القائل:

*المناسبة:

٢- " لقد أمددتك بأربعة آلاف فيهم رجال الواحد منهم بألف".

*القائل:

س ٣/ أوجد العلاقة: بكتابة فقرات مترابطة بالاستعانة بالكلمات التالية.

(عمرو بن العاص - تيودور - ١٨ هـ - ثلثي الجيش - كبار الصحابة).

سار عمرو بن العاص نحو مصر بجيش قوامه ٤ آلاف مقاتل عام ١٨ هـ ثم أمده الخليفة عمر بن الخطاب بجيش قوامه

٤ آلاف مقاتل على رأسهم كبار الصحابة الزبير بن العوام وعبادة بن الصامت والمقداد بن الأسود وتقدم الروم بقيادة

تيودور في ٢٠ ألف مقاتل فأعد عمرو كميناً للروم، حيث خبأ ثلثي الجيش وقابل الروم بثلاث الجيش الباقي، ولما نشب

القتال خرج ثلث الجيش الثاني فاختلفت صفوف الروم، ثم خرج الثلث الثالث فأصبح الروم محاصرين من جيوش الإسلام

فحلت الهزيمة بالروم وثبتت أقدام عمرو بن العاص رضي الله عنه في أم دنين بعد موقعة عين شمس (هيليوبوليس).

س ٤/ أجب عن الأسئلة التالية كما هو مطلوب منك بين الأقواس:

أ- حصار عمرو بن العاص رضي الله عنه لحصن بابلين سبعة أشهر.

-١

-٢

ب- الصلح بين عمرو بن العاص رضي الله عنه والمقوقس حاكم مصر. (عدد شروطه)

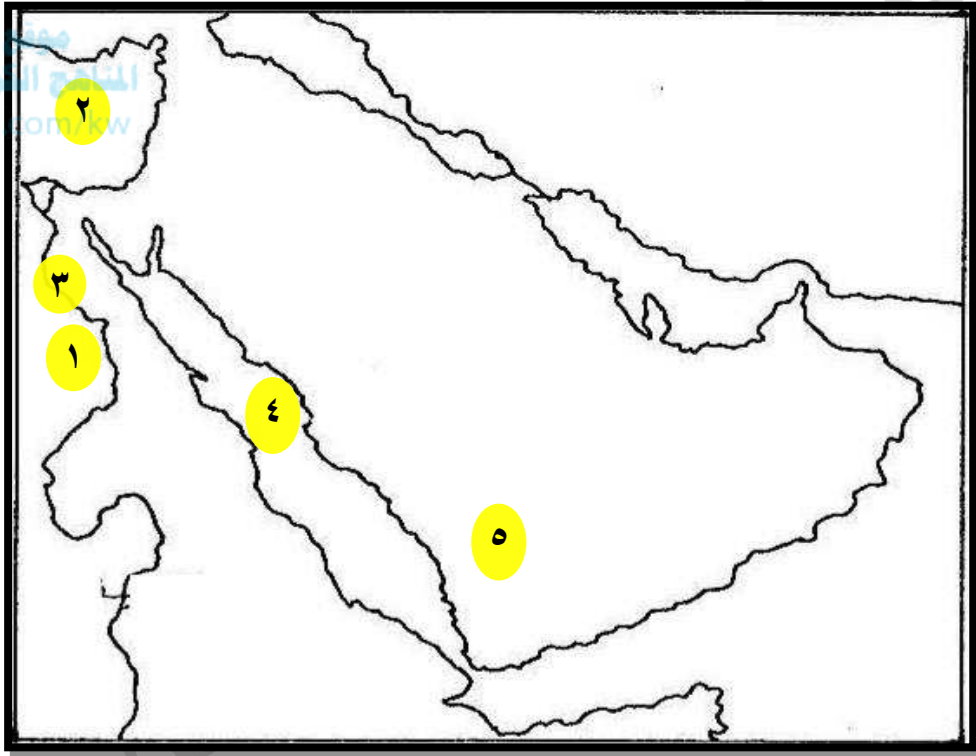
-١

-٢

-٣

س ٥/ أكمل الفراغات التالية بما يناسبها:

- ١- سيطر الروم على مصر عام ٣١ ق.م بعد معركة تسمى
- ٢- فتح القائد عمرو بن العاص رضي الله عنه مصر عام
- ٣- امتد حصار عمرو بن العاص رضي الله عنه لحصن بابلين مدة
- ٤- قائد المسلمين في معركة عين شمي (هيليوبوليس) يسمى

س ٦/ لاحظ الخريطة جيداً ثم أجب عما يلي: ص ٧٣

- المنطقة التي فتحها عمرو بن العاص رضي الله عنه عام ١٨ هـ على الخريطة يمثلها الرقم
- موقع بحر القلزم على الخريطة يمثلها الرقم
- الحصن الذي امتد حصاره لمدة سبعة أشهر على الخريطة يمثلها الرقم
- موقع بحر القلزم على الخريطة يمثلها الرقم
- موقع المدينة المنورة على الخريطة يمثلها الرقم
- ارسم خط سير المدد الذي أرسله الخليفة عمر بن الخطاب رضي الله عنه لفتح مصر عام ١٨ هـ . (بقيادة الزبير بن العوام).

ورقة عمل ص ٧٥ إلى ٧٠

س ١/ فرق بين ما يلي:

١- العوامل النفسية والحربية التي ساعدت العرب على الانتصارات.

عوامل حربية	عوامل نفسية
١-	١-
٢-	٢-
٣-	٣-
٤-	

٢- العوامل التي ساعدت المسلمين على الانتصار على الفرس والروم.

الفرس	الروم
١-	١-
٢-	٢-
٣-	٣-

س ٢/ من قائل العبارات التالية وما المناسبة:

١- "علام نعطي الدنيا في ديننا".

*القائل: *المناسبة:

٢- "هون عليك".

*القائل: *المناسبة:

٣- "من أراد أن تتكلمه امه فليلاقي وراء هذا الوادي".

*القائل: *المناسبة:

٤- "إن رأيت ديكا ينقرني نقرة أو نقرتين وإني لأراه إلا حضور أجلي فإن عجل بي فأمر الخلافة شورى بين هؤلاء الستة الذين توفي الرسول ﷺ وهو راضي عنهم".

*القائل: *المناسبة:

س ٣/ عرف عام الرمادة:

س ٤/ أكمل الفراغات التالية بما يناسبها:

- ١- أول من سمي بأمير المؤمنين هو
- ٢- أول ديوان دون في الإسلام في عهد الخليفة عمر بن الخطاب رضي الله عنه يسمى
- ٣- أول من سن صلاة القيام ووضع التاريخ الهجري يسمى

س ٥/ أكمل الناقص حول: الفتوحات التي تمت في عهد الخليفة عمر بن الخطاب رضي الله عنه.

العام	المنطقة
١٤ هـ - حمص - البصرة -
..... هـ - طبرية
١٦ هـ	الأهواز - - تكريت - بيت المقدس - - أنطاكية
..... هـ - حلوان - - الموصل -
١٩ هـ	قيسارية
٢٠ هـ	مصر
٢١ هـ - نهاوند
٢٢ هـ - طرابلس الغرب - - همذان
..... هـ - سجستان - مكران -