

تم تحميل هذا الملف من موقع المناهج الكويتية



منطقة العاصمة التعليمية

الملف إجابة منطقة العاصمة التعليمية

موقع المناهج ← المناهج الكويتية ← الصف السابع ← اجتماعيات ← الفصل الثاني

روابط مواقع التواصل الاجتماعي بحسب الصف السابع



روابط مواد الصف السابع على تلغرام

[الرياضيات](#)


[اللغة الانجليزية](#)

[اللغة العربية](#)

[التربية الاسلامية](#)

المزيد من الملفات بحسب الصف السابع والمادة اجتماعيات في الفصل الثاني

مذكرة موضوعية محلولة	1
حل الكتاب	2
حل الوحدة الرابعة في مادة الاجتماعيات	3
بنك اسئلة التربية سابع	4
مراجعات الصف السابع	5



موقع
المنهج الكويتية
almanahj.com/kw

منطقة العاصمة التعليمية

التنمؤذزجفة
الابجفة



@ykuwait_net_home



وزارة التربية

الإدارة العامة لمنطقة العاصمة التعليمية
التوجيه الفني العام للاجتماعيات

امتحان نهاية الفترة الدراسية الثانية

لمقرر الكويت والوطن العربي

للمصف السابع المتوسط

اجب عن جميع الاسئلة التالية


العام الدراسي ٢٠٢٣ / ٢٠٢٤ م
الزمن : ساعة وخمس وأربعون دقيقة
عدد الصفحات : ٦ صفحة

السؤال الأول (موضوعي) ويتكون من (أ - ب) (كل إجابة درجة = ١٠ درجات)


(أ) أكمل العبارات التالية بما يناسبها :

- ١- الغلات التي تدخل في الصناعة وتزرع بغرض التجارة والحصول على نقد تسمى النقدية / الصناعية والتجارية. ص ١١٣
 - ٢- القارة التي يتركز فيها ٧٠٪ من سكان الوطن العربي اسمها أفريقيا. ص ٩٩
 - ٣- الضرر الذي يلحق بالتربة والهواء والماء ويصيب عناصر البيئة من عدة مصادر للملوثات يعرف باسم التلوث. ص ١٦٦
 - ٤- الدولة التي عقد فيه أكبر مؤتمر للأمم المتحدة عام ١٩٩٢م وعرف باسم قمة الأرض اسمها البرازيل. ص ١٦٧
 - ٥- عدد دول الوطن العربي يبلغ ٢٢ دولة. ص ٩٩
- #### (ب) أكمل المخططات السهمية بما يناسبها :

١- أقسام مناطق الوطن العربي من حيث الكثافة السكانية . ص ١٠٣



٢- المقومات البشرية للصناعة . ص ١٣٩



السؤال الثاني (موضوعي) ويتكون من (أ ، ب) (كل سؤال درجة = ١٠ درجات)



@ykwat_net_home

(أ) اختر البديل الصحيح من بين البدائل التي تلي كل عبارة مما يلي وضع خطا تحتها :

١- صاحب المبادرة لعقد المؤتمر الدولي الأول لمانحي سوريا عام ٢٠١٣م اسمه الشيخ : ص ١٨٨

عبدالله السالم	جابر الأحمد	<u>صباح الأحمد</u>	صباح السالم
----------------	-------------	--------------------	-------------

٢- نسبة المساحة المزروعة في الوطن العربي من المساحة القابلة للزراعة حوالي : ص ١١٦

٢٦%	٣٦%	٤٦%	<u>٥٦%</u>
-----	-----	-----	------------

٣- التنمية التي تطلق على برامج تحسين نوعية الحياة ولا تتحقق إلا بمشاركة جميع المواطنين : ص ١٧٥

الاقتصادية	<u>المستدامة</u>	البشرية	التعليمية
------------	------------------	---------	-----------

٤- الدولة العربية التي تمتلك ٦,٦% من ثروة الوطن العربي من الإبل : ص ١١٩

<u>الصومال</u>	السودان	جيبوتي	موريتانيا
----------------	---------	--------	-----------

٥- العام الذي أنشأ فيه الصندوق الكويتي للتنمية الاقتصادية العربية : ص ١٧٩

١٩٥١م	<u>١٩٦١م</u>	١٩٧١م	١٩٨١م
-------	--------------	-------	-------

(ب) اكتب المفاهيم أو المصطلحات الدالة على العبارات التالية :

المفهوم / المصطلح	العبارات
التضامن العربي	العمل على توثيق الصلات بين الدول والشعوب العربية وحماية مصالحها السياسية والاقتصادية والثقافية . ص ١٧٧
الكثافة السكانية	نسبة عدد السكان الكلي في دولة ما أو منطقة ما إلى المساحة الكلية لهذه الدولة أو المنطقة . ص ١٠٢
التبادل التجاري	عمليات التصدير والاستيراد بين الدول . ص ١٥١
الموارد الطبيعية	الثروات التي منحها الله لإقليم من دون أن يكون للإنسان أي دور في وجودها . ص ١٠٩
الزيادة الطبيعية للسكان	الفرق بين معدل المواليد ومعدل الوفيات . ص ١٠٦

السؤال الثالث (موضوعي) ويتكون من (أ - ب) (كل سؤال درجة = ١٠ درجات)

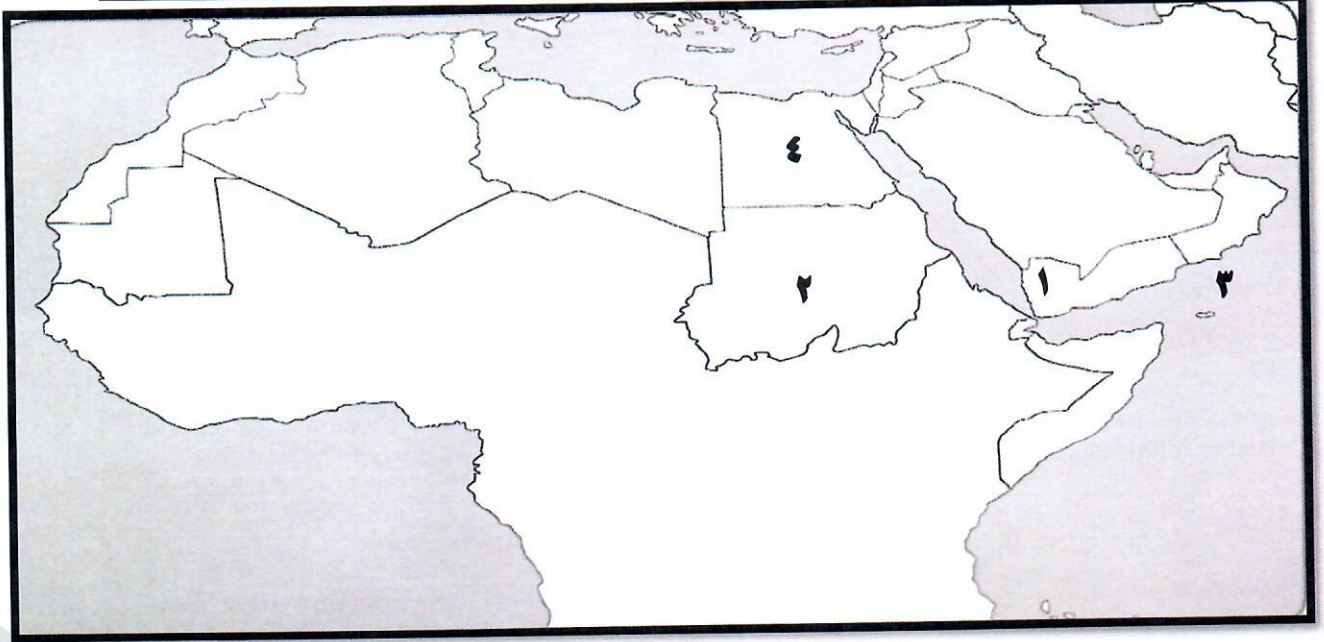
(أ) صنّف أنواع الصناعات التالية حسب مكانها الصحيح في الجدول أدناه:

(المنسوجات - الغاز - الخشب - النفط - الإنشائية - الفحم - الغذائية)

الصناعات التحويلية ص ١٤٢	الصناعات الاستخراجية ص ١٤١
الصناعات الإنشائية / الخشب / المنسوجات / الغذائية	النفط / الفحم / الغاز

موقع
المنهج الكويتية
almanahj.com/kw

(ب) لاحظ خريطة دول الوطن العربي ثم استعن بالأرقام التي عليها لإكمال العبارات التالية:



- المسطح المائي الذي يحمل على الخريطة الرقم (٣) اسمه بحر العرب . ص ١٣٣
- الدولة العربية الأولى في إنتاج البن يمثلها على الخريطة الرقم ١ ص ١١٤
- الدولة العربية التي تحتل المركز الأول في إنتاج القمح يمثلها على الخريطة الرقم ٤ ص ١١٤

السؤال الرابع: (مقالي) ويتكون من (أ - ب - ج) :

(أ) علل ما يلي (اذكر السبب) : (كل إجابة درجة / ٤ درجات - يكتفى بنقطتين)

- ١- تحتل الأغنام مكاناً مهماً ضمن الثروة الرعوية في الوطن العربي . ص ١١٨
- الأكثر انتشاراً في المراعي العربية
- لأهمية منتجاتها بالنسبة للسكان
- لأنها مصدر أساسي من مصادر الثروة القومية
- ٢- تدني وفرة المياه في الوطن العربي . ص ١٦٤
- النمو السريع للسكان الذي يشكل ضغطاً متزايداً على المياه المتوفرة لكل فرد .
- الشبكات المؤهلة لنقل المياه شبكات قديمة .
- ٥٠٪ من الموارد المائية في العالم العربي تأتي من خارج حدوده وتتحكم فيها دول المنبع في غياب تشريعات دولية تضمن حقوقنا .
- افتقار الدول العربية لإدارة المياه كما أنها لا تستخدم الأدوات الاقتصادية اللازمة لترشيد الاستخدام المتزايد من المياه .
- الطرق التقليدية في استغلال المياه في معظم مناطق العالم العربي مسؤولة عن تدني نسبة المياه (استخدام الري بالغمر والاستهلاك غير المسؤول في مجالات المياه) .

(ب) عدد (اثنين) لما يلي : (كل إجابة درجة / ٤ درجات - يكتفى بنقطتين فقط)

- ١- طرق النقل في الوطن العربي . ص ١٤٧-١٤٩
- الجوية - البرية .
- المائية (النقل النهري - البحري) .
- ٢- أسماء المعادن المهمة التي يمتلكها الوطن العربي . ١٣٢
- الرصاص - النحاس - الحديد
- الفوسفات - المنجنيز

(ج) لاحظ الصورة المقابلة ثم أجب عن الأسئلة التالية : (كل إجابة درجة / درجتان) ص ١٧٨



- ١- ما اسم المنظمة التي يمثلها الشعار المقابل؟ درجة
- جامعة الدول العربية
- ٢- ما اسم الدولة العربية التي انضمت إلى المنظمة في ٥ مايو ١٩٤٥ م؟ درجة
- اليمن

السؤال الخامس : (مقالي) ويتكون من (أ - ب - ج) :

(أ) لاحظ الجدول الإحصائي المقابل ثم أجب عن الأسئلة التالية : كل إجابة درجة / درجتان ص ١٢٨

جدول نسب إنتاج واحتياطي النفط

في الجناح الآسيوي والجناح الأفريقي في الوطن العربي

الجناح	إنتاج النفط	احتياطي النفط
الآسيوي	%٨٨	%٩٠
الأفريقي	%١٢	؟

١- كم تبلغ نسبة احتياطي النفط الخام في الجناح الأفريقي ؟

- ١٠%

٢- **ظل الجزء الصحيح** في الدائرة البيانية التالية الذي يمثل :

نسبة إنتاج النفط الخام في الجناح الآسيوي.



موقع
المناهج الكويتية
almanahj.com/kw

(ب) فرق بين كل مما يلي من حيث (التعريف) : كل إجابة درجة / ٤ درجات

النفط	الغاز الطبيعي
بقايا عضوية على هيئة نباتات وحيوانات دقيقة ترسبت في عصور قديمة وانظمرت تحت رواسب سميكة وتحولت بالضغط والحرارة إلى صورتها الحالية .	غاز مصاحب للنفط الخام أو يوجد منفردا تتم إسالته لاستخدامات عديدة .
الهجرة الداخلية ص ١٠٦	الهجرة الخارجية ص ١٠٦
هجرة من القرى إلى المدن .	هجرة من دولة إلى دولة أخرى .

(ج) اكتب اثنين عما يلي : كل إجابة درجة / ٤ درجات - يكتفى بنقطتين

١- مراحل عملية التصنيع (الصناعة) . ص ١٣٧

- مواد أولية - تحويل وتصنيع.

- توزيع .

٢- العقبات التي تواجه الإنتاج الزراعي في الوطن العربي . ص ١٦١

- عدم استغلال الأراضي القابلة للزراعة لندرة مياه الري أو تذبذب الأمطار أو قلة الأيدي العاملة .

- إتباع طرق الزراعة التقليدية في معظم أجزاء الوطن العربي / زحف الرمال (التصحر) وانجراف التربة / الرعي الجائر .

- تلوث التربة نتيجة للإسراف في استخدام المبيدات الحشرية وارتفاع نسبة الملوحة بالتربة .

السؤال السادس: (مقالي) ويتكون من (أ - ب - ج):

(أ) اقرأ الفقرة التالية ثم أجب عما يليها من أسئلة : كل إجابة درجة / ٣ درجات ص ١٦٢

" موقع الوطن العربي في المناطق الجافة وشبه الجافة يعرضه بشكل أساسي لمشكلة التصحر ، فأكثر الدول العربية تهديداً بالتصحر هي السودان والصومال وموريتانيا "



موقع
المنهج الكويتية
almanahj.com/kw

١- عرف ما تحته خط .

- التصحر: زحف رمال الصحراء علي المناطق الجافة وشبه الجافة.

٢- استخلص من الفقرة السابقة :

أسماء (اثنين) من الدول العربية الأكثر تهديداً بالتصحر .

- السودان .

- الصومال / موريتانيا .

(ب) قارن بين كل مما يلي حسب المطلوب في الجدول ادناه : كل إجابة درجة / ٤ درجات

أوجه المقارنة	منظمة الدول المصدرة للنفط / أوبك	منظمة الأقطار العربية المصدرة للنفط / أوابك
سنة التأسيس	١٩٦٠م	١٣٥ص
المقر الحالي (المدينة)	فيينا	الكويت

(ج) عرف ما يلي : (كل إجابة درجة / ٣ درجات) :

١- التجارة البينية : التبادل التجاري بين الدول العربية . ص ١٥٢

٢- الطاقة : قوى محركة للآلات وعنصر مهم للتقدم والتطور الاقتصادي في جميع المجالات . ص ١٢٥

٣- مقومات الصناعة : العوامل التي تساعد على تحويل المادة الخام إلى سلع استهلاكية . ص ١٣٩

انتهت الأسئلة ،،،