

تم تحميل هذا الملف من موقع المناهج الكويتية



منطقة الأحمدية التعليمية

الملف نموذج إجابة اختبار منطقة الأحمدية التعليمية

موقع المناهج ← المناهج الكويتية ← الصف الثامن ← اجتماعيات ← الفصل الثاني

روابط مواقع التواصل الاجتماعي بحسب الصف الثامن



روابط مواد الصف الثامن على تلغرام

[الرياضيات](#)

[اللغة الانجليزية](#)

[اللغة العربية](#)

[التربية الاسلامية](#)

المزيد من الملفات بحسب الصف الثامن والمادة اجتماعيات في الفصل الثاني

<a href="#">تلخيص</a>	1
<a href="#">امتحان دولة الكويت والعالم الاسلامي</a>	2
<a href="#">حل التقويم لمادة الاجتماعيات</a>	3
<a href="#">نموذج اجابة اختبار في مادة الاجتماعيات لنهاية الفترة الدراسية الثانية</a>	4
<a href="#">نموذج الاحابة لامتحان الاجتماعيات فرواتية</a>	5



وزارة التربية  
الإدارة العامة لمنطقة الأحمدى التعليمية

تم التحميل من شبكة ياكويت التعليمية



Telegram:  
ykuwait\_net\_home



# نموذج إجابة امتحان

(الفترة الدراسية الثانية)

مادة: الاجتماعيات

الصف: الثامن

العام الدراسي 2024/2023



وزارة التربية  
الإدارة العامة لمنطقة الأحمدية التعليمية  
التوجيه الفني للاجتماعيات

العام الدراسي: ٢٠٢٣ / ٢٠٢٤ م  
الزمن : ساعة وخمس وأربعون  
عدد الصفحات : ٥ صفحات

### نموذج الإجابة

امتحان نهاية الفترة الدراسية الثانية  
لمقرر دولة الكويت والعالم الإسلامي  
للصف الثامن متوسط

تم التحميل من شبكة ياكويت التعليمية



Telegram:  
ykuwait\_net\_home

أجب عن جميع الاسئلة

السؤال الأول موضوعي يتكون من ( أ - ب - ج ) : ( لكل نقطة درجة = ١٥ درجة )

( أ ) ظلل الخيار الصحيح من بين الخيارات التي تلي كل عبارة :

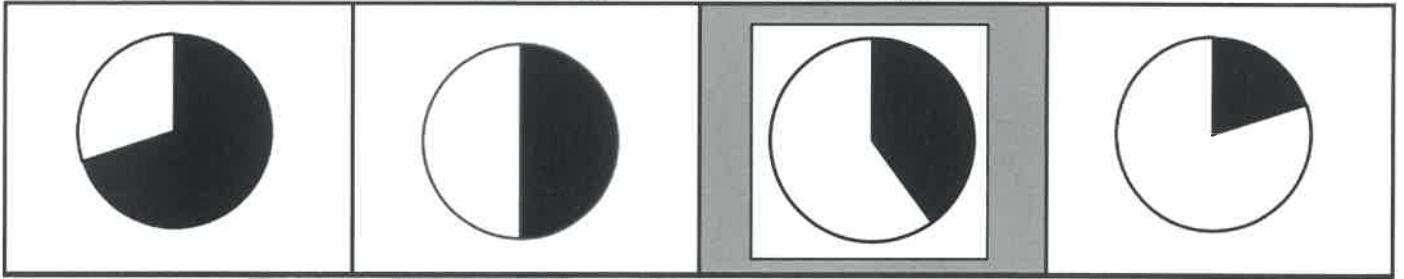
١- الدولة التي استضافت المؤتمرات الثلاثة للمانحين لدعم الوضع الإنساني في سوريا : ص ١٦٠

الكويت	تركيا	المملكة العربية السعودية	مصر
--------	-------	--------------------------	-----

٢- العام الذي تم فيه إنشاء شرطة البيئة في دولة الكويت : ص ٨٢

٢٠١٦م	٢٠١٥م	٢٠١٤م	٢٠١٣م
-------	-------	-------	-------

٣- نسبة التلوث الهوائي في باكستان الناتج من عوادم السيارات يمثلها الجزء المظلل من الدائرة البيانية : ص ٨٣



٤- المنطقة التي أنشأت فيها أول محطة كهرباء تعمل بالطاقة الشمسية في دولة الكويت : ص ٩٣

الأحمدي	الجهراء	السالمي	الشقاي
---------	---------	---------	--------

٥- الصورة التي أمامك لعاهل سعودي دعا لإنشاء تجمع يضم الدول الإسلامية :



ص ١٣٧

عبدالله بن عبدالعزيز آل سعود

فهد بن عبدالعزيز آل سعود

فيصل بن عبدالعزيز آل سعود

خالد بن عبدالعزيز آل سعود



**تابع السؤال الأول موضوعي :**

**(ب) صنف الأحداث التالية ما بين القوسين حسب المكان المناسب لها في الجدول التالي :**

(الهجوم على مركز الصامته - اتفاقية الحماية - مؤتمر العقير - ادعاءات عبدالكريم قاسم)

١٨٩٩م	١٩٢٢م	١٩٦١م	١٩٧٣م
اتفاقية الحماية	مؤتمر العقير	ادعاءات عبدالكريم قاسم	الهجوم على مركز الصامته
ص ١٠٦	ص ١٠٦	ص ١٠٣	ص ١٠٣



**(ج) أكمل المخططات السهمية التالية :**



السؤال الثاني موضوعي يتكون من ( أ - ب - ج ) : ( لكل نقطة درجة = ١٥ درجة )

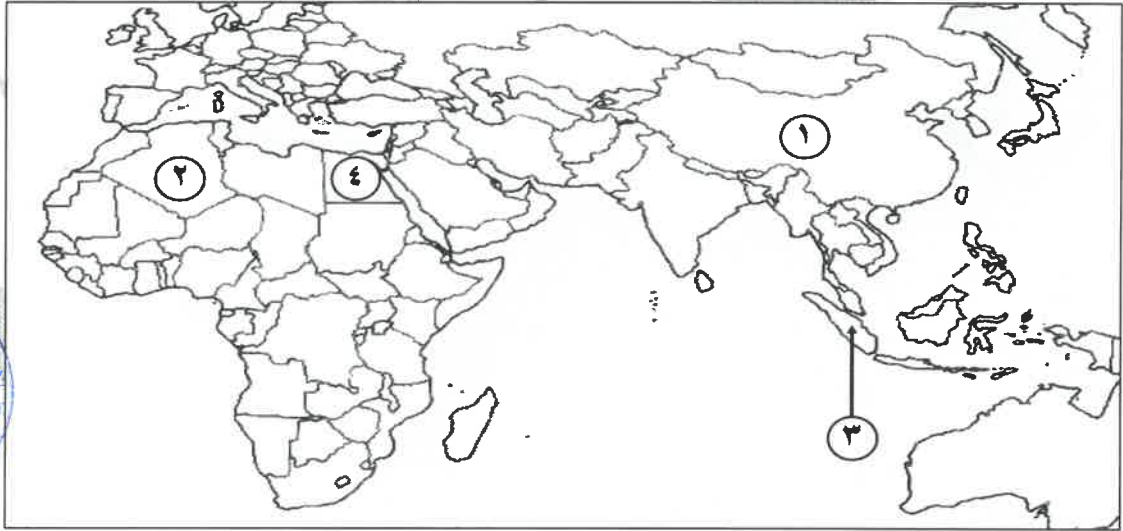
( أ ) صح ما تحته خط في العبارات التالية وذلك بكتابة التصويب في المكان المناسب :

م	العبرة	التصويب
١	الحرب التي شنتها قوات التحالف في ١٧ يناير ١٩٩١م لتحرير الكويت اسمها <u>صقور الجو</u>	عاصفة الصحراء ص ١٢٢
٢	نسبه السكان الذين يعيشون تحت مستوي خط الفقر في العالم الإسلامي <u>٤٠%</u>	ص ٩٧ ٣٧%
٣	عاصمة تعتبر نموذجاً للتلوث الضوضائي في العالم الإسلامي <u>بغداد</u> .	ص ٨٧ القاهرة
٤	الغاز الأول المسؤول عن الاحتباس الحراري في العالم <u>النيتروجين</u> .	ص ٩٠ ثاني أكسيد الكربون
٥	دولة أفريقية عانت من شدة التلوث المائي عام ٢٠١٧م <u>النيجر</u> .	ص ٨٥ موريتانيا
٦	بدأت القضية الفلسطينية عقب الحرب العالمية <u>الثانية</u> .	ص ١٠٧ الأولى

( ب ) أكمل العبارات التالية بما يناسبها فيما درست :

- ١- الشيخ الذي تم اختياره كقائد للعمل الإنساني اسمه صباح الأحمد ص ١٦١
- ٢- المدينة التي يقع فيها مقر وكالة الأنباء الإسلامية الدولية ( إينا ) اسمها جدة ص ١٤٥
- ٣- بطلة كويتية ساهمت في إطفاء حرائق النفط الناجمة عن الغزو العراقي الغاشم اسمها سارة أكبر ص ١١٩
- ٤- قوات قامت بإبادة المسلمين وتعذيبهم في حرب البوسنة اسمها القوات الصربية ص ١١٦
- ٥- دولة خليجية سجلت أعلى معدل في إمام البالغين في القراءة والكتابة اسمها قطر ص ١٢٨
- ٦- زحف رمال الصحراء على المناطق الجافة والشبه جافة يسمى التصحّر ص ٨٨

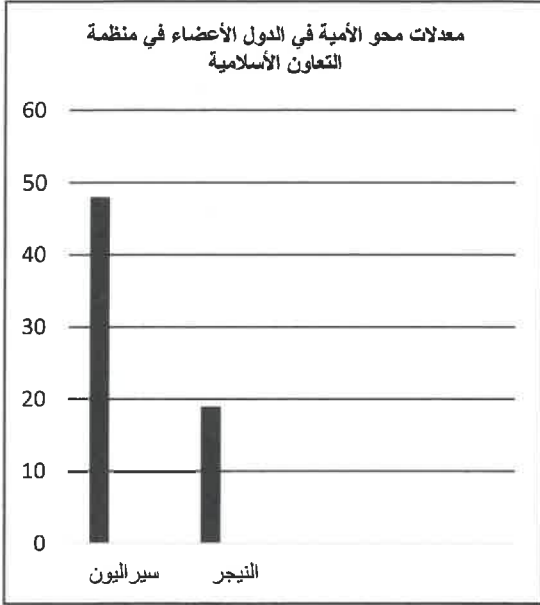
( ج ) أمامك خريطة العالم الإسلامي - أكتب الرقم الدال على العبارات التي تليها :



- دولة حققت التكامل الاقتصادي في مجال الزراعة يمثلها على الخريطة الرقم ( ٤ ) ص ١٠١
- دولة تمتلك الأيدي العاملة اللازمة لتحقيق التكامل الاقتصادي يمثلها على الخريطة الرقم ( ٣ ) ص ١٠١
- دولة تعاني فيها الأقلية المسلمة من محاولات طمس هويتهم الثقافية يمثلها على الخريطة الرقم ( ١ ) ص ١١٣

الدولة	المجموع
كازاخستان	٩٩,٩٧
سيراليون	٤٨,٠٠٩
اليمن	٧٠,٠٧
النيجر	١٩,١٣

مجموع معدلات محو الأمية في الدول الأعضاء في منظمة التعاون الإسلامي لعام ٢٠١٥ م



## السؤال الثالث مقالتي يتكون من ( أ - ب - ج ) :

( أ ) لاحظ الجدول التالي ثم نفذ ما هو مطلوب منك :

١ فرق بين كل من: ص ١٢٨

الأمية في البلدان المتقدمة	الأمية في البلدان النامية
- الشخص الذي لم يصل إلى المستوى التعليمي الذي يجعله يفهم التعليمات الكتابية في موضوعات التقنية في عمله . درجة واحدة	- الإنسان الذي بلغ عشرة من عمره ولم يتعلم مبادئ القراءة والكتابة والحساب بلغة ما . درجة واحدة

٢- حول مجموع معدلات محو الأمية لكل من الدول

(سيراليون - النيجر) إلى أعمدة بيانية  
(نصف درجة للمحور الأفقي +  
نصف درجة للمحور الرأسي +  
درجة لكل عمود = 3 درجات)

( ب ) علل لما يلي : (أربع درجات لكل نقطة درجة)

١- انتشار الفقر في الدول الإسلامية. ص ٩٨ (يكتفى بنقطتين)

- عدم توفر فرص العمل.
- ضعف اقتصاد الدولة. / - قلة التبرعات والصدقات في المجتمع.
- انتشار البطالة. / - تضخم أسعار السلع والخدمات.

٢- تعرضت دولة الكويت لتلوث بيئي خطير عام ١٩٩١ م. ص ٨٥ (يكتفى بنقطتين)

- عندما قامت القوات العراقية وبشكل متعمد بسكب كميات كبيرة من النفط الكويتي بمياه الخليج العربي مكونة بقعه نفطية كبيرة.
- تكون سحب دخانية كثيفة ناتجة عن احتراق آبار النفط الكويتية لمدة سبعة أشهر أثناء وبعد حرب التحرير عام ١٩٩١ م.
- تلوث مياه الخليج العربي عن طريق تساقط الأمطار الحمضية.

تم التحميل من شبكة باكويث التعليمية



Telegram:  
ykuwait\_net\_home

( ج ) عدد لكل مما يلي : (ستة درجات لكل نقطة درجة)

١- نتائج التلوث الضوضائي. ص ٨٧

- الضوضاء الشديدة تؤدي إلى ضرر خطير في الجهاز السمعي.
- التوتر العصبي لدى الإنسان.

٢- الهدف من إنشاء الصندوق الكويتي للتنمية الاقتصادية العربية. ص ١٥٩ (يكتفى بنقطتين)

- تقديم القروض الميسرة للدول المحتاجة.

- تقديم المنح على سبيل المثال المعونات الفنية. / - الإسهام في برامج التنمية.

٣- نتائج الحرب الأهلية في الصومال عام ١٩٩١ م. ص ١١٧ (يكتفى بنقطتين)

- موجات من الجفاف
- انتشاره المجاعة
- المرض وانتشار وباء الكوليرا .
- تشرّد الآلاف من السكان.



**السؤال الرابع : مقالتي يتكون من ( أ - ب - ج ) :**

( اربع درجات لكل نقطة درجة )

**( أ ) لاحظ الصور ثم أجب عن ما يليها من أسئلة :**



اسم المشكلة	الانفجار السكاني	اسم المشكلة	إدمان المخدرات
السبب ٩٥ ص	- الزيادة الكبيرة في أعداد السكان نتيجة إلى الزيادة الطبيعية والغير طبيعية.	السبب ١٢٦ ص (يكتفى بنقطة)	- ضعف الوازع الديني وانحدار القيم الأخلاقية. - ضعف الرقابة من الأسرة على الفرد - رفاق السوء. - التقليد الأعمى واستيراد قيم جديدة غريبة على مجتمعنا تتنافى مع مبادئ ديننا الحنيف - انتشار التدخين بين المتعلمين في المدارس. - قضاء أوقات الفراغ في أمور تافهة لا تعود على الشباب بالنفع.

**( ب ) فرّق بين كل مما يلي : ( أربعة درجات لكل نقطة درجة )**

التدوير	النفايات
إعادة استخدام المخلفات لإنتاج منتجات أخرى أقل جودة من المنتج الأصلي. ص ٩١	هي أي مواد زائدة وغير مرغوبة من مخلفات البيئة أو الفضلات. ص ٩١
العولمة	التكامل الاقتصادي
نظام عالمي جديد يقوم على الأبداع العلمي والتطور التقني والتكنولوجي وثورة الاتصالات بحيث تزول الحدود الثقافية بين الشعوب بالعالم ويصبح العالم كقرية واحدة. ص ٩٩	عملية اقتصادية واجتماعية يتم بموجبها إزالة جميع الحواجز بين الوحدات المختلفة وتؤدي إلى تحقيق تكافؤ الفرص أمام جميع عناصر الإنتاج في دول التكامل. ص ١٠٠

**( ج ) أكتب في ما يلي : ( سبعة درجات لكل نقطة درجة )**

١- الآثار السلبية للتلوث المائي. ص ٨٦ (يكتفى بنقطتين)

- هلاك الكائنات البحرية الحيوانية والنباتية. - فقدان السواحل لقيمتها الاقتصادية والسياحية.  
- التأثير على صحة الإنسان لاعتماده على الغذاء البحري.

٢- التحديات التي تواجه الأقليات الإسلامية حول العالم. ص ١١٤ (يكتفى بثلاث نقاط)

- مواجهة العديد من المسلمين تميزاً في العمل منذ أحداث ١١ سبتمبر ٢٠٠١ م.  
- انخفاض المستوى التعليمي نتيجة لسوء الأحوال المادية والاجتماعية.

- سوء الظروف الاجتماعية والمادية التي تعيش فيها معظم الجاليات المسلمة نتيجة تدني الأجور أو عدم وجود فرص عمل مستقرة. /- الحفاظ على الهوية الإسلامية في ظل عادات وتقاليد المجتمعات الغربية ومناهجها التعليمية.

- فرض بعض الدول بشكل تدريجي المزيد من القيود على المسلمين في حرية ممارستهم لشعائرهم الدينية الإسلامية.

٣- أهم قرارات المؤتمر الإسلامي الخامس. ص ١٤٣ (يكتفى بنقطتين)

- دعم القضية الفلسطينية. /- الحرص التام على استقلال لبنان ووحدة أراضيه ورفض الاحتلال الإسرائيلي للجزء الجنوبي منه. /- ضرورة الوقف الفوري لكل عمليات الحربية بين الجمهورية العراقية وجمهورية إيران الإسلامية.  
- الموافقة على مشروع النظام الأساسي لمحكمة العدل الإسلامية الدولية.