

تم تحميل هذا الملف من موقع المناهج الكويتية



منطقة حولي التعليمية

الملف نموذج إجابة منطقة حولي

[موقع المناهج](#) ← [المناهج الكويتية](#) ← [الصف السادس](#) ← [اجتماعيات](#) ← [الفصل الأول](#)

روابط مواقع التواصل الاجتماعي بحسب الصف السادس



روابط مواد الصف السادس على تلغرام

[الرياضيات](#)

[اللغة الانجليزية](#)

[اللغة العربية](#)

[التربية الاسلامية](#)

المزيد من الملفات بحسب الصف السادس والمادة اجتماعيات في الفصل الأول

<a href="#">نموذج اجابة اختبار لمنطقة مبارك الكبير عام 2016</a>	1
<a href="#">اوراق عمل مهمة في مادة الاجتماعيات</a>	2
<a href="#">بنك اسئلة ممتاز في مادة الاجتماعيات</a>	3
<a href="#">بنك معلومات مهم في مادة الاجتماعيات</a>	4
<a href="#">تلخيص اجتماعيات بشكل مبسط</a>	5



# امتحان نهاية الفترة الدراسية الأولى

المناهج الكويتية  
almanahj.com/kw

العام الدراسي ٢٠٢٢/٢٠٢٣

## الصف السادس

تم التحميل من شبكة ياكويت التعليمية نموذج إجابة امتحان مادة



Telegram:  
ykuwait\_net\_home

## الاجتماعيات

الاربعاء ٢٠٢٢/١٢/٢١





وزارة التربية  
الإدارة العامة لمنطقة حولي التعليمية  
التوجيه الفني للاجتماعيات

اجابة امتحان نهاية الفترة الدراسية الأولى  
مقرر / الكويت ودول الخليج العربية  
الصف السادس المتوسط

العام الدراسي : ٢٠٢٢ / ٢٠٢٣ م  
الزمن : ساعة ٤٥ دقيقة  
عدد الصفحات : ٥



### اجب عن جميع الأسئلة التالية

السؤال الأول (موضوعي) : ويتكون من ( أ - ب - ج - د - هـ - و ) :  
أ) ضع خطأً تحت الخيار الصحيح من بين الخيارات التي تلي كل عبارة مما يلي: ( ٦ درجات )

١- القارة التي تقع فيها منطقة الخليج العربية : ص ١٩

أمريكا	أوربا	أفريقيا	آسيا
--------	-------	---------	------

٢- عُرفَ الخليج العربي قديماً بالبحر : ص ٤٧

الأحمر	المتوسط	الأدنى	الأسود
--------	---------	--------	--------



٣- الجزيرة الكويتية التي وُجد فيها الآثار الموضحة بالصورة : ص ٤٧

بوبيان	فيلكا
وربة	عوهة

٤- ظهر الاسلام في فترة القرن الميلادي : ص ٥٣

الرابع	الخامس	السادس	السابع
--------	--------	--------	--------

٥- أول دولة استعمارية أوروبية وصلت الخليج العربي واحتلت أجزاء منه : ص ٦٠

بريطانيا	فرنسا	البرتغال	هولندا
----------	-------	----------	--------

٦- المقر الدائم لمنظمة مجلس التعاون لدول الخليج العربية مدينة : ص ٧٠

الرياض	المنامة	الدوحة	الكويت
--------	---------	--------	--------

ب) صوب ما تحت خط في العبارات التالية بكتابة الاجابة الصحيحة : ( ٦ درجات )

التصويب	العبرة
صحراوي قاري	١- يتصف مناخ منطقة الخليج العربية بأنه معتدل . ص ٢٥
المستأنسة	٢- يصنف الإبل ضمن الحيوانات البرية الغير مستأنسة . ص ٢٦
مُعَمَّر	٣- نباتات متوفرة طول العام تتحمل الجفاف وارتفاع درجة الحرارة تسمى حولي ص ٢٦
قادة الدول الأعضاء	٤- يتكون المجلس الأعلى لمجلس التعاون لدول الخليج العربية من وزراء الخارجية ص ٧٠
جابر الأحمد الصباح رحمه الله	٥- القمة السابعة والعشرون بالرياض سميت بقمة الشيخ نواف الأحمد الصباح ص ٧٤
٢٠٠٨ م	٦- تم انطلاق السوق الخليجي المشترك في يناير عام ٢٠٠٠ م ص ٧٧



تابع السؤال الأول :

( ج ) صنف ما يلي حسب ما يناسبها في الجدول التالي : ( ٨ درجات )

١- أعضاء طاقم سفينة الغوص قديما حسب العمل الذي يقوم فيه : ص ٣٢

( المجدمي - الغواص - السيب - النوخذة )

الأعمال	ربان السفينة	رئيس البحرية	يفوص في أعماق البحر بحثاً عن اللؤلؤ	يسحب الغاصة من أعماق البحر
المهنة	النوخذة	المجدمي	الغواص	السيب

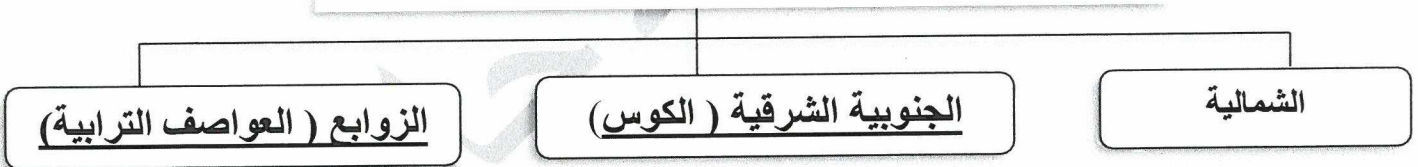
٢- الهجرات التالية حسب المنطقة التي استقروا فيها : ص ٥٧

( المعاضيد - آل الصباح - آل خليفة - القواسم )

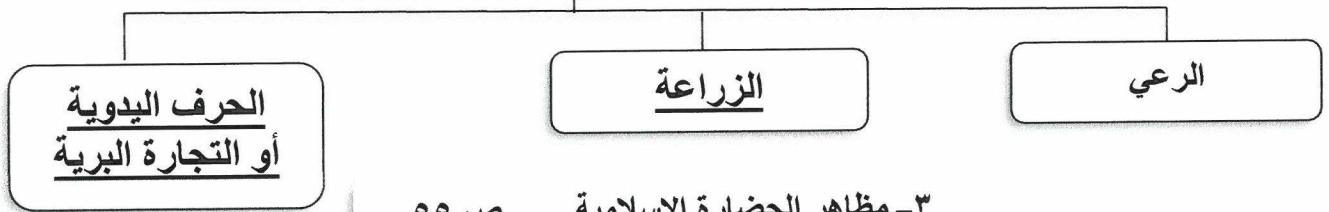
منطقة الاستقرار	الكويت	البحرين	قطر	رأس الخيمة
الهجرة	آل الصباح	آل خليفة	المعاضيد	القواسم

( د ) أكمل المخططات السهمية التالية : ( ٦ درجات )

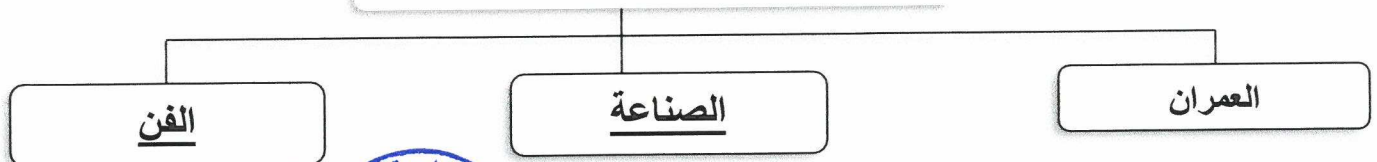
١- أنواع الرياح التي تهب على منطقة الخليج العربية ص ٢٥



٢- الأنشطة البرية التي مارسها سكان الخليج العربية قديماً ص ٢٨



٣- مظاهر الحضارة الإسلامية ص ٥٥

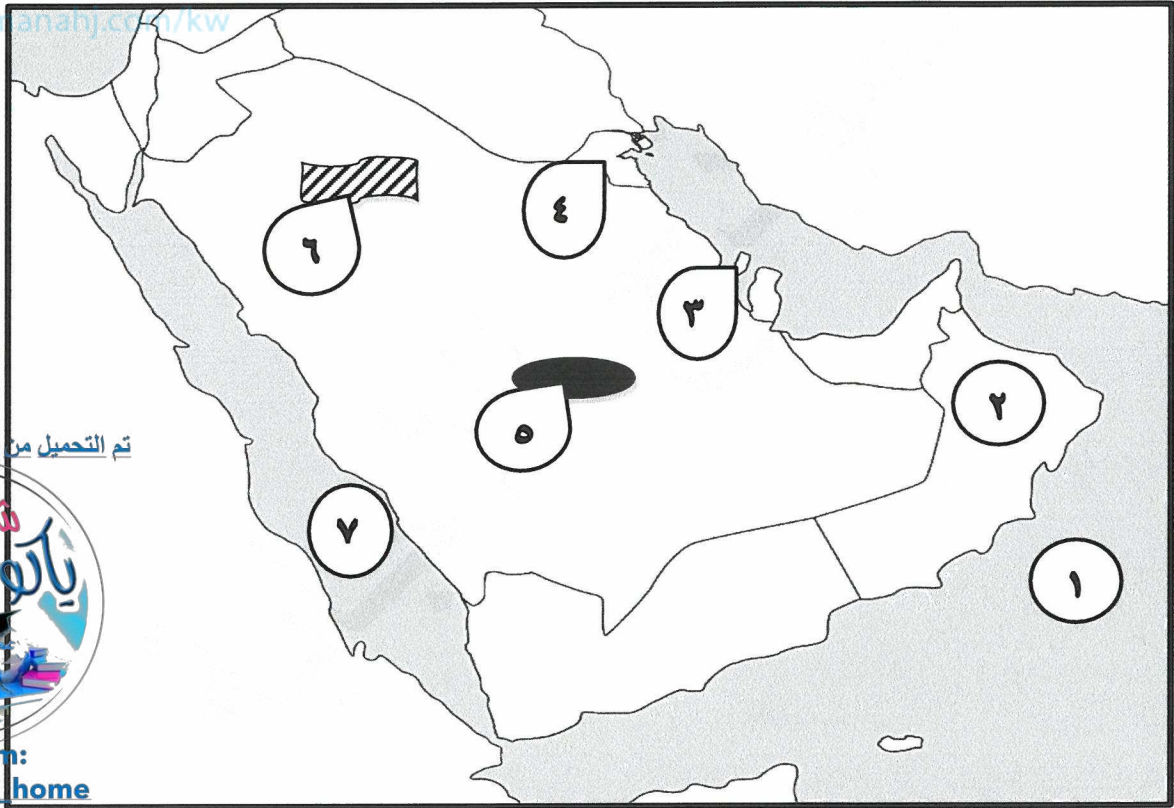


تابع السؤال الأول :

( هـ ) اكتب المفاهيم أو المصطلحات الدالة على العبارات التالية : ( ٥ درجات )

م	المفهوم	التعريف
١-	الخليج العربي	ذراع مائي لبحر العرب يمتد من خليج عُمان جنوباً حتى شط العرب شمالاً. ص ١٩
٢-	الموقع النسبي	الموقع بالنسبة للماء واليابس . ص ٢٠
٣-	التضاريس	مظاهر وأشكال سطح الأرض مثل : الجبال - الهضاب - السهول ... وغيرها . ص ٢٣
٤-	الواحة	منطقة تقع في الصحراء ، فيها مياه عذبة صالحة للزراعة . ص ٢٩
٥-	الاستقلال	تحرر الدولة من المستعمر لأجنبي وقياها بمسؤولية إدارة شؤونها الداخلية والخارجية ص ٦٣

( و ) أمامك خريطة دول الخليج العربية الصماء اكتب الأرقام الدالة على العبارات التي تليها : ( ٥ درجات )



تم التحميل من شبكة ياكويت التعليمية



Telegram: ykuwait\_net\_home


- ١- موقع دولة الكويت يمثلها على الخريطة الرقم ٤ ص ١٩
- ٢- هضبة نجد يمثلها على الخريطة الشكل الذي يحمل الرقم ٥ ص ٢٣
- ٣- بحر العرب يمثلها على الخريطة الرقم ١ ص ٢٣
- ٤- حضارة (مجان) يمثلها على الخريطة الرقم ٢ ص ٤٩
- ٥- حضارة (دلمون) يمثلها على الخريطة الرقم ٣ ص ٤٩





**السؤال الثاني ( مقال ) : ويتكون من ( أ - ب - ج ) :**

**( أ ) لاحظ الصورة المقابلة ثم اجب عن الأسئلة التي تليها : ص ٦٣ + ص ٦٤ ( ٤ درجات )**  
١- اكتب عنواناً مناسباً للصورة .



حاكم الكويت الشيخ عبدالله السالم يوقع على معاهدة الاستقلال  
( وكل ما يراه المصحح مناسباً )

٢- سجل تاريخ الحدث التي تشير إليه الصورة المقابلة ( العام الميلادي ) .  
١٩٦١ م

٣- من هو الطرف الأجنبي الذي وقع معاهدة الاستقلال مع الكويت ؟  
بريطانيا

٤- عرف الاستقلال .

تحرر الدولة من المستعمر الأجنبي وقيامها بمسؤولية إدارة شؤونها الداخلية والخارجية.

**( ب ) علل لما يلي : ( ٤ درجات ) ( يكتفى بنقطتين لكل إجابة )**

١- كانت حياة السكان في البيئة الصحراوية لدول الخليج العربية قاسية وخشنة . ص ٢٧

- فقر البيئة - قلة الموارد فيها خاصة المياه

٢- سفينة البغلة هي أفضل أنواع السفن المستعملة في رحلة السفر . ص ٣٤

- لمتانتها - قدرتها على نقل الحمولة الكبيرة - قلة تعرضها للأخطار البحرية

**( ج ) قارن بين كل من : ( ٤ درجات )**

دوائر العرض ص ٢١	خطوط الطول ص ٢١	أوجه المقارنة
خطوط وهمية أي غير موجودة على سطح الأرض ترسم على الكرة الأرضية ، وتقسم الكرة الأرضية إلى قسمين شمالي وجنوبي.	خطوط وهمية أي غير موجودة على سطح الأرض ترسم على الكرة الأرضية ، وتقسم الكرة الأرضية إلى قسمين شرقي وغربي .	التعريف
١٨٠ دائرة	٣٦٠ خطاً	العدد

**السؤال الثالث (مقالى) : ويتكون من ( أ - ب - ج ) :**

**( أ ) أقرأ الفقرة التالية ثم أجب عما يليها من أسئلة : ص ٧٠ ( ٥ درجات )**

أعلن قيام مجلس التعاون لدول الخليج العربية في تاريخ ٢٥ / مايو / ١٩٨١ م في مدينة أبوظبي في دولة الإمارات العربية المتحدة . وضم كل من دولة الإمارات العربية المتحدة ومملكة البحرين والمملكة العربية السعودية وسلطنة عُمان ودولة قطر ودولة الكويت ، وقد جاء إنشاؤه لما بين الدول الأعضاء من علاقات خاصة وصفات مشتركة وأنظمة متشابهة ، أساسها وحدة التراث والانتماء والدين والمصالح المشتركة.

• **استخرج من الفقرة السابقة ما يلي :-**

- ١- تاريخ قيام مجلس التعاون لدول الخليج العربية .  
٢٥ / مايو / ١٩٨١ م
- ٢- عدد أعضاء مجلس التعاون لدول الخليج العربية .  
٦ دول

٣- ( الصفات ) المشتركة بين دول مجلس التعاون لدول الخليج العربية . ( يكتفى بثلاث نقاط )  
- وحدة التراث - الانتماء - الدين - المصالح المشتركة

**( ب ) عرف المفاهيم والمصطلحات التالية : ( ٣ درجات )**

م	المفهوم	التعريف
١	المناخ	حالة الجو في مكان ما خلال فترات زمنية طويلة . ص ٢٥
٢	القلاب	صانع السفينة . ص ٣٣
٣	الاستعمار	أن تسيطر دولة قوية على دولة ضعيفة بهدف استغلال مواردها ( خيراتها ) . ص ٦١

**( ج ) عدد ما يلي : ( ٤ درجات ) ( يكتفى بنقطتين لكل إجابة )**

- ١- العوامل المؤثرة في نشأة الحضارات بمنطقة الخليج العربية قديماً . ص ٥١ + ٥٢  
- ( الموقع المتميز ) موقع الخليج العربي المتميز .  
- ( المياه ) توفر آبار مياه الشرب الناتجة عن سقوط الأمطار وحفر الآبار .  
- ( البيئة الطبيعية ) ملائمة بيئتها الطبيعية للاستقرار وقيام الحضارات .

٢- أهداف مجلس التعاون لدول الخليج العربية . ص ٧٦

- تحقيق التعاون بين الدول الأعضاء في جميع المجالات .
- تحقيق الترابط والصلات بين دول مجلس التعاون .
- العمل على تقدم دول مجلس التعاون في المجال العلمي .

**انتهت الأجابه**