

تم تحميل هذا الملف من موقع المناهج الكويتية



منطقة مبارك التعليمية

الملف نموذج إجابة منطقة مبارك التعليمية

[موقع المناهج](#) ← [المناهج الكويتية](#) ← [الصف الثامن](#) ← [اجتماعيات](#) ← [الفصل الأول](#)

روابط مواقع التواصل الاجتماعي بحسب الصف الثامن



روابط مواد الصف الثامن على تلغرام

[الرياضيات](#)

[اللغة الانجليزية](#)

[اللغة العربية](#)

[التربية الاسلامية](#)

المزيد من الملفات بحسب الصف الثامن والمادة اجتماعيات في الفصل الأول

مسودة كتاب الطالب في مادة الاجتماعيات لعام 2018	1
خطة توزيع منهج العام الجديد في مادة الاجتماعيات	2
حل الوحدة الاولى في مادة الاجتماعيات	3
ورقة عمل في مادة الاجتماعيات	4
ورقة عمل في مادة الاجتماعيات	5



تم التحميل من شبكة ياكويت التعليمية



Telegram:
ykuwait_net_home

موقع
المنهج الكويتية
almanahj.com/kw

معرض الاجابات

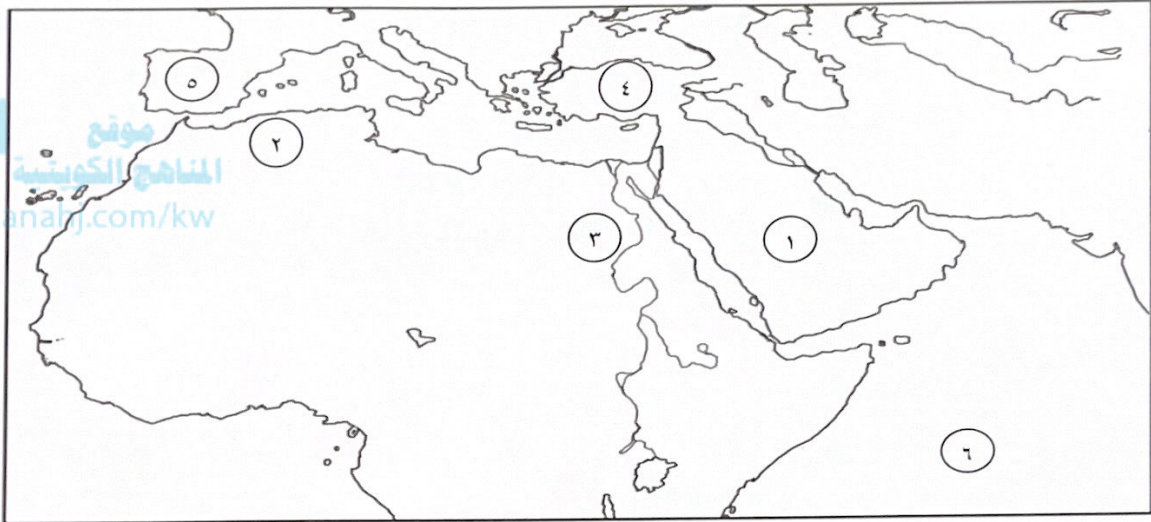
الإدارة العامة لمنطقة مبارك الكبير التعليمية



امتحان لمقرر الفترة الدراسية الأولى للصف الثامن لمادة الاجتماعيات
(دولة الكويت والعالم الاسلامي)

السؤال الأول (موضوعي) يتكون من (أ - ب) :

(أ) أمامك خريطة العالم الاسلامي أكتب الأرقام الدالة على العبارات التالية :



- ١- سهول نهر النيل يمثلها على الخريطة الرقم (.....٣.....) ص ٦٣
- ٢- جبال أطلس يمثلها على الخريطة الرقم (.....٢.....) ص ٥٤
- ٣- هضبة نجد يمثلها على الخريطة الرقم (.....١.....) ص ٥٦
- ٤- المحيط الهندي يمثله على الخريطة الرقم (.....٦.....) ص ٥٩/٥٦
- ٥- بلاد الاندلس يمثلها على الخريطة الرقم (.....٥.....) ص ٤١

(ب) أكمل العبارات التالية بما يناسبها:

- ١- أول حاكم بعد الرسول صلى الله عليه وسلم اسمه أبو بكر الصديق..... ص ٢٥
- ٢- حوض أو منخفض طبيعي على سطح الأرض يسمى الوادي..... ص ٥٣
- ٣- العالم المسلم الذي ألف كتاب الحيوان اسمه الجاحظ..... ص ٤٠
- ٤- أول القبليتين في الإسلام مسجد يسمى الأقصى المبارك..... ص ٣٣
- ٥- العام الذي لقب فيه الشيخ صباح الأحمد بقائد العمل الإنساني..... ٢٠١٤ م..... ص ٢٤



تم التحميل من شبكة ياكويت التعليمية



Telegram:
ykuwait_net_home

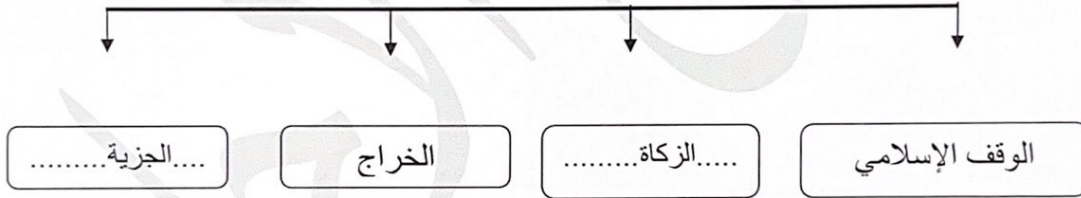
السؤال الثاني (موضوعي) يتكون من (أ - ب) :

(أ) صحح ما تحته خط في العبارات التالية :

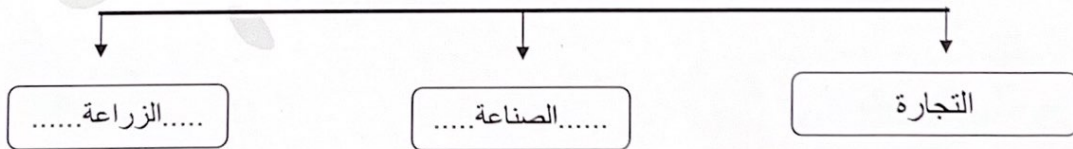
م	العبرة	التصويب
١	الدولة الإسلامية الوحيدة التي تقع في قارة أمريكا الجنوبية هي <u>المالديف</u>سورينام.....ص٥١
٢	ال خليفة الثالث للمسلمين اسمه <u>عمر بن الخطاب</u>عثمان بن عفان.....ص٢٦
٣	قامت الدولة الإسلامية في المدينة المنورة في القرن <u>السابع الميلادي</u>الثامن الميلادي.....ص١٧
٤	اجتمع المسلمون لاختيار أول حاكم بعد وفاة الرسول ﷺ في سقيفة <u>بني النجار</u> بني ساعدة.....ص٢٥
٥	مجريط هو الاسم السابق لمدينة <u>برشلونة</u> مدريد.....ص٤٣

(ب) أكمل المخططات السهمية التالية :

١- موارد بيت مال المسلمين ص٢٨-٢٩



٢- المظاهر الاقتصادية في الحضارة الإسلامية ص٢٦-٢٨



السؤال الثالث (موضوعي) يتكون من (أ - ب) :

(أ) صنف الجوامع أو المساجد حسب مكانها الصحيح في الجدول الذي يليها:

- جامعة الزيتونة - الجامع الأزهر - مسجد السلطان أحمد - مسجد عمر بن الخطاب - المسجد الأموي

ص ٣٣

المدينة	دمشق	دومة الجندل	تونس	القاهرة	إسطنبول
الجامع أو المسجد	المسجد الأموي	مسجد عمر بن الخطاب	جامعه الزيتونة	الجامع الأزهر	مسجد السلطان أحمد

(ب) اختر من المجموعة (أ) ما يناسبها للمجموعة (ب) بوضع الرقم الصحيح في المكان المناسب: ص ٣٩-٤٤

م	المجموعة (أ)	الرقم المناسب	المجموعة (ب)
	أسم العالم		أسم الكتاب
١	الكندي	٥	الصيدلة في الطب ص ١٩
٢	الإدريسي	-----	اليخلاء
٣	الخوارزمي	١	الهندسة ص ٤٢
٤	أبو بكر الرازي	٢	نزهة المشتاق في اختراق الافاق ص ٤٢
٥	البيروني	٤	الحاوي في الطب ص ٤٠
		٣	الجبر والمقابلة ص ٣٩



السؤال الرابع (مقال) يتكون من (أ - ب - ج) :

ص ١٨

(أ) اقرأ الفقرة التالية ثم أجب عما يليها من أسئلة:

لقد استوعبت وتقبلت الحضارة الإسلامية شعوباً عديدة على مدار تاريخها من العرب والفرس والترك والأفارقة والآسيويين والهنود والأوروبيين وغيرهم باحترام عاداتهم وتقاليدهم وخصوصياتهم، بل استفادت منها، مما كان له الأثر الكبير على جوانب عده من الحياة في الدولة الإسلامية وبالذات العلمية منها وتميزت الحضارة الإسلامية بخصائص عديدة كالعالمية و الشمولية.

١- عرف ما تحته خط:

- الحضارة: كل ما يطرأ على المجتمع من تقدم وتطور ورقي سواء في الجانب المادي أو الجانب الروحي.

(يكتفى بثلاث نقاط) ص ٢٢-٢٣

٢- اذكر خصائص الحضارة الإسلامية.

- حضارة تسامح.
- حضارة إيمان وعمل.
- حضارة عالمية.
- حضارة إنسانية.
- حضارة شمولية.

(ب) عدد لكل مما يلي:

(يكتفى بثلاث نقاط) ص ٢٦

١- جهود المسلمين في الزراعة.

- شق القنوات المائية والترع.
- إقامة السدود.
- تنظيم وسائل الري.

(يكتفى بثلاث نقاط)

٢- مميزات المظاهر العمرانية في الحضارة الإسلامية. ص ٣٠

- الأسوار.
- المآذن.
- القباب.
- المناير.
- الزخارف.

(ج) علل لما يلي :

(يكتفى بثلاث نقاط) ص ٥٥

١- قلة عدد السكان في المناطق الجبلية في دول العالم الاسلامي.

- انخفاض الضغط الجوي.
- صعوبة التنقل.
- شدة انحدارها.
- قلة وجود الأوكسجين.

(يكتفى بنقطتين) ص ٦٣

٢- تنوع المناخ في دول العالم الاسلامي.

- امتداد دول العالم الإسلامي على مساحة شاسعة.
- الإطلالة على عدة مسطحات مائية في معظم أجزائه.
- الموقع بالنسبة لدوائر العرض.
- التنوع في التضاريس من جبال و هضاب و سهول ووديان.

السؤال الخامس (مقال) يتكون من (أ - ب - ج) :

(أ) عرف المفاهيم أو المصطلحات التالية:

- ١- فسيفساء: مجموعة من مكعبات الزجاج الملون والشفاف وقطع من الحجر الأبيض والأسود، وكذلك القطع الخزفية تثبت فوق طبقة من الجص أو الأسمنت بشكل منظم لتعطي منظرا جميلا متناسقا في اللون والشكل . ص ٣٠
- ٢ - هضبة : أرض مرتفعة سطحها مستو وتمتد لمساحة واسعة. ص ٥٣
- ٣ - أهل الذمة: هم النصارى واليهود الذين ظلوا على دينهم مع دفع الجزية. ص ٣٦
- ٤ - احتياطي النفط: هو كمية النفط المخزونة في باطن الأرض ولم تستخرج بعد . ص ٦٨
- ٥ - غلات نقدية: المحاصيل التي تزرع من أجل التصدير مثل القطن والجوت والمطاط الطبيعي ص ٧٣

(ب) اذكر ثلاث لكل مما يلي :

١- أهمية السهول . ص ٥٨

- استخدامها كموانئ طبيعية .
- تشييد المدن .

- تركز السكان فيها لسهولة التنقل .

٢- العوامل التي أدت إلى ازدهار العلم وظهور العلماء. ص ٣٧ (يكتفى بثلاث نقاط)

- تشجيع العلماء ورعاية وتمويل القيادات السياسية لهم من خلفاء وملوك وسلطين وأمراء .
- التنافس العلمي بين الدول الإسلامية .
- الرخاء الاقتصادي .
- حركة التعريب (الترجمة) للكتب القديمة اليونانية و الهندية و الفارسية وغيرها .

ص ٣٤ - ٣٥

(ج) قارن بين كل من حسب المطلوب منك في الجدول التالي :

أوجه المقارنة	قصر عمرة	قصر الرصافة
الدولة	الأردن	سوريا
ال خليفة الذي بناه	يزيد بن الوليد	هشام بن عبدالمك

انتهت الإجابة

