

ثانوية
سليمان الفارسي
بنين

الصف الخامس عشر أدبي

WWW.KweduFiles.Com
طامة
التاريخ

العام الدراسي

2018/2017

الفصل الدراسي الأول

أسئلة اختبارات

وإجاباتها النموذجية





أجب عن أربعة أسئلة كاملة على أن يكون السؤال الأول (الإجمالي) واحداً منها

السؤال الأول (إجمالي) و يتكون من : (أ - ب - ج - د)
أضع خطأ تحت الخيار الصحيح من بين الخيارات التي تلي كل عبارة :

- ١- تقع الأحقاف بالنسبة لشبة الجزيرة العربية في جهة :
- الشمال - الشرق - الغرب - الجنوب
- ٢- يطلق على معتنقي ديانة سيدنا ابراهيم عليه السلام ب :
- الصابئة - المجوس - المتحنفين - النصارى
- ٣- حامل لواء قريش في الحرب اسمه :
- قصي - عبد الدار - عبد مناف - عبد شمس
- ٤- الحرب التي شارك بها الرسول (ﷺ) وهو في الخامسة عشر من عمره:
- الفجار - الديك - بعث - البسوس
- ٥- نزل الوحي على الرسول (ﷺ) في عام :
- ٦١٠م - ٦٢٠م - ٦٣٠م - ٦٤٠م

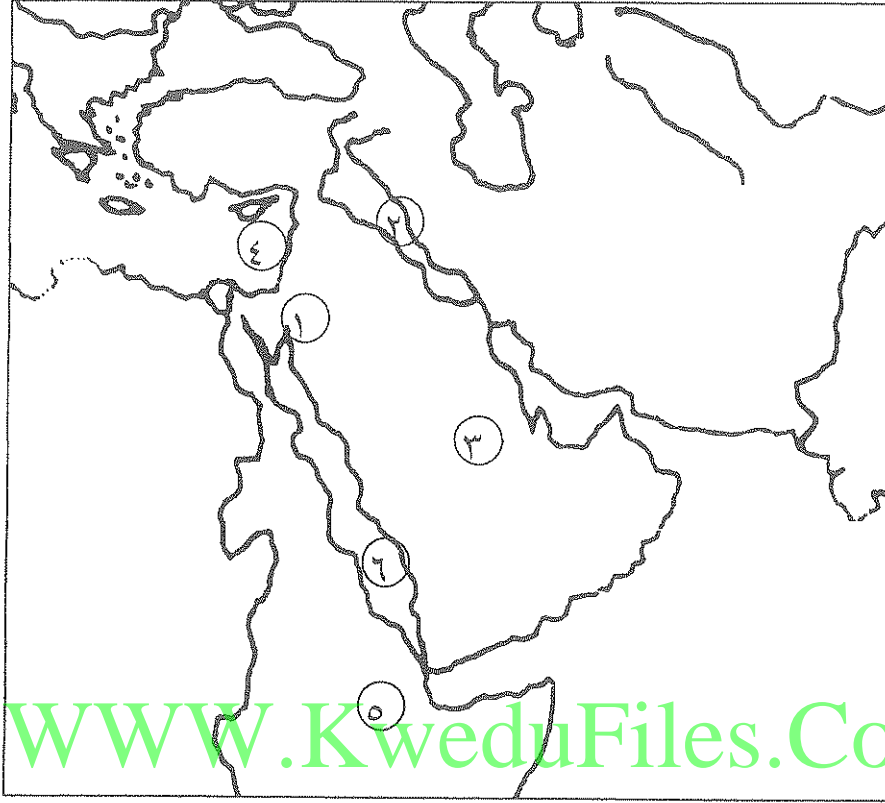
ب- أكتب المفاهيم أو المصطلحات الدالة على العبارات التالية :

م	الاسم	العبارة
١		بنو معد بن عدنان بن إسماعيل و سكنوا شمال شبة الجزيرة العربية .
٢		معركة انتصر بها المسلمين بقيادة المثنى بن حارثة على الفرس عام ١٣هـ .
٣		مقر للحكم ومكاناً لتجمع المسلمين.

ج- أكمل العبارات التالية بما يناسبها فيما درست :

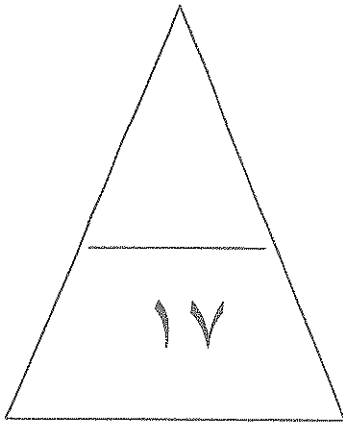
- ١- استشهد أبو عبيد الثقفي في معركة الجسر عام هـ .
- ٢- الغزوة التي انتصر فيها المسلمين على قبائل هوازن وثقيف عام ٨هـ أسمها.....
- ٣- قائد المرتدين في معركة بزاخة أسمه
- ٤- الحدث الذي جمع الرسول (ﷺ) بالمسلمين في العام العاشر الهجري يسمى

تابع / السؤال الأول (الإجبارى) :
د- أمامك الخريطة التالية أكتب الرقم الدال على العبارات التى تليها :



WWW.KweduFiles.Com

- ١- معركة مؤتة يمثلها على الخريطة الرقم
- ٢- منطقة هاجر إليها المسلمون في السنة الثانية قبل الهجرة يمثلها على الخريطة الرقم
- ٣- بحر الروم يمثله على الخريطة الرقم
- ٤- ظهر مسيلمة الكذاب في منطقه يمثلها على الخريطة الرقم
- ٥- معركة نهاوند يمثلها على الخريطة الرقم



السؤال الثانى (اختياري) : و يتكون من (أ - ب - ج)

أ- أقرأ الفقرة التالية ثم أجب عن ما يليها من أسئلة:

((ما كادت الوحدة الإسلامية تكتمل على يد الخليفة أبي بكر الصديق بعد القضاء على حركة الردة حتى اكتملت صفوف المجاهدين و خرجت الجيوش الإسلامية لنشر رسالة الإسلام و إعلاء كلمة الله و ذلك لإكمال رسالة نبيهم المصطفى في تبليغ الرسالة الإسلامية للعالمين و تحرير الإنسان من عبودية العباد إلى عبودية الله و لحماية دولتهم الناشئة من الأخطار)) .

١- أقتراح عنواناً مناسباً للفقرة السابقة.

٢- عرف ما تحته خط .

٣- تتبع الخطوات التي قام بها أبو بكر الصديق لمواجهة حركة الردة .

٤- استخرج من الفقرة الأسباب التي دفعت المسلمين لحركة الفتوح الإسلامية ثم وزعها حسب الجدول التالي:

أسباب دينية	أسباب سياسية
.....
.....
.....

ب- دلل على صحة العبارات التالية :

١- اشتهر العرب بالمعارف المختلفة .

٢- اتصاف الرسول (عليه السلام) بالأمانة .

٣- (الصحيفة) كانت دستوراً لتنظيم الحياة العامة الداخلية و الخارجية في المدينة .

ج- أوجد العلاقة بكتابة فقرة مترابطة من ثلاث أسطر بالاستعانة بالكلمات التالية:

عمر بن الخطاب - الدواوين - منبر - فتح

السؤال الثالث (اختياري) : و يتكون من (أ - ب - ج)

أ- الدور الذي قام به كل من :

١- العباس بن عبد المطلب في بيعة العقبة الثانية.

.....
.....

٢- خالد بن الوليد في تنظيم جيش معركة اليرموك.

.....
.....

ب- فرق بين كل من :

فضل الأنصار	فضل المهاجرين
.....
نتائج غزوة خيبر	نتائج غزوة أحد
.....

ج- علل لما يأتي :

١- معارضة قريش للدعوة الإسلامية .

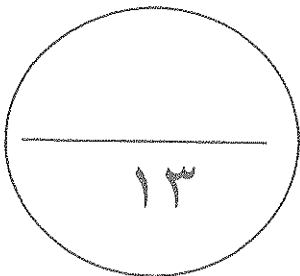
.....
.....

٢- ترشيح عمر بن الخطاب لأبي بكر الصديق خليفة للمسلمين.

.....
.....

٣- قيام غزوة الأحزاب عام ٥هـ .

.....
.....



السؤال الرابع (اختياري) : و يتكون من (أ - ب - ج)
أ- أنسب العبارات التالية لقائلها ثم أذكر المناسبة التي قيلت بها :

١	العبارة	(يا عبادَ الله انصروا الله ينصركم و يثبت أقدامكم) .
	القائل
	المناسبة
٢	العبارة	(لقد أمنا بك و صدقناك و شهدنا أنّ ما جئتَ به هو الحقّ و أعطيناك على ذلك عهدنا و موثيقنا على السمع و الطاعة) .
	القائل
	المناسبة
٣	العبارة	(و الله لا أحلّ عُقدَ عَقَدَها رسولَ الله و لو أنّ الطيرَ تخطفُنا و السباعَ حولَ المدينة) .
	القائل
	المناسبة
٤	العبارة	(جنتك بقوم يحبون الموت كما تحبون الحياة) .
	القائل
	المناسبة

WWW.KweduFiles.Com

ب- عرف المفاهيم التالية :

١- قبيلة .

.....
.....

٢- بيعة الشجرة .

.....
.....

٣- سرية .

.....
.....

٤- المرحلة الجهرية .

.....
.....

ج- فرق بين كل مما يلي :

بيعة العقبة الأولى	بيعة العقبة الثانية
.....
.....
.....

السؤال الخامس (اختياري) : ويتكون من (أ - ب - ج)
أقارن بين كل مما يلي :

الموالي	العرب الصرحاء	أوجه المقارنة
.....	الصلة بالقبيلة
كسرى (ملك فارس)	أمير الغساسنة (الحارث الغساني)	أوجه المقارنة
.....	موقفهم من الرسالة

ب- أذكر ثلاث نقاط لكل عبارة مما يلي :
١- أساليب مقاومة فريش للدعوة الإسلامية .

.....
.....
.....
.....
.....
.....
.....

ج- ماذا يحدث لو :

١- لم يتم عقد اجتماع سقيفة بني ساعدة .

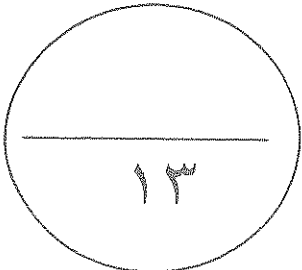
.....
.....

٢- لم يتم إرسال جيش أسامة بن زيد .

.....
.....

٣- لم يخرج الرسول (ﷺ) مهاجراً إلى مدينة يثرب .

.....
.....



انتهت الأسئلة



وزارة التربية
التوجيه الفني العام للاجتماعيات

نموذج إجابة

امتحان نهاية الفترة الدراسية الأولى
لمادة التاريخ الإسلامي
للمصف الحادي عشر - القسم الأدبي

العام الدراسي :
٢٠١٦/٢٠١٧ م
الزمن : ساعتان
عدد الصفحات: (٨)

أجب عن أربع أسئلة كاملة على أن يكون السؤال الأول (الإجابي) واحداً منها

السؤال الأول (إجباري) و يتكون من : (أ - ب - ج - د) درجة لكل بند
أضع خطأ تحت الخيار الصحيح من بين الخيارات التي تلي كل عبارة :

- ١- تقع الاحقاف بالنسبة لشبة الجزيرة العربية في جهة :
- الشمال - الشرق - الغرب - الجنوب
٢- يطلق على معتنقي ديانة سيدنا ابراهيم عليه السلام :
- الصابئة - المجوس - المتحنفين ص ١٩ - النصارى
٣- حامل لواء قریش في الحرب اسمه :
- قصي - عبد الدار ص ٢١ - عبد مناف - عبد شمس
٤- الحرب التي شارك بها الرسول (ﷺ) وهو في الخامسة عشر من عمره:
- الفجار ص ٢٤ - الديك - بعث - السوس
٥- نزل الوحي على الرسول (ﷺ) في عام :
- ٦١٠ م ص ٢٥ - ٦٢٠ م - ٦٣٠ م - ٦٤٠ م

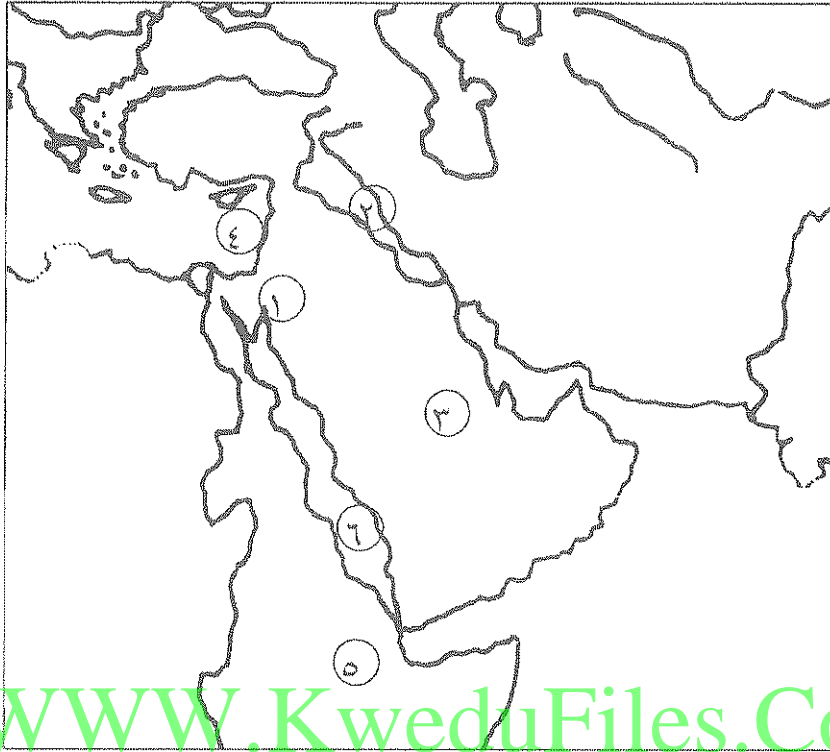
ب- أكتب الاسم الدال على المعنى لكل عبارة في ما يلي:

م	الاسم	العبارة
١	العرب المستعربة ص ١٣	بنو معد بن عدنان بن إسماعيل و سكنوا شمال شبة الجزيرة العربية .
٢	البويب ص ٦٢	معركة انتصر بها المسلمين بقيادة المثنى بن حارثة على الفرس عام ١٣ هـ .
٣	المسجد ص ٣٤	مقر للحكم ومكانا لتجمع المسلمين.

ج- أكمل العبارات التالية بما يناسبها فيما درست :

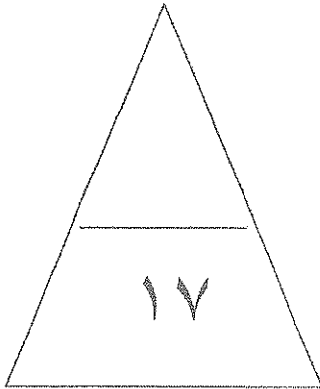
- ١- استشهد أبو عبيد الثقفي في معركة الجسر عام ١٣ هـ ص ٦٢
٢- الغزوة التي انتصر فيها المسلمين على قبائل هوازن و ثقيف عام ٨ هـ في غزوة أسماها حنين ص ٤٦
٣- قائد المرتدين في معركة بزاخة يسمى طلحة بن خويلد ص ٥٩
٤- الحدث الذي جمع الرسول (ﷺ) بالمسلمين في العام العاشر الهجري يسمى حجة الوداع ص ٤٩

تابع / السؤال الأول (الإجابى) :
د- أمامك الخريطة التالية أكتب الرقم الدال على العبارات التى تليها :



WWW.KweduFiles.Com

- ١- معركة مؤتة يمثلها على الخريطة الرقم (١) ص ٣٨
- ٢- منطقة هاجر إليها المسلمون في السنة الثانية قبل الهجرة يمثلها على الخريطة الرقم (٥) ص ٢٩
- ٣- بحر الروم يمثله على الخريطة الرقم (٤) ص ٢٩
- ٤- ظهر مسيلمة الكذاب في منطقة يمثلها على الخريطة الرقم (٣) ص ٥٨
- ٥- معركة نهاوند يمثلها على الخريطة الرقم (٢) ص ٦٨



السؤال الثاني (اختياري) : و يتكون من (أ - ب - ج)

أ- أقرأ الفقرة التالية ثم أجب عن ما يليها من أسئلة :

((ما كادت الوحدة الإسلامية تكتمل على يد الخليفة أبي بكر الصديق بعد القضاء على حركة الردة حتى اكتملت صفوف المجاهدين و خرجت الجيوش الإسلامية لنشر رسالة الإسلام و إعلاء كلمة الله و ذلك لإكمال رسالة نبيهم المصطفى في تبليغ الرسالة الإسلامية للعالمين و تحرير الإنسان من عبودية العباد إلى عبودية الله و لحماية دولتهم الناشئة من الأخطار)).

١- أقتراح عنواناً مناسباً للفقرة السابقة . (أي عنوان يشمل مضمون الفقرة يراه المصحح صحيح)
نصف درجة

٢- عرف ما تحته خط .

تمرد القبائل العربية على سلطان الحكومة الإسلامية في المدينة المنورة . ص ٥٨ درجة

٣- تتبع الخطوات التي قام بها أبو بكر الصديق لمواجهة حركة الردة .
أقام الحجة على المرتدين بخطابهم إنذارهم و تحذيرهم .
قتالهم لنصرة دين الله .
عقد أحد عشر لواءً لكبار قادة المسلمين .

خاض معارك كبرى منها بزاخة و حديقة الموت (عقرباء)
٤- استخرج من الفقرة الأسباب التي دفعت المسلمين لحركة التفتح الإسلامي ثم وزعها حسب الجدول التالي:
(الاكتفاء بأربع نقاط فقط - درجتين ص ٦١)



أسباب سياسية

أسباب دينية

المحافظة على وحدة متماسكة للدولة الإسلامية	لنشر رسالة الإسلام
لحماية دولتهم الناشئة من الأخطار الخارجية	إعلاء كلمة الله
	تحرير الإنسان من عبودية العباد إلى عبودية الله

ب- دلل على صحة العبارات التالية :

ص ٢٠ - درجتين

١- اشتهر العرب بالمعارف المختلفة .

- الدليل على ذلك وجود الأنساب و مهارة تحديد النجوم و معرفة التقويم .

- عبروا عن فكرهم بلهجات متعددة .

ص ٣٢ - درجتين

٢- اتصاف الرسول (ﷺ) بالأمانة .

طلب من علي بن أبي طالب أن يرد الأمانات إلى أهلها عند رحيله من مكة .

- أي من صفات الأمانة والمواقف التاريخية الصحيحة للرسول (ص) يذكرها المتعلم .

٣- (الصحيفة) كانت دستوراً لتنظيم الحياة العامة الداخلية و الخارجية في المدينة . ص ٣٦ درجتين

- أن الجماعة شخصية دينية و سياسية و من حق الجماعة أن تعاقب المفسد و أن تؤمن المطيع .

- أن الحرية الدينية مكفولة للجميع .

- أن على سكان المدينة من المسلمين و غيرهم أن يتعاونوا مادياً و معنوياً و عليهم أن يردوا متساندين

أي اعتداء على مدينتهم .

- أن النبي (ﷺ) هو الرئيس العام لسكان المدينة تعرض عليه القضايا الكبرى و صور الخلاف

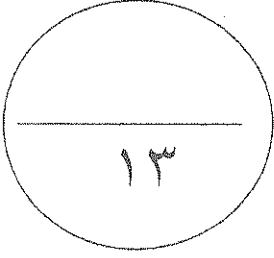
الضخمة ليفصل فيها .

تابع / السؤال الثاني :

ج- أوجد العلاقة بكتابة فقرة مترابطة من ثلاث أسطر بالاستعانة بالكلمات التالية : ص ٧٧ - درجتين

عمر بن الخطاب - الدواوين - منبر - فتح

أول من سمي بأمير المؤمنين الخليفة عمر بن الخطاب ثاني الخلفاء الراشدين و هو أول من وضع التاريخ الهجري وأول من دون الدواوين في الإسلام و كان أولها ديوان الجند (العطاء) ثم الخراج وفتح العراق و الشام و فارس و مصر و الجزيرة فقبل انتصب في خلافته اثنا عشر ألف منبر في الإسلام .



WWW.KweduFiles.Com

السؤال الثالث (اختياري) : و يتكون من (أ - ب - ج)

أ- الدور الذي قام به كل من :

ص ٣١ - درجتين

١- العباس بن عبد المطلب في بيعة العقبة الثانية.

- كان أول المتكلمين مع وفد أهل يثرب .

- أخذ من الوفد العهد لحماية الرسول (ص) رغم أنه لم يكن مسلماً

ص ٦٨ - درجتين



٢- خالد بن الوليد في تنظيم جيش معركة اليرموك.

- قسم الجيش إلى كتائب .

- اختار رجال الكتيبة الواحدة من قبيلة واحدة .

- جعل على كل كتيبة قائداً من القبيلة ممن عرف بالشجاعة و الإقدام على المعركة

- جعل على كتائب القلب أبو عبيدة بن الجراح و الميمنة عمرو بن العاص و يساعدة شرحبيل بن حسنة

و الميسرة يزيد بن أبي سفيان .

درجة لكل جزئية

ب- فرق بين كل من :

فضل الأنصار	فضل المهاجرين ص ٥٦ - نقطتين فقط
- أهل البلد . - ناصروا الرسول و أووه .	- أول الناس إسلاماً . - تحملوا عداوة قومهم و الأذى
- قامت الدولة الإسلامية بجهادهم .	- أهل الرسول و عشيرته
نتائج غزوة خيبر - ص ٤٦	نتائج غزوة أحد - ص ٤١
- إنهاء قوة اليهود في شبه الجزيرة العربية .	- هزيمة المسلمين و سقوط ٧٠ شهيداً
- انتصار المسلمين .	- و طرد قبيلة بني النضير اليهودية .

ج- علل لما يأتي :

ص ٢٨ درجتين الاكتفاء بنقطتين فقط

١- معارضة قريش للدعوة الإسلامية .

- أن قريش لم تفرق بين النبوة و السيادة و ظنت أن التسليم لمحمد معناه التسليم له بالزعامة و لبني هاشم.

- أن الرسول (ﷺ) كان يدعو للمساواة بين الناس و هي أساس المجتمع الإسلامي و قريش لا تريد ذلك .

- التمسك بعادات و تقاليد الآباء و الأجداد .

- الخوف من فقدانهم الثروة و الجاه اللذين كانوا يتمتعون بهما و يعظنهما حقاً لهم و ذلك بسبب خدمتهم للأصنام .

تابع / السؤال الثالث:

ج- علل لما يأتى :

٢- ترشیح عمر بن الخطاب لأبى بكر الصدیق خلیفة للمسلمین .

ص ٥٦ - درجة الاكتفاء بنقطتين

-أول الناس إسلاماً .

-ثانى اثنين فى الغار .

-موافقة النبي أن يكون بدله فى الصلاة .

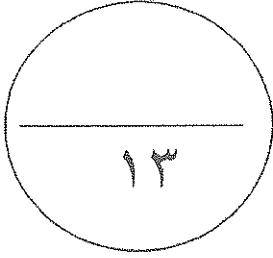
-ارتضاء الرسول (ﷺ) لأبوبكر لدين الله عز وجل .

٣- قيام غزوة الأحزاب عام ٥هـ .

-رغبة قريش فى القضاء على الإسلام .

-تأليب اليهود للقبائل العربية ضد المسلمين .

ص ٤٢ درجتين



WWW.KuveduFiles.Com

السؤال الرابع (اختياري) : و يتكون من (أ - ب - ج)

أ- أنسب العبارات التالية لقائلها ثم أذكر المناسبة التي قيلت بها :


العبارة	(يا عباد الله انصروا الله ينصركم و يبثب أقدامكم) . <u>درجة و نصف ص ٦٩</u>
١	القائل أبو عبيدة بن الجراح
المناسبة	حث المسلمين على الصبر و الثبات في معركة اليرموك .
العبارة	(لقد أمنا بك و صدقناك و شهدنا ان ما جنت به هو الحق و أعطيناك على ذلك عهدنا و موثيقنا على السمع و الطاعة) . <u>ص ٣٩ درجة و نصف</u>
٢	القائل سعد بن معاذ
المناسبة	إظهار الولاء للرسول (ص) عند قيام غزوة بدر .
العبارة	(و الله لا أخل عقدة عقدها رسول الله و لو أن الطير تخطفنا و السباع حول المدينة) .
٣	القائل أبو بكر الصديق <u>ص ٥٧ درجة و نصف</u>
المناسبة	عندما عارض كبار الصحابة تنفيذ إرسال جيش أسامة بن زيد خطب في الناس
العبارة	(جنتك يقوم بحبون الموت كما تحبون الحياة) .
٤	القائل خالد بن الوليد <u>ص ٦٢ درجة و نصف</u>
المناسبة	من نص الخطاب الذي أرسله خالد إلى هرمل يخيره بين الإسلام أو الحرب .



ب- عرف المفاهيم التالية :

- ١- قبيلة: مجموعة من الناس تربطهم رابطة القرابة و النسب و الدم . ص ١٥ درجة و نصف
- ٢- بيعة الشجرة .
- ٣- مبايعة المسلمين للرسول (ﷺ) ردا على أذى الكفار إذا اعتدى على وفدهم في الحديبية .
- ٤- سرية: فرقة من الجنود بقيادة أحد الصحابة . ص ٣٧ درجة
- ٥- المرحلة الجهرية: هي المرحلة التي جهر بها الرسول (ص) بالدعوة الإسلامية استجابة لنداء الله سبحانه و تعالى و انطلق يدعو جميع الناس للإسلام . ص ٢٨ درجة
- ٦- الفترة التي كان يعرض فيها الرسول (ص) الإسلام سرا على أهل بيته و خاصة أصحابه و اتخذ دار الأرقم بن الأرقم مقرا لها و استمرت ثلاث سنوات . ص ٢٧ درجة
- ٧- معركة قامت بين قبائل هوازن و ثقف ضد المسلمين انتهت بانتصار المسلمين عام ٨هـ .
- ٨- ج- فرقي بين كل مما يلي : ثلاث درجات ص ٣١

بيعة العقبة الأولى	بيعة العقبة الثانية
مبايعة اثنا عشر رجلا بعد ما آمنوا بالرسول و دعوته على الإسلام عام ١٢ للبعثة .	مبايعة جمع من أهل يثرب للمرة الثانية في موسم الحج عند العقبة سنة ١٣ للبعثة يتعهدهم لحماية و الدود عن عنه إذا هاجر إلى يثرب .



السؤال الخامس (اختياري) : و يتكون من (أ - ب - ج)
أقارن بين كل مما يلي :

أوجه المقارنة	العرب الصرحاء - ص ١٨ درجة	الموالي - ص ١٨ درجة
الصلة بالقبيلة	أبناء القبيلة و يجمعهم نسب واحد .	عرب انضموا إلى القبيلة إما عن طريق الجوار أو الحلف أو العتق .
أوجه المقارنة	أمير الغساسنة (الحارث الغساني) ص ٤٥ درجة	كسرى (ملك فارس) درجة - ص ٤٥
موقفهم من الرسالة	هدد بغزو المدينة المنورة	مزق كتاب الرسول (ص) فمزق الله ملكه .

ب- أذكر ثلاث نقاط لكل عبارة مما يلي :

١- أساليب مقاومة قريش للدعوة الإسلامية . ص ٣٠/٢٩ ثلاث نقاط فقط ٣ درجات



ص ٤٤ ثلاث نقاط ٣ درجات

- اللامبالاة وعدم الاهتمام للأمر الدعوة .
- تعذيب و حرمان العبيد و الضعفاء .
- إرسال وفداً إلى عمه أبو طالب يطلب منه أن يكف عن دعوته .
- عرض قريش عليه المال و الجاه مقابل العدول عن الدعوة .
- أسلوب الجدل و الاستهزاء .
- مقاطعة بني هاشم اقتصادياً و اجتماعياً في شعب أبي طالب .
- ٢- بنود صلح الحديبية .

- يرجع المسلمون هذا العام و يعودوا في العام القادم .

- وضع هدنة بين الفريقين لمدة عشر سنوات .

- من أراد الدخول في حلف قريش فله ذلك و من أراد الدخول في عهد محمد غير قريش دخل فيه

- من أتى محمداً من قريش مسلماً بدون إذن وليه يُرد و لا ترد قريش من أتاه من عند محمد

مرتداً .

ج- ماذا يحدث لو :

١- لم يتم عقد اجتماع سقيفة بني ساعدة .

لأصبح أمراً لمسلمون فوضوي و لدب النزاع و الشجار بينهم و ضاعت وحدتهم . ص ٥٦ درجة

٢- لم يتم إرسال جيش أسامة بن زيد .

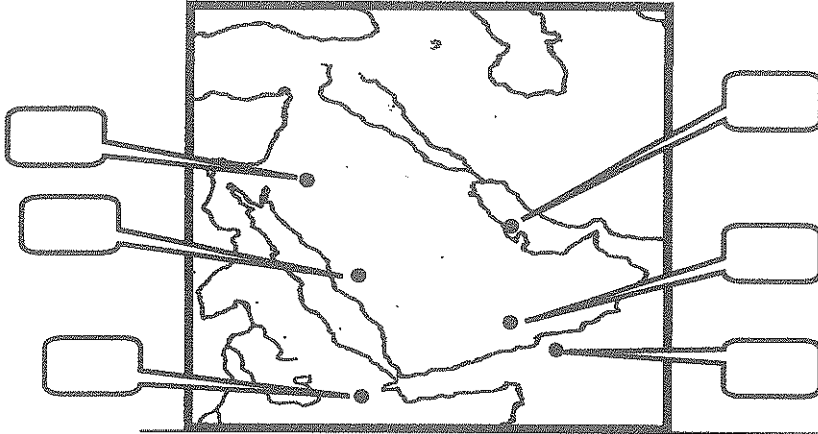
لتم مخالفة أمر الرسول (ص) و لقوية شوكة الروم . ص ٥٧ درجة

٣- لم يخرج الرسول (ﷺ) مهاجراً إلى مدينة يثرب . ص ٣٢ درجة

لقتلت قريش الرسول (ص) و لفرق دمه بين القبائل و صعّب على بنو هاشم الأخذ بثأره و قبلوا الدية .

السؤال الأول: يتكون من (أ، ب، ج)

(أ) اقرأ العبارات التالية ثم أكتب رقم كل عبارة في المربع الذي يناسبها على الخريطة:



١- بحر العرب.

٢- الحبشة .

٣- تبوك .

٤- أرض الأحقاف .

٥- الطائف .

(ب) : أختار الإجابة الصحيحة من بين البدائل التالية وضع تحتها خط :-

١- الصحابي الذي أنابه الرسول (ﷺ) عنه في المدينة المنورة في غزوة بدر اسمه :
 أ- أبو أيوب الأنصاري ب- أبو لبابة بن المنذر ج- عمار بن ياسر د- عبدالله بن أم مكتوم

٢- الحدث التاريخي الهام الذي شارك فيه الرسول (ﷺ) وهو في ١٥ من عمره هو :

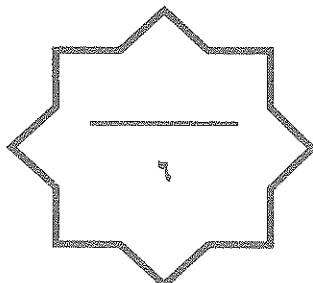
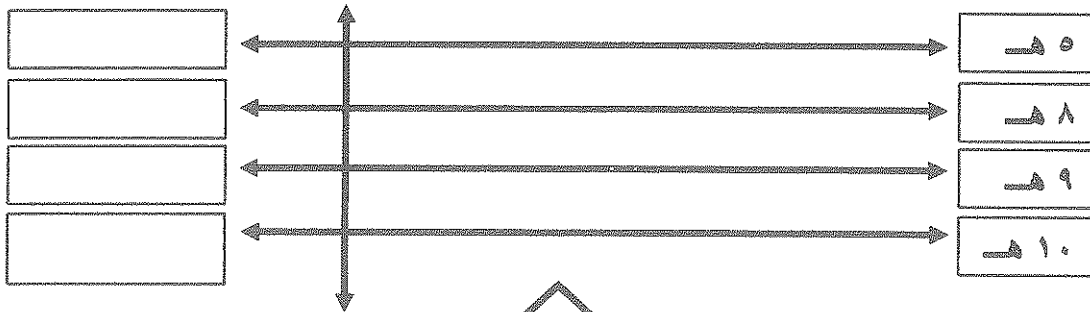
(أ) بناء الكعبة المشرفة (ب) عمله في التجارة (ج) حرب الفجار (د) حلف الفضول

٣- المرحلة التي تمثلها الآية الكريمة ((فاصدع بما تؤمر وأعرض عن المشركين)) بدعوة كل من يفد إلى مكة هي:

(أ) المرحلة الأولى (ب) المرحلة الثانية (ج) المرحلة الثالثة (د) المرحلة الرابعة

(ج) رتب الأحداث التاريخية التالية على الخط الزمني حسب زمن حدوثها :

(بيان براءة - حجة الوداع - غزوة الأحزاب - غزوة مؤتة)



السؤال الثاني : يتكون من (أ - ب - ج) .

أ) عرف المفاهيم التالية:

١- عام الحزن :

٢- بيعة الرضوان :

٣- السرية :

ب) علل لما يأتي .

١- تتمتع شبه الجزيرة العربية بالعديد من المميزات جعلتها البيئة المناسبة لإطلاق الدعوة الإسلامية.

..... ●

..... ●


٢- معارضة قريش للدعوة الإسلامية.

..... ●

..... ●

ج) قارن بين غزوتي حنين و خيبر وفق الجدول التالي:

غزوة خيبر	غزوة حنين	وجه المقارنة
.....	أطراف القتال ضد المسلمين
.....	النتائج



السؤال الثالث : يتكون من (أ - ب - ج) .

(أ) فند العبارات التاريخية التالية:

١- ادعاء المستشرقين بأن بنود الصحيفة كانت إنتهاكاً لحقوق الإنسان .

-
-
-

٢- كان لرحلتى الشتاء والصيف أثراً سلبياً على قريش قبل العصر الإسلامى .

-
-

(ب) فرق بين كل مما يلى :

مكانة المرأة قبل الإسلام فى النظام القبلى	مكانة المرأة قبل الإسلام فى النظام الملكى	١
.....	

WWW.KweduFiles.Com

طبقات المجتمع العربى قبل الإسلام (الموالى)	طبقات المجتمع العربى قبل الإسلام (الصرحاء)	٢
.....	


(ج) برهن على صحة العبارة التالية :

١- يعتبر صلح الحديبية نصراً عظيماً للمسلمين دون قتال .

-
-
-

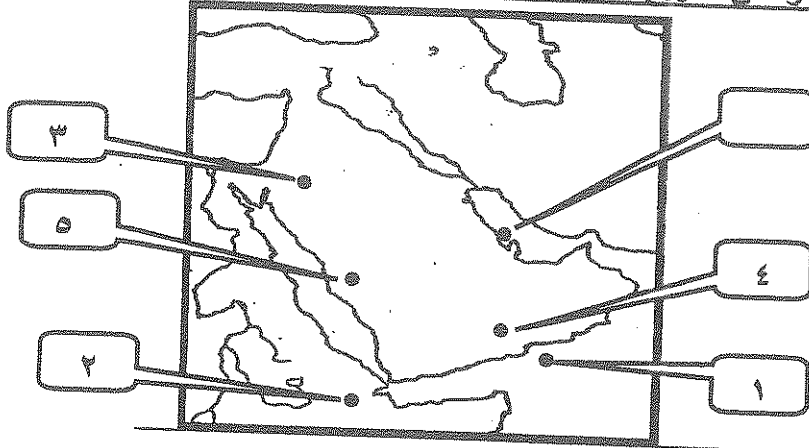
٢- حرصت قريش على قتال المسلمين عام ٦٢٤م / ٢هجرية فى غزوة بدر .

-
-



١- إوال الأول: يتكون من (أ، ب، ج).

٢- اقرأ العبارات التالية ثم أكتب رقم كل عبارة في المربع الذي يناسبها على الخريطة:



١- بحر العرب. ص ١٩

٢- الحبشة . ص ٢٩

٣- تبوك . ص ٣٨

٤- أرض الأحقاف . ص ١٣

٥- الطائف . ص ٣٠

٣- (ب) : أختار الإجابة الصحيحة من بين البدائل التالية وضع تحتها خط :-

١- الصحابي الذي أنابه الرسول (ﷺ) عنه في المدينة المنورة في غزوة بدر اسمه : ص ٤٠
 أ- أبو أيوب الأنصاري ب- أبولبابة بن المنذر ج- عمار بن ياسر د- عبدالله بن أم مكتوم

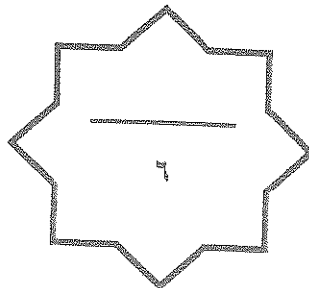

٢- الحدث التاريخي الهام الذي شارك فيه الرسول (ﷺ) وهو في ١٥ من عمره هو : ص ٢٤
 (أ) بناء الكعبة المشرفة (ب) عمله في التجارة (ج) حرب الفجار (د) حلف الفضول

٣- المرحلة التي تمثلها الآية الكريمة ((فاصدع بما تؤمر وأعرض عن المشركين)) بدعوة كل من يفد إلى مكة هي: ص ٢٨

(أ) المرحلة الأولى (ب) المرحلة الثانية (ج) المرحلة الثالثة (د) المرحلة الرابعة

٤- (ج) رتب الأحداث التاريخية التالية على الخط الزمني حسب زمن حدوثها :

(بيان براءة - حجة الوداع - غزوة الأحزاب - غزوة مؤتة) ص ٤٦



السؤال الثاني : يتكون من (أ - ب - ج) .

(أ) عرف المفاهيم التالية: $3 = 3 \times 1$ (لكل مفهوم درجة واحدة)

١- عام الحزن : العام العاشر للبعثة النبوية الشريفة وسمي بذلك لوفاة عمه أبو طالب ، والسيدة خديجة رضي الله عنها . ص ٣٠

٢- بيعة الرضوان : مبايعة المسلمون الرسول ﷺ على رد أذى قريش إذا اعتدت على وفدهم وعرفت باسم بيعة الشجرة خاصة بعدما أشيع عن مقتل عثمان بن عفان رضي الله عنه . ص ٤٣

٣- السرية : فرقة من الجنود بقيادة أحد الصحابة لحماية حدود المدينة المنورة . ص ٣٧

(ب) علل لما يأتي .

١- تتمتع شبه الجزيرة العربية بالعديد من المميزات جعلتها البيئة المناسبة لانطلاق الدعوة الإسلامية . ص ٢٠ (درجة)

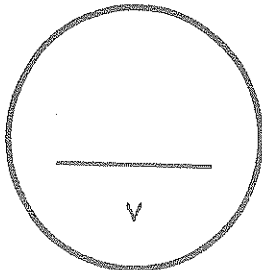
- لأنها خارج منطقة صراع الفرس والروم . * لأن العرب كانوا يعبدون الأصنام دون الله .
- الموقع الجغرافي لشبه الجزيرة العربية (وسط العالم) سهل نشر الدعوة للعالم .
- وجود بيت الله الحرام في مكة كمركز ديني كبير . * لغة العرب وما تمتاز به من خصائص .
- صفاء الفكر فلم يتأثر العرب بمعتقدات اليهود أو النصارى أو فلسفة اليونان .

٢- معارضة قريش للدعوة الإسلامية . ص ٢٨ (درجة واحدة)

- لم تفرق قريش بين النبوة والسيادة .
- رفضهم للمساواة مع العبيد ، قريش لا تريد المساواة بين الناس .
- التمسك بعادات وتقاليد الآباء والأجداد .
- خوفها من فقدان الثروة والجاه .

(ج) قارن بين غزوتي حنين و خيبر وفق الجدول التالي: . ص ٤٦

وجه المقارنة	غزوة حنين ($1 = 2 \times \frac{1}{2}$)	غزوة خيبر ($1 = 2 \times \frac{1}{2}$)
أطراف القتال ضد المسلمين	قبائل هوازن وثقيف	تجمعات اليهود في خيبر
النتائج	إنتصار المسلمين في نهاية المعركة	إنهاء قوة اليهود في شبه الجزيرة العربية



السؤال الثالث : يتكون من (أ - ب - ج) .

(أ) فند العبارات التاريخية التالية:

١- ادعاء المستشرقين بأن بنود الصحيفة كانت انتهاكاً لحقوق الإنسان . ص ٣٦ $3 \times \frac{1}{2} = 1\frac{1}{2}$ (درجة ونصف)

- للجماعة شخصية دينية سياسية . * الحرية الدينية مكفولة للجميع .
 - على سكان المدينة (مسلمين وغير مسلمين) أن يتعاونوا لرد أي اعتداء على مدينتهم .
 - أن النبي (ﷺ) هو الرئيس العام لسكان المدينة تعرض عليه القضايا الكبرى وصور الخلاف الضخمة ليفصل فيها .
- ٢- كان لرحلتي الشتاء والصيف أثراً سلبياً على قريش قبل العصر الإسلامي . ص ١٦ (درجة واحدة)

- بل زادت من مكانتها بين العرب .
 - وفر لها ثروة اقتصادية . * لعب العرب دور الوسيط التجاري بين شمال وجنوب شبه الجزيرة العربية .
- (ب) فرق بين كل مما يلي : ص ١٨ $2 = 4 \times \frac{1}{2}$ (نصف لكل نقطة)

مكانة المرأة قبل الإسلام في النظام القبلي	مكانة المرأة قبل الإسلام في النظام الملكي
تدنت مكانتها في البادية والمبالغة في صوتها ، وانتشرت عادات وأد البنات وزواج المقت . $\frac{1}{2}$	تبوات مركز الرئاسة (بلفيس ملكة سبأ) $\frac{1}{2}$

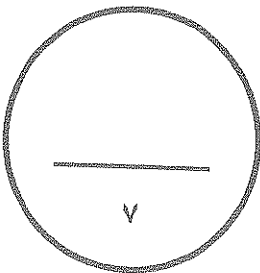
طبقات المجتمع العربي قبل الإسلام (الموالى)	طبقات المجتمع العربي قبل الإسلام (الصرحاء)
عرب انضموا إلى القبيلة عن طريق الحلف أو الجوار أو العتق لهم حقوق الصرحاء عدا حق الرئاسة . $\frac{1}{2}$	أبناء القبيلة يجمعهم نسب واحد ولهم كثير من الحقوق وعليهم واجبات مثل حماية القبيلة $\frac{1}{2}$

(ج) برهن على صحة العبارة التالية :

- ١- يعتبر صلح الحديبية نصراً عظيماً للمسلمين دون قتال . ص ٤٥ $3 \times \frac{1}{2} = 1\frac{1}{2}$ (درجة ونصف)
- اعتراف صريح من قريش بالدولة الإسلامية . * اعلان كثير من أبطال قريش إسلامهم (خالد بن الوليد ، عمرو بن العاص) . * تفرغ الرسول (ﷺ) لوضع حد لخطر اليهود (خيبر) . * تفرغ الرسول (ﷺ) لنشر الدعوة وإرسال الرسل للملوك والأمراء يدعوهم للدين الإسلامي .

٢- حرصت قريش على قتال المسلمين عام ٦٢٤م / ٢ هجرية في غزوة بدر . ص ٣٩ (درجة واحدة)

- القضاء على الدولة الجديدة والدين الإسلامي . * المحافظة على تجارتها .
- اعتراض قافلة قريش من المسلمين كان تهديداً مباشراً لمكانة قريش بين القبائل .



المادة : التاريخ الإسلامي
الزمن : ساعة
عدد الصفحات (٥)

وزارة التربية
الإدارة العامة لمنطقة الجهاد التعليمية
التوجيه الفني للاجتماعيات
امتحان الفترة الدراسية الأولى
للسنة الحادي عشر أدبي
للعام الدراسي ٢٠١٥ / ٢٠١٦ م

السؤال الأول : (موضوعي) ويتكون من (أ - ب - ج - د) :-
(أ) أكمل العبارات التالية بما يناسبها :-

- ١- الهضبة التي تقع وسط شبه الجزيرة العربية تسمى
- ٢- الحرب التي شارك بها الرسول وهو في سن الخامسة عشر تسمى
- ٣- موحد قريش ومؤسس دار الندوة يسمى
- ٤- آخر الحروب التي كانت بين الأوس والخزرج تسمى

(ب) اختر البديل المناسب من بين البدائل التي تلي كل عبارة مما يلي :-

١- العام الذي ولد فيه الرسول -صلي الله عليه وسلم - :-

أ- ٥٧٠ م ب- ٥٧١ م ج- ٥٧٢ م د- ٥٧٣ م

٢- الزعيم الذي نظم رحلتي الشتاء والصيف :-

أ- هشام بن عبد مناف ب- عبد شمس

ج- أبوطالب د- عبدالدار

٣- القبيلة التي دخلت في حلف قريش بعد صلح الحديبية :-

أ- بكر ب- خزاعة

ج- بنو النضير د- بنو قينقاع

٤- الصحابي الذي نام في فراش الرسول في ليلة الهجرة :-

أ- عبدالله بن الزبير ب- عبدالله بن جحش

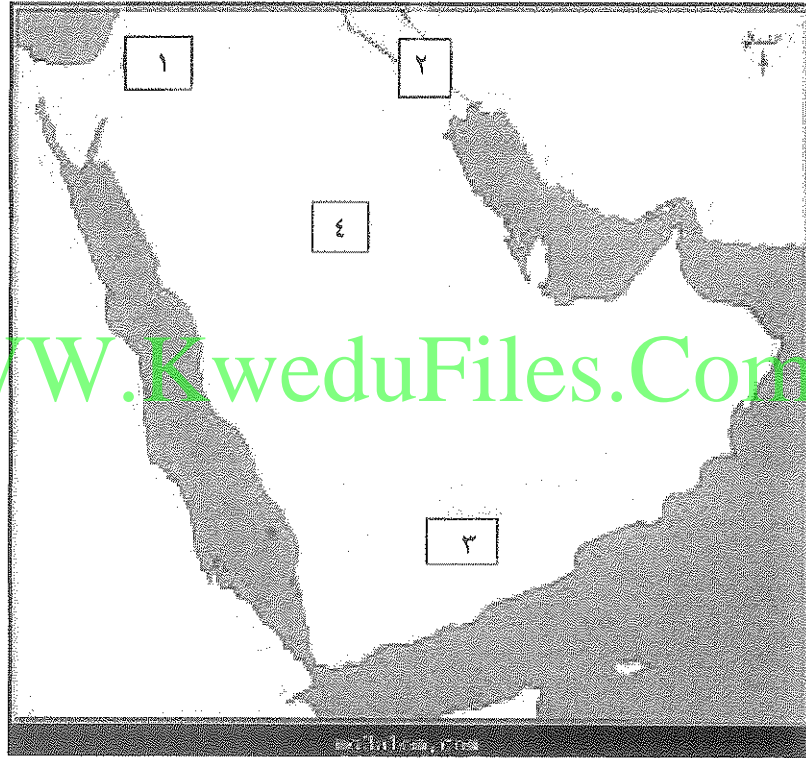
ج- أبو بكر الصديق د- علي بن أبي طالب

تابع / امتحان الفترة الدراسية الاولى للصف الحادي عشر تاريخ إسلامي ٢٠١٥م / ٢٠١٦م

(ج) اكتب المفهوم أو المصطلح الدال على العبارات التالية :

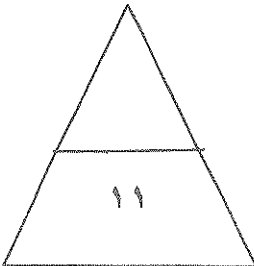
- ١- (عبادة الاصنام والوثان .
- ٢- (الأقوام التي عاشت ثم انقرضت وتم ذكرها بالقران الكريم .

(د) لاحظ الخريطة التي أمامك ثم أجب عما يلي :-



* اكتب مدلول الأرقام التالية :

- منطقة التي انتشرت بها الديانة المسيحية يمثلها على الخريطة الرقم ()
- منطقة ظهر بها مدعي النبوة طليحه يمثلها على الخريطة الرقم ()



(٢)

تابع / امتحان الفترة الدراسية الاولى للصف الحادي عشر تاريخ اسلامي ٢٠١٥م / ٢٠١٦م

السؤال الثاني : (مقال) ويتكون من (أ - ب - ج) :-

(أ) علل لما يلي تعليلا مناسباً :-

١- أهمية السرايا في الاسلام .

..... ●

..... ●

٢- معارضة قريش للدعوة الإسلامية .

..... ●

..... ●

WWW.KweduFiles.Com

(ب) برهن على صدق العبارات التالية :-

١- تميزت شبه الجزيرة العربية بمميزات هيأتها لتكون بيئة قادرة على تقبل رسالة الإسلام

..... ●

..... ●

..... ●


..... ●

(ج) عرف المفاهيم التالية :-

١- بيعة الرضوان :

٢- القبيلة :

٣- زواج المقت :



تابع / امتحان الفترة الدراسية الأولى للصف الحادي عشر تاريخ اسلامي ٢٠١٥م / ٢٠١٦م

السؤال الثالث :- ويتكون من (أ - ب - ج) :-
(أ) قارن بين بيعة العقبة الأولى وبيعة العقبة الثانية من حيث :

وجه المقارنة	بيعة العقبة الأولى	بيعة العقبة الثانية
العام		
البنود		

(ب) نفذ المطلوب منك بين الأقواس :-
WWW.KweduFiles.Com

١- الصحيفة بالدولة الإسلامية . (البنود)

*
*
٢- المجتمع العربي قبل الإسلام. (طبقات القبيلة)

*
*

(ج) دلل على صحة العبارة التالية :-

١- تميزت شخصية الرسول - صلى الله عليه وسلم - بأنه قائدا للامة الإسلامية.

*
*



تابع / امتحان الفترة الدراسية الاولى للصف الحادي عشر تاريخ اسلامي ٢٠١٥م / ٢٠١٦م

السؤال الرابع :- ويتكون من (أ - ب - ج - د) :-

(أ) علل لما يلي :-

١- انتصار المشركين في غزوة أحد .

.....
.....
٢- اختيار الرسول للحبشة لهجرة المسلمين الاولى .
.....

(ب) دلل على صحة هذه العبارة :

١- ضرب الأنصار أروع الأمثلة في التضحية والإيثار

.....
.....
٢- الأسواق أهمية فكرية قبل الإسلام .
.....

(ج) فرق بين رد كل من هؤلاء الملوك على رسل النبي في دعوتهم للإسلام :-

كسرى ملك فارس	المقوقس حاكم مصر	النجاشي ملك الحبشة



(٥)

تمنياتنا لكم بالنجاح

المادة : التاريخ الإسلامي
الزمن : ساعة
عدد الصفحات (٥)

وزارة التربية
الإدارة العامة لمنطقة الجهاد التعليمية
التوجيه الفني للاجتماعيات
امتحان الفترة الدراسية الأولى
للسنة الحادية عشر أدبي
للعام الدراسي ٢٠١٥ / ٢٠١٦ م

السؤال الأول : (موضوعي) ويتكون من (أ - ب - ج - د) :- درجة لكل نقطة
(أ) أكمل العبارات التالية بما يناسبها :-

١- الهضبة التي تقع وسط شبه الجزيرة العربية تسمى نجد ص ١٤

٢- الحرب التي شارك بها الرسول وهو في سن الخامسة عشر تسمى الفجار ص ٢٤

٣- موحد قريش ومؤسس دار الندوة يسمى قصي بن كلاب ص ٢١

٤- آخر الحروب التي كانت بين الأوس والخزرج تسمى بعث ص ٣٥

(ب) اختر البديل المناسب من بين البدائل التي تلي كل عبارة مما يلي :-

١- العام الذي ولد فيه الرسول -صلي الله عليه وسلم- :- ص ٢١

أ- ٥٧٠ م - ب- ٥٧١ م - ج- ٥٧٢ م - د- ٥٧٣ م

٢- الزعيم الذي نظم رحلتي الشتاء والصيف :- ص ١٦

أ- هشام بن عبد مناف - ب- عبد شمس

ج- أبو طالب - د- عبدالدار

٣- القبيلة التي دخلت في حلف قريش بعد صلح الحديبية :- ص ٤٤

أ- بكر - ب- خزاعة

ج- بنو النضير - د- بنو قينقاع

٤- الصحابي الذي نام في فراش الرسول في ليلة الهجرة :- ص ٣٢

أ- عبدالله بن الزبير - ب- عبدالله بن جحش

ج- أبو بكر الصديق - د- علي بن أبي طالب

عبد الرحمن العاصم

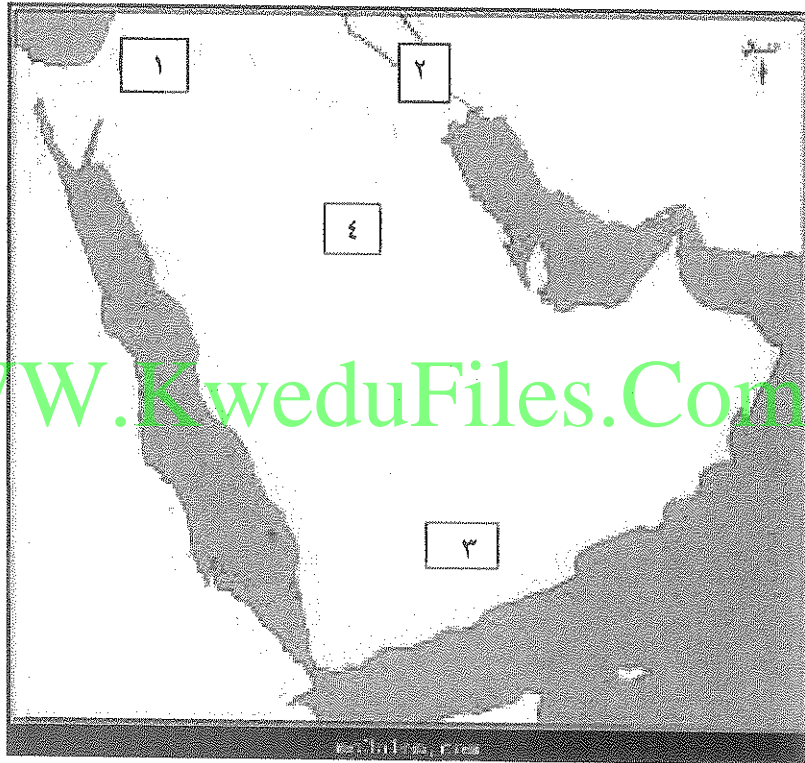
تابع / امتحان الفترة الدراسية الاولى للصف الحادي عشر تاريخ إسلامي ٢٠١٥م / ٢٠١٦م

(ج) اكتب المفهوم أو المصطلح الدال على العبارات التالية :

١- (الوثنية) عبادة الاصنام والاوثنان . ١٩ ص

٢- (العرب البائدة) الاقوام التي عاشت ثم انقرضت وتم ذكرها بالقران الكريم . ١٣ ص

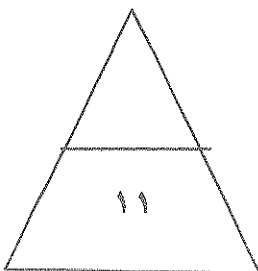
(د) لاحظ الخريطة التي أمامك ثم أجب عما يلي :-



* اكتب مدلول الأرقام التالية : نصف درجة لكل نقطة

- منطقة التي انتشرت بها الديانة المسيحية يمثلها على الخريطة الرقم (٢) ص ١٩

- منطقة ظهر بها مدعي النبوة طليحة يمثلها على الخريطة الرقم (٤) ص ٢٩



(٢)

تابع / امتحان الفترة الدراسية الاولى للصف الحادي عشر تاريخ اسلامي ٢٠١٥م / ٢٠١٦م

السؤال الثاني : (مقال) ويتكون من (أ - ب - ج) :-
(أ) علل لما يلي تعليلا مناسباً :-

١- أهمية السرايا في الاسلام . ص ٣٧ درجة ويكتفى بنقطتين

- ضمان أمن المدينة ومراقبة الحدود.
- اشعار القبائل المجاورة بهيبة الدولة وعقد معاهدات صداقة معها .
- الوقوف علي تحركات قريش ضد الدولة الإسلامية .
- التعرض لقبائل قريش التجارية .

٢- معارضة قريش للدعوة الإسلامية . ص ٢٨ درجة ويكتفى بنقطتين

- أن قريش لم تفرق بين النبوة والسيادة وظنت أن التسليم بدين محمد معناه التسليم له بالزعامة ولبنى عبدالمطلب بالسيادة .
- أن الرسول كان يدعو الي المساواة بين الناس وهي أساس المجتمع الإسلامي وقريش ترفض ذلك .
- التمسك بعادات وتقاليد الإباء والاجداد .
- الخوف من فقدانهم للثروة والجاه اللذين كانوا يتمتعون بها ويدعونها حقاً لهم بسبب خدمتهم للأصنام ورعايتهم للحجاج .


(ب) برهن على صدق العبارات التالية :- ص ٢٠ درجتان ويكتفى بنقطتين

- ١- تميزت شبه الجزيرة العربية بمميزات هيأتها لتكون بيئة قادرة على تقبل رسالة الإسلام
- أن الجزيرة العربية كانت خارج نطاق الصراع بين الفرس والروم .
 - الموقع الجغرافي لشبه الجزيرة العربية وسط العالم القديم .
 - وجود البيت الحرام في مكة .
 - لغة العرب وما تمتاز بها من خصائص يجدر بها أن تكون لغة المسلمين .
 - صفاء الفكر فلم يتأثر بمعتقدات اليهود والنصارى وفلسفة اليونان .
- (ج) عرف المفاهيم التالية :- ص ١٨ - ٤٣ - ١٥ درجة لكل نقطة

١- بيعة الرضوان : مبايعة المسلمين للرسول علي رد أذي قريش إذا اعتدت علي وفدهم بعد أشاعه مقتل عثمان بن عفان .

٢- القبيلة : مجموعه من الناس تربطهم رابطة القرابة والنسب والدم .

٣- زواج المقت : زواج الابن من زوجة أبيه بعد وفاته .



مركز الدراسات والبحوث

تابع / امتحان الفترة الدراسية الأولى للصف الحادي عشر تاريخ اسلامي ٢٠١٥م / ٢٠١٦م

السؤال الثالث :- ويتكون من (أ - ب - ج) :-
(أ) قارن بين بيعة العقبة الأولى وبيعة العقبة الثانية من حيث : ص ٣١ درجتين

وجه المقارنة	بيعة العقبة الأولى	بيعة العقبة الثانية
العام	١٢ للبيعة ٦٢١م	١٣ للبيعة ٦٢٢م
البنود	امنوا بالرسول ودعوته وبايعوه للإسلام.	التعهد بحماية الرسول والذود عنه

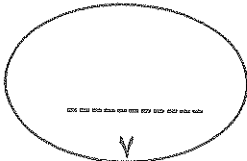
(ب) نفذ المطلوب منك بين الاقواس :- ص ٣٦ - ١٨ درجة ونص لكل نقطة ويكتفى ٣ نقاط

WWW.KweduFiles.Com

- ١- الصحيفة بالدولة الإسلامية . (البنود)
 - أن للجماعة شخصية دينية وسياسية ومن حق الجماعة أن تعاقب المفسد وان تؤمن المطيع
 - أن الحرية الدينية مكفولة للجميع .
 - سكان المدينة المسلمين يتعاونوا ماديا ومعنويا وان يردوا أي اعتداء علي مدينتهم .
 - أن الرسول هو الرئيس العام لسكان المدينة .
- ٢- المجتمع العربي قبل الإسلام . (طبقات القبيلة)
 - طبقة الصرحاء وهم أبناء القبيلة ويجمعهم نسب واحد ولهم حقوق وعليهم واجبات .
 - طبقة الموالي وهم عرب انظموا للقبيلة عن طريق الجوار أو الحلف أو العتق ولهم حقوق الصرحاء ماعدا الرئاسة .
 - طبقة العبيد هم أدنى طبقات المجتمع وعليهم كل الواجبات وليس لهم حقوق .

(ج) دلل على صحة العبارة التالية :- ص ٣٦ درجتان

- ١- تميزت شخصية الرسول - صلي الله عليه وسلم - بأنه قائدا للامة الإسلامية .
 - الحكمة السياسية لرسول في استقرار المجتمع من خلال وضع الصحيفة .
 - مساهمة الرسول في بناء المسجد .
 - المقدرة الفائقة للرسول في التنظيم والاحتياط للمستقبل .
 - اجتثاث الرسول جذور الفرقة واليغضاء وروح العصبية الجاهلية .
 - بناء الجبهة الداخلية للوقوف أمام أعدائه من قريش .



(٤)

عز/الزاد/السلامة

تابع /امتحان الفترة الدراسية الاولى للصف الحادي عشر تاريخ اسلامي ٢٠١٥م / ٢٠١٦م

السؤال الرابع :- ويتكون من (أ - ب - ج - د) :-

(أ) علل لما يلي :-

- ١- انتصار المشركين في غزوة أحد . ص ٤٢ درجة
- انشغال المسلمين بجمع الغنائم / ونزول الرماة من الجبل وانكشاف ظهر المسلمين
- عدم طاعة المسلمين لأوامر الرسول صلى الله عليه وسلم .
- ٢- اختيار الرسول للحبشة لهجرة المسلمين الاولى . ص ٢٩ درجة
- بعدها عن نفوذ قريش وفيها ملك عادل لا يظلم أحد .

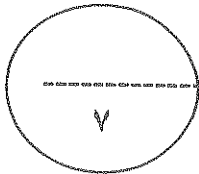
(ب) دلل على صحة هذه العبارة :

- ١- ضرب الأنصار أروع الأمثلة في التضحية والإيثار . ص ٣٥ درجة
- تقاسموا الأموال والبيوت والزوجات مع المهاجرين والمواخاة بالميراث .

- ٢- للأسواق أهمية فكرية قبل الإسلام . ص ١٩ درجة
- الأسواق خير مكان يعرض فيه الشعر والخطابة مثل سوق مجنة وذو مجاز وعكاظ .

(ج) فرق بين رد كل من هؤلاء الملوك على رسل النبي في دعوتهم للإسلام :- ص ٤٥

النجاشي ملك الحبشة	المقوقس حاكم مصر	كسرى ملك فارس
أسلم ووضعه على عينه	لم يسلم لكنه أكرم وفادته	مزق كتاب الرسول
درجة	درجة	درجة



(٥)

تمنياتنا لكم بالنجاح

أجب عن أربعة أسئلة مما يلي على أن يكون السؤال الأول إجبارياً:-

السؤال الأول (إجباري) ويتكون من (أ - ب - ج - د):-

أ) أكمل العبارات التالية بما يناسبها :-

- ١- النظام السياسي السائد في شبه الجزيرة العربية قبيل ظهور الإسلام يسمى
- ٢- الفرقة التي قاتلها الخليفة علي بن أبي طالب عليه السلام في معركة النهروان تسمى
- ٣- العام الذي فتح فيه المسلمون بيت المقدس
- ٤- المعركة التي قتل فيها القائد البيزنطي جرجور على يد عبدالله بن الزبير تسمى

ب) ضع خطا تحت العنصر المناسب من بين الخيارات التي تلي كل عبارة:-

١- حرفة لم يمارسها العرب قبيل ظهور الإسلام:

WWW.KweduFiles.Com

ب) الزراعة
د) الصناعة

أ) التجارة
ج) الرعي

٢- البيعة التي بايعها المسلمون للرسول صلى الله عليه وسلم بعد إشاعة مقتل عثمان بن عفان رضي الله عنه :

ب) العقبة الثانية
د) السقيفة

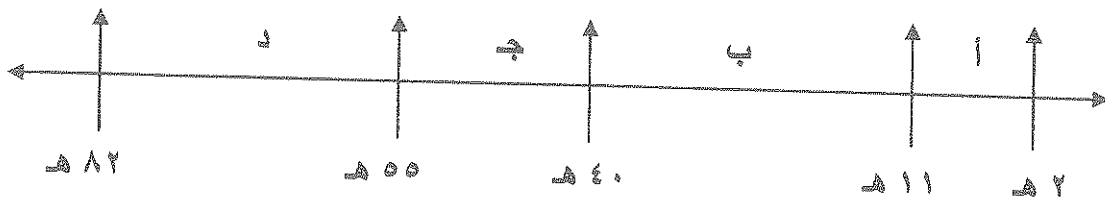
أ) العقبة الأولى
ج) الرضوان

٣- يعتبر الخليفة أبوبكر الصديق رضي الله عنه أنه أول من:

ب) وضع التاريخ الهجري
د) دون الدواوين في الإسلام

أ) سمي بأمير المؤمنين
ج) سمي القرآن مصحفا

٤- الفترة الزمنية التي امتد فيها حكم الخلفاء الراشدين يمثلها على المخطط الزمني الحرف:



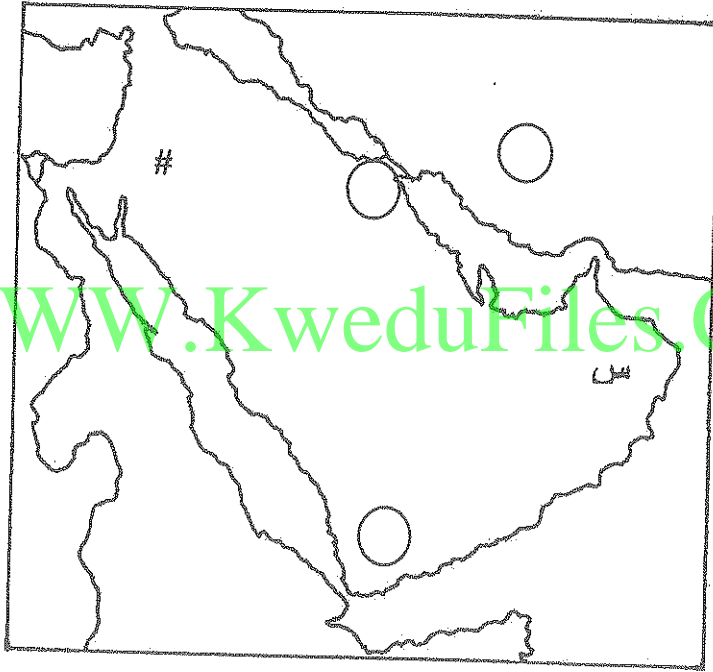
تابع امتحان التاريخ الإسلامى للصف الحادى عشر أدبى الفترة الدراسية الثانية العام الدراسى ٢٠١٥/٢٠١٦م

تابع السؤال الأول (الاجبارى) :-

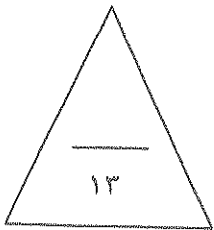
ج) اختر لكل عبارة فى المجموعة (أ) ما يرتبط بها من المجموعة (ب) بوضع الرقم فى المكان المناسب :-

الرقم	القائمة (أ)	المكان المناسب	القائمة (ب)
١-	قصي بن كلاب	()	قائد المسلمين فى معركة البويب
٢-	المثنى بن حارثة	()	أسس دار الندوة
٣-	عبدالله بن حذافة السهمي	()	قتل القائد الفارسي رستم
		()	حمل كتاب الرسول ﷺ الى كسرى ملك فارس

د) لاحظ خريطة شبه الجزيرة العربية التى أمامك ثم نفذ المطلوب :



- ضع الرقم (١) فى الدائرة التى تمثل معركة كاظمة (ذات السلاسل) .
- حدد بالرمز (/////) أول منطقة هاجر إليها المسلمون .
- الحرف (س) يمثل منطقة ظهر بها متنبئ يسمى
- الرمز (#) على الخريطة يمثل غزوة تسمى



السؤال الثاني (اختياري) ويتكون من (أ - ب - ج) :-

(أ) دل على صحة العبارة التالية :-

١- كانت شبه الجزيرة العربية مهياة لتقبل رسالة الإسلام.

- -
- -
- -

(ب) قارن طبقا للمجدول التالي :-

أوجه المقارنة	معركة اليرموك	معركة القادسية
العام هـ هـ
النتائج	١-	١-
	٢-	٢-

(ج) عرف ما يلي :-

(١) عرب عاربة:

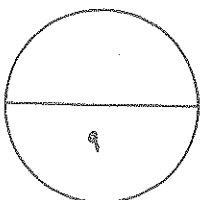
.....

(٢) قبيلة:

.....

(٣) خلافة:

.....



السؤال الثالث (اختياري) ويتكون من (أ - ب - ج) :-

أ) اكتب فقرة مترابطة من ثلاثة أسطر مستخدماً الكلمات التالية :-

(ولايات الروم - معركة أكتيوم - الغلال - الصراع المذهبي)

.....
.....
.....

ب) علل ما يلي :-

١) كان فتح العراق من أعسر الفتوح الإسلامية.

.....

.....

WWW.KweduFiles.Com

٢) أصبح المسلمون في حل من اتفاق صلح الحديبية بعد أقل من سنتين.

.....

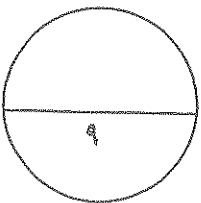
ج) عدد ما يلي :-

١- أعمال الرسول ﷺ قبل البعثة .

.....

.....

.....



السؤال الرابع (اختياري) ويتكون من (أ - ب - ج) :-

أ) فرق بين كل من :-

طبقة الصرحاء	طبقة الموالي
..... - -
الأسباب السياسية للفتوحات الإسلامية	الأسباب الدينية للفتوحات الإسلامية
..... - -

ب) عدد ما يلى :-

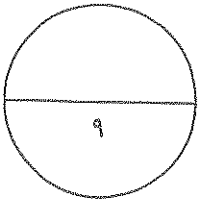
١- العوامل الحربية التي ساعدت المسلمين على الإنتصار على الفرس والروم.

..... -
..... -
..... -

ج) فند العبارة التالية :-

١- كانت مكانة المرأة عالية في البادية قبل الإسلام .

.....
.....



السؤال الخامس (اختياري) ويتكون من (أ - ب - ج) :-

أ) اقرأ الفقرة التالية ثم نفذ المطلوب :-

" بعد استقرار الرسول ﷺ بالمدينة ، بدأ في إرسال السرايا إلى مختلف الأماكن لضمان أمن المدينة و للوقوف على تحركات قريش ضد الدولة الإسلامية ومنها سرية نخلة التي تعرضت لقافلة قريش عام ٢ هـ مما أدى إلى وقوع غزوة بدر لاحقاً "

١- عرف ما تحته .

سرية:

٢- استخرج من الفقرة السابقة مهام السرية.

.....

.....

ب) ماذا يحدث لو لم :-

١- يقض الخليفة أبو بكر الصديق ﷺ على حركة الردة.

.....

٢- ينتصر المسلمون في معركة نهاوند.

.....

٣- يادن الخليفة عثمان بن عفان ﷺ معاوية بن أبي سفيان يغزو الروم بحرا.

.....

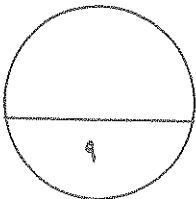
ج) علل ما يلي :-

١- معارضة قريش للدعوة الإسلامية.

.....

.....

.....



(انتهت الاسئلة)
مع تمنياتنا بالنجاح والتوفيق
(٦)

العام الدراسي : ٢٠١٥ / ٢٠١٦ م
الزمن : ساعتان وربع
عدد الأوراق : (٦)

امتحان نهاية الفترة الدراسية الثانية
المقرر الدراسي : التاريخ الإسلامي
للسف الحادي عشر أدبي

وزارة التربية
التوجيه الفني العام للاجتماعيات



أجب عن أربعة أسئلة مما يلي على أن يكون السؤال الأول إجبارياً :-

السؤال الأول (إجباري) ويتكون من (أ - ب - ج - د) :-

(أ) أكمل العبارات التالية بما يناسبها :- (لكل نقطة درجة)

- ١- النظام السياسي السائد في شبه الجزيرة العربية قبيل ظهور الإسلام يسمى القبلي (ص ١٥)
- ٢- الفرقة التي قاتلها الخليفة علي بن أبي طالب في معركة النهروان تسمى الخوارج (ص ٨٧)
- ٣- العام الذي فتح فيه المسلمون بيت المقدس ١٦ هـ (ص ٧٨)
- ٤- المعركة التي قتل فيها القائد البيزنطي جريجور على يد عبدالله بن الزبير تسمى العبادلة (ص ٨٣)

(ب) ضع خطاً تحت العنصر المناسب من بين الخيارات التي تلي كل عبارة :-
(لكل نقطة درجة)

١- حرفة لم يمارسها العرب قبيل ظهور الإسلام: (ص ١٦ - ١٧)

- (أ) التجارة
(ب) الزراعة
(ج) الرعي
(د) الصناعة

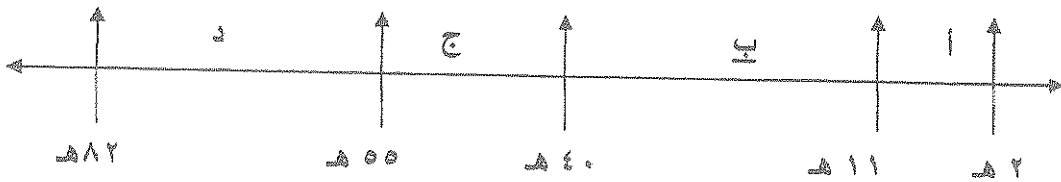
٢- البيعة التي بايعها المسلمون للرسول بعد إشاعة مقتل عثمان بن عفان : (ص ٤٣)

- (أ) العقبة الأولى
(ب) العقبة الثانية
(ج) الرضوان
(د) السقيفة

٣- يعتبر الخليفة أبوبكر الصديق أنه أول من: (ص ٦٤)

- (أ) سمي بأمر المؤمنين
(ب) وضع التاريخ الهجري
(ج) سمي القرآن مصحفاً
(د) دون الدواوين في الإسلام

٤- الفترة الزمنية التي امتد فيها حكم الخلفاء الراشدين يمثلها على المخطط الزمني الحرف: (ص ٥٣)



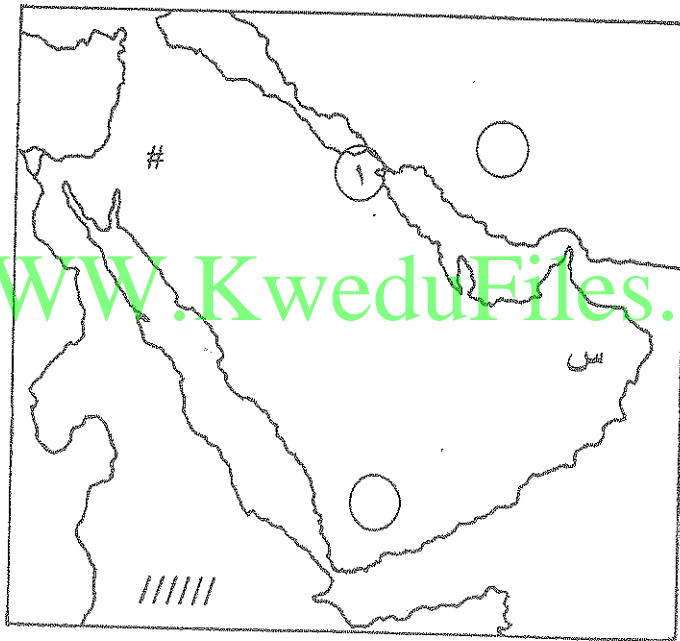
تابع امتحان التاريخ الإسلامي للصف الحادي عشر أدبي الفترة الدراسية الثانية العام الدراسي ٢٠١٥/٢٠١٦م

تابع السؤال الأول (الإجباري) :-

(ج) اختر لكل عبارة في المجموعة (أ) ما يرتبط بها من المجموعة (ب) بوضع الرقم في المكان المناسب :-
(ص ٢١ + ص ٤٥ + ص ٦٦) (لكل نقطة درجة)

الرقم	القائمة (أ)	المكان المناسب	القائمة (ب)
١-	قصي بن كلاب	(٢)	قائد المسلمين في معركة البويب
٢-	المنثي بن حارثة	(١)	أسس دار الندوة
٣-	عبدالله بن حذافة السهمي	()	قتل القائد الفارسي رستم
		(٣)	حمل كتاب الرسول ﷺ إلى كسرى ملك فارس

(د) لاحظ خريطة شبه الجزيرة العربية التي أمامك ثم نفذ المطلوب : (لكل نقطة نصف درجة)



ضع الرقم (١) في الدائرة التي تمثل معركة كاظمة (ص ٦٢)
حدده بالرمز (// // //) أول منطقة هاجر إليها المسلمون (ص ٢٩)
الحرف (س) يمثل منطقة ظهر بها متنبئ يسمى لقبط بن مالك (ص ٥٨)
الرمز (#) على الخريطة يمثل غزوة تسمى بموته (ص ٣٨)

يتبع في الصفحة الثالثة

(٢)

السؤال الثاني (اختياري) ويتكون من (أ - ب - ج) :-

(أ) دلل على صحة العبارة التالية :- (٣ درجات) (يكتفى بثلاث نقاط)

١- كانت شبه الجزيرة العربية مهياة لتقبل رسالة الإسلام. (ص ٢٠)

- أن شبه الجزيرة العربية كانت خارج منطقة الصراع بين الفرس والروم.
- أدرك العرب وجود الله ومع ذلك كانوا يعبدون الأصنام اعتقادا منهم ان ذلك يقربهم منه.
- الموقع الجغرافي لشبه الجزيرة العربية في وسط العالم القديم سهل نشر الدعوة في جميع أنحاء العالم.
- وجود البيت الحرام بمكة مهد لها أن تكون مركزا دينيا كبيرا.
- لغة العرب وما تمتاز به من خصائص يجدر بها أن تكون لغة للمسلمين.
- صفاء الفكر فلم يتأثر بمعتقدات اليهود أو النصارى أو فلاسفة اليونان وغيرهم.

(ب) قارن بين كل من طبقا للجدول التالي :- (لكل نقطة نصف درجة)

أوجه المقارنة	معركة اليرموك (ص ٧٠)	معركة القادسية (ص ٧١)
العام	١٥ هـ	١٥ هـ
النتائج	١- انتصار المسلمين وهزيمة الروم ٢- فقد الروم زهرة جندهم ٣- توجه جيوش المسلمين نحو دمشق لدرجة	١- استيلاء المسلمين على المدائن عاصمة الفرس ٢- فتح الطريق للمسلمين للتوغل في بلاد فارس ٣- غنم المسلمون غنائم عديدة ٤- فرار ملك الفرس يزيدجرد الثالث لدرجة

(ج) عرف ما يلي :- (درجة لكل نقطة)

(١) عرب عاربة: (ص ١٣)
...هم بنو يعرب بن قحطان و سكنوا جنوب شبه الجزيرة العربية.

(٢) قبيلة: (ص ١٥)
...مجموعة من الناس تربطهم رابطة القرابة والنسب والدم.

(٣) خلافة: (ص ٥٣)
...رياسة دنيوية ودينية وغايتها حمل الناس على ما فيه صلاحهم باتباع نصوص كتاب الله وسنة نبيه.



تابع امتحان التاريخ الإسلامى للصف الحادى عشر أدنى الفترة الدراسية الثانية العام الدراسي ٢٠١٥/٢٠١٦م

السؤال الثالث (اختياري) ويتكون من (أ - ب - ج) :-

(أ) اكتب فقرة مترابطة من ثلاثة أسطر مستخدما الكلمات التالية :- (ص ٧٣)

(٣ درجات منها نصف درجة لكل كلمة مستخدمة و درجة للتنسيق الكلي للفقرة)

(ولايات الروم - معركة أكتيوم - الغلال - الصراع المذهبي)
كانت مصر إحدى ولايات الروم التي تم السيطرة عليها عام ٣١ ق.م بعد معركة أكتيوم . وكانت مخزنا يمد روما بحاجتها من الغلال . وأهلك أهل مصر بالضرائب والصراع المذهبي مما جعل الشعب يتأمل دولة جديدة تخلصهم من تلك المظالم .

(ب) علل ما يلي :-

(١) كان فتح العراق من أعسر الفتوح الإسلامية .
يكتفى بنقطتين درجتان (ص ٦٨)

- ... لصعوبة الارض .

- ... ومجاري المياه .

(٢) أصبح المسلمون في حل من اتفاق صبح الحبيبي بعد أقل من سنتين .
درجة (ص ٤٧)

... بسبب اعتداء قبيلة بكر ومساعدة قريش لهم على قبيلة خزاعة .

(ج) عدد ما يلي :- (٣ درجات) (يكتفى بثلاث نقاط)

١ - أعمال الرسول ﷺ قبل البعثة . ص ٢٢ و ٢٤

- الرعي .

- التجارة .

- حلف الفضول .

- حرب الفجار .

- إعادة بناء الكعبة .



تابع امتحان التاريخ الإسلامي للصف الحادي عشر أدبي الفترة الدراسية الثانية العام الدراسي ٢٠١٥/٢٠١٦م

السؤال الرابع (اختياري) ويتكون من (أ - ب - ج) :-

(أ) فرق بين كل من :- (لكل نقطة درجة)

طبقة الموالى	طبقة الصرحاء (ص ١٨)
- هم عرب انضموا للقبيلة إما عن طريق الجوار أو الحلف أو العتق ولهذه الطبقة حقوق الأحرار الصرحاء ما عدا الرئاسة.	- هم أبناء القبيلة يجمعهم نسب واحد ولهم الكثير من الحقوق وعليهم واجبات أهمها الدفاع عن القبيلة وحمايتها وتوجب عقوبة الخلع على كل من يتخاذل في هذا الواجب.
الأسباب الدينية للفتوحات الإسلامية	الأسباب السياسية للفتوحات الإسلامية (ص ٦١)
- نشر الرسالة المحمدية. - إعلاء كلمة الله. - تحرير الانسان من عبودية البشر الى عبودية الله. (يكتفى بنقطة واحدة)	- حماية الدولة الاسلامية ضد الاخطار الخارجية للمحافظة على وحدة متماسكة للدولة.

(ب) عدد ما يلي :- (٣ درجات) (يكتفى بثلاث نقاط)

١- العوامل الحربية التي ساعدت المسلمين على الإنتصار على الفرس والروم . (ص ٧٥)



- خفة المقاتل العربي وتحمله للجوع والعطش.
- معرفة العرب لأساليب القتال المتنوعة وحرب الصحراء .
- القيادة الموحدة والحكيمة.
- قوة القادة وحنكتهم السياسية.

(ج) فند العبارة التالية :- (درجتان)

١- كانت مكانة المرأة عالية في البادية قبل الاسلام . (ص ١٨)

تدنت مكانة المرأة بالبادية حيث المبالغة في صونها وحمايتها فانتشرت عادة وأد البنات وانتشرت عادات مثل تعدد الزوجات الى عدد غير معروف والجمع بين الاختين وزواج الابن من زوجة أبيه الذي عرف بالاسلام بزواج المقت.

تابع امتحان التاريخ الاسلامي للصف الحادي عشر أدبي الفترة الدراسية الثانية العام الدراسي ٢٠١٥/٢٠١٦ م

السؤال الخامس (اختياري) ويتكون من (أ - ب - ج) :-

(أ) اقرأ الفقرة التالية ثم نفذ المطلوب :-

" بعد استقرار الرسول ﷺ بالمدينة ، بدأ في إرسال سرايا إلى مختلف الأماكن لضمان أمن المدينة و للوقوف على تحركات قريش ضد الدولة الإسلامية ومنها سرية نخلة التي تعرضت لقافلة قريش عام ٢ هـ مما أدى إلى وقوع غزوة بدر لاحقاً "



درجتان

- ١- عرف ما تحته . (ص ٣٧) درجة
سرية: فرقة من الجنود بقيادة أحد الصحابة.
- ٢- استخرج من الفقرة السابقة مهام السرية.
- ضمان أمن المدينة.
- للوقوف على تحركات قريش ضد الدولة الاسلامية.

(ب) ماذا يحدث لو لم :-

- ١- يقض الخليفة أبو بكر الصديق ﷺ على حركة الردة. (ص ٦٠ - ٦١) يكتفى بنقطة درجة
- لم ترجع شبه الجزيرة كلها لدين الإسلام.
- لما اكتملت صفوف المجاهدين.
- لما خرجت الجيوش الاسلامية لنشر رسالة الإسلام.
- (ما يراه المصحح مناسباً)

- ٢- ينتصر المسلمون في معركة نهاوند. (ص ٦٨) يكتفى بنقطة درجة
- لما تم القضاء على آخر الجيوش الفارسية.
- لما سقطت الدولة الساسانية.
- (ما يراه المصحح مناسباً)

- ٣- يأذن الخليفة عثمان بن عفان ﷺ لمعاوية بن أبي سفيان بغزو الروم بحرا. (ص ٨٣) يكتفى بنقطة درجة
- لما بني أول اسطول اسلامي.
- لما فتحت قبرص.
- لما سيطر المسلمون على شواطئ الشام و آسيا الصغرى و جزيرة رودس.
- لما وقعت معركة ذات الصواري.
- (ما يراه المصحح مناسباً)

(ج) علل ما يلي :- (٣ درجات) يكتفى بثلاث نقاط

- ١- معارضة قريش للدعوة الإسلامية. (ص ٢٨)
- أن قريش لم تفرق بين النبوة و الزعامة و ظنت أن التسليم بيد محمد معناه التسليم له بالزعامة و ليني عبد المطلب بالسيادة.
- أن الرسول كان يدعو للمساواة بين الناس و قريش لا تريد ذلك.
- التمسك بعبادات و تقاليد الأبياء و الأجداد.
- الخوف من فقدانهم للثروة و الجاه اللذين كانوا يتمتعون بهما و يعدونها حقاً لهم و ذلك بسبب خدمتهم للأصنام و رعابتهم للحجاج.

(انتهت الاسئلة)

مع تمنياتنا بالنجاح و التوفيق

العام الدراسي : ٢٠١٤/٢٠١٥ م
الأسئلة في : صفحات
الزمن : ساعة واحدة

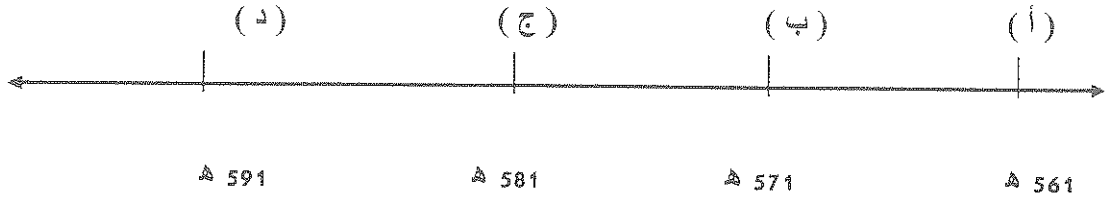
امتحان الفترة الدراسية الأولى
الصف الحادي عشر / الأدبي
مقرر : التاريخ الإسلامي

وزارة التربية
الإدارة العامة لمنطقة الفروانية
التعليمية
التوجيه الفني للاجتماعيات

السؤال الأول : ويتكون من (أ - ب - ج)

أ) ضع خطاً تحت البديل المناسب من بين البدائل التي تلي كل عبارة :-

١ - العام الذي يمثل المولد الشريف للرسول ﷺ على الخط الزمني التالي يمثلته الحرف :



٢ - العمل الذي قام به جد الرسول ﷺ عبد المطلب بن هاشم :

- (أ) أعاد حفر بئر زمزم
(ب) توحيد قريش وتأسيس دار الندوة
(ج) السقاية و الرفادة
(د) اللواء في الحرب

٣ - الرجل الذي دخل الرسول ﷺ مكة في حمايته بعد عودته من الطائف هو :

- (أ) مصعب بن عمير
(ب) العباس بن عبدالمطلب
(ج) عبد الله بن جحش
(د) المطعم بن عدي

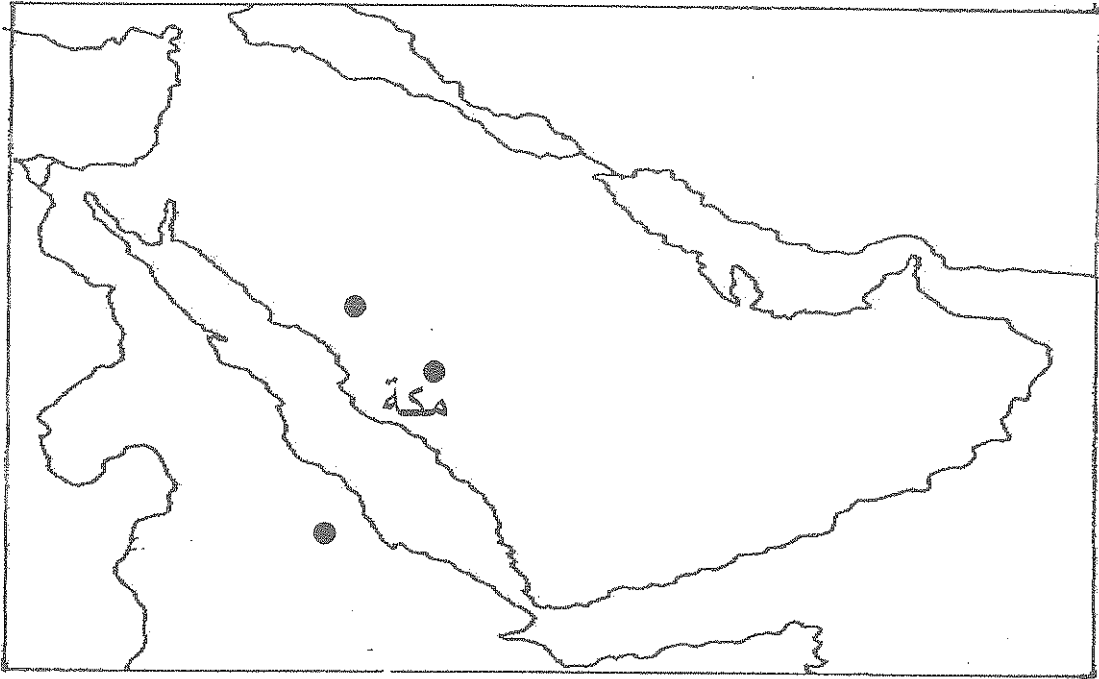
٤ - الحدث الأقدم بين الأحداث التاريخية التالية :

- (أ) نزول الوحي
(ب) إعادة بناء الكعبة
(ج) حرب الفجار
(د) زواج النبي ﷺ من السيدة خديجة

ب) أكتب المصطلح الدال على كل عبارة في الجدول التالي :-

م	العبارة	المصطلح
١	دستور وضعه الرسول ﷺ عند هجرته إلى المدينة لتنظيم الحياة فيها .	
٢	مبايعة اثنا عشر رجلاً من أهل يثرب الرسول ﷺ على الإسلام عام 621 م .	
٣	قصاصد فضلها العرب فعلفت على جدران الكعبة في الجاهلية .	
٤	المقر الذي اتخذهُ الرسول ﷺ مقراً للدعوة السرية في المرحلة الأولى .	

ج) لاحظ خريطة شبه الجزيرة العربية الصماء التالية ثم نفذ ما يلي :-



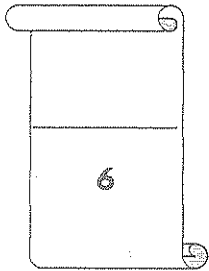
WWW.KweduFiles.Com

ظلل بحر القلزم بالرمز (// // // // //) ❖

ضع الرمز (Δ) على الهضبة التي تتوسط شبه الجزيرة العربية . ❖

ضع الرمز (X) على موطن قوم عاد . ❖

أرسم خط سير رحلة المسلمون إلى الحبشة ← ← ← ❖



السؤال الثاني: ويتكون من (أ - ب - ج)

أ) عرف ما يلي :-

١ - القبيلة :

.....

٢ - السرية :

.....

ب) دال على صحة العبارات التالية :-

١ - كانت شبه الجزيرة العربية مهياة لتقبل رسالة الإسلام.

..... *

..... *

..... *

٢ - يعتبر صلح الحديبية نصرا عظيما للرسول ﷺ ودعوته .

..... *

WWW.KweduFiles.Com

..... *

..... *

ج) علل لما يلي تاريخيا :-

١ - طرد الرسول ﷺ يهود بنو قينقاع من المدينة المنورة بعد غزوة بدر .

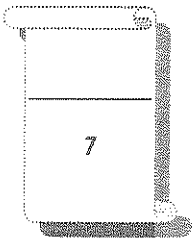
.....

.....

٢ - أصبح المسلمون في حل من اتفاق الحديبية عام ٨ هـ .

.....

.....



العام الدراسي : ٢٠١٤/٢٠١٥ م
الأسئلة في ٤ صفحات
الزمن : ساعة واحدة

امتحان الفترة الدراسية الأولى
الصف الحادي عشر / الأدبي
مقرر التاريخ الإسلامي

وزارة التربية
الإدارة العامة لمنطقة الفروانية التعليمية
التوجيه الفني للاجتماعيات

نموذج الاجابة

السؤال الأول : ويتكون من (أ - ب - ج)

(2 = 1/2 × 4)

أ) ضع خطا تحت البديل المناسب من بين البدائل التي تلي كل عبارة :-

١ - العام الذي يمثل المولد الشريف للرسول ﷺ على الخط الزمني التالي يمثلته الحرف : ص ٢١

(أ) (ب) (ج) (د)



591 هـ

581 هـ

571 هـ

561 هـ

٢ - العمل الذي قام به جد الرسول ﷺ عبد المطلب بن هاشم : ص ٢١

(أ) أعاد حفر بئر زمزم (ب) توحيد قريش وتأسيس دار الندوة

(ج) السقاية و الرفادة (د) اللواء في الحرب

٣ - الرجل الذي دخل الرسول ﷺ مكة في حمايته بعد عودته من الطائف هو : ص ٣

(أ) مصعب بن عمير (ب) العباس بن عبدالمطلب

(ج) عبد الله بن جحش (د) المطعم بن عدي

٤ - الحدث الأقدم بين الأحداث التاريخية التالية : ص ٢٥

(أ) نزول الوحي (ب) إعادة بناء الكعبة

(ج) حرب الفجار (د) زواج النبي ﷺ من السيدة خديجة

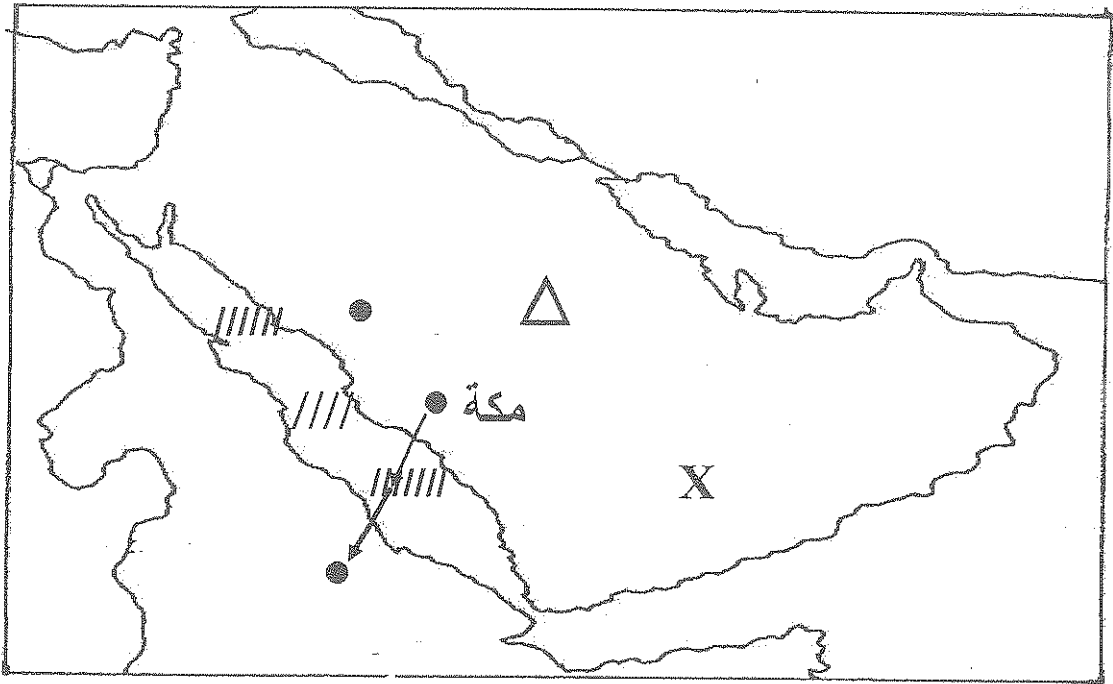
(2 = 1/2 × 4)

ب) أكتب المصطلح الدال على كل عبارة في الجدول التالي :

م	العبارة	المصطلح
١	دستور وضعه الرسول ﷺ عند هجرته إلى المدينة لتنظيم الحياة فيها .	الصحيفة ص ٣٦
٢	مبايعة اثنا عشر رجلا من أهل يثرب الرسول ﷺ على الإسلام عام ٦٢١ م .	بيعة العقبة الأولى ص ٣١
٣	قصاصد فضلها العرب فعلقت على جدران الكعبة في الجاهلية .	المعلقات ص ١٩
٤	المقر الذي اتخذهُ الرسول ﷺ مقرا للدعوة السرية في المرحلة الأولى .	دار الأرقم بن الأرقم ص ٢٧

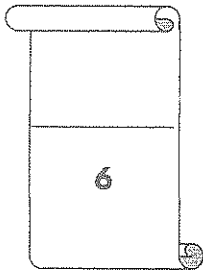
(2 = 1/2 × 4)

ج) لاحظ خريطة شبه الجزيرة العربية الصماء التالية ثم نفذ ما يلي :-



WWW.KweduFiles.Com

- ص ١٣ (// // // //) ظلل بحر القلزم ❖
- ص ١٤ ضع الرمز (Δ) على الهضبة التي تتوسط شبه الجزيرة العربية . ❖
- ص ١٣ ضع الرمز (X) على موطن قوم عاد . ❖
- ص ٢٩ ارسم خط سير رحلة المسلمون إلى الحبشة (← ← ←) ❖



السؤال الثاني : ويتكون من (أ - ب - ج)

أ) عرف ما يلي :-

$$(2 = 1 \times 2)$$

١ - القبيلة :

ص ١٥

- مجموعة من الناس تربطهم رابطة القرابة و النسب و الدم .

٢ - السرية :

ص ٢٧

- فرقة من الجنود بقيادة أحد الصحابة .

ب) دلّل على صحة العبارات التالية :-

$$(3 = \frac{1}{2} \times 6)$$

ص ٢٠

١ - كانت شبه الجزيرة العربية مهية لتقبل رسالة الإسلام :-

* كانت خارج منطقة الصراع بين الفرس و الروم . * موقع شبه الجزيرة العربية وسط العالم القديم .

* وجود البيت الحرام في مكة . * ادرك العرب وجود الله .

* لغة العرب و ما تمتاز به من خصائص . * صفاء الفكر .

ص ٤٥

٢ - يعتبر صلح الحديبية نصرا عظيما للرسول ﷺ ودعوته :

* اعتراف صريح من قريش بالدولة الاسلامية . * اسلام كثير من أبطال قريش .

* تفرغ الرسول ﷺ لنشر الدعوة للإسلام . * تفرغ المسلمين لمواجهة خطر اليهود في خيبر .

$$(2 = 1 \times 2)$$

ج) علّل لما يلي تاريخيا :

ص ٤١

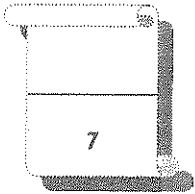
١ - طرد الرسول ﷺ يهود بنو قينقاع من المدينة المنورة بعد غزوة بدر :-

* كان اليهود يتربصون بالمسلمين ويثيرون الفتن والقتال ويأملون في انتصار قريش والقضاء على الإسلام والمسلمين في المدينة ، فآلمهم انتصار المسلمين وأظهروا العداوة وتعمدوا إهانة المسلمين في المدينة فأخرج الرسول ﷺ بنو قينقاع من المدينة المنورة .

ص ٤٧

٢ - أصبح المسلمون في حل من أتفاق الحديبية عام ٨ هـ :-

* بسبب اعتداء قبيلة بكر ومساعدة قريش لهم على قبيلة خزاعة التي كانت في حلف الرسول ﷺ .



السؤال الثالث : ويتكون من (أ - ب - ج)

أ) فند العبارة التالية :-

١ - قام اليهود بدعم وبناء الوحدة الاجتماعية في المدينة . ($1 = \frac{1}{2} \times 2$) ص ٣٦

العبارة خاطئة لان اليهود عملوا على :

* إثارة البغضاء بين المهاجرين و الأنصار . * محاولة الإيقاع بين الأوس و الخزرج .

* حرضوا قريشا ومشركي مكة على غزو المدينة المنورة .

ب) اكتب مثالين لكل مما يلي : ($2 = \frac{1}{2} \times 4$) ص ١٨

١ - تدنى مكانة المرأة العربية في البادية قبل الإسلام :

* تعدد الزوجات والجمع بين الأختين .

* في البادية تدنت مكانة المرأة وانتشرت عادة وأد البنات .

* زواج الابن من زوجة أبيه و هو ما عرف (بزواج المقت) .

٢ - أساليب قريش في مقاومة الدعوة الإسلامية :- ص ٢٨-٢٩-٣٠

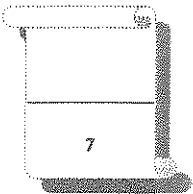
* اللامبالاة وعدم الاهتمام بأمر الدعوة في البداية . * تعذيب العبيد وضعفاء المسلمين .

* عرضت قرش على الرسول الجاه المال * أسلوب الجدل والاستهزاء .

* أرسلت قريش وفدا إلى عمه حتى يحفز عن الدعوة . * مقاطعة بني هاشم اقتصاديا واجتماعيا .

ج) قارن بين كل مما يأتي حسب معايير المقارنة الموضحة في الجدول التالي : ($4 = 1 \times 4$)

معايير المقارنة	كسرى ملك الفرس	المنذر بن ساوي ملك البحرين ص ٤٥
موقفه من الإسلام	- مزق كتاب الرسول ﷺ فمزق الله ملكه .	- أسلم وأسلم قومه .
معايير المقارنة	غزوة خيبر ٧هـ	غزوة مؤتة ٨هـ ص ٤٦
النتائج	* إنهاء قوة اليهود في شبه الجزيرة العربية .	* استشهاد قادة المسلمين ورجوع الجيش بقيادة خالد بن الوليد .

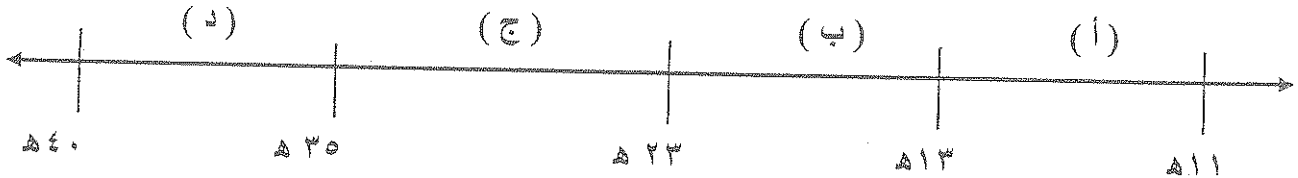




السؤال الأول إجباري يتكون من (أ - ب - ج - د - هـ) :

(أ) أختار البديل المناسب من بين البدائل التي كل عبارة فيما يلي :

١- الفترة الزمنية التي حكم فيها الخليفة الراشدي عثمان بن عفان رضي الله عنه يمثلها على الخط الزمني الحرف :



٢- آخر الحروب التي دارت بين قبيلتي الأوس والخزرج عرفت بيوم :

(أ) - أحوث

(ب) - ارماث

(ج) - بعث

٣- متزعم حركة الردة في الدائرة المظلمة على الخريطة المقابلة :

(أ) - الأسود العنسي

(ب) - مسيلمة الكذاب

(ج) - طلحة بن خوالد

٤- الدولة التي تم القضاء عليها بعد معركة نهاوند عام ٢١ هـ :

(أ) - المناذرة

(ب) - البيزنطية

(ج) - الغساسنة

٥- العمل الذي قام به قصي بن كلاب :

(أ) - أعاد حفر بئر زمزم

(ب) - توحيد قريش وتأسيس دار الندوة

(ج) - السقاية و الرفادة

(د) - اللواء في الحرب

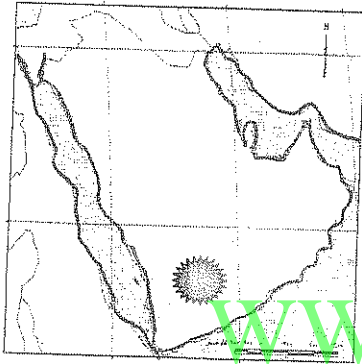
٦- الحدث الأقدم من بين الأحداث التاريخية التالية :

(أ) - نزول الوحي

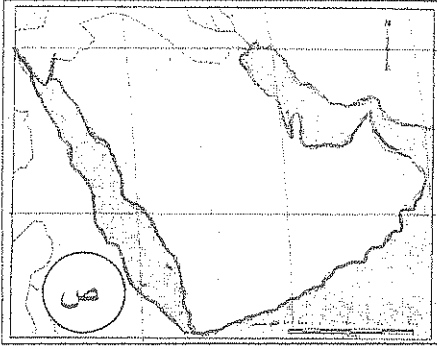
(ب) - إعادة بناء الكعبة

(ج) - حرب الفجار

(د) - زواج النبي صلى الله عليه وسلم من السيدة خديجة



(ب) - أكمل العبارات التالية بما يناسبها :



- ١ - أول ديوان تأسس في الإسلام اسمه-----
- ٢ - أول من سن رحلتي الشتاء و الصيف اسمه-----
- ٣ - الدار التي اتخذها الرسول ﷺ مقراً لدعوته السرية تسمى دار-----
- ٤ - عاصمة بلاد فارس قبل الإسلام مدينة أسمها-----
- ٥ - الحرف (ص) على الخريطة المقابلة يرمز إلى منطقة هاجر إليها المسلمون الأوائل اسمها-----
- ٦ - قائد إسلامي تمكن من قتل القائد البيزنطي جريجور في موقعة العبادة أسمه-----

(ج) صنف مواقف الملوك من رسل النبي ﷺ في دعوتهم للإسلام في الجدول التالي:

- مزق كتاب الرسول ﷺ فمزق الله ملكه.
- خاف على ملكه ولم يسلم.
- اسلم ووضع على عينه.
- هدد بغزو المدينة المنورة.
- لم يسلم ولكنه أكرم وفادته.

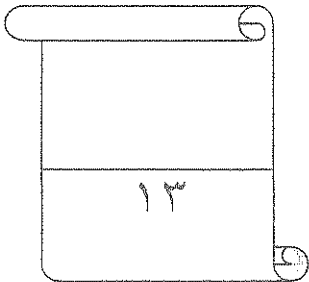
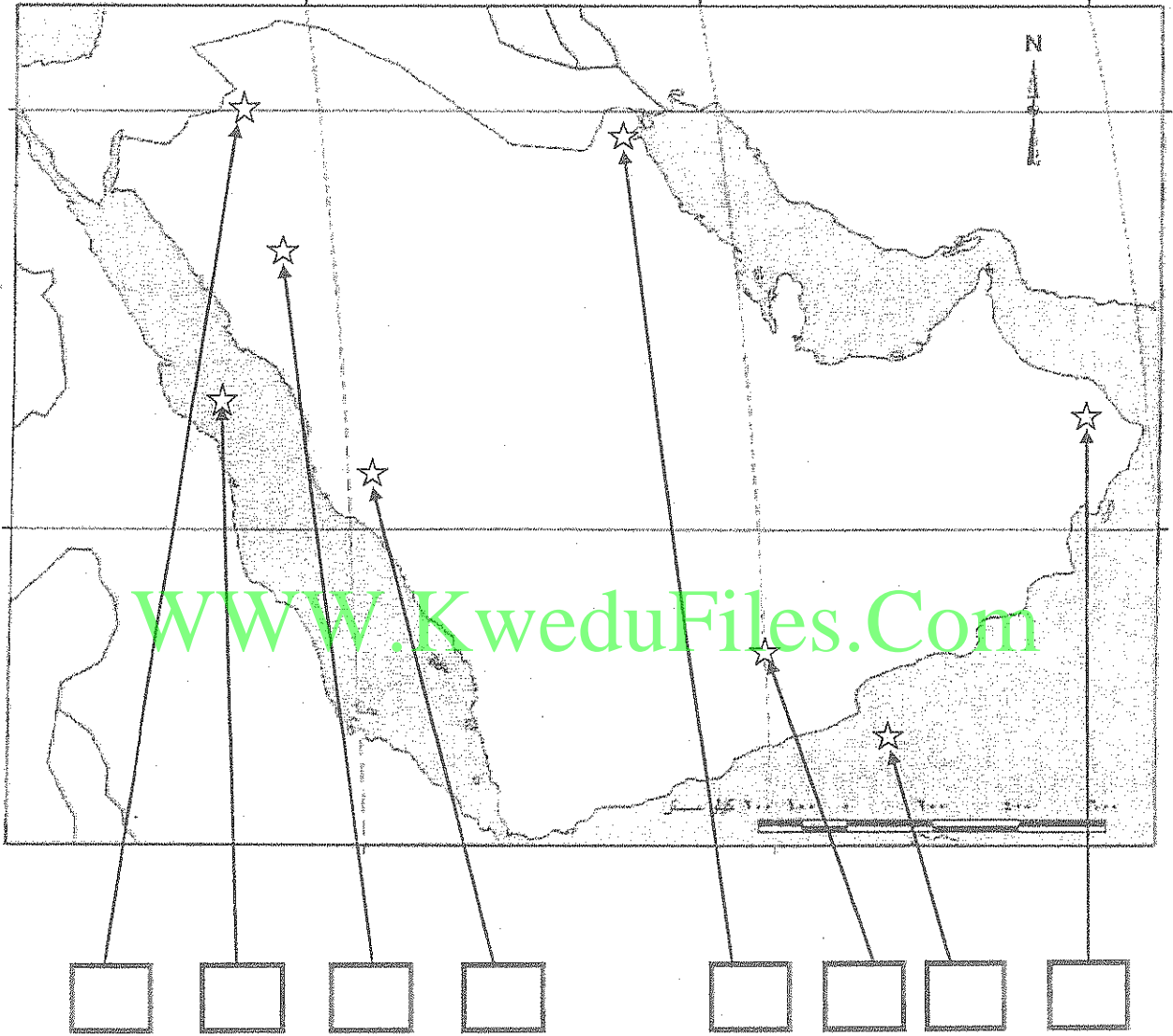
الخارث الغساني أمير الغساسنة	المقوقس حاكم مصر	كسرى ملك الفرس	النجاشي ملك الحبشة	هرقل قيصر الروم

(د) أختار من المجموعة (ب) ما يناسبها من المجموعة (أ) بوضع الرقم الصحيح :

الرقم	(أ)	الرقم الصحيح	(ب)
١	بنو قينقاع		تم طردهم بعد غزوة أحد
٢	بنو النضير		عاقبهم المسلمون بعد غزوة الخندق
٣	بنو قريظة		تم القضاء عليهم بعد غزوة خيبر
			تعدوا إهانة المسلمين فأخرجهم النبي الكريم من المدينة المنورة بعد غزوة بدر

(هـ) على خريطة شبه الجزيرة المرفقة ضع الرقم في المربع المناسب لكل عبارة مما يلي :-

- ١- موطن قوم عاد .
- ٢- موطن مدعي النبوة لقيط بن مالك .
- ٣- موقع معركة كاظمة .
- ٤- بحر القلزم .
- ٥- موقع الحساننة .
- ٦- بحر العرب .



درجة السؤال الأول.....

السؤال الثاني : (اختياري) ويتكون من (أ ب - ج) :

أ) علل ما يأتي تاريخياً :

١ - ارتداد بلاد أرمينيا عن الدولة الإسلامية في أعقاب مقتل الخليفة عمر بن الخطاب رضي الله عنه.

..... *

..... *

..... *

٢ - تعتبر معركة اليرموك عام ١٥ هـ من أعظم المعارك الإسلامية .

..... *

..... *

..... *

٣ - هزيمة المسلمين في غزوة أحد عام ٣ هـ .

..... *

..... *

ب) ما أوجه الاختلاف بين كل من :

مكانة المرأة في النظام الملكي قبل الإسلام	مكانة المرأة في النظام القبلي (البادية) قبل الإسلام
.....
.....

ج) دال على صحة العبارات التالية :

١ - براعة الرسول صلى الله عليه وسلم في التخطيط العسكري لغزوة بدر .

..... *

..... *

..... *

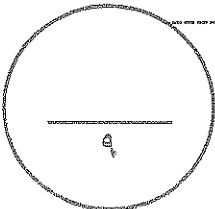
٢ - تميزت شبه الجزيرة العربية بمميزات هيأتها لتقبل رسالة الإسلام .

..... *

..... *

..... *

درجة السؤال الثاني.....



السؤال الثالث : (اختياري) ويتكون من (أ - ب - ج) :

(أ) وازن بين الاوضاع الداخلية أثناء الفتوحات الإسلامية لكل من :

الفرس	الروم
*	*
*	*
*	*

(ب) إقرأ العبارات التالية ثم أكتب المناسبة التي قبلت في كل منها :

١- " لا تخونوا ولا تغدروا ولا تغلوا ولا تمثلوا ولا تقتلوا طفلاً ولا شيخاً كبيراً و لا امرأة " .

..... المناسبة :

٢- " انك إن فتحتها كانت قوة للمسلمين و عوناً لهم " .

..... المناسبة :

٣- " يا بني لا تخوضوا دماء المسلمين خوفاً ، تقولون قتل أمير المؤمنين " .

..... المناسبة :

(ج) نفذ المطلوب بين القوسين :

١ - حركة الردة . (أسبابها)

.....

.....

٢ - غزوة الخندق . (نتائجها)

.....

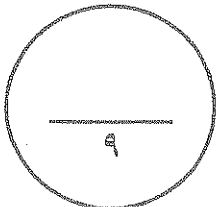
.....

٣ - الصحيفة التي وضعها الرسول ﷺ لسكان المدينة . (بنودها)

.....

.....

درجة السؤال الثالث



السؤال الرابع (اختياري) ويتكون من (أ - ب - ج) :

أ) قارن حسب ما هو مطلوب منك في الجدول التالي:

معركة القادسية	معركة أجنادين	من حيث
المسلمون ×	المسلمون ×	الأطراف
		القائد الإسلامي
انتصار المسلمين	انتصار المسلمين	النتائج

ب) عرف ما يلي:

١ - خلافة :

٢ - قبيلة :

٣- عام الرمادة :

WWW.KweduFiles.Com

ج) أكتب فيما يلي :

١ - محاولات اليهود لهدم الوحدة الاجتماعية الجديدة في المدينة .

*

*

٢ - أهم مهام السرايا في عهد الرسول ﷺ .

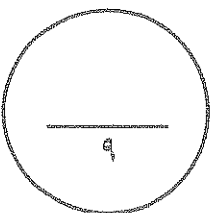
*

*

٣ - نتائج فتح مكة .

*

*



درجة السؤال الرابع



السؤال الخامس: (اختياري) ويتكون من (أ - ب - ج) :

أ) أجب عن الأسئلة التالية :

١ - عدد أهم بنود صلح الحديبية ٦ هـ .

.....*

.....*

.....*

٢ - برهن على أن صلح الحديبية كان نصراً عظيماً للرسول ﷺ ودعوته .

.....*

.....*

.....*

ب) لخص إنجازات الشخصيات التالية تاريخياً :

١ - الخليفة عمر بن الخطاب ؓ .

.....*

.....*

WWW.KweduFiles.Com

٢ - الخليفة عثمان بن عفان ؓ .

.....*

.....*

ج) قارن حسب ما هو مطلوب منك في الجدول التالي:

نتائج غزوة مؤتة	نتائج غزوة خيبر
.....**
.....**
.....**

درجة السؤال الخامس

تمت الأسئلة ..

٧

٩

العام الدراسي : ٢٠١٣/٢٠١٤ م
عدد الأوراق (٧)
الزمن : ساعتان وربع

اختبار نهاية الفترة الدراسية الثانية
الصف الحادي عشر الأدبي
التاريخ الإسلامي



دولة الكويت
وزارة التربية
التوجيه الفني العام للاجتماعيات

نموذج الإجابة

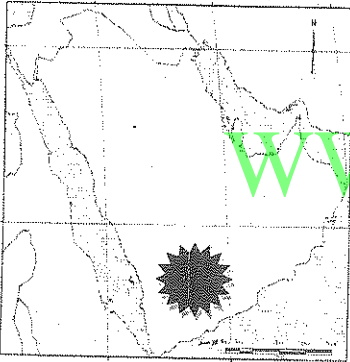
السؤال الأول إجباري يتكون من (أ - ب - ج - د - هـ) :

أ) أختَر البديل المناسب من بين البدائل التي كل عبارة فيما يلي

١- الفترة الزمنية التي حكم فيها الخليفة الراشدي عثمان بن عفان يمثلها على الخط الزمني الحرف : ص ٨١



ص ٣٥



٢- آخر الحروب التي دارت بين قبيلتي الأوس والخزرج عرفت يوم :

ارماث

عماس

(أ) - أغواث

(ج) - بعاث

٣- متزعم حركة الردة في الدائرة المظللة على الخريطة المقابلته اسمه : ص ٥٨

(أ) - مسيلمة الكذاب

(د) - سجاح

(ج) - طليحة بن خويلد

٤- الدولة التي تم القضاء عليها بعد معركة نهاوند عام ٢١ هـ : ص ٦٨

(ب) - البيزنطية

(د) - الساسانية

(أ) - المناذرة

(ج) - الغساسنة

ص ٢١

٥- العمل الذي قام به قصي بن كلاب :

(ب) - توحيد قريش وتأسيس دار الندوة

(د) - اللواء في الحرب

(أ) - أعاد حفر بئر زمزم

(ج) - السقاية و الرفادة

٦- الحدث الأقدم من بين الأحداث التاريخية التالية : ص ٢٥

(ب) - إعادة بناء الكعبة

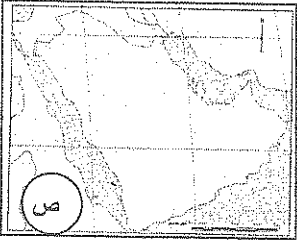
(د) - زواج النبي ﷺ من السيدة خديجة

(أ) - نزول الوحي

(ج) - حرب الفجار

ب) - أكمل العبارات التالية بما يناسبها :

- ١ - أول ديوان تأسس في الإسلام اسمه-----الجند (العطاء)-----ص ٧٧
- ٢ - أول من سن رحلتي الشتاء و الصيف اسمه-----هاشم بن عبد مناف-----ص ٢١
- ٣ - الدار التي اتخذها الرسول ﷺ مقراً لدعوته السرية تسمى دار-----الأرقم بن الأرقم-----ص ٢٧
- ٤ - عاصمة بلاد فارس قبل الإسلام مدينة أسمها-----المدائن-----ص ٦٧
- ٥ - الحرف (ص) على الخريطة المقابلة يرمز إلى منطقة هاجر إليها المسلمون الأوائل اسمها-----الحبشة-----ص ٢٩
- ٦ - قائد إسلامي تمكن من قتل القائد البيزنطي جرجور في موقعة العبادلة أسمه-----عبدالله بن الزبير-----ص ٨٣



ج) صنف مواقف الملوك من رسل النبي ﷺ في دعوتهم للإسلام في الجدول التالي: ($2\frac{1}{2} = \frac{1}{2} \times 5$)

- مزق كتاب الرسول ﷺ فمزق الله ملكه - خاف على ملكه ولم يسلم (ص ٥٩)
- اسلم ووضع على عينه - هدد بغزو المدينة المنورة
- لم يسلم ولكنه أكرم وفادته

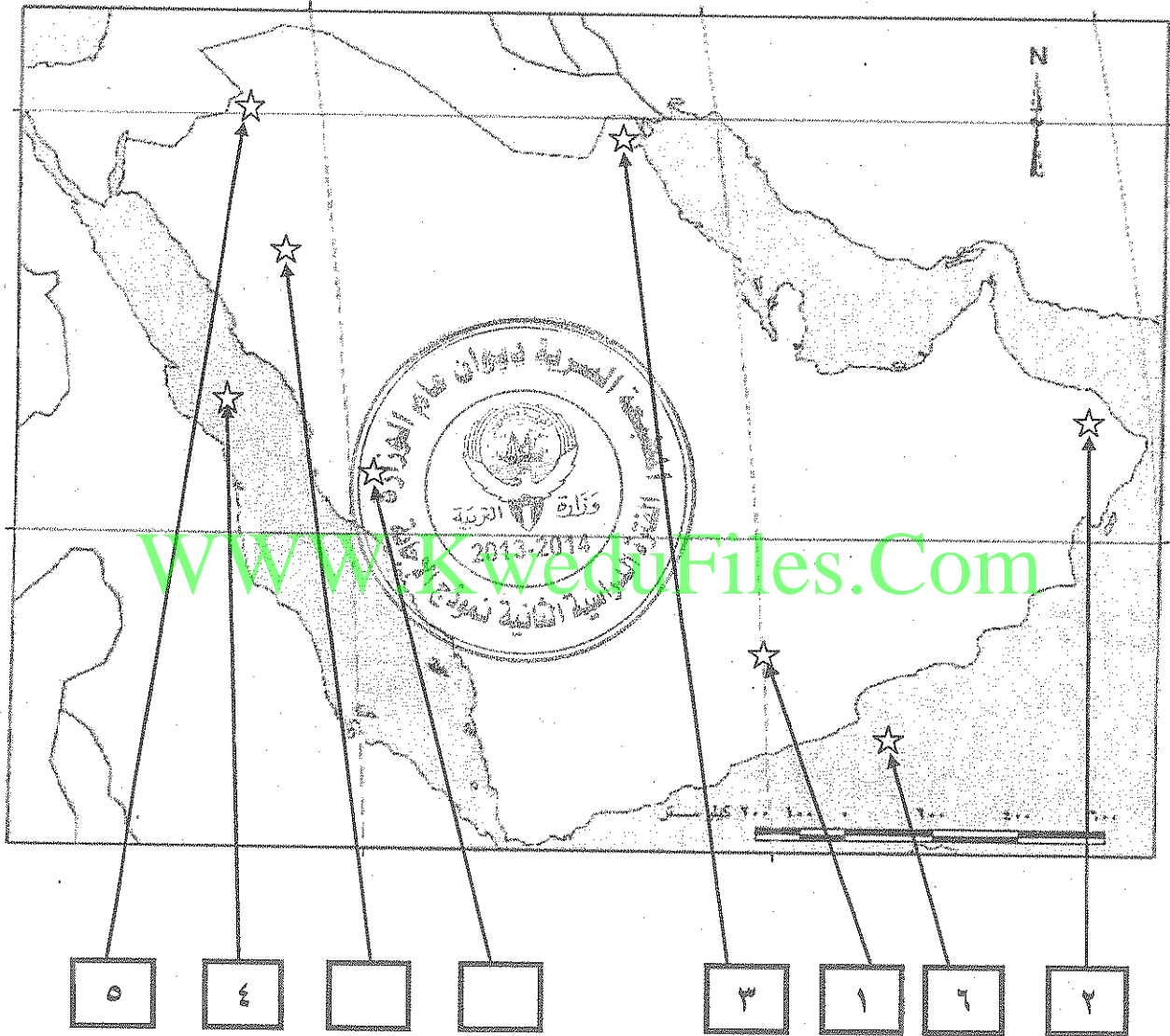
الهارث الغساني أمير الغساسنة	المقوقس حاكم مصر	كسرى ملك الفرس	النجاشي ملك الحبشة	هرقل قيصر الروم
- هدد بغزو المدينة المنورة	- لم يسلم ولكنه أكرم وفادته	- مزق كتاب الرسول ﷺ فمزق الله ملكه	- اسلم ووضع على عينه	- خاف على ملكه ولم يسلم

د) أختار من المجموعة (ب) ما يناسبها من المجموعة (أ) بوضع الرقم الصحيح :

الرقم	(أ)	الرقم الصحيح	(ب)
١	بنو قينقاع	٢	تم طردهم بعد غزوة أحد ص ١٤
٢	بنو النضير	٣	عاقبهم المسلمون بعد غزوة الخندق ص ٤٣
٣	بنو قريظة		تم القضاء عليهم بعد غزوة خيبر.
		١	تعمدوا إهانة المسلمين فأخرجهم النبي الكريم من المدينة المنورة بعد غزوة بدر ص ١٤

هـ) على خريطة شبه الجزيرة المرفقة ضع الرقم في المربع المناسب لكل عبارة مما يلي :-

- ١- موطن قوم عاد . ص ١٣
٢- موطن مدعي النبوة لقيط بن مالك . ص ٥٨
٣- موقع معركة كاظمة . ص ٦٢
٤- بحر القلزم . ص ١٤
٥- موقع الغساسنة . ص ٢٣
٦- بحر العرب . ص ١٩



٢٦ نقطة لكل نقطة نصف درجة = ١٣ درجة

السؤال الثاني : (اختياري) ويتكون من (أ - ب - ج)

$$(٤ = \frac{1}{2} \times ٨)$$

أ) علل ما يأتي تاريخياً :

- ١ - ارتداد بلاد أرمينيا عن الدولة الإسلامية في إغراب مقتل الخليفة عمر بن الخطاب رضي الله عنه . ص ٨٣
 - * ضعف حاميتها .
 - * قلة عدد الحامية .
 - * رغبتهم في التخلص من المسلمين .
 - ٢ - تعتبر معركة اليرموك عام ١٥ هـ من أعظم المعارك الإسلامية . ص ٧٠
 - * هزيمة جيش الروم أقوي جيوش العالم .
 - * فقد جيش الروم زهرة جنده .
 - * مغادرة الروم بلاد الشام نهائياً .
 - ٣ - هزيمة المسلمين في غزوة أحد عام ٣ هـ . ص ٤٢
 - * نزول الرماة من فوق الجبل و انكشف ظهر المسلمين .
 - * انشغال المسلمين بجمع الغنائم .
- ب) ما أوجه الاختلاف بين كل من :

$$(٢ = ٢ \times ١) \quad \text{ص ١٨}$$

مكانة المرأة في النظام القبلي (البادية) قبل الإسلام	مكانة المرأة في النظام الملكي قبل الإسلام
في البادية تدنت مكانة المرأة وانتشرت عادة وأد البنات وتعدد الزوجات والجمع بين الأختين وزواج الابن من زوجة أبيه وهو ما عرف (بزواج المقت)	تبوأ المرأة مركز الرئاسة في النظام الملكي مثل بلقيس ملكة سبا

$$(٣ = \frac{1}{2} \times ٦)$$

ج) دلل على صحة العبارات التالية :

- ١ - براعة الرسول صلى الله عليه وسلم في التخطيط العسكري لغزوة بدر . ص ٤٠
 - * التخطيط لغزوة بدر وإدارتها بما يتفق والمفاهيم العسكرية الحديثة .
 - * تابع النبي صلى الله عليه وسلم أخبار قريش واستعداداتهم وقاد الجيش بنفسه .
 - * خرج بالجيش ووصل إلى بدر حتى يتمكن المسلمون من الشرب دون الكفار .
 - * خطب بالجيش قبيل المعركة وأوصاهم بالصبر والثبات والجهاد في سبيل الله .
 - * توجه إلى الله - عز و جل - بالدعاء بالنصر للمسلمين .
- ٢ - تميزت شبه الجزيرة العربية بمميزات هيأتها لتقبل رسالة الإسلام . ص ٢٠
 - * كانت خارج منطقة الصراع بين الفرس و الروم . * موقع شبه الجزيرة العربية وسط العالم القديم .
 - * وجود البيت الحرام في مكة . * أدرك العرب وجود الله .
 - * لغة العرب و ما تمتاز فيه من خصائص . * صفاء الفكر .

السؤال الثالث : (اختياري) ويتكون من (أ - ب - ج) :

أ) وازن بين الأوضاع الداخلية أثناء الفتوحات الإسلامية لكل من : (٦ × ١/٢ = ٣) ص ٧٦/٧٥

الفرس	الروم
* الصراع المذهبي حول الإباحة المطلقة أو الزهد.	* الصراع المذهبي بين مذاهب المسيحية.
* الصراع حول العرش أنهك الإمبراطورية سياسيا.	* كراهية أهل مصر و الشام للروم.
* كثرة الضرائب.	* النزاع السياسي حول العرش.

ب) إقرأ العبارات التالية ثم أكتب المناسبة التي قيلت في كل منها : (٣ × ١ = ٣)

١ - " لا تخونوا ولا تغدروا ولا تغلوا ولا تمثلوا ولا تقتلوا طفلا ولا شيخا كبيرا ولا امرأة " ص ٦١

المناسبة : وصية الخليفة أبو بكر رضي الله عنه التي جاءت في خطبته لجيوش الفتح الإسلامي.

٢ - " إنك إن فتحتها كانت قوة للمسلمين و عوناً لهم " ص ٧٣

المناسبة : عندما أراد عمرو بن العاص استئذان الخليفة عمر بن الخطاب رضي الله عنه في فتح مصر.

٣ - " يا بني لا تخوضوا دماء المسلمين خوفاً ، تقولون قتل أمير المؤمنين " ص ٨٧

المناسبة : وصية الخليفة علي رضي الله عنه لابنيه الحسن والحسين بعد ان ضربه بالسيف عبد الرحمن بن الملجم.

ج) نفذ المطلوب بين القوسين : (٦ × ١/٢ = ٣)

١ - حركة الردة . (أسبابها) ص ٥٨

* ادعاء النبوة وهو ما عرف باسم الميمنة.

* الامتناع عن دفع الزكاة.

٢ - غزوة الخندق.

* انتصار كبير للمسلمين.

* استنفذت قريش كل إمكانياتها في القضاء على الدولة الجديدة.

٣ - الصحيفة التي وضعها النبي صلى الله عليه وسلم لسكان المدينة . (بنودها) ص ٣٦

* ان للجماعة شخصية دينية و سياسية و من حقها ان تعاقب المفسد.

* ان الحرية الدينية مكفولة للجميع.

* النبي صلى الله عليه وسلم هو الرئيس العام لسكان المدينة .

* على سكان المدينة أن يتعاونوا لرد أي اعتداء على مدينتهم .

السؤال الرابع (اختياري) ويتكون من (أ - ب - ج) :
 (أ) قارن حسب ما هو مطلوب منك في الجدول التالي:

$$(٦ \times \frac{1}{2} = ٣)$$

من حيث	معركة أجنادين ص ٦٣	معركة القادسية ص ٧١
الأطراف	المسلمون × الروم	المسلمون × الفرس
القائد الإسلامي	عمرو بن العاص	سعد بن أبي وقاص
النتائج	- انتصار المسلمين - أصبحت فلسطين كلها بيد المسلمين.	انتصار المسلمين * الاستيلاء على المدائن عاصمة الفرس. * فتح الطريق للمسلمين للتوغل في الإمبراطورية الفارسية. * غنم المسلمون العديد من الغنائم. * فرار يزيدجرد الثالث "ملك الفرس"

ب) عرف ما يلي:

١ - خلافة:

رياسة دنيوية و دينية غايتها حمل الناس على ما فيه صلاحهم.

٢ - قبيلة:

مجموعة من الناس تربطهم رابطة القرابة و النسب و الدم.

٣ - عام الرمادة:

حدث بين عامي ١٧ و ١٨ هـ في عهد الخليفة عمر بن الخطاب ؓ حيث أصاب أهل المدينة و ما حولها جوع شديد و هلك العديد من الناس.

$$(٦ \times \frac{1}{2} = ٣)$$

ج) أكتب فيما يلي:

ص ٣٦

١ - محاولات اليهود لهدم الوحدة الاجتماعية الجديدة في المدينة.
 * إثارة البغضاء بين المهاجرين و الأنصار.
 * حرضوا قريشا و مشركين مكة على غزو المدينة المنورة.

* محاولة الإيقاع بين الأوس و الخزرج.

ص ٣٧

٢ - أهم مهام السرايا في عهد الرسول ﷺ.

* ضمان امن المدينة و مراقبة الحدود.

* الوقوف على تحركات قريش ضد الدولة الإسلامية. * التعرض لقوافل قريش التجارية.

ص ٤٨

٣ - نتائج فتح مكة.

* توحيد شبه الجزيرة العربية.

* أصبحت الدولة الإسلامية هي القوة السياسية و العسكرية الأولى في شبه الجزيرة العربية.

السؤال الخامس: (اختياري) ويتكون من (أ - ب - ج) :

(أ) أجب عن الأسئلة التالية :

$$(٦ \times \frac{1}{2} = ٣)$$

ص ٤٤

- ١ - عدد أهم بنود صلح الحديبية ٦ هـ .
- * يرجع المسلمون هذا العام على ان يعودوا العام القادم لأداء العمرة بشرط أن تخلي قريش لهم مكة ثلاثة أيام .
- * وضع هدنة بين الفريقين لمدة عشر سنوات .
- * من أراد الدخول في عقد قريش فله ذلك ومن أراد الدخول في عهد محمد من غير قريش دخل .
- * من أتى محمداً من قريش مسلماً بدون إذن وليه يرد ولا ترد قريش من أتاها من عند محمد .

ص ٤٥

- ٢ - برهن على ان صلح الحديبية كان نصراً عظيماً للرسول ﷺ و دعوته .
- * اعتراف صريح من قريش بالدولة الإسلامية .
- * تفرغ المسلمين لمواجهة خطر اليهود في خيبر .
- * إسلام كثير من أبطال قريش .
- * تفرغ الرسول ﷺ لنشر الدعوة الإسلامية للملوك والأمراء .

(ب) لخص انجازات الشخصيات التالية تاريخياً : (يكفي بإجازين لكل شخصية) (٢ × ١ = ٢)

ص ٧٧/٧٨

- ١ - الخليفة عمر بن الخطاب ؓ .
- أول من وضع التاريخ الهجري - أول من دون الدواوين في الإسلام - أول من مصر الأمصار - فتحت في عهده العراق و فارس و مصر و الشام - قيل انه انتصب في خلافته ١٢ ألف منير في الإسلام .
- ٢ - الخليفة عثمان بن عفان ؓ .
- كان من كتاب الوحي لرسول الله - كان سفيرا للرسول في صلح الحديبية - كان يأخذ على الوالي عهداً الا يلبس رقيقاً ولا يأكل نقياً ولا يتخذ دون حاجات الناس حجاباً - استنسخ المصحف و فرقتها في الأمصار - جهز جيش العسرة و حفر بئر رومة في المدينة .
- (ج) قارن حسب ما هو مطلوب منك في الجدول التالي :

(٤ درجات)

نتائج غزوة خيبر ص ٤٦ (٢ × ١ = ٢)	نتائج غزوة مؤتة ص ٤٦ (٢ × ١ = ٢)
* إنهاء قوة اليهود في شبه الجزيرة العربية	* استشهاد قادة المسلمين ورجوع الجيش بقيادة خالد بن الوليد
فضل المهاجرين ص ٥٦	فضل الأنصار ص ٥٦ (٤ × ١/٢ = ٢)
* أول الناس إسلاماً .	* أهل البلد .
* تحملوا عداوة قومهم والأذى	* قامت الدولة الإسلامية بجهادهم وأموالهم .
* تركوا أوطانهم وأهلهم .	* ناصروا الرسول وأووه .
* أهل الرسول و عشيرته .	

٢

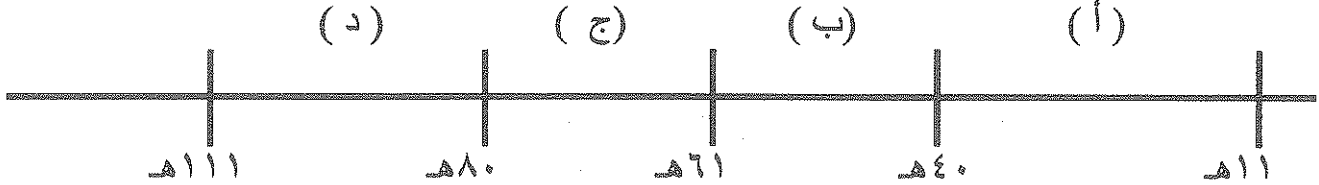
دولة الكويت
وزارة التربية
التوجيه الفني العام للاجتماعيات
امتحان نهاية الفترة الدراسية الثانية للصف الحادي عشر الأدبي
للعام الدراسي ٢٠١٢/٢٠١١ م
المجال الدراسي: التاريخ الإسلامي

اجب عن أربعة أسئلة من الأسئلة الخمسة التالية على ان يكون السؤال الأول من بينها (إجباري):

السؤال الأول (إجباري) ويتكون من (أ- ب - ج - د):

أ) اختر البديل المناسب من بين البدائل التي تلي كل عبارة :

١- الفترة الزمنية التي تمثل دولة الخلفاء الراشدين على المخطط الزمني التالي يمثلها الحرف :



WWW.KweduFiles.Com

٢- القبيلة اليهودية التي قام النبي عليه السلام بطردها من المدينة على اثر غزوة بدر تسمى:
(أ) قينقاع (ب) قريضة (ج) هوازن (د) النضير.

٣- العام الذي وقعت فيه معركة ذات الصواري هو :
(أ) ٣٢٢ هـ (ب) ٣٣٤ هـ (ج) ٣٣٦ هـ (د) ٣٣٨ هـ.

٤- قوم عاد وثمود من العرب :
(أ) الباقية (ب) العاربة (ج) المستعربة (د) البائدة.

٥- القائد الذي يعتبر أول من قسم الجيش الإسلامي إلى كتائب :
(أ) عمرو بن العاص (ب) خالد بن الوليد (ج) سعد بن أبي وقاص (د) المثني بن حارثة.

تابع السؤال الأول:

ب) اكمل العبارات التالية بما يناسبها:

- ١- الصحابي الذي اشترى بئر الروم في المدينة ليشرّب الناس منه يسمى
- ٢- يعرف العام العاشر للبعثة والذي تعرض فيه النبي عليه السلام للمحن والشدائد باسم
- ٣- السرية التي أرسلها النبي عليه السلام سنة ٢هـ بقيادة عبدالله بن جحش تسمى
- ٤- حلف بين بطون قريش شارك فيه النبي عليه السلام قبل البعثة يعرف بحلف

ج) اختر من المجموعة (أ) ما يناسبها من المجموعة (ب) بوضع الرقم المناسب في المكان المناسب:

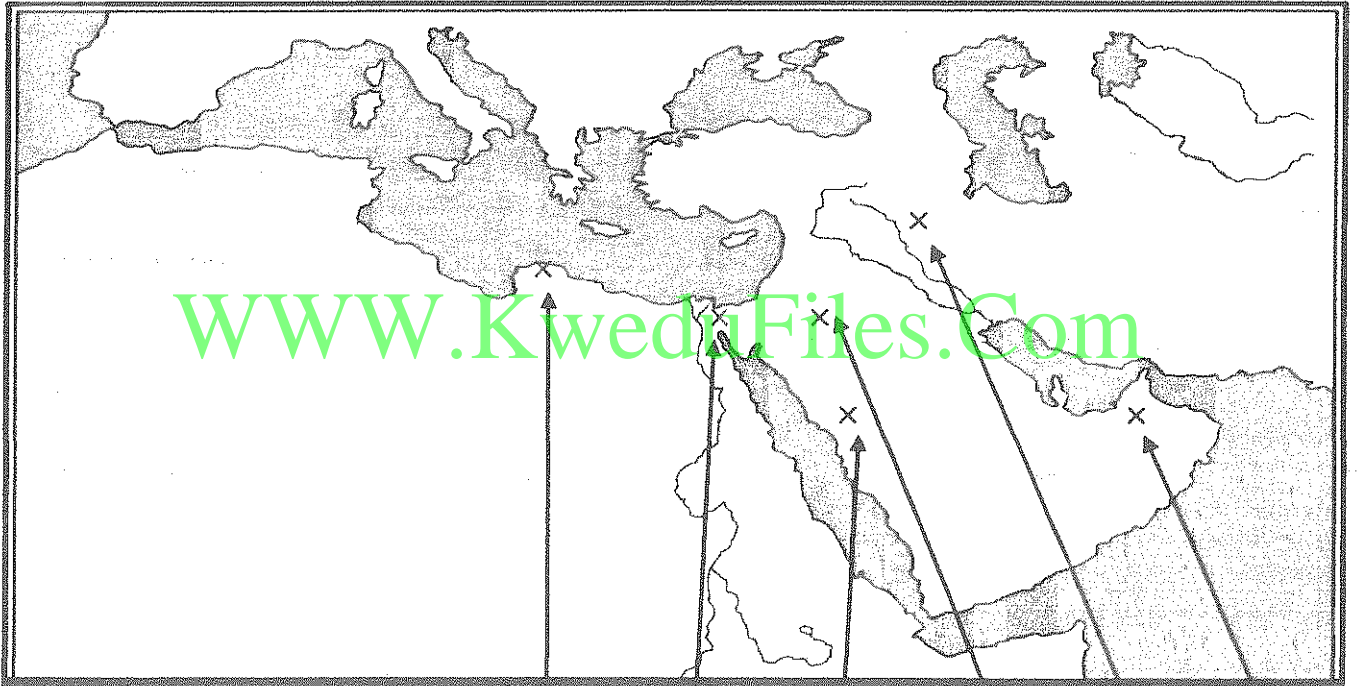
WWW.KweduFiles.Com

(أ)	الرقم	(ب)
١- قاد معركة عقرباء.	()	سعد بن أبي وقاص
٢- فتح مصر.	()	عبدالله بن أبي السرح
٣- قاد معركة القادسية.	()	عياض بن غنم
٤- فتح بلاد الجزيرة شمال الموصل.	()	خالد بن الوليد
	()	عمرو بن العاص

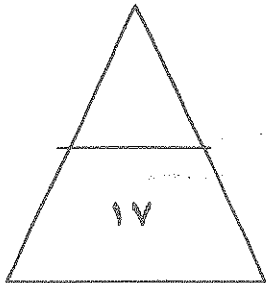
تابع السؤال الأول:

(د) على خريطة العالم الإسلامي المرفقة ضع الرقم في الدائرة المناسبة لكل عبارة مما يأتي:

- ١- نواة الدولة الإسلامية الأولى .
- ٢- مدينة اعتبر الفتح الإسلامي لها فتح الفتوح.
- ٣- منطقة ظهر فيها المتنبي لقيط بن مالك
- ٤- صحراء النفوذ .



WWW.KwediFiles.Com



السؤال الثاني (اختياري) ويتكون من (أ - ب - ج):
أعرف المفاهيم التالية:

١- القبيلة:

٢- السرية:

٣- الخلافة:

٤- حجة الوداع:

ب ما تفسرك للأحداث التاريخية التالية:

١- عزم الرسول على فتح مكة سنة ٨ هـ .

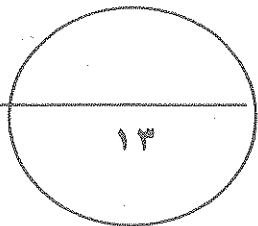
٢- تم جمع القرآن في عهد الخليفة أبي بكر الصديق .

WWW.KweduFiles.Com

٣- هجرة المسلمين إلى الحبشة في السنة الخامسة للبعثة .

٤- كانت ظروف مصر مؤهلة لمجيء الفتح الإسلامي .

ج) اكتب فقرة مترابطة عن الحياة الفكرية عند العرب قبل الاسلام مستخدما الكلمات المساعدة التالية:
(المعلقات / الأنساب / لهجة قريش / عكاظ / النظام القبلي)



السؤال الثالث (اختيارى) ويتكون من (أ- ب- ج):
أ) علل ما يلى تعليلا تاريخيا:
١- معارضة قریش للدعوة الإسلامية.

٢- قيام حركة الفتوح الإسلامية من الناحية الدينية.

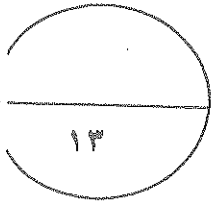
ب) فرق بين كل مما يلى:

الموالى	١- الصرحاء
-	-
فضل الأنصار على الدولة الإسلامية الناشئة	٢- فضل المهاجرين على الدولة الإسلامية الناشئة
-	-
موقف كسرى من رسالة النبي عليه السلام	٣- موقف المقوقس من رسالة النبي عليه السلام
-	-

ج) اثبت صحة العبارات التالية:

١- كان لليهود عدة محاولات لهدم الوحدة الاجتماعية الجديدة في الدولة الإسلامية الناشئة.

٢- تم الفتح الإسلامي لبيت المقدس بدون قتال.



السؤال الرابع (اختياري) ويتكون من (أ - ب - ج) :

(أ) قارن بين كلا مما يأتي :

أوجه المقارنة	غزوة أحد	غزوة مؤتة
الأطراف	المسلمون ×	المسلمون ×
الأسباب	-	-
النتائج	-	-

(ب) ما النتائج المترتبة على كلا من :
١- معركة القادسية.

WWW.KweduFiles.Com

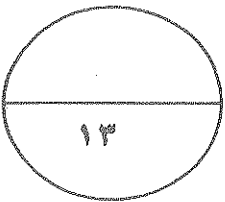
٢- موافقة الخليفة عثمان بن عفان على إنشاء قوة بحرية للمسلمين.

(ج) ما دور الشخصيات التالية:

١- النبي عليه الصلاة والسلام في بناء دولة الإسلام الجديدة.

٢- الخليفة عمر بن الخطاب في ظهور الدواوين الإسلامية.

٣- هاشم بن عبد مناف في تجارة مكة قبل الإسلام.



السؤال الخامس (اختياري) ويتكون من (أ- ب- ج):

(أ) اقرأ الفقرة التالية ثم اجب عما يليها:

(واجه الإسلام في أواخر عهد الرسول عليه الصلاة والسلام أزمة جديدة ، مالبث أن اتسع نطاقها وزاد خطرهما بعد وفاته، إذ أنفسح المجال أمام المنافقين وأعداء قريش من العرب للقيام بحركة الردة، التي مالبثت أن انتشرت في أجزاء كثيرة في شبه الجزيرة العربية وظهرت بأشكال عديدة اختلفت في بواعثها وصورها ، لكن الخليفة أبي بكر الصديق تولى مقاومة هؤلاء المرتدين والمتنبئين ، وكان الانتصار عليهم انتصار للإسلام)

١- ضع عنوانا للفقرة.

٢- عرف ما تحته خط.

٣- ما الأساليب التي اتبعها الخليفة أبي بكر الصديق لمواجهة حركة الردة؟

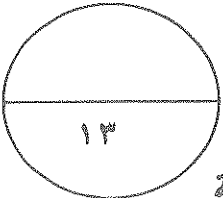
(ب) اكمل الجدول الآتي حسب ما هو مطلوب:

العبرة	قائل العبارة	المناسبة	الدلالة التاريخية
".....فإنما ينتظر الناس أخراهم اتقوا الله عباد الله في عباده وبلاده إنكم مسئولون حتى عن البقاع والبهائم وأطيعوا الله عز وجل"			
"لقد آمننا بك وصدقناك وشهدنا إن ما جنت به هو الحق وأعطيناك على ذلك عهدنا وموآثقتنا على السمع والطاعة فأمضي لما أردت فنحن معك....."			

(ج) نفذ المطلوب ما بين القوسين:

١- صلح الحديبية . (حدد بنوده)

٢- كانت شبه الجزيرة العربية بيئة قادرة لتقبل رسالة الإسلام . (الأسباب)



انتهت الأسئلة

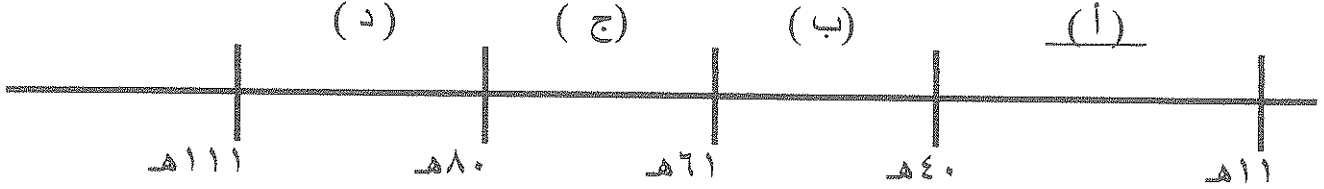
دولة الكويت
وزارة التربية
التوجيه الفني العام للاجتماعيات
اختبار نهاية الفترة الدراسية الثانية للصف الحادي عشر الأدبي
للعام الدراسي: ٢٠١١/٢٠١٢م
المجال الدراسي: التاريخ الإسلامي

اجب عن أربعة أسئلة من الأسئلة الخمسة التالية على ان يكون السؤال الأول من بينها (إجباري):

السؤال الأول (إجباري) ويتكون من (أ- ب - ج - د):


أ) اختر البديل المناسب من بين البدائل التي تلي كل عبارة : (درجات لكل نقطة درجة)

١- الفترة الزمنية التي تمثل دولة الخلفاء الراشدين علي المخطط الزمني التالي يمثلها الحرف : ص ٥٣



WWW.KweduFiles.Com

٢- القبيلة اليهودية التي قام النبي عليه السلام بطردها من المدينة على اثر غزوة بدر تسمى: ص ٤١



(أ) قينقاع (ب) قريضة (ج) هوازن (د) النضير

٣- العام الذي وقعت فيه معركة ذات الصواري هو : ص ٨٣
(أ) ٣٢ هـ (ب) ٣٤ هـ (ج) ٣٦ هـ

٤- قوم عاد وثمود من العرب : ص ١٣

(أ) الباقية (ب) العاربة (ج) المستعربة (د) البائدة

٥- القائد الذي يعتبر أول من قسم الجيش الإسلامي إلى كتائب : ص ٦٨
(أ) عمرو بن العاص (ب) خالد بن الوليد (ج) سعد بن أبي وقاص (د) المثني بن حارثة

تابع السؤال الاول:

(ب) اكمل العبارات التالية بما يناسبها: (٤ درجات لكل نقطة درجة)

- ١- الصحابي الذي اشترى بئر الروم في المدينة ليشرب الناس منه يسمى . . . عثمان بن عفان ص ٨١
- ٢- يعرف العام العاشر للبعثة والذي تعرض فيه النبي عليه السلام للمحن والشدائد باسم . . . عام الحزن ص ٣٠
- ٣- السرية التي ارسلها النبي عليه السلام سنة ٢ هـ بقيادة عبدالله بن جحش تسمى . . . سرية نخلة ص ٣٧
- ٤- حلف بين بطون قريش شارك فيه النبي عليه السلام قبل البعثة يعرف بحلف . . . الفضول ص ٢٤

(ج) اختر: من المجموعة (أ) ما يناسبها من المجموعة (ب) بوضع الرقم المناسب في المكان المناسب: (٤ درجات لكل نقطة درجة)

WWW.KweduFiles.Com

(أ)	الرقم	(ب)
١- قاد معركة عقرباء ص ٥٩	(٣)	سعد بن أبي وقاص
٢- فتح مصر ص ٧٣	(-)	عبدالله بن أبي السرح
٣- قاد معركة القانسية ص ٦٦	(٤)	عياض بن غنم
٤- فتح بلاد الجزيرة ص ٦٨	(١)	خالد بن الوليد
	(٢)	عمرو بن العاص

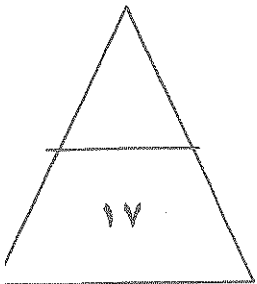

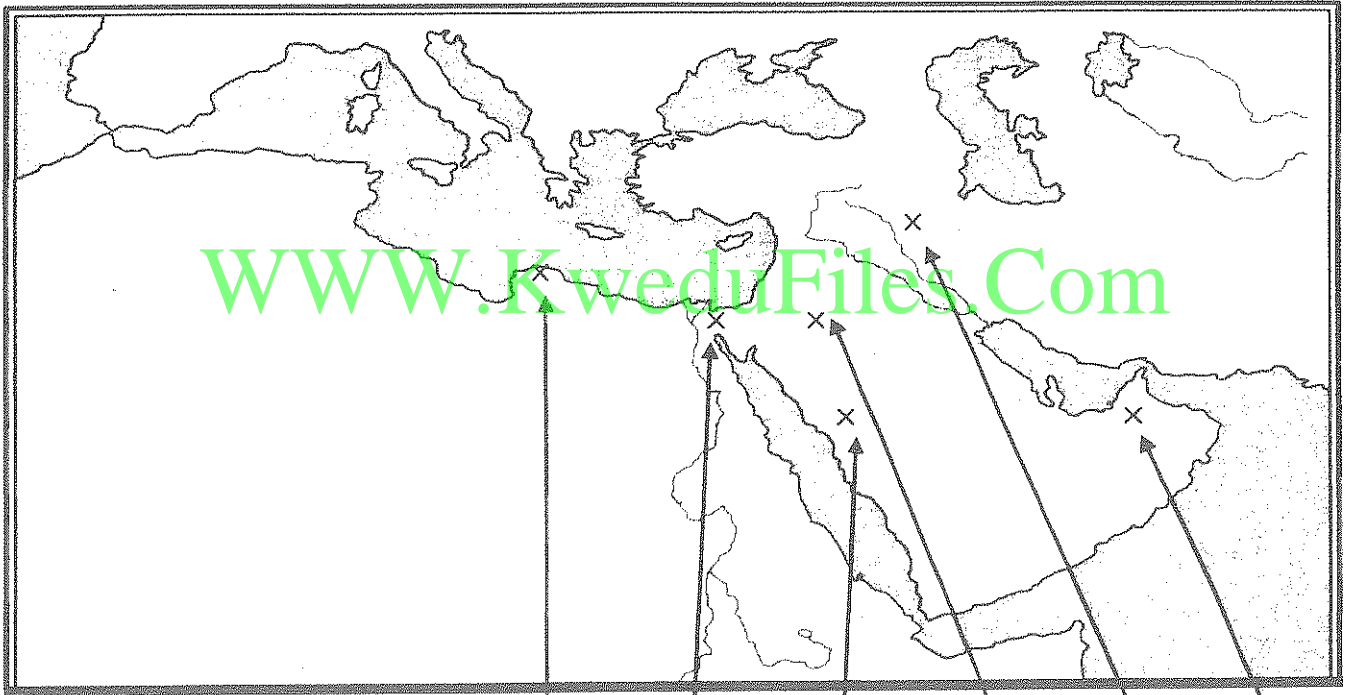


تابع السؤال الاول:

(د) على خريطة العالم الإسلامى المرفقة ضع الرقم فى الدائرة المناسبة لكل عبارة مما يأتى:
(٤ درجات لكل نقطة درجة)



- ١- نواة الدولة الإسلامية الأولى . ص ٢٩+٦٣
- ٢- مدينة اعتبر الفتح الإسلامى لها فتح الفتوح.ص٦٨
- ٣- منطقة ظهر فيها المتنبئ لقيط بن مالك .ص٥٨
- ٤- صحراء النفوذ . ص ١٤



السؤال الثاني (اختياري) ويتكون من (أ - ب - ج):

(أ) عرف المفاهيم التالية: (٤ درجات لكل نقطة درجة)

- ١- القبيلة : مجموعة من الناس تربطهم رابطة القرابة والنسب والدم. ص ١٥
- ٢- السرية : فرقة من الجنود بقيادة أحد الصحابة. ص ٣٧
- ٣- الخلافة : رئاسة دنيوية ودينية غايتها حمل الناس على ما فيه صلاحهم متبعا للخليفة في ذلك نصوص كتاب الله وسنة الرسول عليه السلام. ص ٥٣
- ٤- حجة الوداع : حج النبي عليه السلام في العام العاشر الهجري ومعه مئة ألف مسلم علمهم مناسك الحج وخطب فيهم خطبة الوداع أشهدهم بأنه بلغ الرسالة وأدى الأمانة. ص ٤٩



ب) ما تفسيرك للأحداث التاريخية التالية: (٥ درجات لكل نقطة درجة)

- ١- عزم الرسول عليه السلام على فتح مكة سنة ٨ هـ .
- أصبح المسلمون في حل من اتفاق صلح الحديبية بعد أقل من سنتين من عقده بسبب اعتداء قبيلة بكر على قبيلة خزاعة ومساعدة قريش لهم وهنا عزم الرسول عليه السلام على فتح مكة. ص ٤٧
- ٢- تم جمع القرآن في عهد الخليفة أبي بكر الصديق.
- جمع القرآن في عهده بعد حروب الردة برأي من عمر بن الخطاب خشية أن يهلك حفاظ القرآن. ص ٦٤
- ٣- هجرة المسلمين إلى الحبشة في السنة الخامسة للهجرة. ص ٢٩
- لشدة تعذيب قريش للعبيد والضعفاء من المسلمين مثل آل ياسر وبلال فأمرهم النبي عليه السلام بالهجرة إلى الحبشة لينجوا من بلاء قريش إضافة إلى إن فيها ملكا لا يظلم عنده أحد .
- ٤- كانت ظروف مصر مؤهلة لمجيء الفتح الإسلامي. ص ٧٣
- كانت مصر إحدى ولايات الروم لذا عمل الروم على استغلالها واعتبارها مخزنا يمد روما بحاجتها من الغلال
- كما أهلك أهل مصر بالضرائب والصراع المذهبي مما جعلهم يتأملون دولة جديدة تخلصهم من هذه المظالم.

ج) اكتب فقرة مترابطة عن الحياة الفكرية عند العرب قبل الإسلام مستخدما الكلمات المساعدة التالية:

(المعلقات / الأنساب / لهجة قريش / عكاظ / النظام القبلي) ص ١٩ (٤ درجات)

تأثرت الحياة الفكرية وارتبطت بالنظام القبلي فكان لكل قبيلة شاعرها وخطيبها وقصاصها الذين يعبرون عن مناقب القبيلة ويتفاخرون بأنسابهم وحروبهم وكان للشعراء مكانة كبيرة وسامية بين الناس. وتميزت بعض القصائد وفضلها العرب فعلمت على جدران الكعبة وعرفت بالمعلقات وكانت الأسواق خير مكان يعرض فيه الشعر مثل سوق عكاظ وذي المجاز، كما اشتهر العرب بعلم الأنساب والنجوم والملاحه وقد عبروا بفكرهم بلهجات متعددة إلا إنها متقاربة تلتقي في لهجة قريش التي نزل بها القرآن الكريم .

السؤال الثالث (اختياري) ويتكون من (أ- ب- ج) :

(أ) علل ما يلي تعليلا تاريخيا: (٣ درجات لكل نقطة درجة)

١- معارضة قريش للدعوة الإسلامية. ص ٢٨

- أن قريش لم تفرق بين النبوة والسيادة وظنت إن التسليم بدين محمد معناه التسليم له بالزعامة.

- إن الرسول عليه السلام كان يدعو إلى المساواة بين الناس وهي أساس المجتمع الإسلامي وقوشن لا تريد ذلك.

- التمسك بعادات وتقاليد الإباء والأجداد.

- الخوف من فقدانهم للثروة والجاه بسبب خدمتهم للأصنام ورعايتهم للحجاج.

٢- قيام حركة الفتوح الإسلامية من الناحية الدينية. ص ٦١

- أسباب دينية: وهي الحماسة الدينية التي وضحت من خلال نشر الرسالة المحمدية وإعلاء كلمة الله

وتحرير الإنسان من عبودية البشر إلى عبودية الله.

(ب) فرق بين كل مما يلي: (٨ درجات لكل نقطة درجة)

١- الصرحاء ص ١٨	الموالي ص ١٨
١- هم أبناء القبيلة يجمعهم نسب واحد ولهم كثير من الحقوق وعليهم واجبات من أهمها حماية القبيلة والدفاع عنها وتوجب عقوبة الخلع على من يتخاذل عن هذا الواجب.	- هم عرب انضموا إلى القبيلة إما عن طريق الجوار أو الحلف أو العتق ولهم حقوق طبقة الأحرار ما عدا الرئاسة.
٢- فضل المهاجرين على الدولة الإسلامية الناشئة ص ٥٦	فضل الأنصار على الدولة الإسلامية الناشئة ص ٥٦
- أول الناس إسلاما. - أهل الرسول وعشيرته. - تحمّلوا عداوة قومهم والأذى - تركوا أوطانهم وأهلهم	- أهل البلد. - قامت الدولة الإسلامية بجهادهم وأموالهم. - ناصروا الرسول عليه السلام وأووه.
٣- موقف المقوقس من رسالة النبي عليه السلام	موقف كسرى من رسالة النبي عليه السلام ص ٤٥
- لم يسلم ولكنه أكرم وقادة الرسول	- مزق كتاب الرسول

(ج) أثبت صحة العبارات التالية: (درجتان لكل نقطة درجة)

١- كان لليهود عدة محاولات لهدم الوحدة الاجتماعية الجديدة في الدولة الإسلامية الناشئة. ص ٣٦

- محاولة إثارة البغضاء بين المهاجرين والأنصار

- محاولة الإيقاع بين الأوس والخزرج ولكنهم فشلوا.

- حرضوا قريشا ومشركي مكة على غزو المدينة.

- تأمرهم على المسلمين في خيبر.

٢- تم الفتح الإسلامي لبيت المقدس بدون قتال. ص ٧٠

- بعد محاصرة المسلمين بقيادة أبي عبيدة بن الجراح لبيت المقدس لمدة شهرين طلب أهل بيت المقدس

المصالحة مع الخليفة عمر بن الخطاب فقدم الخليفة إلى بيت المقدس ودخل من الباب الذي دخله الرسول

ليلة الإسراء.

السؤال الرابع (اختياري) ويتكون من (أ - ب - ج) :

(أ) قارن بين كلا مما يأتي : (درجات لكل نقطة نصف الدرجة)

أوجه المقارنة	غزوة أحد ص ٤١	غزوة مؤتة ص ٤٦
الأطراف	المسلمون × قريش (نصف درجة)	المسلمون × الغساسنة (نصف درجة)
الأسباب	- دفاع المسلمين عن أنفسهم و رغبة قريش في الثأر بعد غزوة بدر (درجة)	- عدوان الغساسنة على المسلمين وقتلهم رسول النبي عليه الصلاة والسلام. (درجة)
النتائج	- انتصار قريش - هزيمة المسلمين وسقوط ٧٠ شهيدا - طرد المسلمون قبيلة بني النضير اليهودية. (درجة)	- هزيمة المسلمين واستشهاد قادة المسلمين. - رجوع جيش المسلمين بقيادة خالد بن الوليد. (درجة)

(ب) ما النتائج المترتبة على كلا من : (٤ درجات لكل نقطة درجة)

١- معركة القادسية ص ٧١

- انهزام الفرس ومقتل عدد كبير منهم
- فتح الطريق أمام المسلمين للتوغل في الإمبراطورية الفارسية
- غنم المسلمون العديد من الغنائم.
- فرار يزيد جرد الثالث ملك الفرس.
- ٢- موافقة الخليفة عثمان بن عفان على إنشاء قوة بحرية للمسلمين.
- بناء أول أسطول إسلامي بأيد عربية إسلامية
- فتحت قبرص سنة ٣١هـ
- سيطر معاوية على شواطئ الشام واسبيا الصغرى وجزيرة رودس.
- محاولة الروم ضرب المسلمين بحرا فدارت معركة ذات الصواري التي انتصر فيها المسلمون على الروم.

(ج) ما دور الشخصيات التالية: (٤ درجات لكل نقطة درجة)

- ١- النبي عليه الصلاة والسلام في بناء دولة الإسلام الجديدة. ص ٣٤-٣٥-٣٦
- بناء المسجد
- الصلح بين الأوس والخزرج
- المواخاة بين المهاجرين والأنصار
- وضع الصحيفة لتنظيم الحياة العامة في المدينة
- ٢- الخليفة عمر بن الخطاب في ظهور الدواوين الإسلامية. ص ٧٧
- أول من دون الدواوين في الإسلام وكان أولها ديوان الجند أو العطاء ثم ديوان الخراج.
- ٣- هاشم بن عبد مناف في تجارة مكة. ص ١٦
- نظم رحلتي الشتاء والصيف مما زاد في مكانة مكة بين العرب ووفر لها ثروة اقتصادية.

السؤال الخامس (اختياري) ويتكون من (أ- ب - ج) :

أ) اقرأ الفقرة التالية ثم اجب عما يليها:

(واجه الإسلام في أواخر عهد الرسول عليه الصلاة والسلام أزمة جديدة ، ما لبث أن اتسع نطاقها وزاد خطرها بعد وفاته، إذ أنفصح المجال أمام المنافقين وأعداء قريش من العرب للقيام بحركة الردة، التي ما لبثت أن انتشرت في أجزاء كثيرة في شبه الجزيرة العربية وظهرت بأشكال عديدة اختلفت في بواعثها وصورها ، لكن الخليفة أبي بكر الصديق تولى مقاومة هؤلاء المرتدين والمتنبيين ، وكان الانتصار عليهم انتصار للإسلام)

١- ضع عنوان للفقرة. (درجة واحدة)

- ظهور حركة الردة (أو أي عنوان مناسب يراه المصحح)

٢- عرف ما تحته خط. (درجة واحدة) ص ٥٨

تمرد القبائل العربية على سلطان الحكومة الإسلامية في المدينة المنورة

٣- ما الأساليب التي اتبعها الخليفة أبي بكر الصديق لمواجهة حركة الردة؟ ص ٥٤ (درجة واحدة)

- أقام الحجة على المرتدين بخطابهم وإنذارهم وتحذيرهم.

- لجأ إلى الحل العسكري وهو القتال لنصرة دين الحق فعقد أحد عشر لواء لكبار قادة المسلمين

لمواجهة المشكلة وتمكن بعد عدة معارك مثل بزاخة وعقرباء من القضاء على المرتدين.

ب) اكمل الجدول الآتي حسب ما هو مطلوب: (٦ درجات لكل نقطة درجة واحدة)

العبارة	قائل العبارة	المناسبة	الدلالة التاريخية
(فإنما ينتظر الناس أخراهم اتقوا الله عباد الله في عباده وبلاده إنكم مسئولون حتى عن البقاع والبهائم وأطيعوا الله عز وجل)	الخليفة علي بن أبي طالب	حين تولى الخلافة	اهتمام الخليفة بالنصح والحفاظ على البيئة (إنسان / حيوان / الأرض) ص ٨٦
(لقد آمانا بك وصدقناك وشهدنا إن ما جئت به هو الحق وأعطيناك على ذلك عهدنا ومواثيقنا على السمع والطاعة فامضي لما أردت فنحن معك)	سعد بن معاذ.	عقد النبي عليه السلام مجلس استشاري مع أصحابه قبل غزوة بدر	ولاء المسلمين لرسول الله عليه السلام وحبهم وطاعتهم له. ص ٣٩

ج) نفذ المطلوب ما بين القوسين: (٤ درجات لكل نقطة درجة)

١- صلح الحديبية (حدد بنوده) ص ٤٤

- يرجع المسلمون هذا العام على أن يعودوا العام القادم لأداء العمرة بعد أن تخلي لهم قريش مكة لمدة ثلاثة أيام.

- وضع هدنة بين الفريقين لمدة عشر سنوات.

- من أراد الدخول في عهد قريش له ذلك ومن أراد الدخول في عهد محمد من غير قريش دخل فيه.

- من أتى محمدا من قريش مسلما بدون إذن وليه يرد ولا ترد قريش من أتاها من عند محمد مرتدا.

٢- كانت شبه الجزيرة العربية بيئة قادرة لتقبل رسالة الإسلام (الأسباب) ص ٢٠

- كانت شبه الجزيرة خارج منطقة الصراع بين الفرس والروم .

- موقع شبه الجزيرة الجغرافي سهل نشر الدعوة في جميع أنحاء العالم.

- وجود البيت الحرام في مكة مهد لها لتكون مركز ديني كبير .- لغة العرب وخصائصها.

- أدرك العرب وجود الله وعبدوا الأصنام تقربا له .- صفاء الفكر العربي .