

تم تحميل هذا الملف من موقع المناهج الكويتية



حمد الزويد

الملف أوراق عمل إثرائية بالإضافة لكراسة التمارين

[موقع المناهج](#) ← [المناهج الكويتية](#) ← [الصف الحادي عشر الأدبي](#) ← [جغرافيا](#) ← [الفصل الأول](#)

روابط مواقع التواصل الاجتماعي بحسب الصف الحادي عشر الأدبي



روابط مواد الصف الحادي عشر الأدبي على تلغرام

[الرياضيات](#)

[اللغة الانجليزية](#)

[اللغة العربية](#)

[التربية الاسلامية](#)

المزيد من الملفات بحسب الصف الحادي عشر الأدبي والمادة جغرافيا في الفصل الأول

<a href="#">توزيع مقرر علم الجغرافيا والاقتصاد</a>	1
<a href="#">مذكرة الفترة الأولى في مادة الاقتصاد</a>	2
<a href="#">نماذج اختبارات واجاباتها النموذجية في مادة الاقتصاد</a>	3
<a href="#">نماذج اختبارات واجاباتها للعام 2016-2017 في مادة الجغرافيا</a>	4
<a href="#">مذكرة مراجعة شاملة في مادة الجغرافيا</a>	5

اعداد

أ.حمد الزويد

اشراف وتنسيق

أ. سعود المونس

رئيس قسم الاجتماعيات



[ دليل الأسئلة وأوراق العمل لمادة مبادئ علم الجغرافيا وعلم الاقتصاد - للمصف الحادي عشر أدبي ]

## الفصل الدراسي الأول

اسم الطالب/ة .....

الصف ١١ د .....

## ورقة متابعة أنشطة الطالب الصفية واللاصفية للعام الدراسي ٢٠٢٠ - ٢٠٢١ م

اليوم و التاريخ	ملاحظات/النشاط الصفية واللاصفية	الدرجة	توقيع ولي الأمر
( ) الأحد ( ) الاثنين ( ) الثلاثاء ( ) الأربعاء ( ) الخميس الموافق / ..... / .....	الفصول في : ١- ( ) التأخر في موعد التسليم. ٢- تسجيل ( ) التاريخ - ( ) العنوان. ٣- تعريف المفاهيم والمصطلحات. ٤- ( ) إكمال الدروس والواجبات الناقصة. ٥- ( ) حل أنشطة ورقة العمل واستكمالها. ٦- ( ) لصق ورق العمل. ٧- المهارات من حيث: أ- الخرائط: ( ) الرسم والتلوين - ( ) دقة التوزيعات - ( ) قراءة وتحليل الخريطة. ب- ( ) تحليل الصور والأشكال والجداول الإحصائية والبيانية. ٨- ( ) أشكرك لتميزك في الأنشطة الصفية. ٩- ( ) بارك الله فيك لتميزك في الأنشطة اللاصفية. ١٠- ملاحظات أخرى: .....		
( ) الأحد ( ) الاثنين ( ) الثلاثاء ( ) الأربعاء ( ) الخميس الموافق / ..... / .....	الفصول في : ١- ( ) التأخر في موعد التسليم. ٢- تسجيل ( ) التاريخ - ( ) العنوان. ٣- تعريف المفاهيم والمصطلحات. ٤- ( ) إكمال الدروس والواجبات الناقصة. ٥- ( ) حل أنشطة ورقة العمل واستكمالها. ٦- ( ) لصق ورق العمل. ٧- المهارات من حيث: أ- الخرائط: ( ) الرسم والتلوين - ( ) دقة التوزيعات - ( ) قراءة وتحليل الخريطة. ب- ( ) تحليل الصور والأشكال والجداول الإحصائية والبيانية. ٨- ( ) أشكرك لتميزك في الأنشطة الصفية. ٩- ( ) بارك الله فيك لتميزك في الأنشطة اللاصفية. ١٠- ملاحظات أخرى: .....		
( ) الأحد ( ) الاثنين ( ) الثلاثاء ( ) الأربعاء ( ) الخميس الموافق / ..... / .....	الفصول في : ١- ( ) التأخر في موعد التسليم. ٢- تسجيل ( ) التاريخ - ( ) العنوان. ٣- تعريف المفاهيم والمصطلحات. ٤- ( ) إكمال الدروس والواجبات الناقصة. ٥- ( ) حل أنشطة ورقة العمل واستكمالها. ٦- ( ) لصق ورق العمل. ٧- المهارات من حيث: أ- الخرائط: ( ) الرسم والتلوين - ( ) دقة التوزيعات - ( ) قراءة وتحليل الخريطة. ب- ( ) تحليل الصور والأشكال والجداول الإحصائية والبيانية. ٨- ( ) أشكرك لتميزك في الأنشطة الصفية. ٩- ( ) بارك الله فيك لتميزك في الأنشطة اللاصفية. ١٠- ملاحظات أخرى: .....		
( ) الأحد ( ) الاثنين ( ) الثلاثاء ( ) الأربعاء ( ) الخميس الموافق / ..... / .....	الفصول في : ١- ( ) التأخر في موعد التسليم. ٢- تسجيل ( ) التاريخ - ( ) العنوان. ٣- تعريف المفاهيم والمصطلحات. ٤- ( ) إكمال الدروس والواجبات الناقصة. ٥- ( ) حل أنشطة ورقة العمل واستكمالها. ٦- ( ) لصق ورق العمل. ٧- المهارات من حيث: أ- الخرائط: ( ) الرسم والتلوين - ( ) دقة التوزيعات - ( ) قراءة وتحليل الخريطة. ب- ( ) تحليل الصور والأشكال والجداول الإحصائية والبيانية. ٨- ( ) أشكرك لتميزك في الأنشطة الصفية. ٩- ( ) بارك الله فيك لتميزك في الأنشطة اللاصفية. ١٠- ملاحظات أخرى: .....		

## ملاحظات:

- ✓ يكتب الطالب/ة الاسم والفصل في بداية الورقة.
- ✓ تلتصق الورقة في بداية الدفتر أو كراس الأنشطة.
- ✓ تجمع الدفاتر كل حصة أولى من كل أسبوع دراسي.
- ✓ يتم توقيع ولي الأمر على الدرجة.
- ✓ تتم مراجعة المعلم أثناء الفرض فقط وتترك ورقة في حال عدم تواجد المعلم.

فكرة إعداد وتصميم رئيس قسم الاجتماعيات  
أ.سعود المونس  
[www.q84s.com](http://www.q84s.com)  
جميع الحقوق محفوظة

## جدول الحصص الأسبوعي

اليوم	الحصّة الأولى	الحصّة الثانية	الحصّة الثالثة	الحصّة الرابعة	الحصّة الخامسة	الحصّة السادسة	الحصّة السابعة
الأحد							
الاثنين							
الثلاثاء							
الأربعاء							
الخميس							

## ملاحظات

ملاحظات:

.....

.....

.....

.....

.....

.....

.....

.....

.....

مواضيع:

.....

.....

.....

.....

.....

.....

.....

.....

.....

## مفهوم علم الجغرافيا وعلاقته بالعلوم الأخرى الدرس صفحة ٢٩ إلى ٣٢

س ١/ أكمل العبارات التالية بما يناسبها:

١- الأصل الذي تعود إليه كلمة الجغرافيا .....

٢- الجغرافيا كلمة إغريقية تعني .....

٣- العالم الذي قال عبارة "الجغرافيا لا شيء سوى الإنسان والبيئة" يسمى .....

٤- العلم الذي يختص بدراسة التوزيع الجغرافي للظواهر الطبيعية والبشرية على سطح الأرض يسمى .....

٥- ازدهرت العلوم الجغرافية الفلكية في الفترة ما بين القرن التاسع حتى القرن .....

٦- العلم الذي يهتم بالعلاقات المكانية والزمانية يسمى .....

س ٢/ علل ما يأتي: يطلق على علم الجغرافيا أم العلوم.



س ٣/ اذكر ما يلي:

أ- أهمية علم الجغرافيا.

١- .....

٢- .....


٣- .....

س ٤/ فرق بين كلاً من:

أ- فروع علم الجغرافيا.

الجغرافيا الطبيعية	الجغرافيا البشرية	الجغرافيا التاريخية	الجغرافيا الاقليمية

## ب- علاقة علم الجغرافيا بالعلوم الأخرى.

	الجيولوجيا
	علم المناخ
	علم النبات
 موقع المناهج الكويتية <a href="http://almanahj.com/kw">almanahj.com/kw</a>	علم الاقتصاد
	علم الاجتماع
	علم التاريخ
	علم السياسة

**مصادر المعلومات الجغرافية (الخريطة) الدرس صفحة ٣٧ إلى ٤٠**

س ١/ انظر الخريطة المقابلة ثم اذكر عناصر الخريطة الناقصة.

- ١- .....
- ٢- .....
- ٣- .....
- ٤- .....

س ٢/ اكتب الاسم او المصطلح العلمي للعبارة التالية:

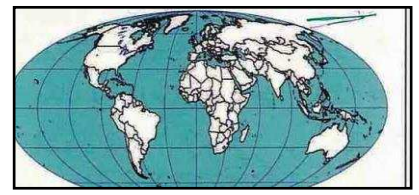
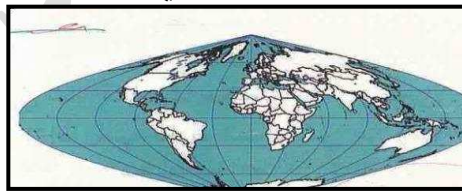
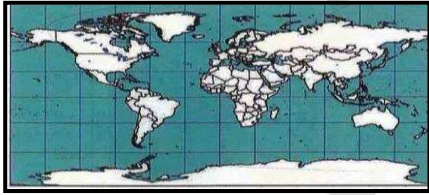
١- ( ) رسم أو صورة توضيحية مصغرة لمظاهر سطح الأرض أو لجزء منه ممثلة على لوحة مستوية بمقياس رسم معين.

٢- ( ) الحد الذي يضم جميع محتويات الخريطة داخله، أو الحد الذي تنتهي عنده جميع تفاصيل الخريطة.

٣- ( ) عملية إسقاط لشبكة خطوط الطول ودوائر العرض من السطح الكروي إلى السطح المستوي للخريطة.

٤- ( ) خريطة لمساحة صغيرة من سطح الأرض لدولة ما تضاف خريطة ركنية صغيرة الحجم تبين موقع المنطقة الصغيرة بالنسبة للدولة ككل.

س ٣/ انظر الأشكال التالية ثم حدد نوع المسقط المستخدم في الخرائط.



س ٤/ اذكر ما يلي:

أ- مصادر المعلومات الجغرافية.

- ١- .....
- ٢- .....
- ٣- .....
- ٤- .....
- ٥- .....

ب- أنواع اتجاه الشمال.

-١

-٢

-٣

ج- الأسس التي يجب مراعاتها عند الكتابة على الخريطة.

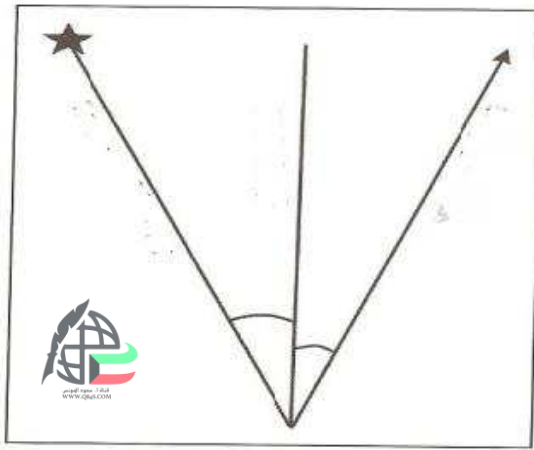
-١

-٢

-٣

-٤

س ٥/ اكتب على الشكل التالي: أنواع اتجاهات الشمال.



س ٦/ فرق بين: أنواع مقاييس الرسم.

-١

-٢

-٣

-٤



**مصادر المعلومات الجغرافية (أنواع الخرائط) الدرس صفحة ٤١ إلى ٤٢****س ١/ أكمل العبارات التالية بما يناسبها:**

- ١- الخرائط التي تنقل صورة سطح الأرض بكل ما عليه يطلق عليها اسم .....
- ٢- الخرائط التي تتعامل مع موضوع محدد لإظهار توزيع جغرافي كخرائط الأقاليم المناخية والسكان تسمى .....

**س ٢/ ارسم مخطط سهمي يوضح ما يأتي:**

أ- أنواع الخرائط حسب مقياس الرسم.



ب- أنواع الخرائط حسب الموضوع.

**س ٣/ اذكر ما يلي:**

أ- أسس تصنيف الخرائط.

صفحة رقم - ٧ -

ب- تقسيمات خرائط التوزيعات.

- ١

- ٢

- ٣

- ٤

**مصادر المعلومات الجغرافية** الدرس صفحة ٤٤ إلى ٤٨

س ١/ اختر البديل المناسب من البدائل التالية وضع خطأ تحت الإجابة الصحيحة:

١- دائرة معارف تغطي ميادين مختلفة في العلوم والآداب تسمى:

أ- الرسائل الجامعية      ب- الدوريات      ج- الببلوجرافيا      د- الموسوعات

٢- أحد مصادر المعلومات الجغرافية وتختص بتسجيل كل ما كتب حول موضوع معين عالمياً أو محلياً تسمى:

أ- الموسوعات      ب- الدوريات      ج- التعداد      د- الببلوجرافيا

٣- أصدرت المجموعة الإحصائية السنوية في الكويت أول مره عام:

أ- ١٩٦٠م      ب- ١٩٦٢م      ج- ١٩٦٣م      د- ١٩٦٤م

٤- تصدر الهيئة العامة للمعلومات المدنية دليلها الإحصائي عن السكان في دولة الكويت:

أ- مرة كل سنة      ب- مرتين كل سنة      ج- مرة كل سنتين      د- مرة كل ٤ سنوات

٥- أول تصوير فوتوغرافي للأرض عن طريق الاستشعار عن بعد كان في عام:

أ- ١٩٦٠م      ب- ١٩٧٠م      ج- ١٩٨٠م      د- ١٩٩٠م

س ٢/ فرق بين كلاً من:

أ- الإحصائيات الحيوية والمجموعة الإحصائية السنوية.

المجموعة الإحصائية السنوية	الإحصائيات الحيوية

## ب- دليل الهيئة العامة للمعلومات المدنية والنشرات الإحصائية.

النشرات الإحصائية	دليل الهيئة العامة للمعلومات المدنية
	

س ٣/ عرف الاستشعار عن بعد:



س ٤/ دلل على صحة العبارات التالية:

أ- يتم استخدام تقنية الاستشعار عن بعد في كثير من المجالات.

- ١

- ٢

- ٣

ب- للدراسات الميدانية أهمية كبيرة.

س ٥/ علل ما يلي:

أ- تعتبر الدراسة الميدانية (العمل الحقلية) من أهم خطوات البحث العملي والدراسات العلمية.

ب- الدراسة الميدانية تبرز أهمية الخريطة وخاصة للباحث الجغرافي.

ج- يفضل الباحثون الاعتماد على بيانات الهيئة العامة للمعلومات المدنية أكثر من التعداد.

د- تعتبر الدوريات من المصادر المهمة لجمع البيانات.

س ٦/ عدد ما يلي:

أ- الأمور الواجب توافرها لدى الباحث أثناء الدراسة الميدانية.

١ -

٢ -

٣ -

٤ -

٥ -

٦ -

٧ -

ب- مهام وواجبات الباحث أثناء إجراء الدراسة الميدانية.

١ -

٢ -

٣ -

٤ -

ج- المجالات التطبيقية العلمية للاستشعار عن بعد.

١ -

٢ -

٣ -


الدرس صفحة ٥٣ إلى ٥٥ **الإنسان والكون**

س ١/ لاحظ الأشكال التالية ثم أجب عما يلي:



(١)

١- يمثل الشكل (١): ظاهرة كونية تسمى .....



(٢)

٢- يمثل الشكل (٢): إحدى المجرات والتي تقع فيها المجموعة

الشمسية والأرض تسمى .....

س ٢/ أكمل العبارات التالية بما يناسبها:

١- الوحدة الأساسية للكون تسمى .....

٢- الظاهرة الكونية التي نشأ الكون بحدوثها تسمى .....

٣- المجرة التي تقع ضمنها المجموعة الشمسية تسمى .....

س ٣/ عرف المفاهيم التالية:

أ- السدم:

.....

ب- الشهب:

.....

ج- النيازك:

.....

د- المذنبات:

.....

هـ- الأقمار:

.....

و- النجوم:

.....

**المجموعة الشمسية** الدرس صفحة ٥٩ إلى ٦٣**س١/ أكمل العبارات التالية بما يناسبها:**

- ١- النسبة المئوية التي تشكلها الشمس من كتلة نظام المجموعة الشمسية .....
- ٢- الأشعة التي إذا زاد تعرض الإنسان لها أصبحت قاتلة تسمى .....

**س٢/ اكتب الاسم أو المصطلح العلمي للمفاهيم التالية:**

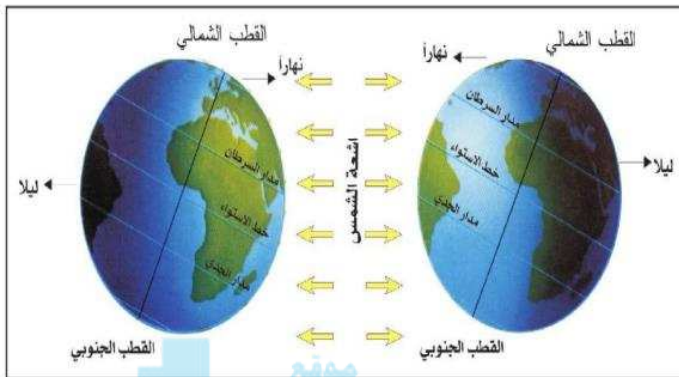
- ١- ( ) نظام يتكون من الشمس ومجموعة من الكواكب تدور حولها في مدار اهليلجي.
- ٢- ( ) إحدى نجوم درب التبانة، وهي عبارة عن كرة من الغازات الملتهبة (الهيدروجين والهيليوم وغازات متنوعة أخرى) ولها مجال مغناطيسي هو المسئول عن معظم النشاط الشمسي. [almanahj.com/kw](http://almanahj.com/kw)
- ٣- ( ) هي أجسام صخرية تدور حول الشمس، وأشكالها غير محدودة وتتركز ٩٥٪ منها ما بين كوكب المريخ والمشتري، ويعتقد بأنها ناتجة عن انفجار كوكب سيار سابق أو تصادم أجرام سماوية.

**س٣/ علل: يعرف كوكب الزهرة بتوأم الأرض.****س٤/ اذكر: اقسام الأشعة الشمسية.**

- ١- .....
- ٢- .....
- ٣- .....

س ٥/ فرق بين: كواكب المجموعة الشمسية (الصخرية والغازية) وفقاً للجدول التالي.

الكواكب الغازية	الكواكب الصخرية
المشتري	عطارد
زحل موقع المناهج الكويتية almanahj.com/kw	الزهرة
أورانوس	الأرض
نبتون	المريخ
بلوتو	xena ub: 313-2003

**الخصائص العامة للكرة الأرضية** الدرس صفحة ٦٧ إلى ٦٨

س ١/ لاحظ الشكل التالي ثم أجب عما يلي:

يمثل الشكل: .....

س ٢/ أكمل العبارات التالية بما يناسبها:

- ١- الخط الوهمي الذي يصل بين القطبين الشمالي والجنوبي يسمى .....
- ٢- المقدار الذي يميل به محور الكرة الأرضية بمقدار يبلغ .....

س ٣/ اذكر النتائج المترتبة على: دوران الأرض حول محورها (دورة الأرض المحورية).

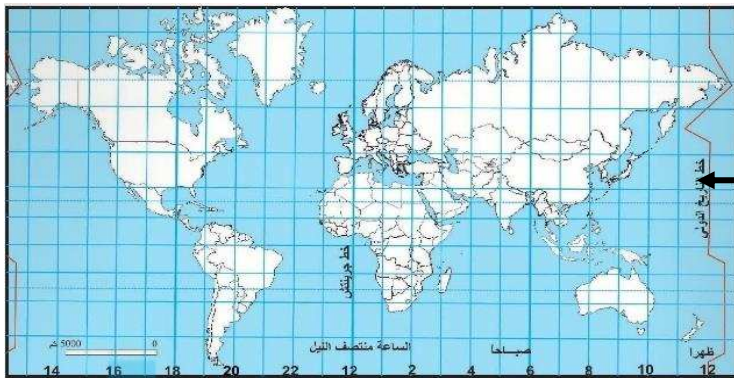
- ١- .....
- ٢- .....
- ٣- .....
- ٤- .....

س ٤/ علل ما يلي:

أ- زيادة طول القطر الاستوائي للكرة الأرضية عن القطر القطبي.

ب- تعاقب الليل والنهار.



**الخصائص العامة للكرة الأرضية (خطوط الطول ودوائر العرض) الدرس صفحة ٦٩ إلى ٧٠**

س ١/ لاحظ الشكل التالي ثم أجب عما يلي:

السهم يشير في الشكل إلى: .....

س ٢/ أكمل العبارات التالية بما يناسبها:

١- المسافة بين كل خط طول والذي يليه تعادل .....

٢- اتفق العلماء في المؤتمر الجغرافي العالمي على تقسيم سطح الكرة الأرضية إلى .....

س ٣/ قارن بين: دوائر العرض وخطوط الطول وفقاً للجدول التالي.

خطوط الطول	دوائر العرض	وجه المقارنة
		التعريف
		الخصائص

**الخصائص العامة للكرة الأرضية (مسألة الزمن) الدرس صفحة ٧٠ إلى ٧١**

س ١/ أنظر الفقرات التالية ثم: احسب الزمن.

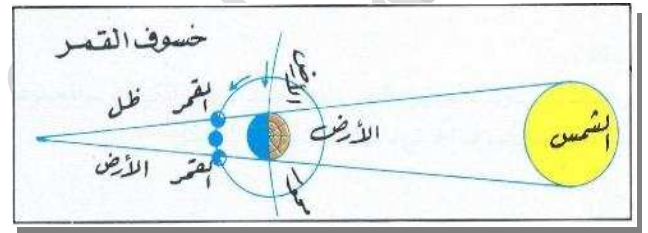
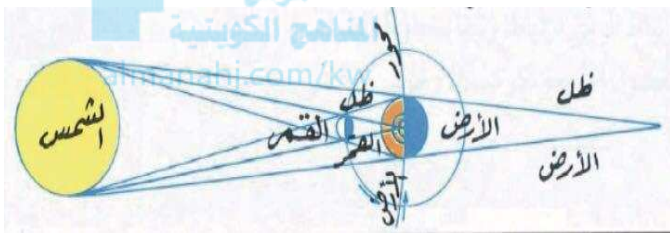
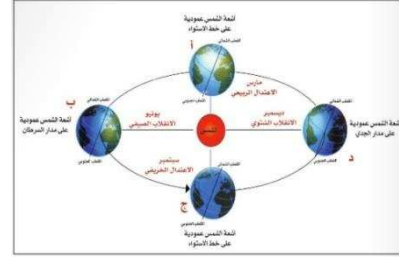
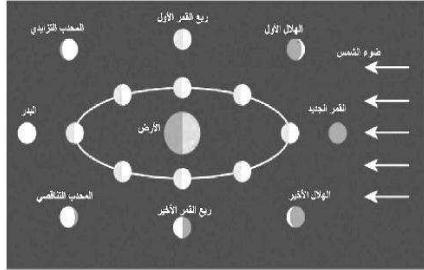
أ- إذا كانت مباراة كرة القدم تذاغ في دولة الكويت الساعة التاسعة مساءً، وإذا علمنا أن الكويت تقع على خط طول ٤٥ شرقاً، ولندن تقع على خط طول غرينتش، فكم تكون الساعة التي ستقام بها المباراة في لندن؟  
الحل:



ب- إذا كانت الساعة في مدينة القاهرة الساعة الثالثة مساءً، وإذا علمنا أن القاهرة تقع على خط طول ٣٠ شرقاً، فكم تكون الساعة في مدينة الكويت الواقعة على خط طول ٤٥ شرقاً؟  
الحل:

## الخصائص العامة للكوكب الأرضية (دوران الأرض حول الشمس) الدرس صفحة ٧٢ إلى ٧٥

س ١/ لاحظ الأشكال التالية ثم اكتب مدلولها: (قد يأتي السؤال ارسماً للظواهر)



س ٢/ ما النتائج المترتبة على:

أ- دوران الأرض حول الشمس.

١-

٢-

ب- دوران القمر حول الأرض.

١-

٢-

س ٣/ علل ما يلي

أ- حدوث ظاهرة الكسوف الحلقي للشمس.

ب- حدوث ظاهرة المد والجزر.

**الغلاف الصخري** الدرس صفحة ٨٣ إلى ٨٦

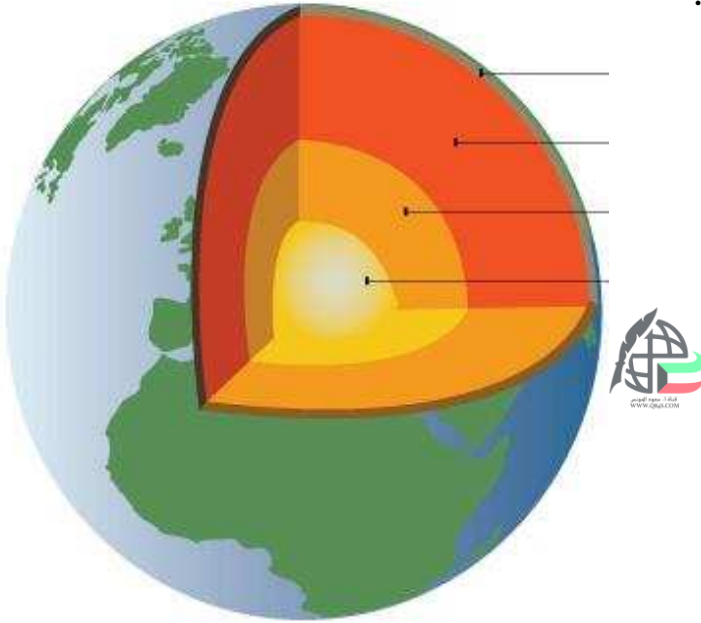
س ١/ اكتب الاسم أو المصطلح العلمي للعبارات التالية:

- ١- ( دراسة الظواهر الطبيعية في البيئة وليس للإنسان دخل في نشأتها. )  
 ٢- ( القشرة الخارجية لكوكب الأرض. )  
 ٣- ( صخور جرانيتية تتكون من السيليكات والألمونيوم. )  
 ٤- ( تلي طبقة السيليكات وتتكون من صخور بازلت من السيليكات والماغنسيوم. )

س ٢/ اذكر ما يلي:

أ- أهمية الصخور.

ب- مكونات وأجزاء الغلاف الصخري.



س ٣/قارن بين: أنواع الصخور القشرة الأرضية وفقاً للجدول التالي.

الصخور المتحولة	الصخور الرسوبية	الصخور النارية	وجه المقارنة
			التعريف
			المميزات
			الأنواع

**الغلاف الصخري (العمليات الخارجية السريعة) الدرس صفحة ٨٦ إلى ٨٩**

س ١/ عرف: الزلازل:

س ٢/ فرق بين: أنواع الزلازل وفقاً للجدول التالي.

الزلازل الصناعية	الزلازل الجوفية البلوتونية	الزلازل التكتونية
 <p>موقع المناهج الكويتية almanahj.com/kw</p> 		

س ٣/ عدد ما يلي:

أ- المناطق التي تتركز فيها حدوث الزلازل على الكرة الأرضية.

- ١

- ٢

- ٣

- ٤

## ب- الآثار التخريبية الناتجة عن الزلازل.

- ١

- ٢

- ٣

- ٤

- ٥



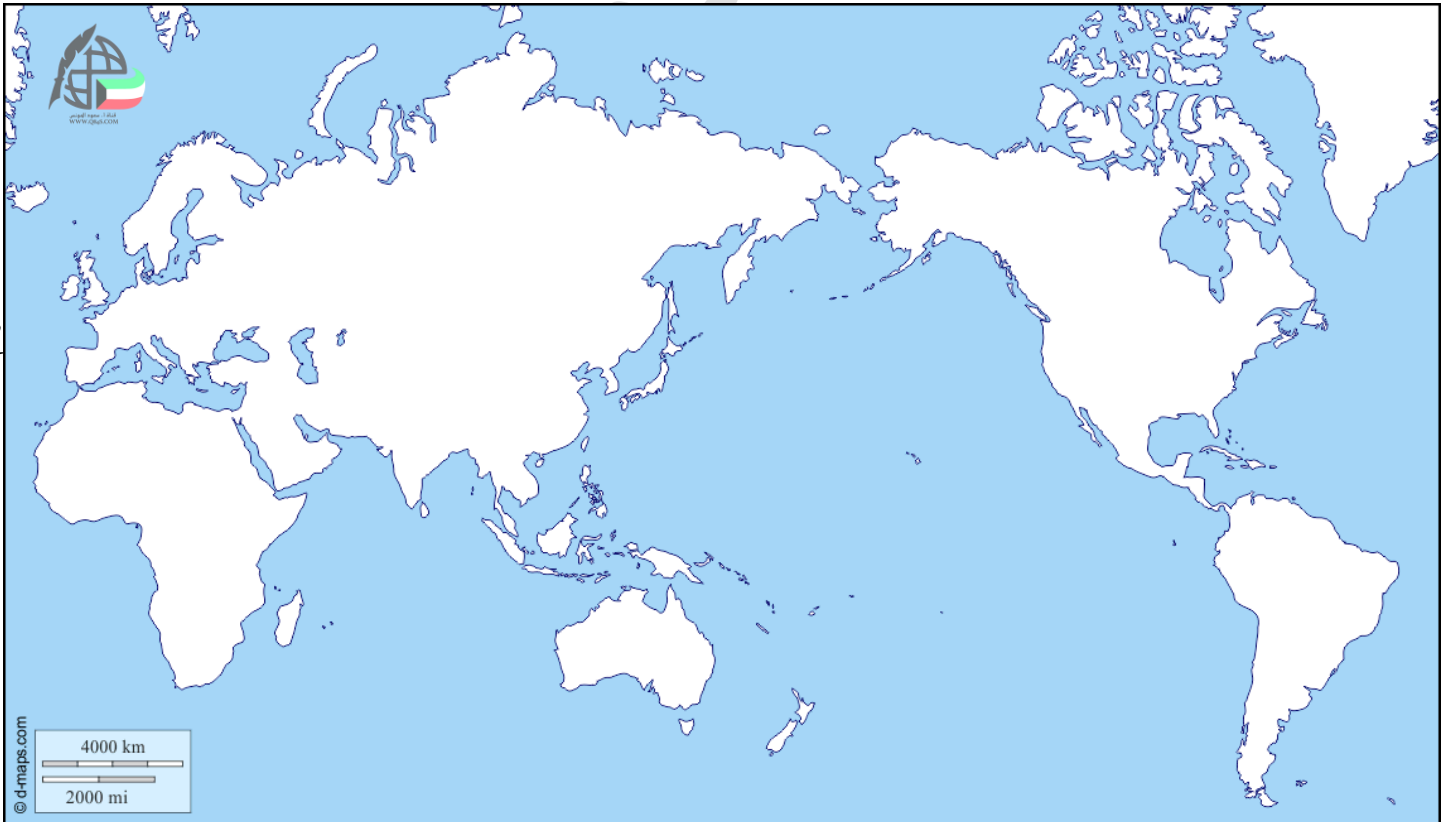
س ٤/ علل ما يلي:

أ- حدوث الزلازل.

ب- يتفق التوزيع الجغرافي للبراكين في العالم مع توزيع الزلازل بنطاقاتها الأربعة.

ص ٨٨

س ٥/ من خلال خريطة العالم الصماء: حدد نطاق حلقة النار.



صفحة رقم - ٢١ -

**الغلاف الصخري (العمليات الخارجية السريعة) الدرس صفحة ٨٩ إلى ٩١**

س ١/وضح بالرسم أجزاء المخروط البركاني:



س ٢/عرف: البراكين:

س ٣/عدد ما يلي: أنواع المواد البركانية.

- ١

- ٢

- ٣

س ٤/اذكر ما يلي:

أ- دور البراكين في تشكيل سطح الأرض.

ب- تأثير البراكين في النشاط البشري.

- ١

- ٢

- ٣

- ٤



**الغلاف الصخري (العمليات الخارجية البطيئة)** الدرس صفحة ٩١ إلى ٩٢

س١/ اكتب الاسم أو المصطلح العلمي للمفاهيم التالية:

- ١- ) ( الالتواء الذي يميل محوره بزواوية تصل لأكثر من ٦٠ درجة على المستوى الرأسى.
- ٢- ) ( التواء يستلقي أو يرتكز أحد جانبيه على سطح الأرض بدرجة تكاد تكون أفقية.
- ٣- ) ( التواء يتساوى في ميل الطبقات على كلا طرفيه.

س٢/ عرف: الالتواءات:

س٣/ فرق بين: أنواع الالتواءات وفقاً للجدول التالي.

الالتواء المنتظم أو المتماثل	الالتواء الأحادي الميل
الالتواء المتوازي	الالتواء المائل أو الغير متماثل

**الغلاف الصخري (العمليات الخارجية البطيئة)** الدرس صفحة ٩٣ إلى ٩٤


س ١/ عرف الانكسار أو الصدع:

س ٢/ صحح ما تحته خط:

١- الغور مصطلح ألماني يقصد به عش النسر. ( )

س ٣/ فرق بين: أنواع الانكسارات حسب الجدول التالي. (أحياناً يأتي السؤال ارسماً)

الرسم	المفهوم	نوع الانكسار
الرسم المناهج العربية almanahj.com/kw		الانكسار العادي/البسيط
		الانكسار المعكوس
		الانكسار الزاحف
		الانكسار الأفقي
		الانكسار السلبي/ المدرج
		الظهور الصدعية (الهورست)

**الغلاف الصخري (عمليات التجوية والتعرية) الدرس صفحة ٩٤ إلى ٩٥**

س ١/ لاحظ الأشكال التالية ثم أجب عما يلي:

١- يمثل الشكل إحدى عمليات التجوية تسمى .....

س ٢/ اكتب الاسم أو المصطلح العلمي للعبارات التالية:

- ١- ( ) تأثير العناصر الحيوية في تفكك وتفتت وتحلل الصخور في موضعها، ويتم ذلك أما ميكانيكياً أو كيميائياً أو حيوياً.
- ٢- ( ) هي العوامل التي تقوم بتشكيل سطح الأرض مثل الرياح والمياه الجارية والجليد والأمواج والمياه الجوفية، ولا يقتصر دورها على عملية النحت بل تقوم بنقل المفتتات الصخرية من مكان لآخر.

س ٣/ عدد: أنواع عمليات التجوية.

١-

٢-

٣-

**الغلاف الصخري (الرياح) الدرس صفحة ٩٦ إلى ٩٨****س١/ اكتب الاسم أو المصطلح العلمي للمفاهيم التالية:**

- ١- ( ) أحد أشكال النقل بواسطة الرياح وتتم بقوة دفع التيارات الهوائية واحتكاكها بالسطح وتعمل على حمل أو جر المواد الصخرية المفككة.
- ٢- ( ) أحد أشكال النقل بواسطة الرياح وتتم بواسطة الرياح المسلحة بحبيبات الرمل، وتعمل على كشط الأجزاء الضعيفة.
- ٣- ( ) أخاديد وقنوات طويلة تفصل بينهما أشكال تشبه أضلع الحيوان، انتشرت قديماً في صحراء تركستان.

**س٢/ اذكر ما يلي:**

أ- وسائل النحت بفعل الريح.

- ١- .....
- ٢- .....

ب- أهم مظاهر السطح الناتجة من عملية التذرية.

- ١- .....
- ٢- .....
- ٣- .....

ج- أهم مظاهر السطح الناتجة من عملية البري.

- ١- .....
- ٢- .....
- ٣- .....
- ٤- .....

س ٣/ ارسـم خـريـطة ذـهنـية لأشـكال الإرسـاب بفعل الريح:

س ٤/ فرق بين:

أ- الـياردنـج والـجلاميد المصقولة وفقاً للجدول التالي.

الجلاميد المصقولة	الياردنـج

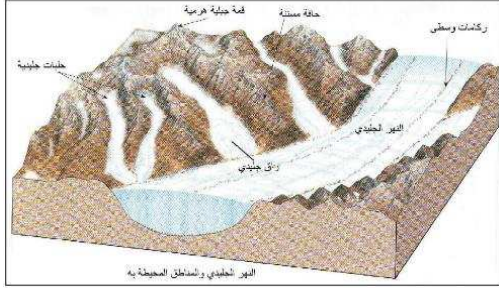
ب- طرق النقل بفعل الرياح.

التعلق	القفز	الزحف الرملي

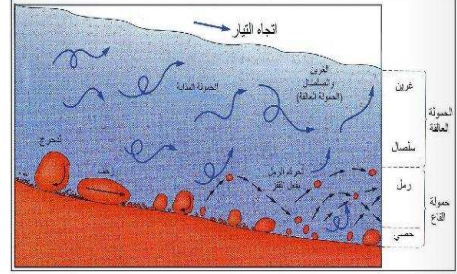
ج- مصير الحبيبات المنتقلة بفعل الرياح.

الترسيب	الارتشاق	التوقف

## الغلاف الصخري (المياه الجارية + الجليد) الدرس صفحة ٩٩ إلى ١٠١



س١/ لاحظ الأشكال التالية ثم اكتب مدلولاتها:



موقع  
المناهج الكويتية  
almanahj.com/kw

س٢/ عرف: المياه الجارية:

س٣/ فرق بين كلاً من:

أ- الغطاءات الجليدية وحقل الثلج والثلاجات.

الأنهار الجليدية أو الثلاجات	حقل الثلج	الغطاءات الجليدية

ب- الثلج والجليد.

الجليد	الثلج

س ٤/ اذكر ما يلي:

أ- دور الجليد في تشكيل سطح الأرض.

- ١- .....
- ٢- .....

ب- دور الأنهار في تشكيل سطح الأرض.

- ١- .....
- ٢- .....
- ٣- .....
- ٤- .....

ج- عناصر النظام النهري.

- ١- .....
- ٢- .....
- ٣- .....
- ٤- .....

س ٥/ علل: تختلف الشبكات النهرية من نهر إلى آخر.

- ١- .....
- ٢- .....
- ٣- .....
- ٤- .....

**الغلاف الصخري (الأمواج + المياه الحوفية) الدرس صفحة ١٠١ إلى ١٠٥**

س ١/ لاحظ الشكل التالي جيداً ثم أجب عما يمثله:



موقع  
المناهج الكويتية  
almanahj.com/kw

س ٢/ اكتب الاسم او المصطلح العلمي للمفاهيم التالية:

- ١- ( ) الحافة الصخرية التي تشرف على البحر مباشرة بانحدار شديد وتشكل الأمواج الشكل العام لها.
- ٢- ( ) تنشأ نتيجة لاصطدام الأمواج بنقاط الضعف الجيولوجي فتتهش الصخور مكونة فتحات وفجوات في هذه الصخور.
- ٣- ( ) فجوات أو فتحات محفورة في الجروف البحرية بصورة متقابلة بحيث تعمل الأمواج على التحامها ببعضها.
- ٤- ( ) أعمدة صخرية ناتئة كجزر في البحر ومتاخمة للجروف البحرية تنشأ نتيجة اختلال أسقف الأقواس البحرية وانهارها.

س ٣/ علل: حدوث الأمواج.

س ٤/ عدد ما يلي:

أ- الظواهر الناتجة عن عملية النحت بفعل الأمواج.

-١

-٢

-٢

-٤



ب- الظروف التي تتواجد فيها الينابيع.

-١

-٢


-٣

س ٥/ فرق بين:

أ- أنواع المياه الجوفية.

مياه جوفية مالحة	مياه جوفية معدنية	مياه جوفية عذبة
 المناهج الكويتية almanahj.com/kw		

ب- أصناف المياه الجوفية.

الينابيع الحارة والنافورات	الينابيع	الآبار
	 www.oman.gov.kw	



المناهج الكويتية  
almanahj.com/kw

# مبادئ علم الاقتصاد

صفحة رقم - ٣٢ -

**أهمية دراسة علم الاقتصاد** الدرس صفحة ١٩٧ إلى ١٩٩

س١/ اكتب الاسم او المصطلح العلمي للمفاهيم التالية:

- ١- ( ) رغبات الفرد في سبيل الحصول على السلعة أو الخدمة.
- ٢- ( ) كل شيء مادي ملموس حسيماً أي ان له حجماً ووزناً يحصل عليه الفرد عند شرائه.
- ٣- ( ) كل شيء معنوي غير ملموس يحصل عليه الفرد وينتفع به بعد شرائه.

س٢/ صنف الحاجات حسب نوعها في الجدول التالي:

(التعليم - الغذاء - الملابس - العلاج - الأمن - الأجهزة الالكترونية)

الخدمات	السلع
	

س٣/ اذكر: أهمية دراسة علم الاقتصاد.

- ١- .....
- ٢- .....

**النشاط الاقتصادي** الدرس صفحة ٢٠٠ إلى ٢٠٤

س١/ اكتب الاسم أو المصطلح العلمي للمفاهيم التالية:

- ١- ( ) عملية انتاج وتبادل السلع والخدمات بين البائع والمشتري.
- ٢- ( ) العناصر المطلوبة لإنتاج السلع والخدمات في المجتمع.
- ٣- ( ) مرحلة يتم بها مزج الموارد الاقتصادية المطلوبة في أسلوب انتاج محدد لإنتاج سلعة او خدمة.
- ٤- ( ) مرحلة يتم بها انتاج السلع والخدمات بشكلها النهائي.

س٢/ اختر من المجموعة (أ) ما يناسبه من المجموعة (ب) عن طريق وضع الرقم المناسب:

م	مجموعة (أ)	الرقم	مجموعة (ب)
١	السلع الاستهلاكية		سلع استهلاكية يستطيع الفرد استخدامها لفترة طويلة من الزمن.
٢	سلع انتاجية		السلع التي لا يستطيع الفرد الاستغناء عنها مقارنة بالسلع الاخرى.
٣	سلع استهلاكية معمرة		سلع استهلاكية لا يستطيع الفرد استخدامها لفترة طويلة من الزمن.
٤	سلع استهلاكية غير معمرة		سلع يستخدمها الفرد مباشرة لإشباع حاجاته.
٥	سلع استهلاكية ضرورية		سلع يستطيع الفرد التقليل او التوقف عن استخدامها اذا دعت الحاجة.
٦	سلع استهلاكية كمالية		سلع تستخدمها الشركات لرفع قدرتها الانتاجية لانتاج السلع والخدمات.

س٣/ ارسم مخطط سهمي يوضح:

أ- مراحل النشاط الاقتصادي:

## ب- أنواع السلع:

س ٤/ قارن بين: الموارد الاقتصادية, وفقاً للجدول التالي.

وجه المقارنة	الأرض	العمل	رأس المال	المنظم
المفهوم				
مثال				

## مفاهيم اقتصادية الدرس صفحة ٢٠٥ إلى ٢٠٦

س ١/تعريف: علم الاقتصاد:

س ٢/اذكر: أهداف علم الاقتصاد.

-١

-٢

-٣


س ٣/فرق بين: علاقة علم الاقتصاد بالعلوم الأخرى وفقاً للجدول التالي.

علاقة علم الاقتصاد بعلم السياسة	علاقة علم الاقتصاد بعلم الاجتماع
علاقة علم الاقتصاد بعلم الاحصاء	علاقة علم الاقتصاد بعلم الجغرافيا
	

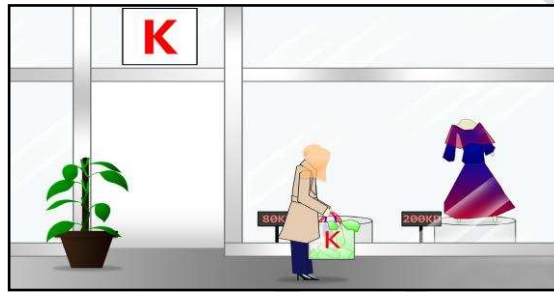
س ٤/دلل على صحة العبارة التالية: "يرتبط علم الاقتصاد بالعلوم الأخرى".

**المشكلة الاقتصادية** الدرس صفحة ٢١١ إلى ٢١٤

س ١/ أكتب مدلول الصور التالية: من خلال دراستك لخصائص المشكلة الاقتصادية.



موقع  
المناهج الكويتية  
almanahj.com/kw



س ٢/ اختر البديل الصحيح من البدائل التالية وضع تحته خطأ:

- أ- اختيار سلع وخدمات من بين بدائل مختلفة بسبب محدودية الموارد الاقتصادية المتاحة هو مفهوم:  
١- المشكلة الاقتصادية      ٢- الندرة      ٣- التضحية      ٤- الاختيار
- ب- يقصد بوجود ندرة نسبية للموارد الاقتصادية المتاحة بسبب حاجات الأفراد المتزايدة في ظل محدودية الموارد الاقتصادية:  
١- المشكلة الاقتصادية      ٢- الندرة      ٣- التضحية      ٤- الاختيار
- ج- اختيار كمية من السلع والخدمات من بين عدة بدائل لإنتاجها بحسب أهميتها للمجتمع هو مفهوم:  
١- المشكلة الاقتصادية      ٢- الندرة      ٣- الاختيار      ٤- التضحية
- د- وجود موارد اقتصادية محدودة لإنتاج كمية من السلع والخدمات تقل عن حاجات الأفراد هو مفهوم:  
١- المشكلة الاقتصادية      ٢- الندرة      ٣- التضحية      ٤- الاختيار

س ٣/الذكر: التساؤلات الثلاثة لمعالجة المشكلة الاقتصادية.

١-

٢-

٣-

س ٤/اقترح خطة لمعالجة المشكلة الاقتصادية في دولتك:



**النظم الاقتصادية** الدرس صفحة ٢١٥ إلى ٢١٦**س ١/ اكمل العبارات التالية بما يناسبها:**

- ١- يطلق على نظام اقتصاديات السوق اسم .....
- ٢- الدولة التي تبنت نظام اقتصاديات التخطيط المركزي تسمى .....
- ٣- العالمان اللذان تبنيان نظام اقتصاديات التخطيط المركزي .....
- ٤- الاسم الذي يعرف به نظام اقتصاديات التخطيط المركزي في القرن ٢٠ بإسم .....
- ٥- التعامل مع الخلل الموجود في اقتصاد أي دولة يعتمد على التعرف على .....
- ٦- العالم الذي نادى بفكرة الحرية الاقتصادية يسمى .....
- ٧- النظام الاقتصادي الذي يقوم على مبدأ العدالة الاجتماعية بمساعدة الفقراء والتوزيع العادل للدخل يسمى .....


**س ٢/ اذكر: أنواع النظم الاقتصادية.**

- ١- .....
- ٢- .....
- ٣- .....
- ٤- .....

**س ٣/ قارن بين: اسلوب الانظمة الاقتصادية لحل المشكلة الاقتصادية وفقاً للجدول التالي.**

وجه المقارنة	اقتصاديات السوق	اقتصاديات التخطيط المركزي	النظام الاقتصادي المختلط	النظام الاقتصادي الاسلامي
ملكية الموارد الاقتصادية				
دور الحكومة				
تحديد الاسعار				

س ٤/ فرق بين: نظم الاسواق الاقتصادية وفقاً للجدول التالي.

النظام الاقتصادي الاسلامي	النظام الاقتصادي المختلط	اقتصاديات التخطيط المركزي	اقتصاديات السوق
 <p>موقع المناهج الكويتية almanahj.com/kw</p>			

## الأسواق الدرس صفحة ٢٢١ إلى ٢٢٤

## س١/ اكتب الاسم او المصطلح العلمي للعبارات التالية:

- ١- ( ) الحيز أو الوسط التي تتم خلاله مبادلة السلع والخدمات بين البائع والمشتري بمقابل مادي.
- ٢- ( ) الشخص أو الجهة التي لديها سلعة أو خدمة يرغب ببيعها مقابل سعر معين.
- ٣- ( ) الشخص أو الجهة التي ترغب بشراء سلعة أو خدمة بمقابل مادي.

## س٢/ ارسم خريطة ذهنية: توضح عناصر السوق.

## س٣/ قارن بين: أنواع الأسواق الرئيسية.

وجه المقارنة	المنافسة الكاملة	المنافسة الاحتكارية	احتكار القلة	الاحتكار
	١-	١-	١-	١-
	٢-	٢-	٢-	٢-
المميزات والصفات	٣-	٣-	٣-	٣-
	٤-	٤-		٤-
	٥-			

**الطلب** الدرس صفحة ٢٢٤ إلى ٢٢٩**س ١/ اكتب الاسم او المصطلح العلمي للعبارة التالية:**

- ١- ( ) وجود علاقة عكسية بين الكمية المطلوبة وسعرها مع ثبات العوامل الأخرى.
- ٢- ( ) السلعة التي تحقق عند شراءها الى حد ما نفس درجة الاشباع التي نحصل عليها عند شراء السلعة الأخرى.
- ٣- ( ) السلع التي لا يمكن استهلاكها إلا معاً، أي ان الشخص لا يستطيع ان يستهلك احدى السلعتين بمفردها.
- ٤- ( ) جدول يبين الكميات المطلوبة من سلعة معينة عند مستويات مختلفة من الاسعار.

**س ٢/ اذكر: محددات الطلب.**

- ١- .....
- ٢- .....
- ٣- .....
- ٤- .....

**س ٣/ انظر الجدول المقابل ثم أجب عن ما يلي:**

١- العلاقة بين الكمية المطلوبة والسعر في قانون الطلب تسمى .....



٢- ارسم منحنى الطلب.

الكمية المطلوبة	السعر	
١٠	١ دينار	١
٩	٢ دينار	٢
٨	٣ دينار	٣
٧	٤ دينار	٤
٦	٥ دينار	٥

**العرض** الدرس صفحة ٢٣٣ إلى ٢٣٠

س ١/ اكتب الاسم او المصطلح العلمي للعبارات التالية:

- ١- ( ) وجود علاقة طردية بين الكمية المعروضة وسعرها مع ثبات العوامل الأخرى.
- ٢- ( ) جدول يبين الكميات المعروضة من سلعة معينة عند مستويات مختلفة من الاسعار.

س ٢/ اذكر: محددات العرض.

-١

-٢

-٣

س ٣/ انظر الجدول المقابل ثم أجب عن ما يلي:

١- العلاقة بين الكمية المطلوبة والسعر في قانون الطلب

تسمى .....

٢- ارسم منحني العرض.

الكمية المطلوبة	السعر	
٦	١ دينار	١
٧	٢ دينار	٢
٨	٣ دينار	٣
٩	٤ دينار	٤
١٠	٥ دينار	٥

صفحة رقم - ٤٣ -

## توازن السوق الدرس صفحة ٢٣٣ إلى ٢٣٤

س ١/ اذكر: كيف يتحقق توازن السوق.

س ٢/ انظر الجدول المقابل ثم أجب عن ما يلي:

الكمية المطلوبة	السعر	الكمية المعروضة	
١٠	١ دينار	٦	١
٩	٢ دينار	٧	٢
٨	٣ دينار	٨	٣
٧	٤ دينار	٩	٤
٦	٥ دينار	١٠	٥

أ- فائض العرض عند السعر ١ دينار يساوي .....

ب- فائض الطلب عند السعر ٤ يساوي .....

ج- يتحقق توازن السوق عند السعر .....

د- ارسم منحنى العرض والطلب مع توضيح سعر توازن السوق.

## دور الدولة في الاقتصاد الدرس صفحة ٢٣٩ إلى ٢٤١

س١/ اكتب الاسم او المصطلح العلمي للعبارات التالية:

- ١- ( مجموع قيم ما ينتج في دولة ما من سلع وخدمات خلال مدة زمنية محددة. )
- ٢- ( حاصل قسمة الناتج المحلي الاجمالي على عدد سكان الدولة. )

س٢/ اذكر ما يلي:

أ- طرق قياس الناتج المحلي الاجمالي.



-١

-٢

ب- قطاعات الانفاق في الدولة.

-١

-٢

-٣

-٤

س٣/ من خلال الجدول التالي: اختر أي الدولتين تفضل العيش فيها؟ ولماذا.

وجه المقارنة	دولة أ	دولة ب
الناتج المحلي الاجمالي	٣ مليار دولار امريكي	٢ مليار دولار امريكي
عدد السكان	٣ مليون نسمة	١ مليون نسمة
متوسط دخل الفرد من الناتج المحلي الاجمالي	١٠٠٠ دولار امريكي	٢٠٠٠ دولار امريكي

س ٤/صمم خريطة ذهنية: توضح قطاعات الانفاق في الدولة.

س ٥/انظر الجدول ثم: احسب قيمة الناتج المحلي الاجمالي للدولة.

الواردات	الصادرات	الاستثمار الاجمالي	الانفاق الحكومي	الاستهلاك
٥٥	٦٣	٨٠	٤٢	٣٧٠

١ - القانون =

٢ - الحل =



الدرس صفحة ٢٤٢ إلى ٢٤٤ **الظواهر الاقتصادية**

س١/ اكتب الاسم او المصطلح العلمي للمفاهيم التالية:

١- ( ) مجموع الاشخاص الراغبين بالحصول على وظيفة والقادرين على العمل ويقومون بالبحث عن وظيفة.

٢- ( ) الارتفاع المستمر في المستوى العام لأسعار السلع والخدمات في فترة زمنية محددة.

٣- ( ) النسبة المئوية للزيادة في الناتج المحلي الاجمالي.

٤- ( ) (الناتج المحلي للسنة الحالية - الناتج المحلي للسنة الماضية) ÷ الناتج المحلي للسنة الماضية × 100.


موقع  
المناهج الكويتية  
almanahj.com/kw

س٢/ فرق بين:

أ- قوة العمل ومعدل البطالة من حيث المفهوم.

معدل البطالة	قوة العمل

ب- التضخم والارتفاع السعري المؤقت.

الارتفاع السعري المؤقت	التضخم
	

س٣/ انظر الجدول جيداً ثم: احسب معدل النمو الاقتصادي للدولة.

الناتج المحلي الاجمالي	السنة
٢.٠٠٠.٠٠٠.٠٠٠ دولار	٢٠١٥م
٢.٢٠٠.٠٠٠.٠٠٠ دولار	٢٠١٦م

١- القانون =

٢- الحل =


## تفاعل الدولة مع الظواهر الاقتصادية الدرس صفحة ٢٤٤ إلى ٢٤٧

## س١/ عرف التنمية:

س٢/ صنف: محددات النمو الاقتصادي والتنمية الاقتصادية وفقاً الجدول التالي.

(تحسين التعليم - زيادة الصادرات - تحسين المستوى الصحي - زيادة مستوى الاستهلاك - انخفاض معدلات

التلوث - تحسين إنتاجية العامل - الاستقرار السياسي - زيادة مستوى الدخل - حرية التعبير)

التنمية الاقتصادية	النمو الاقتصادي
	

س٣/ ماذا يحدث لو: انخفض الانفاق الاستثماري في الدولة.

-١

-٢

-٣

-٤

س٤/ اذكر ما يلي:

أ- دور الدولة في معالجة مشكلة الانكماش الاقتصادي وارتفاع معدلات البطالة.

ب- طرق تحقيق النمو الاقتصادي في الدولة.

-١

-٢

-٣

-٤