




مراجعة على الوحدين الخامسة والسادسة
للف الثالث
الإمتحان النهائي

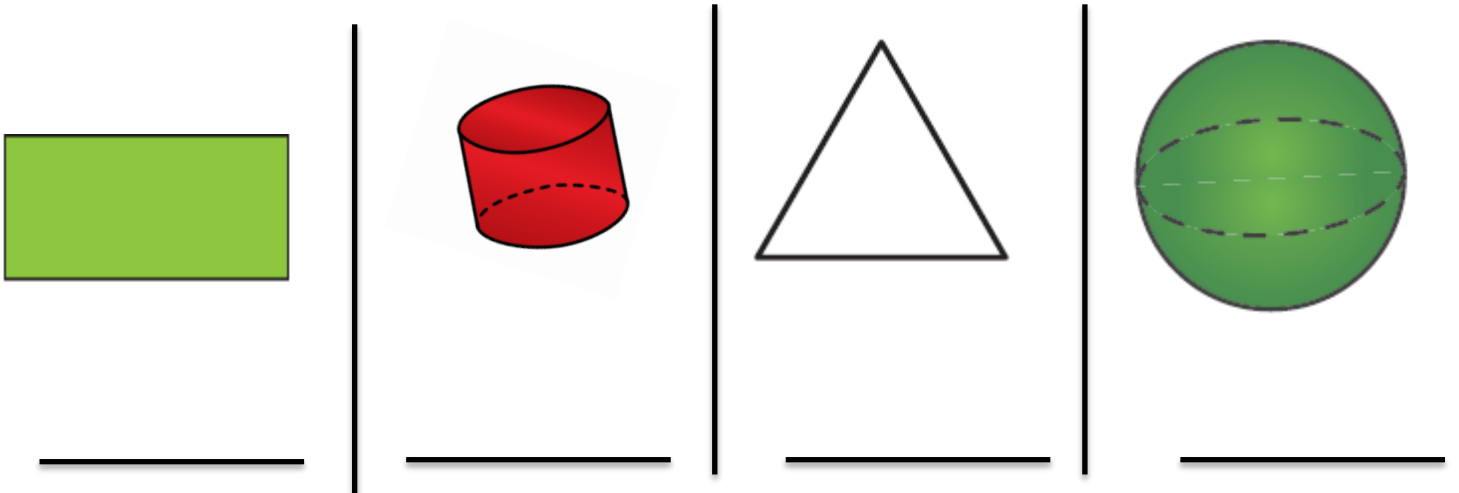
لمشاهدة شرح المذكرة وخطها ادخل
على قناة الأستاذ حسين المعاني على
اليوتيوب ومن قوائم التشغيل اختر
الصف الثالث
ومن ثم اختر الوحدة السادسة

السؤال الأول: ظلل (أ) إذا كانت العبارة صحيحة، وظلل (ب) إذا كانت العبارة غير صحيحة:


ب	أ	عدد اوجه المكعب يساوي ٦	١
ب	أ	عدد احرف المثلث يساوي ٢	٢



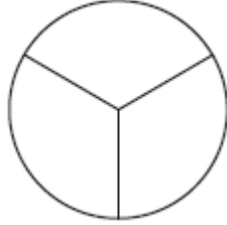
السؤال الثاني: اكتب اسم كل شكل من الاشكال التالية :-




السؤال الثالث : أ) لَوْن ما يمثله الكلمة الموضحة اسفل الشكل:



نصف



ثلث

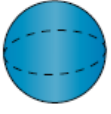


ثلاثة أرباع

أكتب عدد الأوجه والأحرف والرؤوس مستعيناً بالمجسمات المبيّنة في الجدول:

عدد الرؤوس	عدد الأحرف	عدد الأوجه	المجسم
٨	١٢	٦	

اصِلِ الْمَجَسَمِ بِالصِّفَةِ الْمُنَاسِبَةِ لَهُ.



لَهُ وَجْهٌ مُسَطَّحٌ وَاحِدٌ عَلَى الْأَقْلِ

يَتَدَخَّرُ

	<p>مِنْطَقَةٌ مَرْبَعَةٌ</p>	
<p>مُسْتَطِيلٌ</p>	<p>مِنْطَقَةٌ مُسْتَطِيلَةٌ</p>	
<p>دَائِرَةٌ</p>	<p>مِنْطَقَةٌ دَائِرِيَّةٌ</p>	
<p>مِثْلَثٌ</p>	<p>مِنْطَقَةٌ مِثْلَثَةٌ</p>	

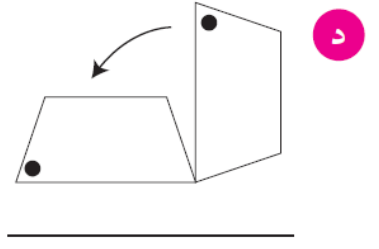
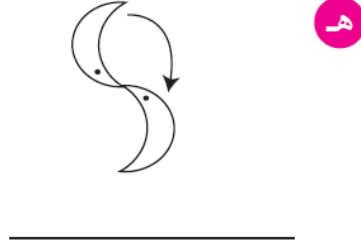
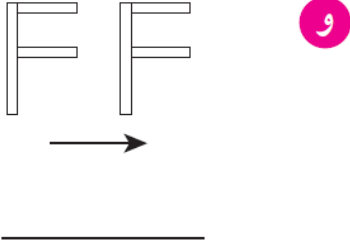
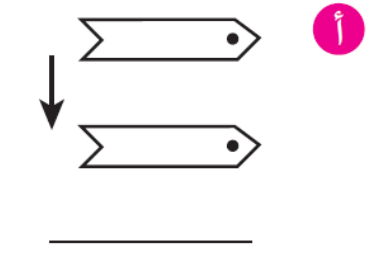
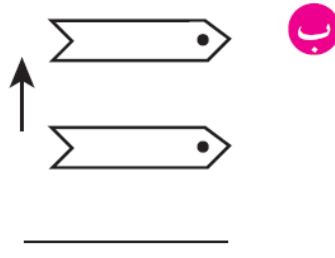
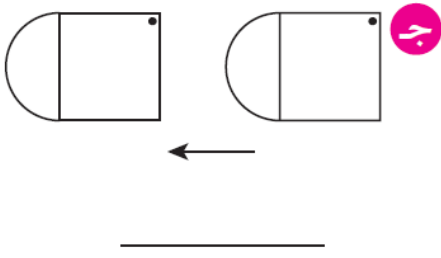
حَوِّطِ الْكَلِمَةَ الْمُنَاسِبَةَ لِحَرَكَةِ الشَّكْلِ.

رُبْعٌ دَائِرَةٌ نِصْفٌ دَائِرَةٌ دَائِرَةٌ كَامِلَةٌ

رُبْعٌ دَائِرَةٌ نِصْفٌ دَائِرَةٌ دَائِرَةٌ كَامِلَةٌ

غَرْبًا شَرْقًا شِمَالًا

١ اكتب الكلمة المناسبة لحركة الشكل.



١ حوِّط الأشكال التي لها الاسم نفسه.

	مثث
	مربع
	مستطيل
	دائرة

١ اكتب عدد الأضلاع وعدد الرؤوس.

ب

عدد الأضلاع _____

عدد الرؤوس _____

د

عدد الأضلاع _____

عدد الرؤوس _____

د

عدد الأضلاع _____

عدد الرؤوس _____

د

عدد الأضلاع _____

عدد الرؤوس _____

اكتب عدد الوحدات المربعة الملونة داخل كل من الأشكال التالية:

٤ أكمل.



عدد الأقراص الصفراء _____

عدد كل الأقراص _____

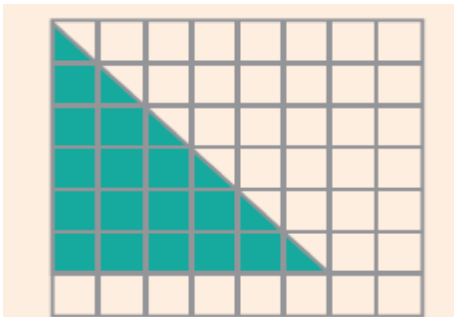


عدد نظارات السباحة الخضراء _____

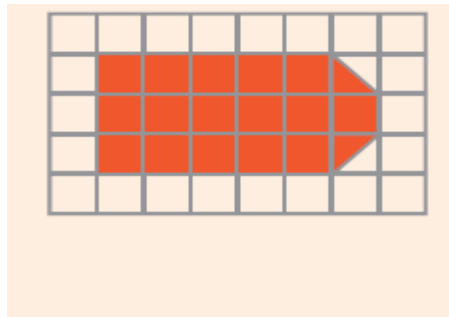
عدد كل النظارات _____

اكتب عدد الوحدات المربعة الملونة داخل كل من الأشكال التالية:

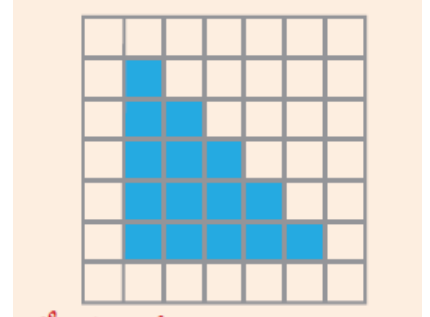
WWW.KweduFiles.Com



_____ وحدة مربعة



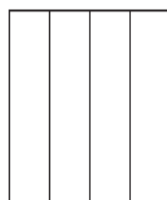
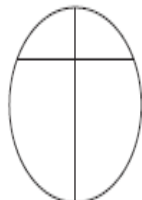
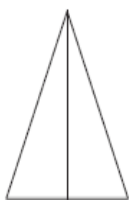


_____ وحدة مربعة

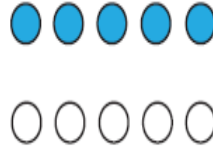
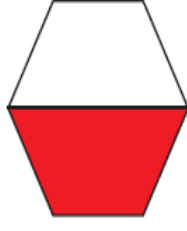


_____ وحدة مربعة


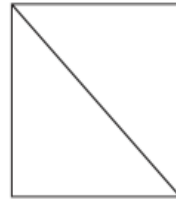
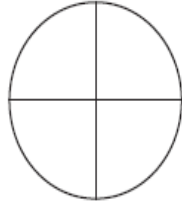
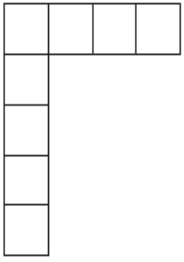
١ حوِّط الشكل المقسم إلى أجزاء متطابقة.



حَوِّطِ الشَّكْلَ الَّذِي يُمَثِّلُ الْجُزْءَ الْمَلَوَّنُ مِنْهُ النِّصْفَ.

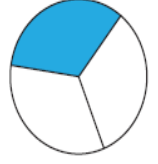
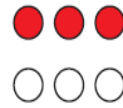
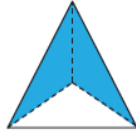



لَوِّنْ مَا يُمَثِّلُ النِّصْفَ.



٢ حَوِّطِ الشَّكْلَ الَّذِي يُمَثِّلُ الْجُزْءَ الْمَلَوَّنُ مِنْهُ


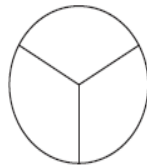
١ حَوِّطِ الشَّكْلَ الَّذِي يُمَثِّلُ الْجُزْءَ الْمَلَوَّنُ مِنْهُ



WWW.KweduFiles.Com

٤ لَوِّنْ مَا يُمَثِّلُ ثَلَاثِينَ.

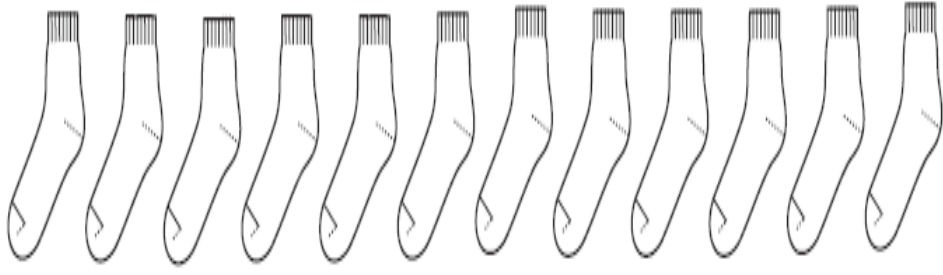
٣ لَوِّنْ مَا يُمَثِّلُ ثَلَاثًا.



صِلْ كُلَّ شَكْلٍ بِالْكَلِمَةِ الْمُنَاسِبَةِ.

- رُبْعٌ
- نِصْفٌ
- ثَلَاثَةُ أَرْبَاعٍ
- ثَلَاثَانِ

-
-
-
-



لَوْنُ ثَلَاثَةِ أَرْبَاعِ الْجَوَارِبِ.



ثَلَاثَةُ أَرْبَاعِ عَدَدِ الْجِبَالِ يُسَاوِي

٦



٥



٤



ثلث	رَبْع	نِصْف	رَبْع	ثَلَاثَةُ أَرْبَاع	نِصْف
ثَلَاثَةُ أَرْبَاع	رُبْعَانِ	ثَلث	ثَلثَانِ	رُبْعَانِ	نِصْف
نِصْف	نِصْف	ثَلثَانِ	نِصْف	رَبْع	رُبْعَانِ

www.KweduFiles.Com

للمزيد من الامتحانات
ادخل على القناة في اليوتيوب
واختار من قوائم التشغيل في
الأعلى
قناة الأستاذ حسين المعاني
الصف الثالث مراجعة الوحدة
الخامسة والسادسة

