

تم تحميل هذا الملف من موقع المناهج الكويتية



الملف نموذج إجابة منطقة الجهراء

[موقع المناهج](#) ⇐ [المناهج الكويتية](#) ⇐ [الصف السادس](#) ⇐ [اجتماعيات](#) ⇐ [الفصل الأول](#)

روابط مواقع التواصل الاجتماعي بحسب الصف السادس



روابط مواد الصف السادس على تلغرام

[الرياضيات](#)

[اللغة الانجليزية](#)

[اللغة العربية](#)

[التربية الاسلامية](#)

المزيد من الملفات بحسب الصف السادس والمادة اجتماعيات في الفصل الأول

<a href="#">نموذج احابة اختبار لمنطقة مبارك الكبير عام 2016</a>	1
<a href="#">اوراق عمل مهمة في مادة الاجتماعيات</a>	2
<a href="#">بنك اسئلة ممتاز في مادة الاجتماعيات</a>	3
<a href="#">بنك معلومات مهم في مادة الاجتماعيات</a>	4
<a href="#">تلخيص اجتماعيات بشكل مبسط</a>	5

## نموذج الإجابة



العام الدراسي: ٢٠٢١/٢٠٢٢ م  
الزمن: ساعة وخمسة وأربعون دقيقة  
عدد الأوراق: (٦)

امتحان نهاية الفترة الدراسية الأولى  
لمقرر: الكويت ودول الخليج العربية  
للسف السادس

وزارة التربية  
الإدارة العامة لمنطقة الجواء التعليمية  
التوجيه الفني للاجتماعيات

### أجب عن جميع الأسئلة:

أولاً: الأسئلة الموضوعية: وتتكون من ( أ ، ب ، ج ، د ، هـ ، و ، ز ) ( لكل نقطة درجة )

أ- أكمل العبارات التالية بما يناسبها فيما درست:

- ١- المياه التي توجد في باطن الأرض تسمى المياه الجوفية ص ٢٨
- ٢- يُطلق على صانع السفينة اسم القلاب ص ٣٣
- ٣- تعتبر من أشهر الحرف التي مارسها أبناء منطقة الخليج العربي قديماً تسمى مهنة الغوص ص ٣١
- ٤- الشيخ الذي في عهده ألغيت معاهدة الحماية التي وقعت مع بريطانيا اسمه عبدالله السالم الصباح ص ٦٣
- ٥- العام الذي أعلن فيه قيام المملكة العربية السعودية ١٩٣٢م ص ٦٥
- ٦- المدينة التي اتخذت مقراً لمجلس التعاون لدول الخليج العربية تسمى الرياض ص ٧٠

ب- أكمل المخططات السهمية التالية:



تابع أولاً: الأسئلة الموضوعية:

ج- أكتب المفاهيم أو المصطلحات الدالة على العبارات التالية:

م	المفهوم	العبرة
١	<u>الخليج العربي</u>	ذراع مائي لبحر العرب يمتد من خليج عمان جنوباً حتى شط العرب شمالاً. ص ١٩
٢	<u>الهضبة</u>	أرض مرتفعة سطحها مستوي، وتمتد مساحة كبيرة. ص ٢٣
٣	<u>المناخ</u>	حالة الجو في مكان ما، خلال فترات زمنية طويلة. ص ٢٥
٤	<u>الاستعمار</u>	سيطرة دولة قوية على دولة ضعيفة بهدف استغلال مواردها. ص ٦١
٥	<u>الديمقراطية</u>	حكم الشعب لنفسه. ص ٦٤

د- ظلل الخيار الصحيح من بين الخيارات التي تلي كل عبارة:

١- عدد درجات العرض التي تمتد خلالها منطقة الخليج العربي: ص ١٩

١٧ درجة	١٦ درجة	١٥ درجة	١٤ درجة
---------	---------	---------	---------

٢- أحد طاقم السفينة يغوص في أعماق البحر بحثاً عن اللؤلؤ: ص ٣٢

النوخذه	الطواش	النهام	الغواص
---------	--------	--------	--------

٣- أفضل أنواع السفن المستعملة في رحلة السفر لمتانتها وقدرتها على نقل الحمولة الكبيرة: ص ٣٤

البغلة	اليوم	السنبوك	الجالبوت
--------	-------	---------	----------

٤- أول دولة أوروبية استعمارية وصلت للخليج العربي واحتلت أجزاء منه: ص ٦٠

هولندا	الإنجليز	فرنسا	البرتغال
--------	----------	-------	----------

٥- العام الذي أعلن فيه قيام مجلس التعاون لدول الخليج العربية: ص ٧٠

١٩٨٠م	١٩٨١م	١٩٨٢م	١٩٨٣م
-------	-------	-------	-------



تابع نموذج الإجابة لامتحان مقرر الكويت ودول الخليج العربية - الصف السادس المتوسط - الفترة الدراسية الأولى - العام الدراسي ٢٠٢١/٢٠٢٢ م

تابع أولاً: الأسئلة الموضوعية:

هـ. ظلل الحرف ( أ ) إذا كانت العبارة صحيحة وظلل الحرف ( ب ) إذا كانت العبارة خاطئة:

م	العبارة	( أ )	( ب )
١	ربان السفينة يسمى الغواص. ص ٣٢	أ	ب
٢	العثور على مواقع أثرية للحضارة الهلينستية في جزيرة فيلكا. ص ٤٧	أ	ب
٣	العام الذي حصلت فيه دولة قطر على استقلالها ١٩٦١ م ص ٦٥	أ	ب
٤	الدولة التي أعلن فيها قيام مجلس التعاون لدول الخليج العربية تسمى سلطنة عمان. ص ٧٠	أ	ب
٥	القمة السابعة والعشرون لمجلس التعاون الخليجي تسمى قمة الشيخ جابر الأحمد الصباح ص ٧٤	أ	ب

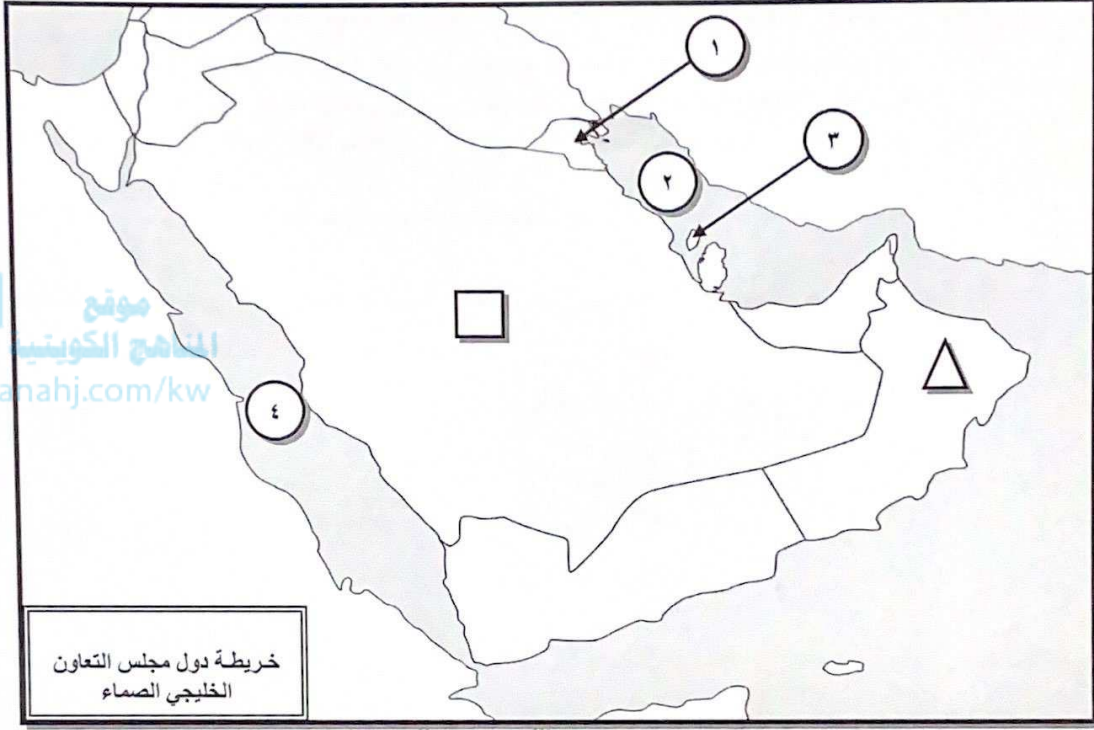
و- صنف الكلمات التالية إلى مكانها المناسب في الجدول الذي يليها: ص ٢٦

{ الصبار - الخبيزة - العرفج - الرمث - الحويذان }

النباتات المعمرة	النباتات الحولية
الصبار	الخبيزة
العرفج	الحويذان
الرمث	

تابع أولاً: الأسئلة الموضوعية:



ز- أمامك خريطة دول مجلس التعاون الخليجي الصماء نفذ المطلوب مما يليها:



١- أكتب الرقم الدال على العبارات التالية:

- الخليج العربي يمثله على الخريطة الرقم ٢ ص ٢٣
- حضارة دلمون يمثله على الخريطة الرقم ٣ ص ٤٨
- أول دولة عربية خليجية نالت استقلالها من الاستعمار البريطاني يمثله على الخريطة الرقم ١ ص ٦٥

٢- حدد كل مما يلي على الخريطة باستخدام الرموز التالية:

- الدولة التي ظهرت فيها حضارة مجان باستخدام الرمز  ص ٤٨
- الدولة الخليجية الوحيدة التي لم تتعرض للاستعمار باستخدام الرمز  ص ٦٥



ثانياً: الأسئلة المقالية: تتكون من ( أ ، ب ، ج )

أ- قارن بين كل من: ( أربع درجات )

أوجه المقارنة	خطوط الطول ص ٢١	دوائر العرض ص ٢١
التعريف	عبارة عن خطوط وهمية أي غير موجودة على سطح الأرض ترسم على الكرة الأرضية وتقسّم الكرة الأرضية إلى قسمين شرقي وغربي.	عبارة عن خطوط وهمية أي غير موجودة على سطح الأرض ترسم على الكرة الأرضية وتقسّم الكرة الأرضية إلى قسمين شمالي وجنوبي.
العدد	٣٦٠	١٨٠

ب- علل لما يلي :

١- أهمية موقع منطقة الخليج العربية. ص ١٩ (درجتان)

- \* تقع في وسط العالم.
- \* تتحكم بأهم طرق التجارة العالمية.

٢- حياة السكان في البيئة الصحراوية لمنطقة الخليج العربية قاسية وخشنة. ص ٢٧ (درجتان)

- \* لفقر البيئة.
- \* قلة الموارد فيها خاصة المياه.

٣- انصراف سكان منطقة الخليج العربية عن حرفة الغوص على اللؤلؤ. ص ٣١ (درجتان)

- \* بسبب ظهور اللؤلؤ الصناعي.
- \* بسبب اكتشاف النفط.

ج- عرف المفاهيم التالية: ( درجتان )

١- قليب أو جليب: يطلق على البئر عند سكان منطقة الخليج العربية. ص ٥١

٢- استقلال: تحرر الدولة من المستعمر الأجنبي وقيامها بمسؤولية إدارة شؤونها الداخلية والخارجية. ص ٦٣

**ثالثاً: الأسئلة المقالية: تتكون من ( أ ، ب ، ج )**

أ- فرق بين كل مما يلي: ( أربع درجات )

الموقع النسبي ص ٢٠	الموقع الفلكي ص ٢٠
الموقع بالنسبة للماء واليابس. ( درجة )	الموقع بالنسبة لخطوط الطول ودوائر العرض. ( درجة )
القفال ص ٣٢	الدشة ص ٣٢
نهاية موسم الغوص. ( درجة )	بداية موسم الغوص. ( درجة )

ب- لاحظ الصورة التي أمامك ثم أجب عن الأسئلة التالية: ص ٧٧



- ١- ماذا يمثل هذا الشعار؟ ( درجة )  
\* شعار مجلس التعاون لدول الخليج العربية.
- ٢- كم عدد الدول في هذا التنظيم السياسي؟ ( درجة )  
\* ٦.

ج- عدد ما يلي:

- ١- الصفات المشتركة بين دول مجلس التعاون الخليجي. ص ٧٠ ( درجتان ) ( يكتفى بنقطتين )  
\* وحدة التراث. \* الانتماء. \* الدين. \* المصالح المشتركة.

- ٢- الأساليب التي اتبعتها الاستعمار للسيطرة على دول الخليج العربي. ص ٦٠ ( درجتان )  
\* المعاهدات.  
\* الاتفاقيات.

- ٣- إنجازات مجلس التعاون لدول الخليج العربية. ص ٧٧ ( درجتان ) ( يكتفى بنقطتين )

- \* إقامة الاتحاد الجمركي.
- \* انطلاق السوق الخليجي المشترك في يناير ٢٠٠٨م.
- \* التنسيق في المجال السياسي في المحافل الدولية لكل القضايا التي تهم المجلس.
- \* وثيقة التطوير الشامل للتعليم.
- \* اتفاقية الدفاع المشتركة واستمرار تعزيز قوة درع الجزيرة.

" انتهت الأسئلة "