

تم تحميل هذا الملف من موقع المناهج الكويتية



الملف تعلم مهارة الجمع

[موقع المناهج](#) ← [المناهج الكويتية](#) ← [الصف الخامس](#) ← [رياضيات](#) ← [الفصل الثاني](#)

روابط مواقع التواصل الاجتماعي بحسب الصف الخامس



روابط مواد الصف الخامس على تلغرام

[الرياضيات](#)

[اللغة الانجليزية](#)

[اللغة العربية](#)

[التربية الاسلامية](#)

المزيد من الملفات بحسب الصف الخامس والمادة رياضيات في الفصل الثاني

<a href="#">اوراق عمل رياضيات</a>	1
<a href="#">ورقة عمل</a>	2
<a href="#">ورقة عمل</a>	3
<a href="#">اوراق عمل للاختبار في مادة الرياضيات</a>	4
<a href="#">اختبار قصير مفيد في مادة الرياضيات</a>	5



5

## الصف الخامس

### المهارات الأساسية

الجمع

٣

يتعرف المتعلم في هذه المهارة على :

- يوجد ناتج الجمع موظفاً لوحدة القيمة المكانية .
- يوجد ناتج جمع الأعداد الكلية مع / بدون إعادة التسمية .
- يوجد ناتج جمع الأعداد العشرية مع / بدون إعادة التسمية .





## مهارة الجمع المستوى الأول

٥

١. أوجد ناتج الجمع:

$$= 2 \ 210 + 4 \ 115$$



١ اجمع الآحاد

١

٢ اجمع العشرات

٢

خطوات  
الجمع

٣ اجمع المئات.  
وهكذا الى  
باقي المنازل

٣

٤ أعد التسمية  
عند الحاجة

٤

وحدات	عشرات	مئات	ألوف
٥	١	١	٤
٠	١	٢	٢
+			



$$= 133 \ 101 + 557 \ 366$$

آحاد	عشرات	مئات	آحاد	عشرات	مئات
٦	٤	٣	٧	٥	٥
١	٥	١	٢	٣	١
+					

$$\begin{array}{r} 586324 \\ 201365 \\ \hline \end{array} +$$

$$\begin{array}{r} 22740 \\ 56121 \\ \hline \end{array} +$$





## مهارة الجمع المستوى الثاني

5

### 1. أوجد ناتج الجمع وأعد التسمية عند الحاجة :

$$= 1272 + 3160$$

آحاد	عشرات	مئات	ألوف
5	7	1	3
2	7	2	1
+			

وحدات	عشرات	مئات	ألوف
5	7	1	3
2	7	2	1
+			

### 2. أوجد ناتج الجمع وأعد التسمية عند الحاجة :

آحاد	عشرات	مئات	آحاد	عشرات	مئات	آحاد	عشرات	مئات
الآلوف	الآلوف	الآلوف	الآلوف	الآلوف	الآلوف	الآلوف	الآلوف	الآلوف
8	6	3	3	2	3	□	□	□
1	2	9	1	7	9	□	□	□
+								

### 3. أوجد ناتج الجمع وأعد التسمية عند الحاجة :

$$51199380$$

$$32807362 +$$

$$32086324$$

$$42807360 +$$





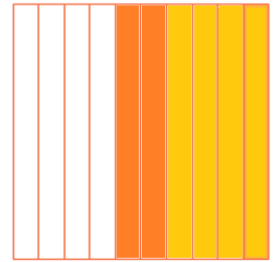

## مهارة الجمع المستوى الثالث

5

### 1. أوجد ناتج :

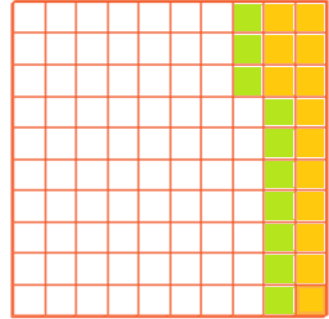
موقع  
المناهج الكويتية  
almanahj.com/kw

$$\begin{array}{r} 1, 4 \\ + 0, 2 \\ \hline \end{array}$$



عند جمع الأعداد  
العشرية نساوي  
المنازل بين  
العددين بإضافة  
أصفار يمين العدد  
ونراعي ترتيب  
الفواصل.

$$\begin{array}{r} 0, 13 \\ + 0, 10 \\ \hline \end{array}$$



### 2. أوجد ناتج :

$$6, 135$$

$$3, 4$$

$$1, 98 +$$

$$31, 8$$

$$9, 06 +$$

$$4, 72$$

$$9, 09 +$$

