

تم تحميل هذا الملف من موقع ملفات الكويت التعليمية



[com.kwedufiles.www//:https](https://www.kwedufiles.com)

*للحصول على أوراق عمل لجميع الصفوف وجميع المواد اضغط هنا

* للحصول على أوراق عمل لجميع مواد الصف السابع اضغط هنا

<https://kwedufiles.com/7>

* للحصول على جميع أوراق الصف السابع في مادة اجتماعيات ولجميع الفصول, اضغط هنا

<https://kwedufiles.com/7social>

* للحصول على أوراق عمل لجميع مواد الصف السابع في مادة اجتماعيات الخاصة بـ الفصل الأول اضغط هنا

<https://www.kwedufiles.com/7social1>

* لتحميل كتب جميع المواد في جميع الفصول للصف السابع اضغط هنا

<https://www.kwedufiles.com/grade7>

* لتحميل جميع ملفات المدرس منطقة حولي التعليمية اضغط هنا

[bot_kwlinks/me.t//:https](https://t.me/bot_kwlinks)

*للحصول على جميع روابط الصفوف على تلغرام وفيسبوك من قنوات وصفحات: اضغط هنا

الروابط التالية هي روابط الصف السابع على مواقع التواصل الاجتماعي

مجموعة الفيسبوك

صفحة الفيسبوك

مجموعة التلغرام

بوت التلغرام

قناة التلغرام

رياضيات على التلغرام

منطقة حولي التعليمية

اختبار نهاية الفترة الدراسية الأولى

العام الدراسي 2020/2019م

الصف السابع

نموذج إجابة اختبار مادة

الاجتماعيات



وزارة التربية
الإدارة العامة لمنطقة حولي التعليمية
التوجيه الفني للاجتماعيات

العام الدراسي : ٢٠٢٠/٢٠١٩ م
الزمن : ساعة وخمس وأربعون
عدد الأوراق (٥)
نموذج الإجابة

امتحان نهاية الفترة الدراسية الأولى
لمقرر الكويت والوطن العربي
للسابع المتوسط

السؤال الأول: موضوعي ويتكون من (أ - ب - ج - د - هـ - و) لكل نقطة درجة

أ- ظلل الخيار الصحيح من بين الخيارات التي تلي كل عبارة:

١- مسطح مائي تحيط به اليابس من جميع الاتجاهات:

الينبوع	البحيرة	الأفلاج	المياه الجوفية
---------	---------	---------	----------------

٢- الحضارة التي اعتقدت بالبعث والخلود:

أهل اليمن	بلاد الشام	السومرية	المصرية القديمة
-----------	------------	----------	-----------------

٣- العام الميلادي الذي انضمت فيه جزر القمر إلى جامعة الدول العربية:

١٩٩٢ م	١٩٩٣ م	١٩٩٤ م	١٩٩٥ م
--------	--------	--------	--------

٤- المسطح المائي الذي يحد الوطن العربي من الشمال:

بحر العرب	البحر الأحمر	بحر عمان	البحر المتوسط
-----------	--------------	----------	---------------

٥- كل ما ارتفع عن الأرض وله قمة لا يقل ارتفاعها عن ١٠٠٠ متر:

الجبيل	- التل	- الهضبة	- السهل
--------	--------	----------	---------

٦- الرياح التي تهب على سلطنة عمان:

تجارية	موسمية	شتوية	عكسية غربية
--------	--------	-------	-------------

٧- تقل الحرارة في فصل الشتاء في الوطن العربي كلما اتجهنا:

شمالاً	شرقاً	جنوباً	غرباً
--------	-------	--------	-------

ب - صنف الكلمات التالية بمكانها المناسب في الجدول الذي يليها:

(رأس الثور - بناء الأهرامات - مسلة حمورابي - مدينة يثل الدينية - حدائق بابل المعلقة)

حضارة مصر القديمة	حضارة بلاد الرافدين	حضارة بلاد اليمن	حضارة دلمون
بناء الأهرامات ص ٧٧	حدائق بابل المعلقة ص ٨٢ مسلة حمورابي ص ٨٤	مدينة يثل الدينية ص ٨٥	رأس الثور ص ٨٨

تابع / السؤال الأول (موضوعي)
ج- صوب ما تحته خط في العبارات التالية:

م	العبرة	التصويب
١	الأنهار من أهم مصادر المياه في الوطن العربي وتمتاز بأنها <u>مالحة</u> .	ص ٥٧ عذبة
٢	يطلق حالياً على بلاد ما بين النهرين اسم <u>مصر</u> .	ص ٧٩ العراق
٣	عَرَفَ أهل اليمن الأبجدية التي كانت تكتب بالخط <u>الهيروغليفي</u> .	ص ٨٧ المسند
٤	وزن الهواء فوق أي مكان يسمى <u>الضغط المائي</u> .	ص ٤٤ الجوي
٥	نزل القرآن الكريم على سيدنا محمد (ﷺ) عام ٦١٠م في <u>المدينة المنورة</u> .	ص ٩٠ مكة المكرمة
٦	من وسائل الري الحديثة <u>الرش بالنيابيع</u> .	ص ٦٣ التنقيط المحوري

د- أكمل العبارات التالية بما يناسبها فيما درست:

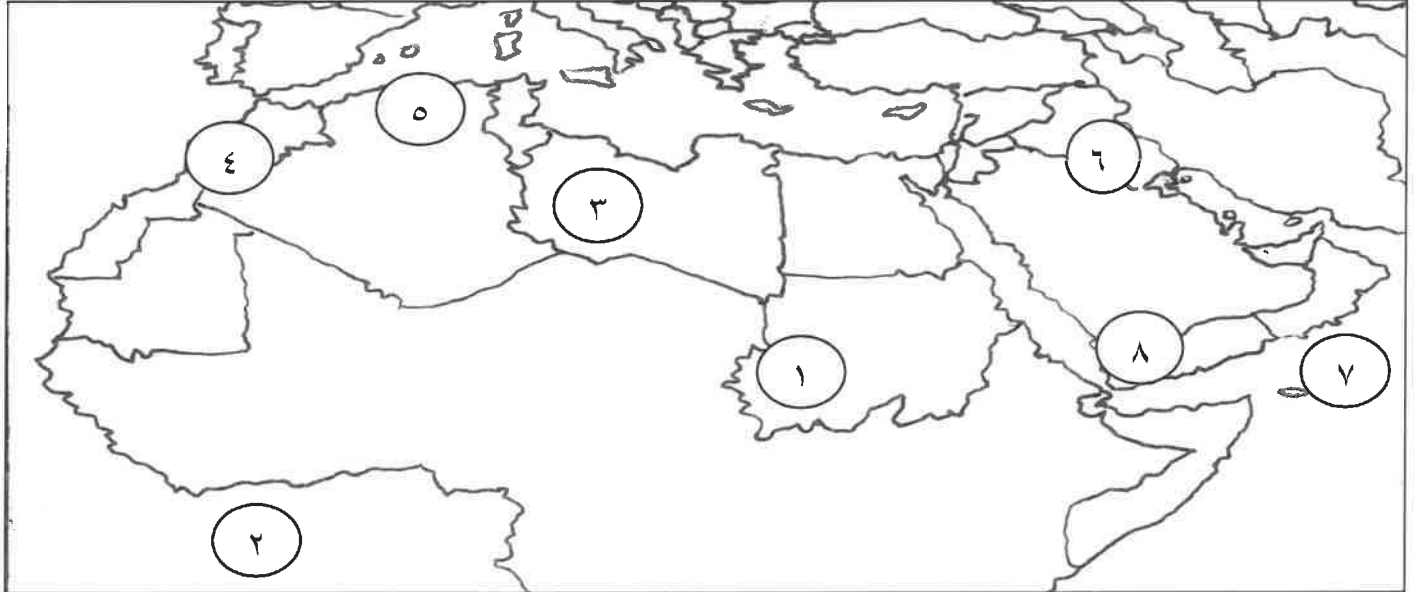
- ١- المنطقة التي توجد بها أهم محطة تحلية مياه في المملكة العربية السعودية اسمها الإحساء. ص ٦١
- ٢- الكتابة التي اخترعها السومريون اسمها المسمارية. ص ٨٣
- ٣- المدينة اليمنية القديمة التي ورد ذكرها في القرآن الكريم هي سبأ. ص ٨٦
- ٤- ممر مائي ضيق يصل بين بحرين أو محيطين أو أي مساحتين كبيرتين نسبياً من الماء يسمى المضيق. ص ٢٨
- ٥- المسطح المائي الذي يحد الوطن العربي من جهة الشرق اسمه الخليج العربي. ص ٣٤
- ٦- الدولة العربية الافريقية الأكبر مساحة في الوطن العربي اسمها الجزائر. ص ٢٣

تابع / السؤال الأول (موضوعي)

هـ - ظلل الحرف (أ) إذا كانت العبارة صحيحة وظلل الحرف (ب) إذا كانت العبارة خاطئة:

م	العبارة	(أ)	(ب)
١	أهتم المصريون القدماء ببناء القبور وأقامت المعابد الفخمة للآلهة.	أ	ب
٢	السهول مساحة صغيرة من الأرض تتميز بتعرجها.	أ	ب
٣	قاومت دول الوطن العربي الاستعمار للحصول على استقلالها.	أ	ب
٤	اللغة الرسمية للمملكة الأردنية هي اللغة العربية.	أ	ب
٥	تعد الهضاب أقل الأشكال التضاريسية انتشاراً في الوطن العربي.	أ	ب
٦	المناخ في دولة الكويت معتدل وممطر صيفاً.	أ	ب

و - امامك خريطة الوطن العربي الصماء ، اكتب الرقم الدال على العبارات التي تليها:



- حضارة حمير على الخريطة يمثلها الرقم (٨)
- جبال مرة على الخريطة يمثلها الرقم (١)
- هضبة الشطوط على الخريطة يمثلها الرقم (٥)
- المحيط الأطلسي على الخريطة يمثلها الرقم (٢)
- الدولة التي تهب عليها رياح القبلي على الخريطة يمثلها الرقم (٣)
- دولة يمر بها نهر الفرات على الخريطة الرقم (٦)

ص ٨٥

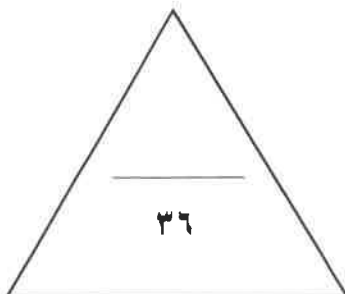
ص ٣٨

ص ٤٠

ص ٤٠

ص ٤٨

ص ٥٨



السؤال الثاني (مقالي) ويتكون من (أ - ب - ج) : لكل نقطة درجة

أ - اقرأ الفقرة التالية ثم أجب عن ما يليها : (ثلاث درجات) ص ٧٥

(الحضارة المصرية من الحضارات التي قامت في الوطن العربي ، ولا تزال بعض آثارها قائمة حتى وقتنا الحاضر ، وقد ساعد على قيامها عدة عوامل منها امتداد الصحراء واعتدال المناخ وجفافه) .

١- اقترح عنواناً مناسباً للفقرة السابقة .

أي عنوان مناسب يراه المصحح صحيح يتضمن محتوى الفقرة .

٢- استخرج من الفقرة : عاملين ساعدا على قيام الحضارة المصرية القديمة .

- امتداد الصحراء .

- اعتدال المناخ وجفافه .

ب - فرق بين كل مما يلي : ست درجات

الديانة المسيحية ص ٩٠	الديانة اليهودية ص ٩٠
- نزلت على سيدنا عيسى وكتابة الانجيل	- نزلت على سيدنا موسى عليه السلام وكتابه التوراة
الموقع النسبي ص ٣٣	الموقع الفلكي ص ٣١
- موقع الدولة بالنسبة لليابس والماء	- نقطة من الكرة الأرضية يتحدد موقعها من خطوط الطول ودوائر العرض
الطقس ص ٤٤	المناخ ص ٤٤
- حالة الجو في مكان لمدة قصيرة تتراوح بين يوم أو بين عدة أيام من حيث درجة الحرارة والرطوبة والأمطار والرياح والضغط الجوي	- حالة الجو خلال فترة زمنية طويلة من حيث درجة الحرارة والرطوبة والأمطار

ج - علل لما يأتي : ثلاث درجات

١- كانت أوروبا قديماً تعيش في عصور الظلام. ص ٩٢

- بسبب سيطرة الكنيسة على عقول الناس

٢- يؤثر المناخ كأحد العوامل الرئيسية في تنوع النبات الطبيعي في الوطن العربي. ص ٥١

- لاختلاف درجات الحرارة واختلاف كمية الامطار ومواسمها.

٣- للوطن العربي أهمية حضارية وثقافية. ص ٣٦

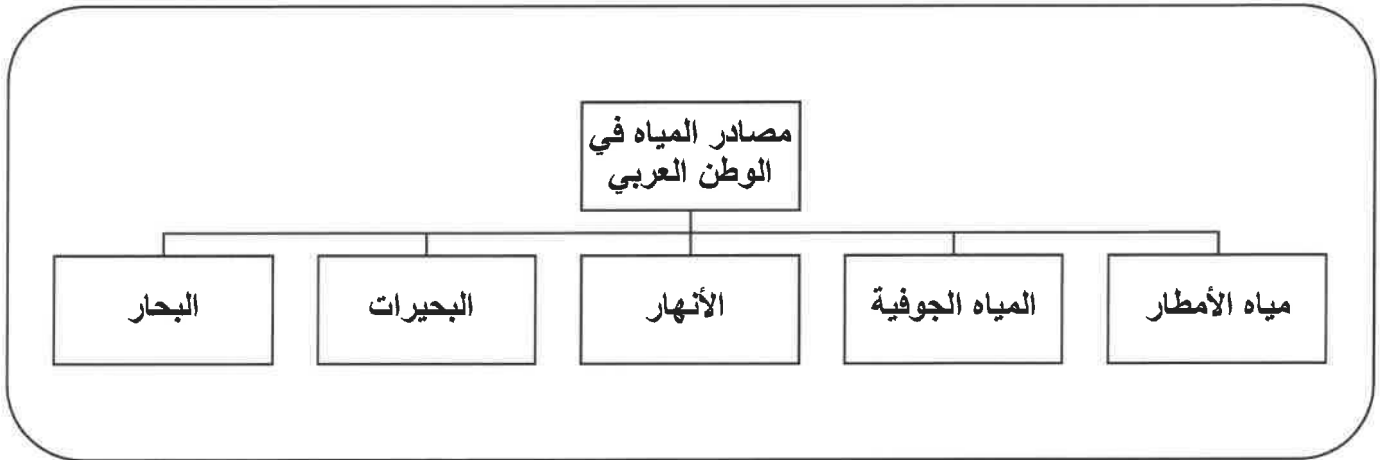
- لهبوط على أرضه ديانات سماوية انتشرت في أنحاء العالم .

السؤال الثالث (مقالي) ويتكون من (أ - ب - ج): لكل نقطة درجة

أ- قارن بين كل من: اربع درجات

أوجه المقارنة	الغابات المدارية ص ٥٢	الغابات المعتدلة ص ٥٢
مميزاتها	- تمتاز بضخامة اشجارها وجذوعها وتشابك اغصانها وأوراقها العريضة وارتفاعها الكبير	- عدم الكثافة - بعضها دائم الخضرة وبعضها تتساقط أوراقه في فصل الشتاء
أمثلة على اشجارها	الساج - الماهونجي - التاك - والأبنوس - السدر - الأثل - السنط	- الأرز والعرعر والسنوبر الحلبي والبلوط والسنديان والزيتون والتفاح والحمضيات والفواكه الأخرى

ب- ارسم مخططاً سهماً لثلاثة من مصادر المياه في الوطن العربي. ص ٥٧ ثلاث درجات



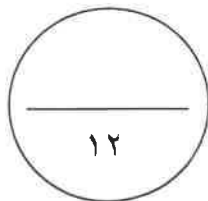
ج- اجب عن الأسئلة التالية: خمس درجات

١- اذكر العوامل التي تؤثر في مناخ الوطن العربي. ص ٤٦

- الموقع بالنسبة لدوائر العرض
- البعد أو القرب عن المسطحات المائية
- التضاريس
- الرياح

٢- عدد فنون حضارة بلاد الرافدين. ص ٨٢

- فن النحت
- البناء
- الرسم
- الأواني الفخارية



انتهت الأسئلة مع تمنياتنا لكم بالنجاح