

-السؤال الثاني (مقالى) يتكون من (أ - ب - ج)

(أ) - لاحظ الشكل المقابل ثم أجب عن الأسئلة التالية:

١ - ما اسم الشكل المقابل ؟

..... -

٢ - اذكر اسم الحضارة التي يمثلها الشكل المقابل .

..... -

٣ - عدد العوامل التي ساعدت على قيام هذه الحضارة .

..... -

..... -

(ب) - علل لما يلي:

١ - يتمتع الوطن العربي بموقع استراتيجي أكسبه مكانة مهمة بين دول العالم .

..... -

..... -

٢ - يؤثر المناخ في تنوع النبات الطبيعي في الوطن العربي .

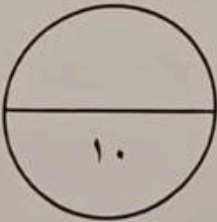
..... -

..... -

(ج) - عرف المفاهيم أو المصطلحات التالية:

١ - السهول الساحلية :

٢ - النهر :



مجموع السؤال الثاني بالحروف

-السؤال الرابع (مقالى) يتكون من (أ - ب - ج)
(أ) - اقرأ الفقرة التالية ثم أجب عما يليها من أسئلة:

توفر في الوطن العربي مجموعة من المقومات الجغرافية والطبيعية التي كان لها دور كبير في ازدهار العديد من الحضارات الإنشائية التي استقرت في ربوع الوطن العربي الكبير، ومن أهمها الحضارة العربية الإسلامية التي قامت على تعاليم الدين الإسلامي وكان لها فضل كبير في إثراء الحضارة الأوروبية، عن طريق انتقال الحضارة العربية إلى أوروبا بفضل مراكز الإشعاع التي انتشرت بالقرب منها مثل بلاد الأندلس وصقلية أو عن طريق الاحتلال الصليبي لبلاد الشام .

١ - ضع عنواناً مناسباً للفقرة.

٢ - استخرج من الفقرة اثنتين من مراكز الإشعاع الحضاري لانتقال الحضارة العربية إلى أوروبا .

(ب) - قارن بين كل مما يلي:

وجه المقارنة	الغابات المدارية الحارة	الغابات المعتدلة
المميزات	-	-
الاستخدام	-	-

(ج) - أجب عن الأسئلة التالية:

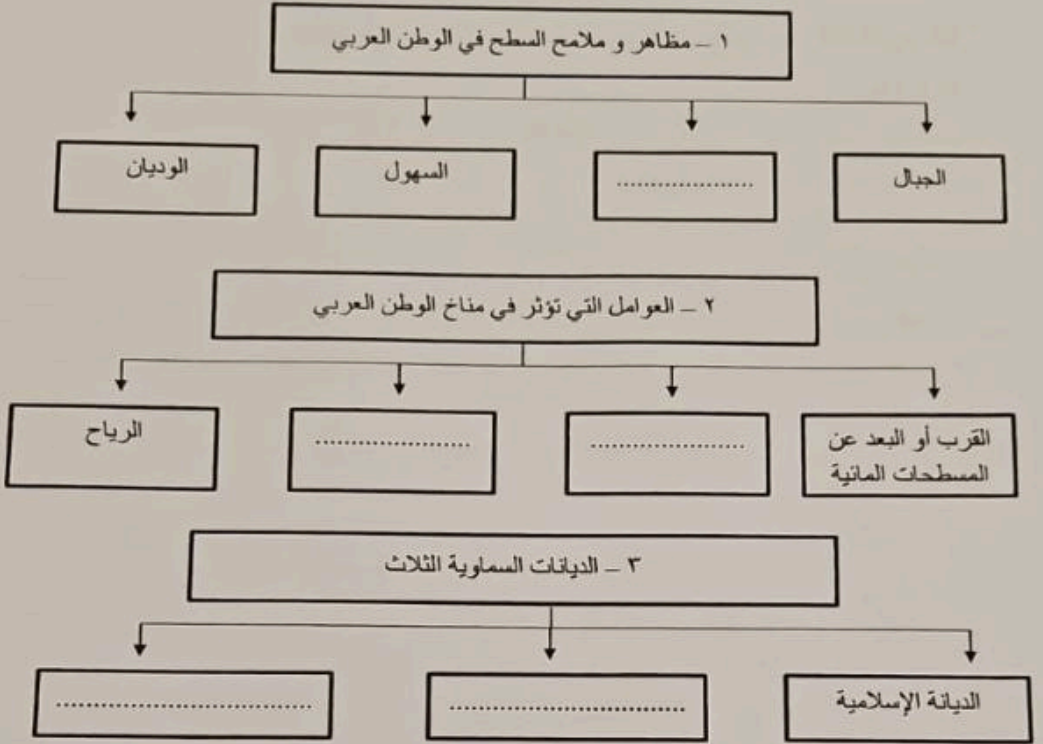
١ - اذكر مقومات الهوية العربية .

٢ - عدد الأنشطة الاقتصادية التي كان يمارسها سكان حضارة دلمون .

مجموع السؤال الرابع بالحروف

انتهت الأسئلة؛؛ نرجو لكم النجاح والتوفيق...

تابع / السؤال الأول موضوعي :
(ج) - أكمل المخططات السهمية التالية:



(د) - صنف العناصر التالية في مكانها المناسب في الجدول الذي يليها:

(سهل عكار - سهول نهر سبو - سهول نهر شبلي - سهل العلويين - سهول نهر الموس)

الجناح الأفريقي	الجناح الآسيوي
..... - -
..... - -
..... - -



وزارة التربية
الإدارة العامة لمنطقة الجهراء التعليمية
التوجيه الفني للاجتماعيات

امتحان الفترة الدراسية الأولى
لمقرر الكويت والوطن العربي
للمصنف السابع المتوسط

العام الدراسي: ٢٠٢٣م / ٢٠٢٤م
الزمن: ساعة وخمسة وأربعون
عدد الأوراق: ٦

أجب عن جميع الأسئلة

- السؤال الأول (موضوعي) يتكون من (أ - ب - ج - د - هـ - و):

(أ) - أكمل العبارات التالية بما يناسبها:

- ١- تعرف الحشاشات المعتدلة (الأستبس) في بلاد المغرب باسم
- ٢- مسطح مائي تحيط به اليابسة من جميع الاتجاهات يسمى
- ٣- مضيق يصل بين الخليج العربي وخليج عمان يسمى
- ٤- نوع من الكتابة اخترعه السومريون يتضمن ٦٠٠ حرف عرفت باسم
- ٥- عرفت حضارة دلمون قبل الفتح الإسلامي باسم

(ب)- ظلل الخيار الصحيح من بين الخيارات التي تلي كل عبارة:

١- تمثل مساحة الوطن العربي بالنسبة لجملة مساحة العالم :

٢٠%	١٥%	١٠%	٥%
-----	-----	-----	----

٢- تبلغ عدد المواد القانونية في شريعة حمورابي :

٢٨٣	٢٨٢	٢٨١	٢٨٠
-----	-----	-----	-----

٣- الدولة التي توجد بها محطة تحلية المياه رأس عبود :

الإمارات	الكويت	قطر	ليبيا
----------	--------	-----	-------

٤- المملكة التي كانت تحكمها الملكة بلقيس التي ورد ذكرها في القرآن الكريم :

مملكة سبا	مملكة حمير	مملكة معين	مملكة دلمون
-----------	------------	------------	-------------

٥- الدولة التي تهب عليها رياح الخماسين :

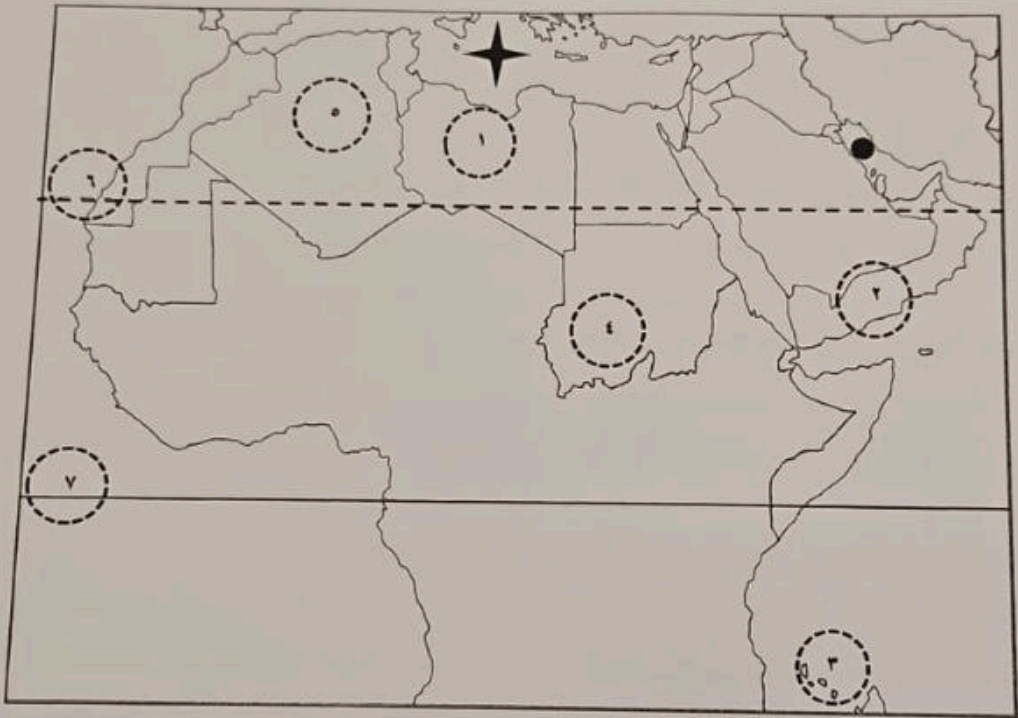
الجزائر	السودان	اليمن	مصر
---------	---------	-------	-----

تابع / السؤال الأول موضوعي:

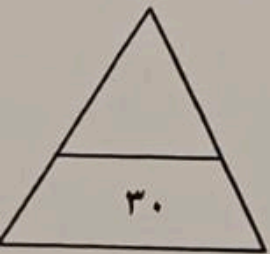
(هـ) صوب ما تحته خط في العبارات التالية بكتابة الإجابة الصحيحة:

م	العبرة	التصويب
١	نقطة من الكرة الأرضية يتحدد موقعها بخطوط الطول ودوائر العرض يطلق عليها <u>الموقع الإستراتيجي</u>
٢	أرض مرتفعة ، سطحها مستو وتمتد على مساحة كبيرة يطلق على <u>الجبل</u>
٣	وزن الهواء فوق أي مكان يسمى <u>الحرارة</u>
٤	في فصل الشتاء تكون الشمس عمودية على المنطقة الواقعة بين خط الاستواء و <u>مدار السرطان</u>
٥	مملكة الأكاديون تتبع حضارة <u>بلاد النين</u>

(و-) لاحظ خريطة الوطن العربي ثم اكتب مدلولات الأرقام والرموز على العبارات التالية:



- جزر القمر يمثلها على الخريطة الرقم (.....)
- خط الاستواء يمثله على الخريطة الرقم (.....)
- الدولة التي تقع فيها جبال الأحجار يمثلها على الخريطة الرقم (.....)
- الرياح المحلية " القبلي " يمثلها على الخريطة الرقم (.....)
- الخليج العربي يمثله على الخريطة الرمز (.....)



مجموع السؤال الأول بالحروف

-السؤال الثالث (مقالى) يتكون من (أ - ب - ج)

(أ) - لاحظ الجدول التالي ثم أجب عن الأسئلة التالية:

١ - استخرج حقيقة من الجدول.

٢ - علل: اعتماد الدول في الجدول المقابل على المياه المحلاة.

٣- رتب الدول الخليجية الأربع الأولى في نسبة استخدام المياه المحلاة ترتيباً تنازلياً.

الدولة	نسبة استخدام المياه المحلاة
السعودية	%٨
قطر	%٣٨
الكويت	%٥٥
البحرين	%٣١
الإمارات	%٢٧

.....
-------	-------	-------	-------

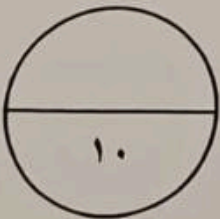
(ب) - عدد اثنان لكل مايلي:

١ - المقومات الأساسية للحضارة .

٢ - صفات المطر في الوطن العربي .

(ج) - فرق بين كل مما يلي:

القناة	المضيق
.....
.....



مجموع السؤال الثالث بالحروف