

اسئلة متنوعة لمادة بلادي الكويت للصف الرابع الابتدائي
للفترة الدراسية الثالثة للفصل الدراسي الثالث

***** اختر الإجابة الصحيحة من بين الإختيارات المتعددة بوضع خطأ تحتها:**

١ - عدد بوابات سور الكويت الثالث هو :

{ ٤بوابات - ٥بوابات - ٦بوابات - ٧بوابات }

٢- وقعت معركة الجهراء في عهد الشيخ :

{ سالم بن مبارك - عبدالله الهالم الصباح - مبارك الصباح - أحمدالجابر الصباح }

١ - أول تعداد سكاني في دولة الكويت كان في عام :

{ ١٩٥٤م - ١٩٥٥م - ١٩٥٦م - ١٩٥٧م }

٢ - من المحاصيل الزراعية الأكثر انتشاراً في دولة الكويت :

{ الموز - المانجو - الطماطم - البرتقال }

٣ - المصدر الرئيسي للدخل في دولة الكويت هو :

{ الزراعة - الصناعة - النفط - التجارة }

٤ - من أشهر الصناعات في دولة الكويت :

{ الطائرات - السيارات - القطارات - الأسمنت }

٦- عدُ السكان من حيث العدد والنوع ومستوي المعيشة والتعليم هو :

{ الزيادة الطبيعية - الهجرة - التعداد السكاني - الزيادة الغير طبيعية }

٧- من الأدوات القديمة للبيت الكويتي القديم تستخدم لحفظ الطعام وتكون معلقة هي

{ الملالة - السفرة - المبخر - البرمة }

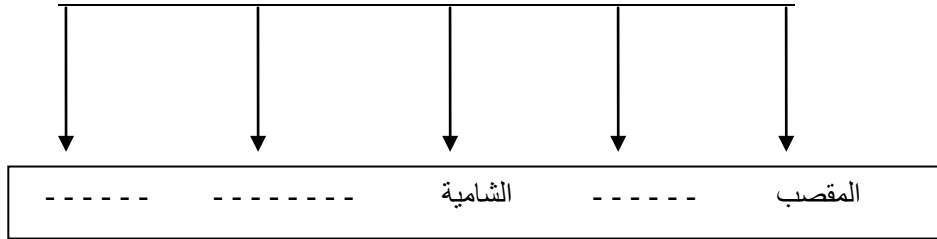
٨. البيوت الكويتية القديمة تبني من :

{ الإسمنت - الطابوق - الخشب - الطين }

***** قارن بين كل من الأسرة الممتدة والأسرة النوواة :**

الأسرة النوواة	الأسرة الممتدة
.....
.....

*****أكمل المخطط السهمي التالي لبوابات السور الكويتي:**




*****صنف الكلمات الآتية في الجدول الآتي حسب المورد التابع له :**


الخس - أبقار - زبيدي - الطابوق - البسكويت - روبيان - الخيار - أغنام	الزراعة	الصناعة	حيوانات
أسماء	- ١	- ١	- ١
	- ٢	- ٢	- ٢

*** اكتب الكلمات الآتية أمامك في مكانها الصحيح على مخطط البيت الكويتي القديم:

الليوان - الحوش - البركة - العريش



***رتب مراحل حياة السدوبوضع الرقم:



****أكتب تعليقا مناسباً تحت كل صورة:**



*****صح ما تحته خط:**

- ١ - حدثت معركة الجهراء في عهد الشيخ عبد الله السالم الصباح) .(
- ٢ - يطلي البيت الكويتي القديم من الداخل بالاسمنت) .(
- ٣ - ازداد عدد سكان دولة الكويت بعد اكتشاف الماء) .(
- ٤ - المصدر الاساسي للدخل في دولة الكويت هي التجارة) .(
- ٥ - من المحاصيل الزراعية الاكثر انتشارا في الكويت هو الاناناس) .(
- ٦ - الأسرة الكويتية القديمة كانت تعرف باسم القبيلة) .(

*****علل لما يلي:**

زيادة عدد السكان في دولة الكويت؟

- ١-.....
- ٢-.....

***** عرف مايلي:**

الزيادة الطبيعية هي.....

التعداد السكاني هو.....

