

تم تحميل هذا الملف من موقع المناهج الكويتية



منصة البلاطي التعليمية

الملف توقعات ليلة الامتحان واختبارات قصيرة مرفقة بالإجابة

[موقع المناهج](#) ← [المناهج الكويتية](#) ← [الصف السادس](#) ← [اجتماعيات](#) ← [الفصل الأول](#)

روابط مواقع التواصل الاجتماعي بحسب الصف السادس



روابط مواد الصف السادس على تلغرام

[الرياضيات](#)

[اللغة الانجليزية](#)

[اللغة العربية](#)

[التربية الاسلامية](#)

المزيد من الملفات بحسب الصف السادس والمادة اجتماعيات في الفصل الأول

نموذج اجابة اختبار لمنطقة مبارك الكبير عام 2016	1
اوراق عمل مهمة في مادة الاجتماعيات	2
بنك اسئلة ممتاز في مادة الاجتماعيات	3
بنك معلومات مهم في مادة الاجتماعيات	4
تلخيص اجتماعيات بشكل مبسط	5



توقعات ليرة الامتحان إجابة امتحانات تجريبية الامتحان القصير (1)



الكويت ودول
الخليج العربية
الفصل الدراسي الأول
2025 - 2024

6

3 درجات = 1 × 3

أكمل العبارات التالية بما يناسبها:

1- الموقع بالنسبة لليابس والماء يسمى الموقع النسبي.

2- أرض مرتفعة وسطحها مستو وتمتد لمسافات كبيرة تسمى الهضبة.

3- يتصف مناخ منطقة الخليج العربي بأنه صحراوي قاري.

3 درجات = 1 × 3

صح ما تحته خط:

1- ترتفع درجة الحرارة صيفاً في دول الخليج إلى أكثر من 30 درجة مئوية.

2- أجزاء مسيحة من سطح الأرض تتميز باستوائها وقلّة ارتفاعها تعرف بالجبل.

3- تقع منطقة الخليج العربية بالنسبة لقارة آسيا في الجهة الشمالية الغربية.

الجنوبية الغربية

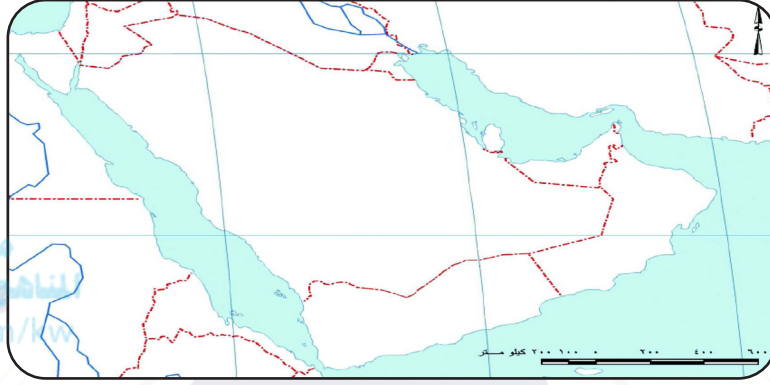
السؤال الثاني

4 درجات = 1 × 4

قارن بين كلا مما يلي:

وجه المقارنة	دوائر العرض	خطوط الطول
التعريف	<u>عبارة عن خطوط وهمية ترسم على الكرة الأرضية وتقسيمها قسمين قسم شمالي وقسم جنوبي</u>	<u>عبارة عن خطوط وهمية ترسم على الكرة الأرضية تقسمها قسمين قسم شرقي وقسم غربي</u>
العدد	<u>180 دائرة</u>	<u>360 خط</u>

1 على الخريطة التي أمامك نفذ ما يطلب منك: 3 درجات



الرقم (1) على يمثل مسطح مائي يسمى البحر الأحمر

رقم (2) يمثل دولة خليجية تسمى المملكة العربية السعودية

الرقم (0) على الخريطة يمثل هضبة نجد

2 ضع علامة (✓) أو علامة (×) أمام العبارات التالية: 3 درجات

- (✓) الموقع الفلكي هو الموقع بالنسبة لخطوط الطول ودوائر العرض.
- (✓) الخليج العربي هو ذراع مائي لبحر العرب يمتد من خليج عمان جنوباً حتى شط العرب شمالاً.
- (×) تمتد منطقة الخليج العربية في 18 دائرة عرض.

السؤال الثاني

3 قارن بين كلا مما يلي: 4 درجات

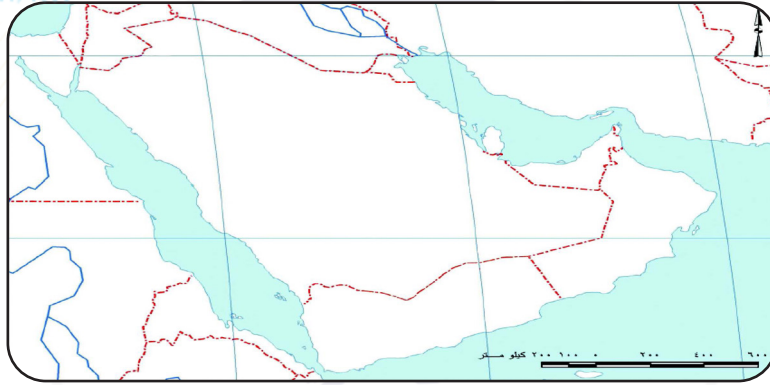
وجه المقارنة	فصل الصيف	فصل الشتاء
المميزات	<u>طويل يمتد لمعظم شهور السنة وهو حار جاف ورطب</u>	<u>قصير جداً ويمتاز بالدفء</u>
درجة الحرارة	<u>أكثر من 40 درجة مئوية</u>	<u>أقل من 4 درجات مئوية</u>

السؤال الأول

أكتب المصطلح العلمي الدال على كل عبارة: $3 = 1 \times 3$ درجات

- 1- حالة الجو في مكان ما خلال فترات زمنية طويلة. (المناخ)
- 2- كل مرتفع له قمة لا يقل إرتفاعها عن 100 متر. (الجبل)
- 3- أشكال سطح الأرض. (التضاريس)

على الخريطة التي أمامك نفذ ما يطلب منك: $3 = 1 \times 3$ درجات



- 1- الرمز ▲ على الخريطة يمثل جبال الحجاز
- 2- الرمز ■ على الخريطة يمثل مسطح مائي يسمى الخليج العربي
- 3- الرقم (3) على الخريطة يمثل صحراء الربع الخالي

السؤال الثاني

علل ما يلي تعليلاً صحيحاً: $4 = 2 \times 2$ درجات

- أهمية موقع منطقة الخليج العربية.
- يقع في وسط العالم
- يتحكم بأهم طرق التجارة العالمية
- عدد أنواع الرياح التي تهب على منطقة الخليج العربية.
- الرياح الشمالية / الرياح الجنوبية الشرقية (الكوس)
- العواصف الترابية

أختر الإجابة الصحيحة للعبارات التالية من بين البدائل: $3 \times 1 = 3$ درجات

1- عدد خطوط الطول التي تشغلها شبه الجزيرة العربية:

() 16 خط () 20 خط () 25 خط () 17 خط

2- ترتفع درجة الحرارة صيفاً في منطقة الخليج العربية إلى أكثر من:

() 40 درجة () 445 درجة () 50 درجة () 55 درجة

3- تقع منطقة الخليج العربية بالنسبة لمسطح الخليج العربي بالجهة:

() الجنوبية () الشرقية () الغربية () الشمالية

السؤال الثاني

صنف مظاهر السطح التالية بما يناسبها في الجدول: $6 \times 0.5 = 3$ درجات

(تلال جبال الزور - هضبة نجد - الجبل الأخضر - جبال الحجاز - سهل الاحساء - سهل تهامة)

المرتفعات (جبال+تلال)	الهضاب	السهول
<u>تلال جبال الزور - الجبل الأخضر - جبال الحجاز</u>	<u>هضبة نجد</u>	<u>سهل الاحساء - سهل تهامة</u>

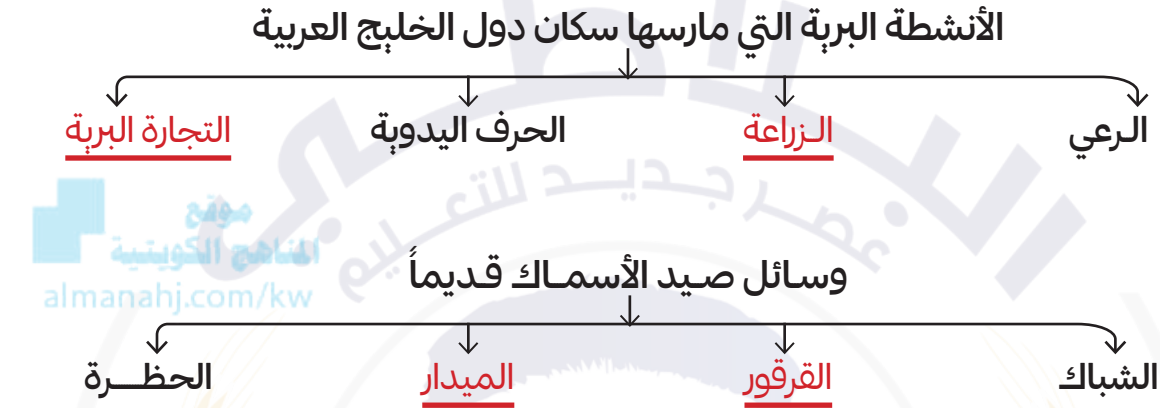
السؤال الثالث

فرق بين كلا من: $4 \times 1 = 4$ درجات

الموقع النسبي	الموقع الفلكي
<u>الموقع بالنسبة لليابس والماء</u>	<u>الموقع بالنسبة لخطوط الطول ودوائر العرض</u>
السهل	الجبل
<u>هي أجزاء فسيحة من سطح الأرض تتميز بإستوائها وقلة ارتفاعها</u>	<u>هو كل مرتفع له قمه لا يقل ارتفاعها عن 1000متر</u>

4 درجات = 1 × 4

أكمل المخطط السهمي التالي:



السؤال الثاني

2 درجات = 1 × 2

أكتب المصطلح العلمي الدال على كل عبارة:

- 1- جميع أشكال المياه على سطح الأرض. (المسطحات المائية)
- 2- صغار السن وهو المساعد للسيب في السفن الكبيرة. (الرضيف)

السؤال الثالث

2 درجات = 1 × 2

علل ما يلي تعليلاً صحيحاً:

- 1- انصراف سكان منطقة الخليج العربية عن مهنة الغوص على اللؤلؤ.
ظهور اللؤلؤ الصناعي واكتشاف النفط.
- 2- فقر الحياة النباتية والحيوانية في منطقة الخليج العربية.
بسبب قلة الأمطار وارتفاع درجة الحرارة.

2 درجات = 1 × 2

فسر:

- 1- الشدّة: بداية موسم الغوص على اللؤلؤ.
- 2- الواحة: هي منطقة تقع في الصحراء فيها مياه عذبة صالحة للزراعة.

نموذج (6)

الشعبة

10

اسم الطالب /

السؤال الأول

أكمل العبارات التالية بما يناسبها: $4 \times 1 = 4$ درجات

- 1- من أشهر الحرف التي مارسها أبناء منطقة الخليج العربية حرفة الغوص على اللؤلؤ.
- 2- المياة التي توجد في باطن الأرض تسمى المياه الجوفية.
- 3- من الحرف اليدوية صناعة الخوص وحياسة السدو و صناعة البشوت.
- 4- رئيس البحرية يسمى المحدمي.

صنف النباتات التالية حسب مكانها الصحيح في الجدول: $2 \times 1 = 2$ درجة

(الخبيزة - الصبار - العرفج - العنصيل)

نبات معمر	نبات حولي
<u>العرفج</u>	<u>الخبيزة</u>
<u>الصبار</u>	<u>العنصيل</u>

السؤال الثاني

علل ما يلي تعليلاً صحيحاً: $2 \times 1 = 2$ درجات

- 1- تحمل النباتات المعمرة الجفاف وارتفاع درجة الحرارة.
بسبب جذورها الطويلة وقلة أوراقها وقدرتها العالية على تخزين المياه.
- 2- تشابه الأعمال التي قام بها أبناء دول الخليج قديماً
بسبب تشابه الظروف البيئية والجغرافية والمناخية.

فسر: $2 \times 1 = 2$ درجات

- 1- النبات الحولي: نباتات يرتبط وجودها بموسم سقوط المطر.
- 2- عدد وسائل صيد الأسماك قديماً: الخطرة / القرقور / الميذار

السؤال الأول

أختر من العمود (أ) ما يناسبه من العمود (ب) وذلك بكتابة الرقم: $4 \times 1 = 4$ درجات

العمود (ب)	العمود (أ)	الرقم
الواحة	ريان السفينة	1
النوخذة	بداية موسم الغوص	2
التجارة	منطقة في الصحراء فيها مياه عذبة صالحة للزراعة	3
الدشة	تعتبر من الأنشطة البرية	4
المياة الجوفية		

السؤال الثاني

أختر الإجابة الصحيحة للعبارات التالية من بين البدائل: $2 \times 1 = 2$ درجة

- 1- من أشهر أنواع السفن قديماً:
() الغواض (✓) السنبوك () الحظرة () القرقور
- 2- من أمثلة الحيوانات غير المستأنسة في منطقة الخليج العربية:
() الإبل () الثعالب () الماعز (✓) الزواحف

السؤال الثالث

قارن بين كلا مما يلي: $4 \times 1 = 4$ درجات

النبات الحولي	النبات المعمر	وجه المقارنة
<u>نباتات يرتبط وجودها بموسم سقوط المطر</u>	<u>نباتات متوفرة طول العام لأنها تتحمل الجفاف وارتفاع درجة الحرارة</u>	التعريف
<u>الخبيزة الحويزان العنصيل</u>	<u>الصبار - العرفج لثنا الرمث</u>	الأمثلة

السؤال الأول

صح ما تحته خط : $4 = 1 \times 4$ درجات

الخص - صناعة
البشوت - السدة

1- من الحرف اليدوية قديماً الرعي.

الغوص على اللؤلؤ

2- أشهر الحرف التي مارسها سكان منطقة الخليج العربية هي الزراعة.

النهار - صناعة السفن
almanahj.com/kw

3- من الحرف البحرية قديماً التجارة البرية.

النهام

4- مطرب السفينة هو الطواش.

السؤال الثاني

صنف الأنشطة التالية حسب الجدول : $2 = 1 \times 2$ درجة

(الزراعة - الرعي - الحرف اليدوية - صيد الأسماك - الغوص على اللؤلؤ)

الحرف البحرية	الحرف البرية
<u>صيد الأسماك - الغوص على اللؤلؤ</u>	<u>الزراعة - الرعي - الحرف اليدوية</u>

السؤال الثالث

علل ما يلي تعليلاً صحيحاً : $4 = 2 \times 2$ درجات

1- تعتبر سفينة البقلة أفضل أنواع السفن المستعملة في السفر.

لمتانتها وقدرتها على نقل الحمولة الكبيرة قلة تعرضها للاخطار البحرية.

2- كانت حياة السكان في منطقة الخليج العربي قديماً قاسية وخشنة.

لفقر البيئة - قلة الموارد

السؤال الأول

6 درجات = 1 × 6

أكمل العبارات التالية بما يناسبها:

- 1- تعتبر حرفة أساسية ومكملة للأنشطة البحرية صناعة السفن.
- 2- من واردات منطقة الخليج العربي قديماً الارز والشاي و السكر
- 3- من أفضل أنواع السفن المستعملة في السفر البغلة
- 4- إبداع الإنسان الخليجي وغسهامائه في تطور وتقدم ورفي مجتمعه الحضارة الخليجية
- 5- عثر على أفران صهر المعادن في حضارة هجان
- 6- عرف الخليج العربي قديماً باسم البحر الأدنى أو بحر شروق الشمس

السؤال الثاني

عدد العوامل التي تؤثر في نشأة الحضارات في منطقة

2 درجات = 1 × 2

الخليج العربية:

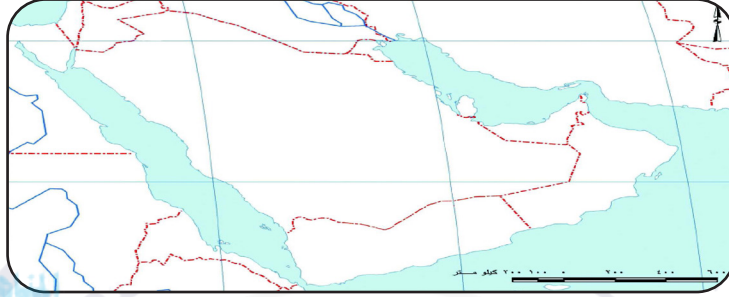
الظروف الطبيعية - توفر المياه الجوفية - الموقع الجغرافي

2 درجات = 1 × 2

فسر:

- 1- الجليب: بئر ماء قليل العمق.
- 2- القرن: يقاس به التاريخ ويساوي 100 سنة.

على الخريطة التي أمامك نفذ ما يطلب منك: $3 \times 1 = 3$ درجات



دولة ظهرت بها حضارة دلمون تحمل الرقم (3) دولة البحرين

دولة ظهرت بها الحضارة الهيلينستية تحمل الرقم (10) الكويت

دولة ظهرت بها لحضارة مجان تحمل الرقم (2) عمان

بحر العرب يحمل على الخريطة الرقم (5)

السؤال الثاني

صنف المنتجات التالية حسب الجدول: $2 \times 1 = 2$ درجة

(شاي - أرز - سكر - تمور - أسماك)

الواردات	الصادرات
<u>شاي - أرز - سكر</u>	<u>تمور - أسماك</u>

السؤال الثالث

علل ما يلي تعليلاً صحيحاً: $2 \times 1 = 2$ درجة

1- سفينة البقلة أفضل أنواع السفن المتشعبة في السفر.

لمتانتها وقدرتها على تحمل الحمولة الكبيرة قلة تعرضها للأخطار البحرية.

فسر: $2 \times 1 = 2$ درجة

1- الحضارة الخليجية: هي تقدم وتطور ورفي الإنسان الخليجي وإسهاماته في تقدم مجتمعه في جميع المجالات.


2- القلاف: هو صانع السفينة



احرص على اقتناء سلسلة منصة البلاطي

- كتاب الشرح.
- كتاب الأسئلة.
- كتاب إجابة الأسئلة.
- المراجعة النهائية (الأسئلة - الإجابة).
- توقعات ليلة الامتحان (الأسئلة - الإجابة).
- كبسولة ليلة الامتحان.
- برشامة ليلة الامتحان.

موقع
المناهج الكويتية
almanahj.com/kw



6

الدراسات الاجتماعية الكويت ودول الخليج العربية

الفصل الدراسي الأول

2025 - 2024

استمتع بتجربة التعلم
مع منصة البلاطي

