

تم تحميل هذا الملف من موقع المناهج الكويتية



منطقة العاصمة التعليمية

الملف نموذج أسئلة منطقة العاصمة التعليمية

[موقع المناهج](#) ← [المناهج الكويتية](#) ← [الصف السابع](#) ← [اجتماعيات](#) ← [الفصل الثاني](#)

روابط مواقع التواصل الاجتماعي بحسب الصف السابع



روابط مواد الصف السابع على تلغرام

[الرياضيات](#)

[اللغة الانجليزية](#)

[اللغة العربية](#)

[التربية الاسلامية](#)

المزيد من الملفات بحسب الصف السابع والمادة اجتماعيات في الفصل الثاني

مذكرة موضوعية محلولة	1
حل الكتاب	2
حل الوحدة الرابعة في مادة الاجتماعيات	3
بنك اسئلة التربية سابع	4
مراجعات الصف السابع	5

السؤال الثالث موضوعي ويتكون من (1 - ب) :

(أ) لاحظ خريطة الوطن العربي الصماء التي أمامك ثم استعن بمداولات الأرقام التي عليها

لإكمال العبارات التالية :



١- الدولة العربية الأولى في إنتاج البن

يمثلها على الخريطة الرقم ١.....

٢- الدولة العربية الأولى في إنتاج الأسماك

يمثلها على الخريطة الرقم ٥.....

٣- الدولة العربية الأولى في إنتاج معدن الحديد

يمثلها على الخريطة الرقم ٦.....

٤- الدولة العربية الأولى في إنتاج النفط

يمثلها على الخريطة الرقم ٣.....

٥- المحيط الهندي يمثله على الخريطة الرقم ٣.....

(ب) ظلل الخيار الصحيح من بين الخيارات التي تلي كل عبارة :

١- الدولة العربية التي تحتل المركز الأول في إنتاج التمور:

الكويت	السعودية	اليمن	عمان
--------	----------	-------	------

٢- العوامل التي تساعد على تحويل المادة الخام إلى سلع استهلاكية:

مقومات الصناعة	مقومات الطاقة	المقومات الطبيعية	المقومات البشرية
----------------	---------------	-------------------	------------------

٣- نسبة إنتاج الوطن العربي من الغاز الطبيعي بالنسبة للعالم يبلغ:

٪١٤,٥	٪١٥,٥	٪١٦,٥	٪١٧,٥
-------	-------	-------	-------

٤- تعتبر الرياح والشمس والمياه من مصادر الطاقة:

البشرية	الصناعية	الرئيسية	البديلة
---------	----------	----------	---------

٥- الصورة المقابلة تمثل نوع من أنواع الصناعات تسمى:

التجميعية	التحويلية
-----------	-----------

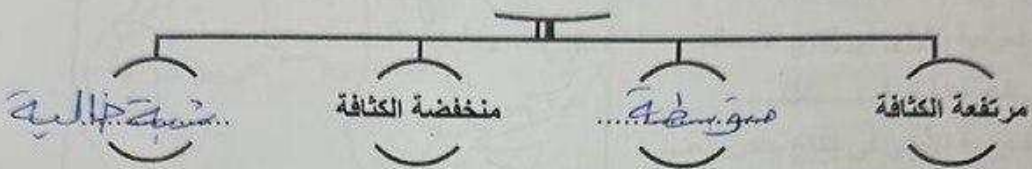
التعدينية	الحرفية
-----------	---------



السؤال الثاني موضوعي ويتكون من (أ - ب) :

(أ) أكمل المخططات السهمية التالية:


١- تقسم مناطق الوطن العربي من حيث الكثافة



٢- طرق النقل والمواصلات



٣- مصادر التلوث البيئي



(ب) اكتب المفهوم أو المصطلح الدال على كل من العبارات التالية :

م	المفهوم أو المصطلح	العبرة
١	الكثافة السكانية	ارتباط السكان من حيث أعدادهم وتوزيعهم ومناسبة أعدادهم لمساحة الأرض التي يستغلونها.
٢	الإحصاء الحيوي	تسجيل المواليد والوفيات وحالات الزواج والطلاق والحصول على بياناتها من واقع السجلات الرسمية.
٣	الصحراء	زحف الرمال على المناطق الجافة وشبه الجافة.
٤	التضامن العربي	العمل على توثيق الصلات بين الدول والشعوب العربية وحماية مصالحها السياسية والاقتصادية والثقافية.

السؤال السادس: مقالي ويتكون من (أ - ب) :

(أ) دال على صحة العبارات التالية :

١- يتمتع النطق العربي بمكانة مهمة على المستوى العالمي.
..... (أوروبا / اليابان / الولايات المتحدة)

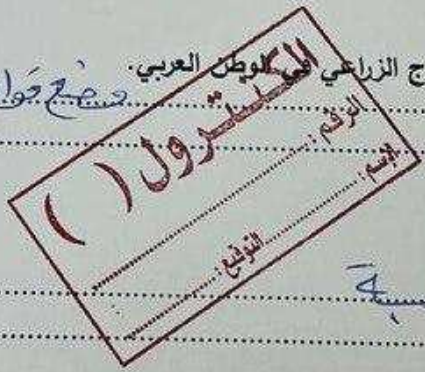
٢- للكويت مساهمات كبيرة في العمل العربي المشترك.

.....
* ١٨٠



(ب) أحب عما يلي :

١- اقترح حلاً لمشكلة قلة وانخفاض الإنتاج الزراعي في الوطن العربي.
..... وضع قوانين
..... منع الرعي الجائر
..... الرعي صاد على المسحور



٢- عدد أنواع التلوث .

..... ماء
..... هواء

٣- اذكر لكل مما يلي :

• أهداف جامعة الدول العربية .

..... دولتي
..... شعاطرها

• محاور أو أنواع التنمية في الوطن العربي .

.....

انتهت الأسئلة

10

السؤال الرابع مقالي ويتكون من (أ - ب) :

(أ) فرق بين كل مما يلي بالاستعانة بالجدول التالي:

الصناعات الاستخراجية	الصناعات التحويلية
.....
الغاز الطبيعي	النفط
.....
أهداف منظمة الأوبك	أهداف منظمة الأوبك (OPEC)
.....

(ب) علل لكل مما يلي :

- تحلل الأغنام مكاناً مهماً ضمن الثروة الرعوية في الوطن العربي
.....
.....
- تختلف المنتجات الزراعية من دولة عربية إلى أخرى.
.....
.....



السؤال الخامس مقالتي ويتكون من (١ - ب) :

(أ) اقرأ الفقرة التالية ثم أجب عما يليها من أسئلة :

ترتفع الكثافة السكانية في المناطق التي تتمتع بمقومات طبيعية ومناخية ملائمة وثروات طبيعية وطرق ومواصلات، وتتنخفض الكثافة في المناطق التي لا تتوفر فيها هذه المقومات. فرغم الصعوبات التي تواجه السكان في بعض أنواع التضاريس وبفضل التطور العلمي فقد استطاع الإنسان التغلب عليها والعيش في تلك المناطق، فحول الجبال إلى مدرجات وزرعها وشنق العديد من الطرق وكذلك استطاع أن يواجه ظروف العيش في الصحراء ويستغل ثروتها الطبيعية.

١- عرف ما تحته خط: عدم السكان الكثيف

مساحة لروحة

٢- استخرج من الفقرة السابقة ما يلي:

- مناطق ترتفع بها الكثافة السكانية :

..... مناطق ترتفع بها الكثافة السكانية : مناطق الجبال / جزر المحيط الهندي

مناطق تنخفض بها الكثافة السكانية :

..... مناطق تنخفض بها الكثافة السكانية : الصحراء / مناطق التلال

٣- كيف تغلب الإنسان على صعوبة العيش والزراعة في الجبال؟

..... جعلوا الجبال مطبوعاً مستوياً وزرعوا بها المحاصيل

٤- ماهي العوامل الطبيعية التي تؤثر في توزيع السكان ؟

..... الموارد الطبيعية
..... التضاريس

(ب) عرف لكل مما يلي :

الصناعات التجميعية	تركيب وجمع الموارد المصنعة
التنمية	التحسين والتطوير وهي عملية تتطلب التخطيط والمشاركة من المجتمع
التوازن البيئي	بقاء عناصر الطبيعة في حالة من التوازن
الغلات النقدية	الغلات التي تدخل في الصناعة وتزرع بغرض التجارة والحصول على النقد



وزارة التربية
الإدارة العامة لمنطقة العاصمة التعليمية
التوجيه الفني للاجتماعات

امتحان نهاية الفترة الثانية
لمقرر دولة الكويت والوطن العربي
الصف السابع المتوسط

العام الدراسي: ٢٠٢٢/٢٠٢٣ م
الزمن ساعة وخمس وأربعون دقيقة
عدد الصفحات (٦)

السؤال الأول موضوعي ويتكون من (١ - ب) :

(أ) ظلل الحرف (أ) إذا كانت العبارة صحيحة والحرف (ب) إذا كانت العبارة خاطئة :

م	العبارة	(أ)	(ب)
١	الجزائر أكثر الدول العربية من حيث عدد السكان حسب إحصاء ٢٠١٤ م.		✓
٢	المساحة المزروعة في الوطن العربي تبلغ حوالي ٥٦٪ من المساحة القابلة للزراعة.	✓	
٣	العراق أولى دول الوطن العربي في إنتاج الماعز.		✓
٤	يتمتع الوطن العربي بسواحل ومنازل بحرية طويلة.	✓	
٥	عقد مؤتمر قمة الأرض عام ١٩٩٢م في المكسيك.		✓

(ب) أكمل العبارات التالية بما يناسبها مما درست :

١- اختلاف عدد السكان وتفاوته بين الدول العربية يعود لعوامل طبيعية وعوامل
جسدية

٢- الحاكم الذي عُقد في عهده أهم مؤتمر اقتصادي عربي في دولة الكويت وتمثله الصورة المقابلة يسمى
...صالح بن عبد العزيز آل سعود

٣- التبادل التجاري بين الدول العربية يسمى
التجارة البينية

٤- العام الذي تأسس فيه الصندوق الكويتي للتنمية الاقتصادية العربية
١٩٦١م

٥- الدولة العربية الأولى في إنتاج الغاز الطبيعي حسب إحصاء ٢٠١٤م تسمى
قطر