

تم تحميل هذا الملف من موقع المناهج الكويتية



مراجعات الدلة

الملف مراجعة مميزة للوحدة الثالثة

[موقع المناهج](#) ← [المناهج الكويتية](#) ← [الصف السابع](#) ← [اجتماعيات](#) ← [الفصل الثاني](#)

روابط مواقع التواصل الاجتماعي بحسب الصف السابع



روابط مواد الصف السابع على تلغرام

[الرياضيات](#)

[اللغة الانجليزية](#)

[اللغة العربية](#)

[التربية الاسلامية](#)

المزيد من الملفات بحسب الصف السابع والمادة اجتماعيات في الفصل الثاني

مذكرة موضوعية محلولة	1
حل الكتاب	2
حل الوحدة الرابعة في مادة الاجتماعيات	3
بنك اسئلة التربية سابع	4
مراجعات الصف السابع	5

مراجعات الدلة فف مادة

الصف السابع

٧

الفصل الدراسي الثاني

٢٠٢٣ - ٢٠٢٤م

2024

الاجتماعيات



تباع حصريا
لدى جمعية
الواحة
التعاونية
طباعة
وتصوير
مستندات



اضغط
لللدخول للقناة



موقع
مكتبتنا



اضغط
لللدخول للقناة



لللدخول للقناة على التيلغرام
امسح الكود او اكتب في البحث
مراجعات الدلة

العنوان: الجراء - الواحة - جمعية الواحة التعاونية - بجانب المخفر والمستوصف



99000162

90005903





الوحدة الثالثة

* أكمل العبارات الآتية :

- ١- تبلغ مساحة الوطن العربي ١٣,٥ مليون كم^٢
- ٢- يتألف الوطن العربي من ٢٢ دولة
- ٣- يبلغ عدد سكان دول الوطن العربي حوالي (٣٨٢,٠٠٩) مليون نسمة تقريباً
- ٤- يتوزع سكان الوطن العربي بين قارتي آسيا وأفريقيا
- ٥- يتوزع سكان الوطن العربي ٧٠٪ في قارة أفريقيا و ٣٠٪ في قارة آسيا
- ٦- تقوم الدولة بإجراء تعداد لسكانها كل ٥ سنوات أو ١٠ سنوات
- ٧- قُدِّر عدد سكاني الوطن العربي بنحو ٣٨٢,٠٠٩ مليون نسمة حسب إحصائية ٢٠١٤م
- ٨- أكبر دولة عربية من حيث المساحة هي الجزائر
- ٩- أصغر دولة عربية من حيث المساحة هي البحرين
- ١٠- أكبر دولة عربية من حيث عدد السكان هي مصر
- ١١- أصغر دولة عربية من حيث عدد السكان هي جزر القمر
- ١٢- أكثر الدول التي تعاني من سوء توزيع السكان هي مصر
- ١٣- أكبر تجمع للسكان يكون حول الأنهار والبحار ومصادر المياه
- ١٤- المناخ المعتدل عامل جذب للسكان
- ١٥- يُقدر معدل النمو السنوي للسكان في الوطن العربي بحوالي ٢,٢٠٪ حسب إحصائيات عام ٢٠٠٦م
- ١٦- يبلغ معدل النمو العالمي حوالي ١,٧٪
- ١٧- المناطق المناخية التي يقل فيها السكان في الوطن العربي هي الصحاري
- ١٨- يرجع النمو السكاني في الوطن العربي إلى عاملين هما الزيادة الطبيعية و الهجرة
- ١٩- يحتل القطاع الزراعي المركز الأول من حيث الأهمية في اقتصاد الوطن العربي حيث يشكل نسبة ٥٠٪ والقطاع الصناعي ٢٠٪ والخدمات العامة ٣٠٪
- ٢٠- الغلات الزراعية التي تتركز زراعتها في منطقة حوض البحر المتوسط هي الفواكه مثل الحمضيات
- ٢١- تتنوع المحاصيل الزراعية في الوطن العربي بتنوع المناخ والتربة وتوفر المياه
- ٢٢- تعتمد زراعة المحاصيل الزراعية في الوطن العربي على مياه الأنهار والأمطار والمياه الجوفية
- ٢٣- من أهم المزروعات في الوطن العربي هي الحبوب الغذائية
- ٢٤- تبلغ نسبة المساحة المزروعة في الوطن العربي حوالي ٥٦٪ من المساحة القابلة للزراعة

المنهج الكويتية
almanahj.com/kw





٢٥- أكثر أنواع الثروة الرعوية انتشاراً في الوطن العربي يسمى الأغنام

٢٦- الدولة التي تحتل ثلث الإنتاج العربي من الأسماك هي مصر

٢٧- يبلغ احتياط النفط الخام في الوطن العربي بالنسبة للعالم ٥٥%

٢٨- يبلغ احتياط الغاز الطبيعي في الوطن العربي بالنسبة للعالم ٢٧,٥%

٢٩- يبلغ إنتاج النفط الخام في الوطن العربي بالنسبة للعالم ٣٠%

٣٠- يبلغ إنتاج الغاز الطبيعي في الوطن العربي بالنسبة للعالم ١٦,٥%

٣١- الدولة العربية الأولى في إنتاج النفط واحتياطه تسمى المملكة العربية السعودية

٣٢- الدولة التي تحتل المرتبة الثالثة في إنتاج النفط تسمى الكويت

٣٣- الدولة التي تحتل المرتبة الأولى في إنتاج الغاز الطبيعي هي قطر

٣٤- يتوفق الجناح العربي الآسيوي على الجناح العربي الأفريقي في إنتاج النفط

٣٥- تتركز حقول النفط بالنسبة للوطن العربي في منطقة الخليج العربي وسهول دجلة

والفرات بنسبة ٨٠%

٣٦- تتركز حقول النفط بالنسبة للوطن العربي في منطقة الصحراء الكبرى بنسبة ١٨%

٣٧- تتركز حقول النفط بالنسبة للوطن العربي في منطقة خليج السويس بنسبة ٤,٧%

٣٨- يبلغ إنتاج النفط الخام للجناح الأفريقي حوالي ١٢%

٣٩- يبلغ إنتاج النفط الخام في الجناح الآسيوي حوالي ٨%

٤٠- يبلغ احتياطي النفط الخام الجناح الآسيوي من النفط حوالي ٩٠%

٤١- يبلغ احتياطي النفط الخام في الجناح الأفريقي حوالي ١٠%

٤٢- يبلغ إنتاج الجناح الآسيوي من الغاز الطبيعي ٦٦,٥%

٤٣- يبلغ إنتاج الجناح الأفريقي من الغاز الطبيعي ٣٣,٥%

٤٤- يبلغ احتياطي الجناح الآسيوي من الغاز الطبيعي ٨٢%

٤٥- يبلغ احتياطي الجناح الأفريقي من الغاز الطبيعي ١٨%

٤٦- يُطلق على الغاز الطبيعي اسم الطاقة البديلة

٤٧- الدولة العربية التي تحتل المركز الأول في إنتاج الحديد تسمى موريتانيا

٤٨- الدولة العربية التي تمثل المرتبة الأولى في إنتاج المنجنيز تسمى المغرب

٤٩- الدولة العربية التي تتصدر المراكز الأولى في إنتاج الفوسفات والنحاس والرصاص تسمى المغرب



٥٠- أكثر دول العالم استيراداً للنفط العربي هم اليابان والولايات المتحدة وأوروبا

٥١- تقتصر الصناعات الاستخراجية على استخراج مصادر الطاقة

٥٢- تعتبر من الصناعات الأولى في العالم هي الصناعات الحرفية

٥٣- يعتمد النشاط الاقتصادي والتبادل التجاري بين الدول على وسائل النقل

٥٤- نسبة الصادرات بين الدول العربية ٨% أما الواردات ٧,٤%

٥٥- الأسواق التي تمثل المركز الأول بالنسبة لتجارة الواردات العربية دول أخرى والصادرات

الأسواق الأوروبية

٥٦- قلة التبادل التجاري بين دول الوطن العربي بسبب تشابه السلع

٥٧- الدولة العربية الأولى في إنتاج العنب سوريا

٥٨- الدولة العربية الأولى في إنتاج البن اليمن

٥٩- الدولة الأولى في إنتاج الماعز والأغنام والأبقار السودان

٦٠- الدولة الأولى في إنتاج الموز والإبل الصومال

٦١- يفضل السكان العيش في المناطق السهلية

٦٢- المدينة العربية التي تأسست فيها منظمة الأوبك تسمى بغداد

٦٣- اختلاف عدد السكان وتفاوته بين الدول العربية يعود لعوامل طبيعية وعوامل بشرية

٦٤- الدولة العربية التي تحتل المركز الأول في إنتاج التمور هي المملكة العربية السعودية

*** عرف ما يأتي :**

١- **الإحصاء الحيوي :** تسجيل المواليد والوفيات وحالات الزواج والطلاق .

٢- **الكثافة السكانية :** عدد السكان ÷ المساحة الكلية للدولة .

٣- **النمو السكاني :** تزايد عدد السكان من عام لآخر نتيجة للزيادة الطبيعية للسكان (معدل

المواليد - معدل الوفيات) والهجرة .

٤- **الزيادة الطبيعية :** الفرق بين معدل المواليد والوفيات (معدل المواليد - معدل الوفيات).

٥- **الزيادة غير الطبيعية :** الزيادة الناتجة عن الهجرة.

٦- **الهجرة الداخلية :** هي الهجرة من القرى الى المدن.

٧- **الهجرة الخارجية :** الهجرة من دولة الى أخرى .



٨- **الغلات النقدية** : الغلات الزراعية التي تدخل في الصناعة وتزرع بغرض التجارة والحصول على النقد .

٩- **الزراعة التقليدية** : هي التي تعتمد على الطرق البدائية .

١٠- **الزراعة الحديثة** : هي التي تعتمد على الطرق الحديثة والتكنولوجيا .

١١- **النفط** : بقايا عضوية علي هيئة نباتات وحيوانات ترسبت في عصور قديمة دفنت تحت الأرض وتحولت بفعل الضغط والحرارة إلى نפט .

١٢- **الغاز الطبيعي** : غاز مصاحب للنفط الخام او يوجد منفردا تتم إسالته لاستخدامات عديدة .

١٣- **الطاقة** : قوى محركه للآلات وعنصر مهم للتقدم والتطور الاقتصادي في جميع المجالات .

almanahj.com/kw

١٤- **الصناعة** : تحويل المواد الأولية الي سلع تباع بالسوق .

١٥- **مقومات الصناعة** : عوامل تساعد على تحويل المادة الخام إلى سلع استهلاكية .

١٦- **الصناعات التحويلية** : تقوم على تحويل المواد الأولية الي سلع استهلاكية صالحة للاستعمال .

١٧- **الصناعات التجميعية** : هي عملية تركيب وجمع المواد المصنعة للحصول علي سلع متنوعة .

١٨- **الصناعات التعدينية** : تركيب وجمع المواد المصنعة على اختلاف مصادرها كي نحصل على سلع متنوعة .

١٩- **التبادل التجاري** : عمليتي التصدير والاستيراد بين الدول .

٢٠- **التجارة البينية** : التبادل التجاري بين الدول العربية .

٢١- **الصادرات** : السلع التي تنقل من دولة الي دولة اخرى .

٢٢- **الواردات** : السلع التي تشتريها الدولة من الخارج لسد احتياجاتها .

*** علل لما يأتي :**

١- **تقوم الدولة بإجراء تعداد سكاني مستمر؟**

- للحصول على معلومات عن أوضاع السكان مثل عددهم وأعمارهم وأجناسهم .

٢- **يختلف عدد السكان من دولة عربية وأخرى اختلافاً كبيراً؟**

- بسبب المساحة الكلية للدولة ، والعوامل الطبيعية والبشرية .

٣- **سوء توزيع السكان في مصر؟**

- بسبب تركيز سكان مصر على مساحات صغيرة حول دلتا النيل .



٤- ارتفاع وانخفاض الكثافة السكانية بين المناطق ؟
- وذلك حسب المقومات الطبيعية والمناخية وتوفر الثروات الطبيعية وطرق المواصلات.

٥- تختلف الزيادة السكانية من دولة إلى دولة أخرى ؟
- حسب تأثير على مساحة الدولة ومواردها .

٦- تزايد عدد السكان في الوطن العربي من عام لآخر ؟
١- الزيادة الطبيعية .
٢- الهجرة (الزيادة الغير طبيعية) .

٧- أهمية القطاع الزراعي بالنسبة لباقي القطاعات في الاقتصاد العربي ؟
- لأنه يشكل ٥٠% من الاقتصاد العربي .



٨- تختلف المنتوجات من دولة عربية إلى أخرى ؟
- بسبب اختلاف المناخ والتربة ومدى توافر المياه في هذه الدول .

٩- تعتبر الحبوب الغذائية من أهم المزروعات في الوطن العربي ؟
- لأنها تشغل مساحة كبيرة من الأراضي المزروعة ، ولتأثير كمية الأمطار على الإنتاج .

١٠- تتركز زراعة الحمضيات والموالح في حوض البحر المتوسط ؟
- لتوفر المناخ المناسب .

١١- زراعة النخيل بكثرة في السعودية ؟
- لأنه يناسب مناخ المنطقة ويتحمل الحرارة الشديدة .

١٢- تحتل الأغنام العربية مكاناً مهماً ضمن الثروة الرعوية ؟
١- الأكثر انتشاراً في المراعي العربية .

٢- أكثر الحيوانات المستأنسة والملائمة لمراعي الوطن العربي .

٣- أهمية منتجاتها بالنسبة للسكان .

٤- مصدر أساسي من مصادر الثروة القومية .

١٣- تعد الأغنام العربية من أكثر الحيوانات المستأنسة والملائمة لمراعي الوطن العربي ؟

- لتحملها الجفاف والانتقال .

١٤- تمتلك الصومال ٦.٦% من الإبل من ثروة الوطن العربي ؟
- لانتشار المراعي الصحراوية .

١٥- تتنوع الثروة المائية في الوطن العربي ؟
- بسبب تنوع المسطحات المائية (أنهار - بحيرات - بحار) .



١٦- يتمتع النفط العربي بمكانة مهمة على المستوى العالمي ؟

- نظراً لأهميته للدول الصناعية المتقدمة في أوروبا واليابان والولايات المتحدة الأمريكية

١٧- تفوق الجناح العربي الآسيوي على الجناح العربي الأفريقي في إنتاج النفط

والاحتياطي والغاز الطبيعي ؟

- بسبب وجود أكبر حقول النفط العربي في الجناح الآسيوي في السعودية والكويت والعراق.

١٨- يطلق على الغاز الطبيعي اسم الطاقة النظيفة ؟

- لأنه أقل الطاقات تلويثاً للبيئة ولا يحتاج إلى عمليات تكرير ولا ينتج عند احتراقه ظهور ملوثات .

١٩- إنشاء منظمة الأوابك ؟

- لتعميق التعاون بين الدول المنتجة للنفط وتأمين وصوله إلى الأسواق بأسعار عادلة .

٢٠- قلّت حجم النقل النهري بالنسبة لباقي وسائل النقل في الوطن العربي ؟

١- قلة الأنهار الموجودة في الوطن العربي .

٢- الاعتماد على طرق النقل التقليدية .

٢١- السيارات والشاحنات أكثر انتشاراً من السكك الحديدية ؟

- بسبب قلة التكاليف ، وسهولة النقل ، وسرعة الوصول .

٢٢- ما أهمية طرق نقل المواصلات لدول الوطن العربي ؟

- من المقومات الأساسية التي تسهم في استغلال تنمية الموارد الاقتصادية وتساهم في ربط مناطق

الإنتاج بالأسواق .

٢٣- إنشاء العديد من الموانئ التجارية والنفطية في الوطن العربي ؟

- لأن الوطن العربي يتمتع بسواحل ومنافذ بحرية طويلة .

*** أجب عن الأسئلة التالية :**

١- ما هي مكونات النمو السكاني في الوطن العربي ؟

- الزيادة السكانية . - الهجرة .

٢- عدد أنواع الموارد الطبيعية ؟

- الثروات المعدنية - الغابات - الموارد المائية - المراعي - موقع الإقليم .

٣- عدد أهم المنتجات التي يصدرها الوطن العربي للخارج ؟

١- القطن . ٢- الزيتون . ٣- الصمغ العربي . ٤- الحمضيات .



٤- اذكر الفوائد الأساسية للنشاط الزراعي في الوطن العربي ؟

١- توفير الغذاء .

٢- توفير العمل .

٣- توفر المادة الأولية للعديد من الصناعات .

٥- اذكر مقومات الإنتاج الزراعي ؟

١- مقومات طبيعية : مثل (التربة - الماء - المناخ - التضاريس) .

٢- مقومات بشرية : مثل (جهد الإنسان - الآلات - رأس المال) .

٦- ما هي العقبات التي تواجه الإنتاج الزراعي في الوطن العربي ؟

١- التصحر .

٢- تلوث التربة .

٣- إتباع طرق قديمة .

٤- الرعي الجائر .

٧- ما الهدف من وضع خطط استراتيجية لمشاكل الزراعة ؟

- لتكثيف العمل الزراعي وتطويره .

٨- ما هي المشكلات التي تعاني منها الزراعة في الوطن العربي ؟

١- استخدام طرق بدائية .

٢- جفاف التربة .

٣- جني المحاصيل تقليدياً .

٤- عدم توفر الأيدي العاملة المدربة .

٩- كيف استطاع الإنسان التغلب على صعوبات التضاريس ؟

١- بفضل التطور العلمي .

٢- حوّل الجبال إلى مدرجات وزرعها وشق العديد من الطرقات .

١٠- ما أهمية الثروة الحيوانية ؟

١- مصدر للغذاء .

٢- مادة خام أولية لصناعات مختلفة .

٣- مصدر للعمل والدخل .

١١- عدد أنواع الثروة الرعوية في الوطن العربي ؟

١- الأغنام .

٢- الماعز .

٣- الإبل .

٤- الأبقار .

٥- الدواجن .

١٢- اذكر مناطق تركيز الحقول النفطية ؟

١- دول الخليج العربية .

٢- منطقة شمال الصحراء الكبرى .

٣- منطقة خليج السويس .





١٣- عدد الأسباب التي أعطت النفط العربي أهمية كبيرة؟

- ١- ضخامة الإنتاج وتزايد باستمرار .
- ٢- الموقع الاستراتيجي لحقول النفط وقربها من الأسواق .
- ٣- انخفاض تكلفة إنتاج البرميل الواحد .
- ٤- ارتفاع نسبة احتياطي النفط واستمرار نموه بسبب الاكتشافات النفطية الجديدة .

١٤- عدد أهداف الصناعات البتروكيمياوية؟

- ١- تنوع مصادر الدخل للدولة المنتجة .
- ٢- توفير المواد الأولية للصناعات التحويلية لتأمين حاجات القطاعات الاستهلاكية .
- ٣- تطوير الصناعة في الوطن العربي حيث تحتاج الصناعات البتروكيمياوية إلى تقنيات متخصصة .

١٥- ما أهمية الصناعة في الوطن العربي؟

- ١- تنمية الدخل القومي .
- ٢- توفير فرص العمل .
- ٣- استغلال المواد الخام المختلفة .

١٦- اذكر مراحل الصناعة (عملية التصنيع) ؟

- مواد أولية . - تحويل وتصنيع . - توزيع ، الأسواق .



اضغط
لللدخول للقناة



موقع
مكتبتنا



اضغط
لللدخول للقناة



لللدخول للقناة على التليغرام
امسح الكود أو اكتب في البحث
مراجعات الدلت

العنوان : الجواء - الواحة - جمعية الواحة التعاونية - بجانب المخفر والمستوصف



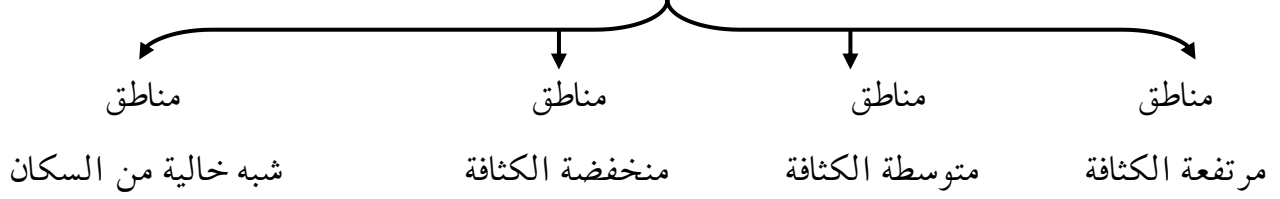
99000162

90005903



* أكمل المخططات السهمية التالية :

مناطق الوطن العربي من حيث الكثافة



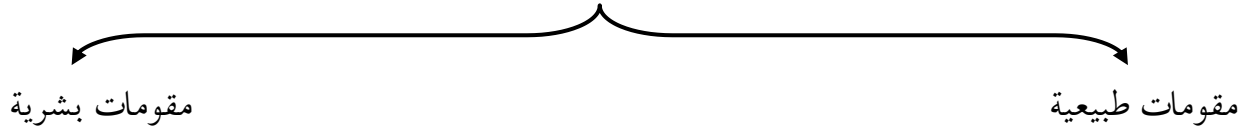
الزيادة السكانية



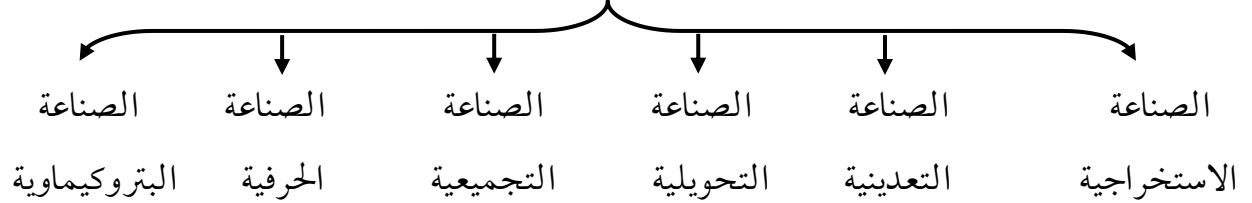
أنواع الهجرة



مقومات الإنتاج الزراعي



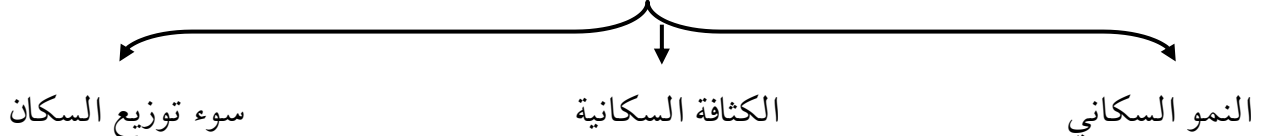
أنواع الصناعات في الوطن العربي



طرق النقل



المشاكل السكانية في الوطن العربي



أنواع الثروات في الوطن العربي

الثروة المائية

مرجان ، اسفنج ، لؤلؤ

الثروة الرعوية

أبقار ، أغنام ، ماعز

أنواع الصناعات

تجميعية

أجهزة كهربائية ، سيارات ،

أنابيب بلاستيك

بتروكيماوية

الاسمنت ، الأسمدة

حرفية

البشوت ، الفخار ، السجاد

توزيع السكان في الوطن العربي

الإحصاء الحيوي

التعداد السكاني

المعادن التي يمتلكها الوطن العربي

الفوسفات / المنجنيز

الحديد

النحاس

الرصاص



اضغط
للدخول للقناة



موقع
مكتبتنا



اضغط
للدخول للقناة



للدخول للقناة على التليغرام
امسح الكود أو اكتب في البحث
مراجعات الدلة

العنوان : الجهاء - الواحة - جمعية الواحة التعاونية - بجانب المحفر والمستوصف



99000162

90005903



الصناعات في الوطن العربي

تحويلية	تعدينية	استخراجية
تحويل المواد الأولية إلى سلع تعليب الفواكه والخضار ، الأثاث ، الأصباغ تحويلية غذائية وكيميائية	تنقية المعادن وتحويلها إلى صفائح وسبائك صالحة لتنفيذ صناعات معدنية مختلفة	استخراج مصادر الطاقة من باطن الأرض وإعدادها لتصبح جاهزة للتصنيع
صناعة الخشب والورق ، صناعة المنسوجات ، مشتقات النفط المكررة ، صناعات إنشائية ، صناعات بتروكيماوية		النفط - الغاز - الفحم خامات المعادن والأملاح
بتروكيماوية	حرفية	تجميعية
تعتمد على النفط تتركز صناعة البتروكيماويات في منطقة الخليج العربي نتيجة لتوفر النفط فيها	هي الصناعات الأولى في العالم ، تستخدم مواد أولية وتعتمد على المجهود البشري وتختص بعض العائلات باحتراف بعض منها	تركيب وجمع المواد المصنعة على اختلاف مصادرها كي نحصل على سلع متنوعة

÷



اضغط
للدخول للقناة



موقع
مكتبنا



اضغط
للدخول للقناة



للدخول للقناة على التيلغرام
امسح الكود أو اكتب في البحث
مراجعات الدلة

العنوان : الجهاء - الواحة - جمعية الواحة التعاونية - بجانب المخفر والمستوصف



99000162

90005903





*** أكمل الجداول التالية :**

وجه المقارنة	الموارد الطبيعية	الموارد البشرية
التعريف	الثروات التي منحها الله لإقليم ما دون أن يكون للإنسان أي دخل في وجودها.	الموارد التي ترتبط بالسكان من حيث اعدادهم وتوزيعهم ومناسبتهم لمساحة الارض المستغلة
الأمثلة	الثروات المعدنية ، الغابات ، الموارد المائية	التعدين ، الزراعة ، الصناعة ، خطوات المواصلات

المحاصيل الزراعية في الوطن العربي		
الحبوب الغذائية	الغلات الصناعية والتجارية	الفواكه والثمار
تعد من أهم المزروعات في الوطن العربي ، تشغل مساحة كبيرة من الأراضي المزروعة وتؤثر كمية الأمطار في إنتاجها من عام إلى آخر .	تشمل الغلات التي تدخل في الصناعة وتزرع بغرض التجارة والحصول على نقد لذلك تسمى الغلات النقدية	تتطلب ظروفاً مناخية تتركز معظمها في حوض البحر المتوسط وتزرع منها أنواع كثيرة
مثال	مثال	مثال
الشعير ، الأرز ، القمح ، الذرة	البن ، الشندر ، الزيتون ، قصب السكر	العنب ، التمر ، الحمضيات ، الموز

المنجنيز	النحاس	الرصاص	الحديد	الفوسفات
٣,٣%	١٣,٠%	٦,٦%	١,٢%	٢٥%

نسب إنتاج الوطن العربي من المعادن بالنسبة للعالم

منظمة الأوبك	منظمة الأوبك	وجه المقارنة
منظمة البلدان العربية المصدرة للنفط	منظمة الأقطار المصدرة للنفط	التعريف
١٩٦٨م	١٩٦٠م	سنة التأسيس
الكويت	فيينا	المقر
١١ دولة	١١ دولة	عدد الدول
<p>- تعميق التعاون الاقتصادي بين أعضائها في مجال النفط .</p> <p>- تأمين وصول النفط إلى الأسواق الاستهلاكية .</p>	<p>- توحيد استقرار الأسعار في الأسواق العالمية</p>	الأهداف
مجلس الوزراء / المكتب التنفيذي / الأمانة العامة	المؤتمر / مجلس المحافظين / الأمانة العامة	الللجان والأجهزة
		الشعار



اضغط
لللدخول للقناة



موقع
مكتبنا



اضغط
لللدخول للقناة



لللدخول للقناة على التليغرام
امسح الكود أو اكتب في البحث
مراجعات الدلة

العنوان : الجهاء - الواحة - جمعية الواحة التعاونية - بجانب المخفر والمستوصف



99000162

90005903



المشكلات	الأسباب	الحلول
التصحّر	بشرية : الرعي الجائر - قطع الأشجار طبيعية (الجفاف)	١- عمل مصدات الرياح . ٢- تثبيت الكثبان الرملية . ٣- إقامة المحميات الطبيعية . ٤- استخدام طرق الري الحديثة .
مشاكل استثمار المياه	١- النمو السريع للسكان . ٢- استخدام أساليب الري القديمة ٣- شبكات المياه قديمة . ٤- ٥٠% من موارد الماء تأتي من خارج الوطن العربي .	١- ترشيد استخدام المياه . ٢- استخدام طرق الري الحديثة . ٣- استخدام مياه الصرف الصحي المعالجة في الزراعة . ٤- إقامة سدود لتجميع المياه .
مشاكل التلوث البيئي	- عوادم السيارات . - استخدام المبيدات الحشرية . - دخان المصانع .	١- زيادة التشجير . ٢- بناء المصانع بعيداً عن المدن . ٣- إقامة المحميات الطبيعية . ٤- عدم استخدام الأوعية البلاستيكية . ٥- استخدام مصادر الطاقة المتجددة .

الدولة العربية	المساحة كم ^٢	تقديرات عدد السكان (ألف نسمة)	الدولة العربية	المساحة كم ^٢	تقديرات عدد السكان (ألف نسمة)
١ مصر	١,٠٠٩,٤٥٠	٨٦,٨١٤	١ السعودية	٢,٢٥٠,٠٠٠	٣٠,٧٧٠
٢ السودان	١,٨٨٢,٠٠٠	٣٧,٤٠٢	٢ العراق	٤٣٥,٠٥٢	٣٦,٠١٥
٣ الجزائر	٢,٣٨١,٧٤١	٣٩,٤٠٢	٣ سوريا	١٨٥,١٨٠	٢٢,٧١٤
٤ المغرب	٧١٠,٨٥٠	٣٣,٣٠٤	٤ فلسطين	٢٧,٠٠٠	٤,٥٥٠
٥ تونس	١٦٤,١٥٠	١٠,٩٨٣	٥ الأردن	٨٩,٣١٨	٦,٦٧٥
٦ ليبيا	١,٦٦٥,٠٠٠	٥,٩١٢	٦ لبنان	١٠,٤٥٢	٤,٠٧٢
٧ الصومال	٦٣٧,٦٥٧	١٢,٣١٧	٧ الكويت	١٧,٨١٨	٣,٧١٥
٨ موريتانيا	١,٠٣٠,٧٠٠	٣,٥٤٦	٨ الإمارات	٧١,٠٢٣	٨,٥٢٥
٩ جيبوتي	٢٣,٢٠٠	٩٣٩	٩ البحرين	٧١٢	١,٣٩٩
١٠ جزر القمر	٢,٢٣٦	٧٦٥	١٠ قطر	١١,٦٠٦	٢,٠٥١
مجموع الجناح العربي الأفريقي	٩,٥٠٦,٩٨٤	٢٣١٣٨٤	١١ اليمن	٥٥٥,٠٠٠	٢٥,٩٥٦
			١٢ عُمان	٣٠٩,٥٠٠	٤,١٨٣
			مجموع الجناح العربي الآسيوي	٣,٩٦٢,٦٦١	١٥٠,٩٢٥

أ - الحبوب الغذائية :

الأرز	الذرة (الشامية)	الشعير	القمح	الغلة الزراعية
مصر	مصر	المغرب	مصر	الدول العربية
العراق	المغرب	سوريا	السعودية	
المغرب	السودان	الجزائر	المغرب	

ب - الغلات الصناعية :

قصب السكر	البن	القطن	الغلة الزراعية
مصر	اليمن	مصر	الدول العربية
السودان	-	السودان	
المغرب	-	سوريا	

ج - الفواكه والأشجار :

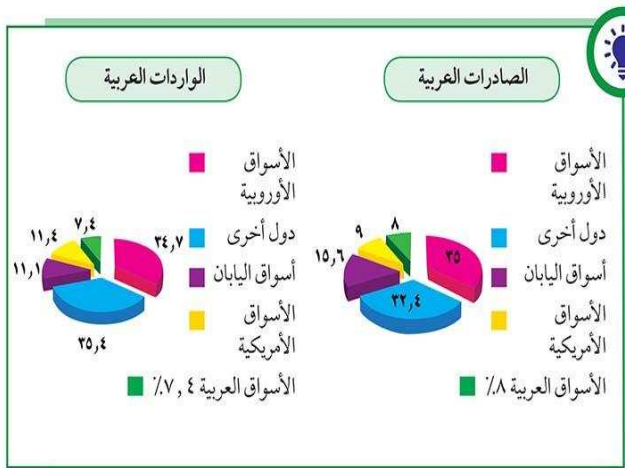
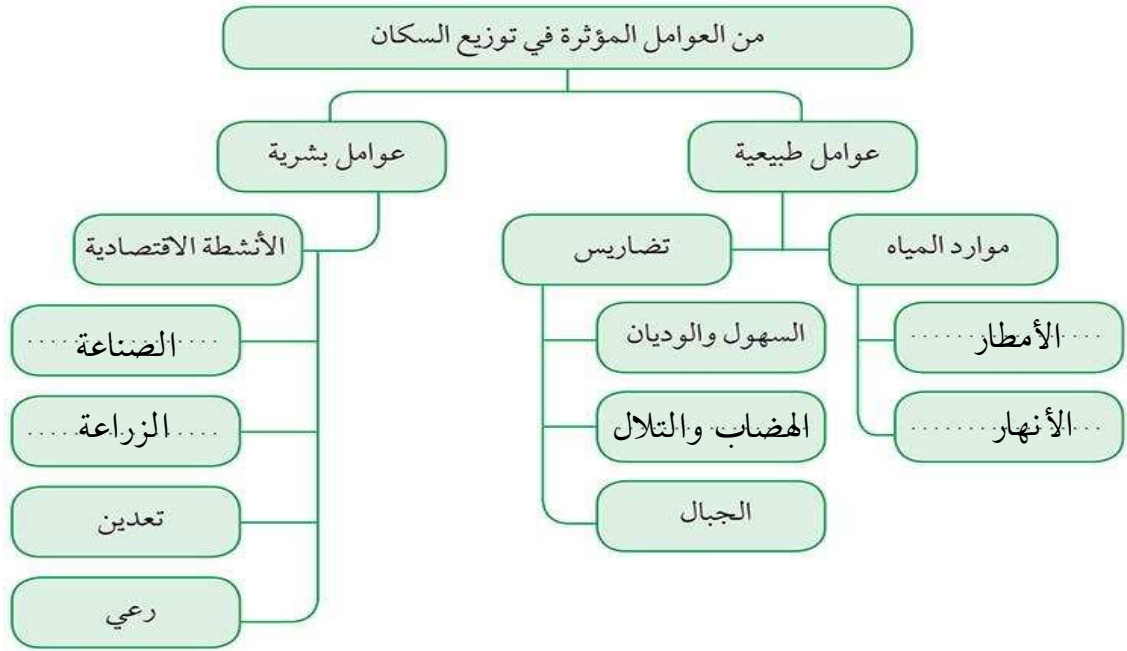
الموز	الموالح	التمور	العنب	الغلة الزراعية
الصومال	مصر	السعودية	سوريا	الدول العربية
-	لبنان	مصر	مصر	
-	سوريا	العراق	الجزائر	

الرقم	أغنام	نسبة الإنتاج	الماعز	نسبة الإنتاج	الأبقار	نسبة الإنتاج	الإبل	نسبة الإنتاج
١	المغرب	١٥,٧	مصر	٣,٨	السودان	٢٢	الصومال	٦,٦
٢	السودان	١٨,٥	المغرب	٥,٨	مصر	٦,٧	السعودية	٠,٨٥٠
٣	العراق	٩,٢	السودان	١٣,٥	المغرب	٣,٣	السودان	٢,٨

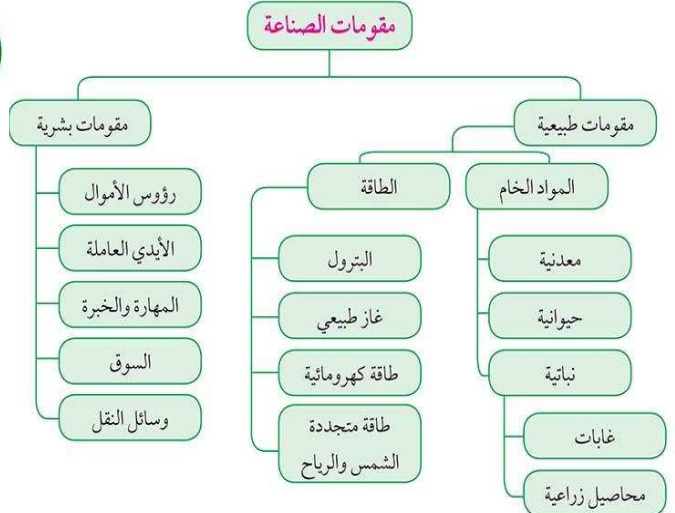
توزيع	تحويل وتصنيع	مواد أولية	مراحل الصناعة
الأسواق	آلات ومعدات مواد غذائية أثاث	حديد نحاس حليب خشب	

الرقم	الدولة	الإنتاج (ألف طن)
١	اليمن	١٥٧
٢	مصر	١٣٧٤
٣	موريتانيا	٦٤٤
٤	المغرب	١٢٤٦
٥	تونس	١٢٣
٦	الجزائر	١٢٢
٧	عُمان	٢٠٦
٨	الإمارات	٧٣

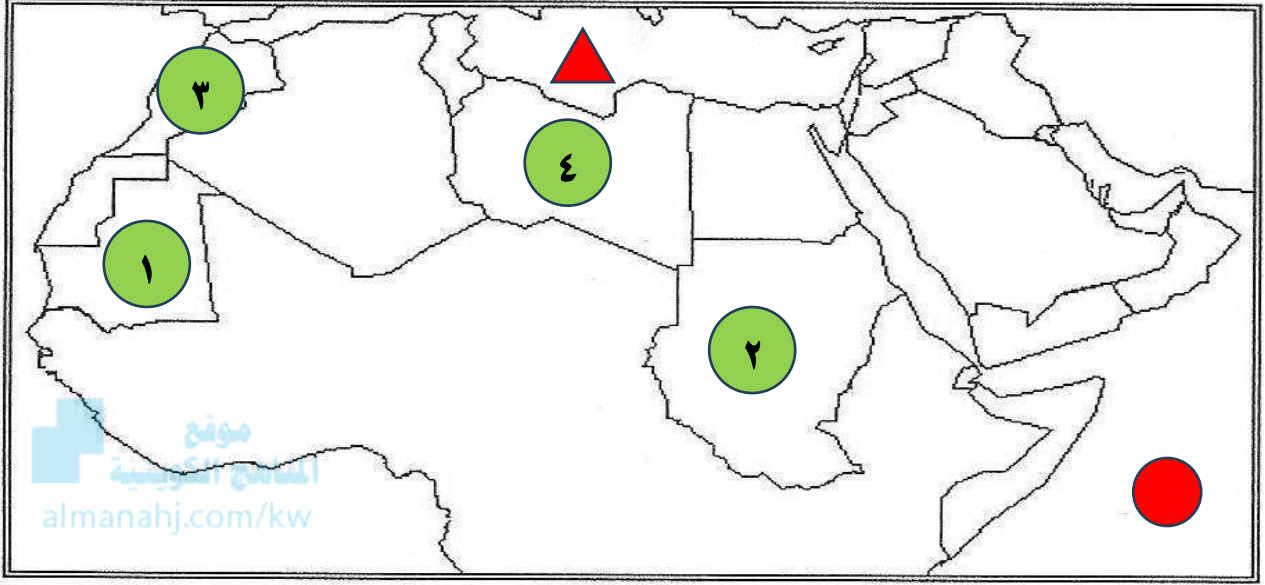
الإنتاج السمكي في بعض دول الوطن العربي





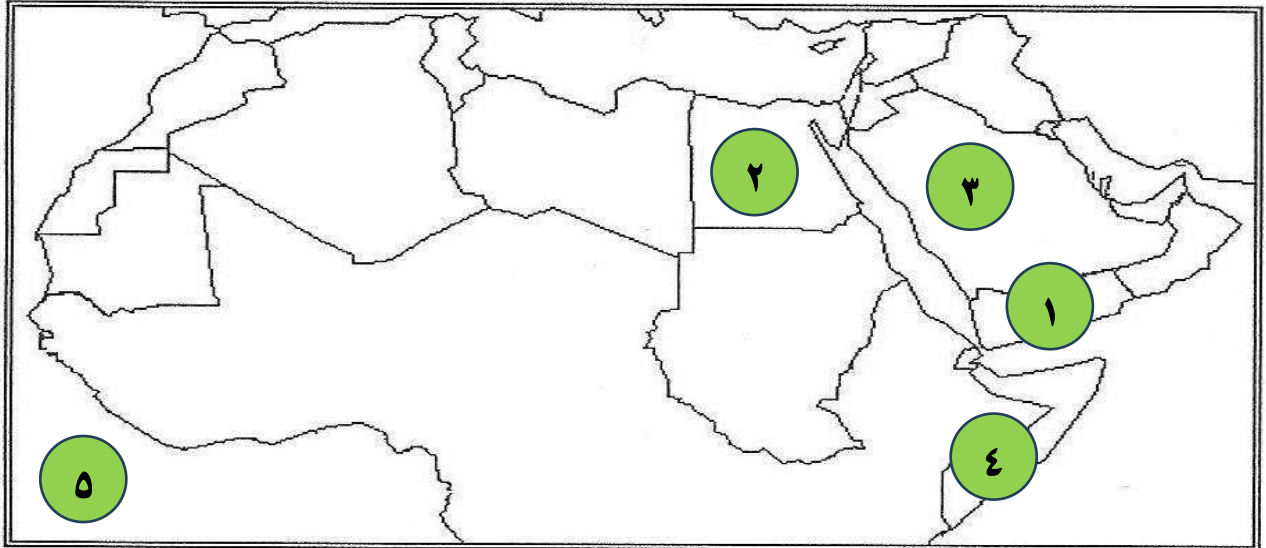
الصادرات والواردات العربية



* لاحظ خرائط الوطن العربي ثم أجب عما هو مطلوب منك :

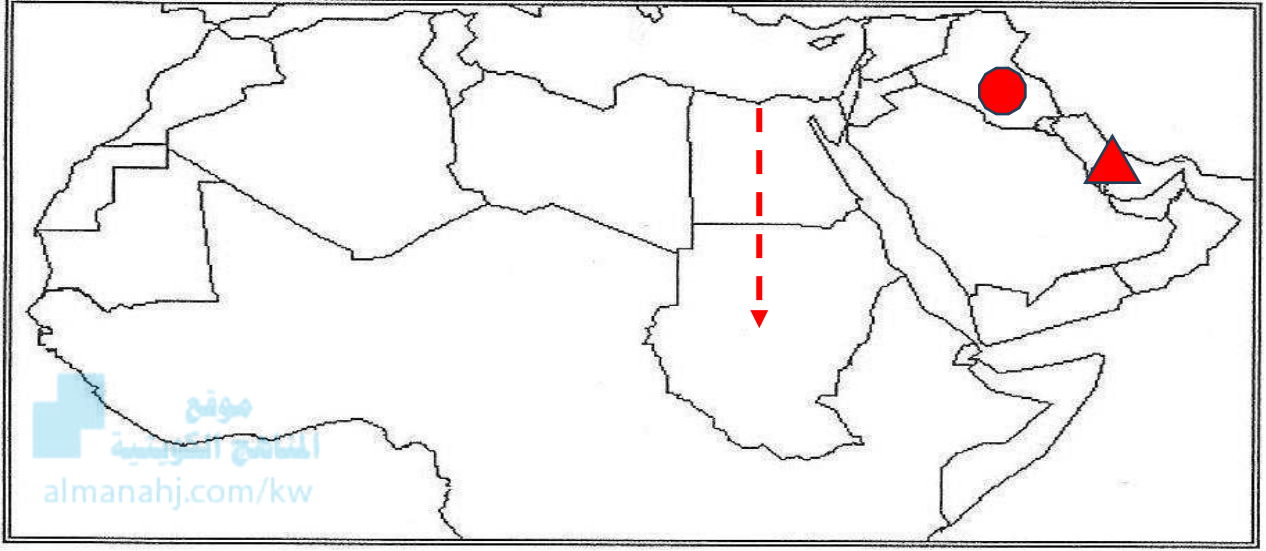


- الدولة العربية التي تحتل المرتبة الأولى في إنتاج معدن الحديد يمثلها على الخريطة الرقم (١)
- الدولة العربية التي تحتل المرتبة الأولى في إنتاج معدن الفوسفات يمثلها على الخريطة الرقم (٣)
- المحيط الهندي يمثله الرمز 
- البحر المتوسط يمثله الرمز 



- الدولة العربية الأولى في إنتاج البن يمثلها الرقم (١)
- الدولة العربية الأولى في إنتاج الأسماك يمثلها الرقم (٢)
- الدولة العربية الأولى في إنتاج النفط يمثلها الرقم (٣)

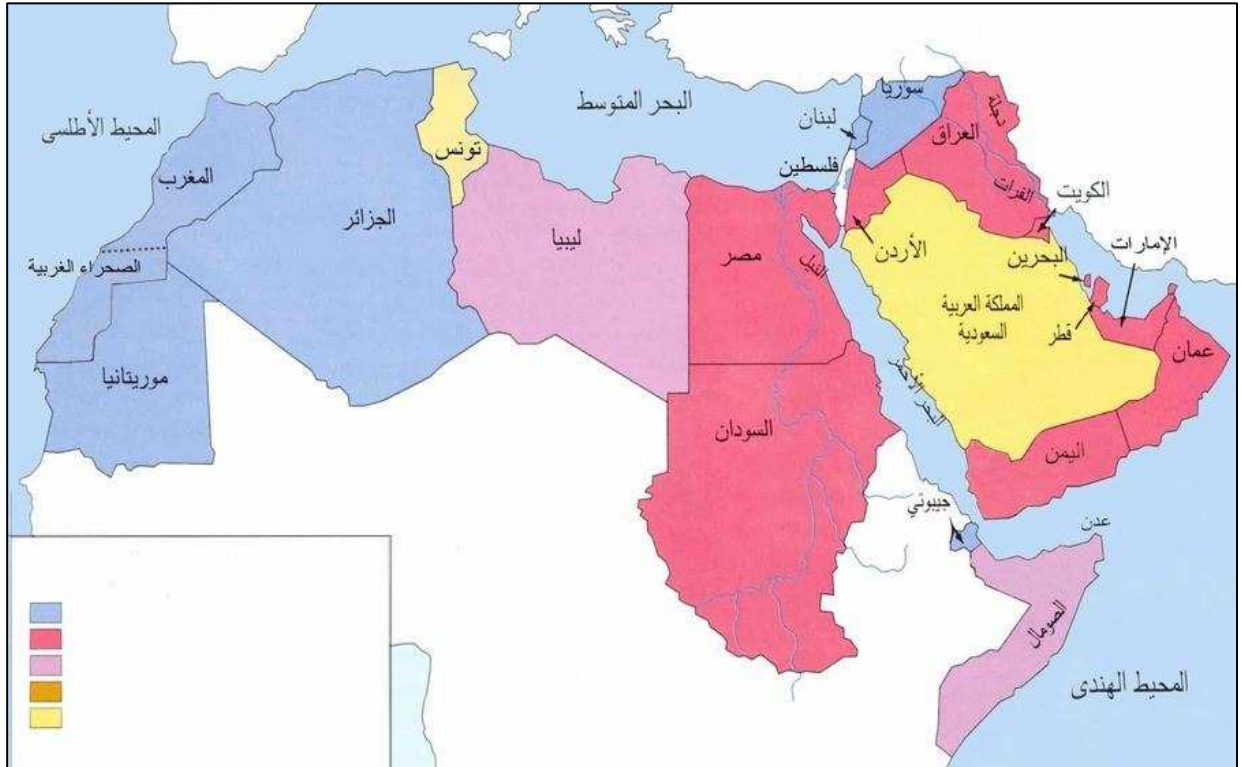
- الدولة العربية التي تحتل المركز الأول في تربية الإبل يمثلها الرقم (٤)



÷ - موقع نهر دجلة يمثله الرمز ●

÷ - ارسم نهر النيل باستخدام الرمز ←

÷ - الخليج العربي يمثله الرمز ▲



نجدون المذكرة كاملة

حصريا

موقع
المنهج الكويتية
almanahj.com.kw

لدينا في جمعية الواحة التعاونية
طباعة ونصوير مستندات

مراجعات الدلة

نتمنى لكم التوفيق والنجاح

٩٩٠٠٠٠١٦٢

٩٠٠٠٠٥٩٠٢