

تم تحميل هذا الملف من موقع المناهج الكويتية



سماح محمد

الملف شرح وسائل الوحدة الثالثة بطريقة سهلة وممتعة

[موقع المناهج](#) ← [المناهج الكويتية](#) ← [الصف الرابع](#) ← [رياضيات](#) ← [الفصل الأول](#)

روابط مواقع التواصل الاجتماعي بحسب الصف الرابع



روابط مواد الصف الرابع على تلغرام

[الرياضيات](#)

[اللغة الانجليزية](#)

[اللغة العربية](#)

[التربية الاسلامية](#)

المزيد من الملفات بحسب الصف الرابع والمادة رياضيات في الفصل الأول

مسودة كتاب الطالب لعام 2018	1
توزيع مقرر الرياضيات للصف الرابع منهج حديد عام 2018	2
كفايات الوحدة الاولى في مادة الرياضيات منهج كفايات حديد	3
كفايات الوحدة الثانية في مادة الرياضيات	4
اختبار مسح في مادة الرياضيات	5



وزارة التربية
الإدارة العامة لمنطقة الأحمدية التعليمية
مدرسة هدية الابتدائية بنين



موقع
المناهج الكويتية
almanahj.com/kw

• الوحدة الثالثة

للمصف الرابع



• أ. سماح محمد

• أ. شيمة المطيري


إعداد المعلمة

إشراف رئيسة القسم

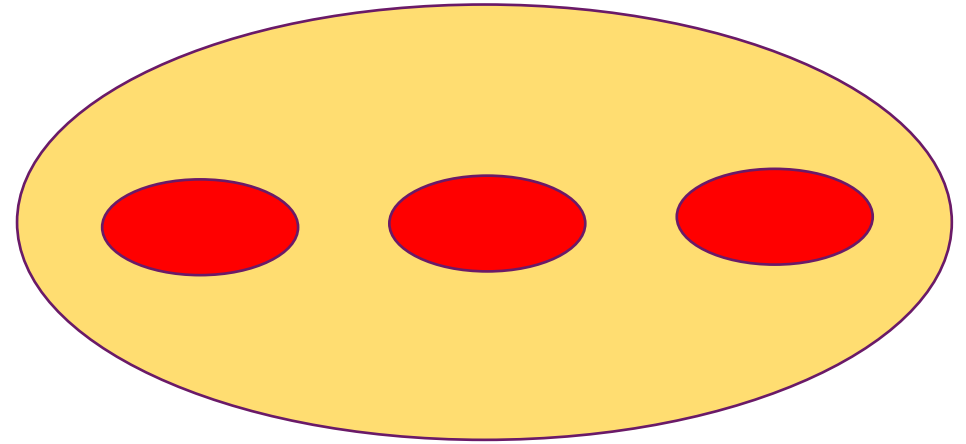
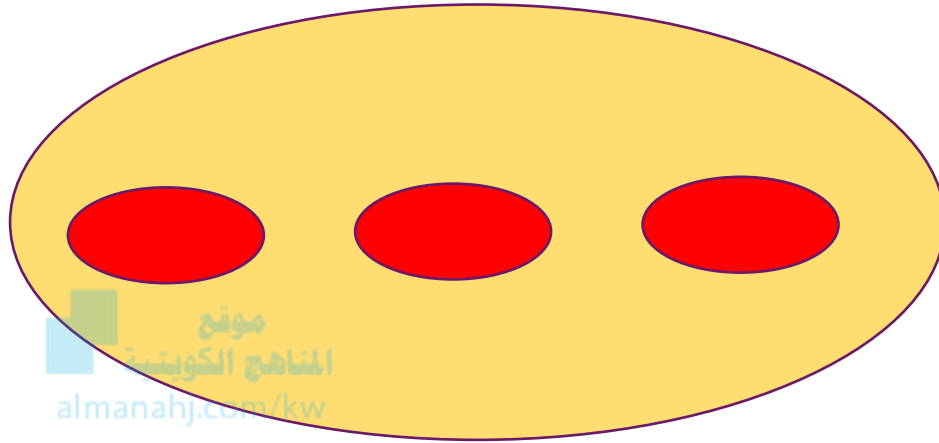
• ضرب الأعداد بناتج لا يزيد عن العدد



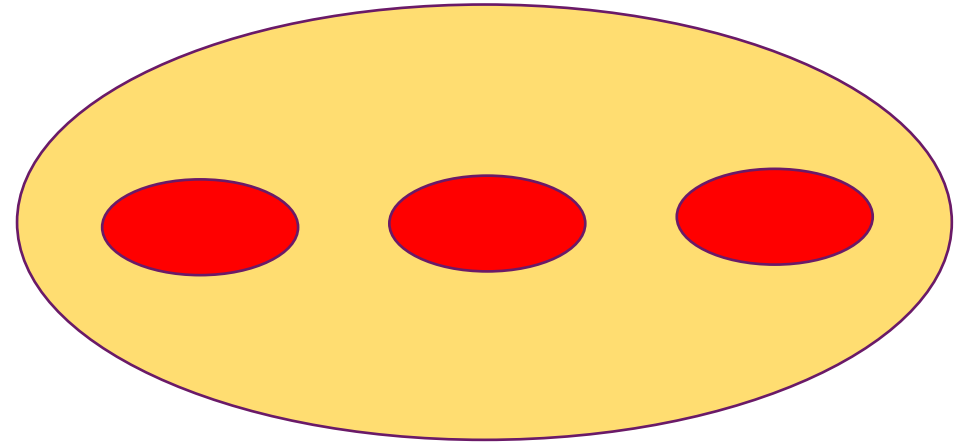
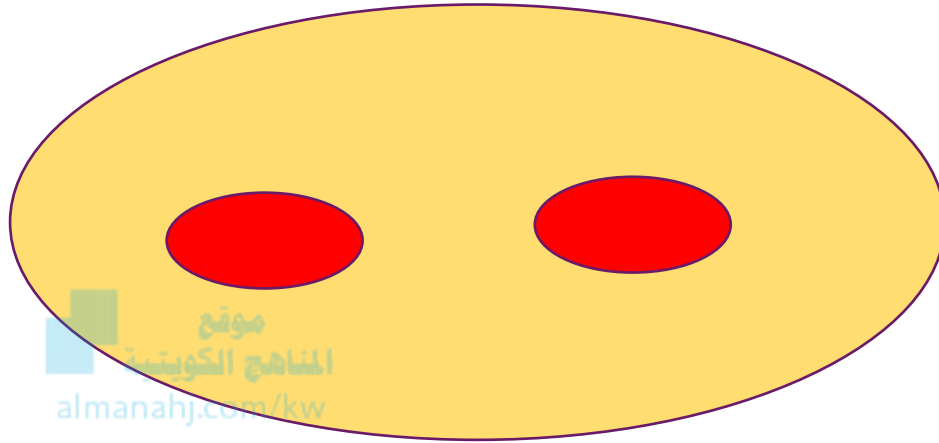
بند (٣-١)




اكتب عبارة جمع مناسبة وعبارة ضرب إن أمكن



اكتب عبارة جمع مناسبة وعبارة ضرب إن أمكن



اكتب عبارة جمع مناسبة وعبارة ضرب إن أمكن




اكتب عبارة ضرب مناسبة



عدد السيارات كلها = _____ سيارة

اكتب عبارة ضرب مناسبة



موقع
المناهج الكويتية
almanahj.com/kw

عدد المكعبات كلها = _____ مكعب

أوجد الناتج

موقع
المنهج الكويتية
almanahj.com/kw

$$\underline{\hspace{2cm}} = ٧ \times ٤$$

$$\underline{\hspace{2cm}} = ٥ \times ٦$$

أوجد الناتج

٩

٣

×

٧

٧

×


أوجد الضعف لكل عدد

٤

٩

أكمل

موقع
المنهج الكويتية
almanahj.com/kw



مَدَّ
مَخْرَجَات

مَدَّ
مَخْلَات

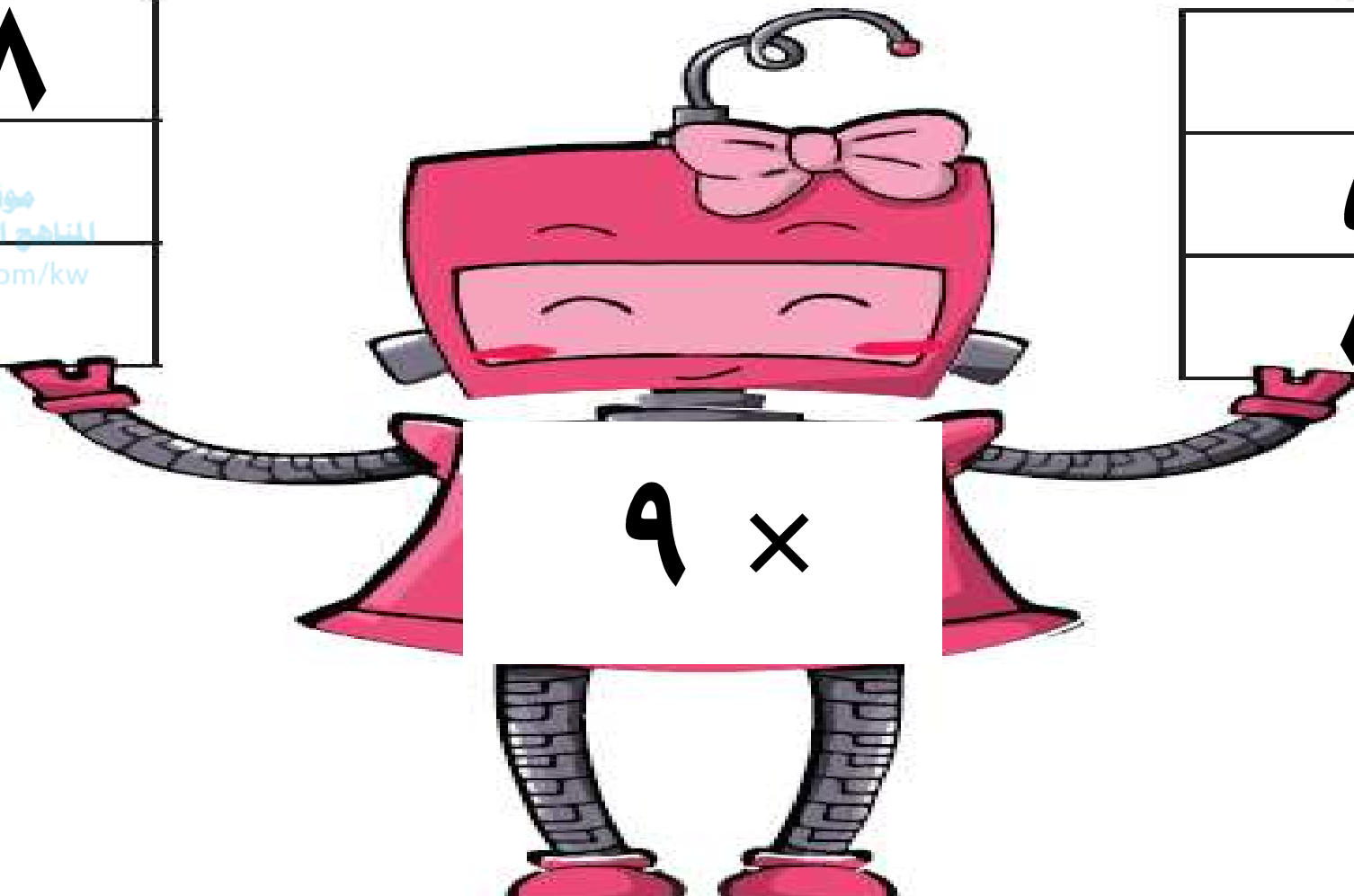
أكمل

مُدَّخَرَات

١٨
موقع المنهج الكويتية almanahj.com/kw

مُدَّخَلَات

٥
٨



$$9 \times$$

أكمل

٩ المناهج الكويتية almanahj.com/kw	٥	٦	×
			√

لديك ٣ سيارات حمراء و سيارات

خضراء أكثر منها بمرتين ، فكم

موقع
المنهج الكويتية
almanahj.com/kw

عدد كل السيارات الخضراء ؟

يوفر ياسر ٣ دنانير بالأُسبوع ويوفر

حمد ٦ دنانير بالأُسبوع هل ما يوفره

موقع
المنهج الكويتية
almanahj.com/kw

ياسر في ٤ أسابيع يساوي ما يوفره

حمد في أسبوعين ؟ فسر إجابتك




اختر الإجابة الصحيحة بوضع


العددان اللذان ناتج ضربهما ٤ ٥ هما

موقع
المنهج الكويتية
almanahj.com/kw


٤,٥




٩,٦



٨,٥



٦,٧






اختر الإجابة الصحيحة بوضع


V مجموعات وفي كل مجموعة 5 لاعبين

أياً مما يلي يعبر عن العدد الإجمالي للاعبين


$$5 - V$$




$$5 + V$$



$$5 \div V$$




$$5 \times V$$



● الضرب في الأعداد ١٠، ١٠٠، ١٠٠٠

مضامنتها

بند (٢-٣)



أوجد الناتج

موقع
المنهاج الكويتية
almanahj.com/kw

$$\underline{\hspace{2cm}} = 20 \times 4$$

$$\underline{\hspace{2cm}} = 3 \times 600$$

أوجد الناتج

$$\underline{\hspace{2cm}} = 700 \times 1$$

$$\underline{\hspace{2cm}} = 200 \times 9$$

أوجد الناتج

٨ . . .

موقع
المنهج الكويتية
almanahj.com/kw

٨ ×

٥

٣ . . . ×

أوجد الناتج


٥

٦ ×









٤٠٠

٤ ×

أكمل

 <p>9</p>	7	4	x
			5.

أكمل

  <p>المناهج الكويتية almanahj.com/kw</p>			
			  

إذا علمت أن ناتج ضرب ٣ في ٩

يساوي ٢٧ فما ناتج ضرب

موقع
المنهاج الكويتية
almanahj.com/kw


٣ في ٩٠٠



كم دقيقة في ٤ ساعات؟

• فوائدهم الضريب

بند (٣-٣)



أكمل

$$\underline{\hspace{2cm}} = 48 \times 1$$

موقع
المناهج الكويتية
almanahj.com/kw

$$\underline{\hspace{2cm}} = 5 \times 7$$

$$\underline{\hspace{2cm}} \times 5 = 5 \times 6$$

أوجد الناتج

$$\underline{\hspace{2cm}} = 2 \times 2 \times 2$$

موقع
المناهج الكويتية
almanahj.com/kw



$$\underline{\hspace{2cm}} = 2 \times 8 \times 5$$

$$\underline{\hspace{2cm}} = 2 \times 3 \times 10$$

استعن بالشبكة والأقلام الملونة

لإيجاد ناتج 4×2

موقع
المناهج الكويتية
amanabz.com/kw



أكمل

$$(\square + 3) \times 4 = \sqrt{\quad} \times 4$$

$$(\square \times 4) + (3 \times 4) =$$

$$\square + \square =$$

$$\square =$$

أكمل

$$(\square + \square) \times 9 = \square \times 9$$

موقع المنهج التويجيه
almanahj.com kw

$$(\square \times 9) + (\square \times 9) =$$

$$\square + \square =$$

$$\square$$


يقول فالح أن ناتج ضرب ٧ في ٨

هو ناتج $(٣ \times ٧) + (٥ \times ٧)$.

هل توافقه الرأي؟ وضح ذلك.

● الضرب في عشرة مكون رمزه من رقمين




بند (٣-٤)



أوجد الناتج باستخدام الجمع المتكرر

$$= 31 \times 3$$

اكتب عبارة الضرب المناسبة



A large, empty purple rounded rectangle intended for writing the appropriate multiplication expression.

أوجد الناتج

موقع
المنهج الكويتية
almanahj.com/kw

٦٤

٤ ×

٥٣

٦ ×

أوجد الناتج

$$= 12 \times 7$$

موقع
المنهج الكويتية
almanahj.com/kw

$$= 3 \times 19$$

كم عدد الأيام في ٢١ أسبوع؟

موقع
المنهاج الكويتية
almanahj.com/kw

Blank area for the answer.

• الضرب في عدد مكون من رقمين ومن ثلاثة

أرقام

بند (٣-٥)



أوجد الناتج

٨٠٣
× ٤

١٦٧
× ٥

أوجد الناتج

$$= 132 \times 9$$


موقع
المنهج الكويتية
almanahj.com/kw

$$= 2 \times 428$$

أكمل

١٤٤	٢٠	١٣	×
			٣

أكمل

 1.2	71	1.0	×
	456	6.0	

يَتَكُون مَبْنَى مُوَاقِفٍ مُتَعَدَّة

الأدوار من ٤ طوابق وفي كل طابق

موقع
المناهج الكويتية
almanahj.com/kw

١١٥ موقف .

كم عدد مواقف هذا المبنى ؟

• استكشاف ضرب عددين رقمي

منها مكون من رقمين

بند (٣-٦)



أوجد الناتج

$$\begin{array}{r} ٢٦ \\ ٣٥ \times \\ \hline \end{array}$$

أوجد الناتج

$$\begin{array}{r} 74 \\ 22 \times \\ \hline \end{array}$$

أوجد الناتج

$$\begin{array}{r} ٨٤ \\ ٦٢ \times \\ \hline \end{array}$$

تدفع لها قسطاً شهرياً بقيمة

١٦ دينار نظير اشتراكها بخدمة


المناهج الكويتية
almanahj.com/kw

الانترنت ، كم ديناراً تدفع بالسنة ؟

• ضرب عددين مكونين رمز كل منهما

من رقمين

بند (٣-٧)



أكمل

$$\begin{array}{r} 37 \\ 26 \times \\ \hline \end{array}$$
$$\begin{array}{r} \square \square 2 \\ \vee \square \square + \\ \hline \square 6 \square \end{array}$$

أكمل

$$\begin{array}{r} 51 \\ \times 49 \\ \hline \end{array}$$

موقع
المنهاج الكويتية
almanahj.com/kw

$$\begin{array}{r} \square \quad 5 \quad \square \\ \square \quad \square \quad 4 \quad \square \quad + \\ \hline \square \quad \square \quad 9 \quad \square \end{array}$$

أوجد الناتج

$$\begin{array}{r} 90 \\ \times 5 \\ \hline \end{array}$$

أوجد الناتج

$$\begin{array}{r} ٨٢ \\ ٣٢ \times \\ \hline \end{array}$$

أوجد الناتج


$$= 54 \times 33$$

أوجد الناتج

$$= 12 \times 37$$

• ضرب ثلاثة أعداد

بند (٣-٨)



بين ٣ طرق مختلفة لتجميع

موقع
المناهج الكويتية
almanahj.com/kw

العوامل في

$$٦ \times ٨ \times ٣$$

ما هي أسهل الطرق لإيجاد

موقع المنهج الكويتية
almanahj.com/kw

ناتج $5 \times 20 \times 9$ ؟

فسر إجابتك .

أوجد الناتج

$$\underline{\hspace{2cm}} = 7 \times 7 \times 7$$

$$\underline{\hspace{2cm}} = 2 \times 11 \times 5$$

$$\underline{\hspace{2cm}} = 25 \times 3 \times 4$$

ما ناتج

$$4 \times 0 \times (9 \times 5) \times (8 \times 7)$$

موقع
المنهج الكويتية
almanahj.com/kw

ذهنياً؟ فسر إجابتك.

اكتب ثلاثة أعداد مختلف من


عندك بحيث يكون ناتج ضربها

المناهج الكويتية
almanahj.com/kw

أكبر من ١٠٠ وأصغر من ٢٠٠

• الحساب الذهني

بند (٣-٩)



استخدم الحساب الذهني لإيجاد الناتج

$$\underline{\hspace{2cm}} = 3 \times 38$$

استخدم الحساب الذهني لايجاد الناتج

$$\underline{\hspace{2cm}} = ٤٥ \times ٦$$

استخدم الحساب الذهني لايجاد الناتج

$$\underline{\hspace{2cm}} = 4 \times 99$$

أوجد ناتج 6×39

ذهنياً بطريقتين مختلفتين .

كيف تستخدم $6+3$.

لايجاد ناتج 6×7 ؟