

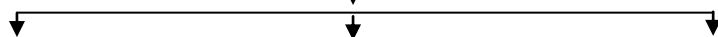
* بعد قراءة فـ1 صـ (24) بالكتاب المدرسي ،، بم تفسر (اذكر السبب) :
- فقر الحياة النباتية والحيوانية بدول الخليج العربية .

* بعد دراسة فـ2 صـ (24) بالكتاب المدرسي ،، أكمل الجدول التالي :

النبات الحولي	النبات المعمر	
نباتات يرتبط وجودها بموسم سقوط المطر.	التعريف
.....	الصبار - العرفج - الرمث - الثندا	أمثلة

* بعد قراءة الفقرة الأخيرة صـ (24) ك.م ،، أكمل المخطط التالي :

* حيوانات تعيش بدول الخليج العربية



1 -
2- حيوانات زاحفة
3-

WWW.KweduFiles.Com

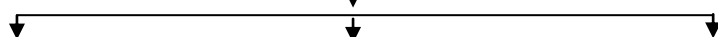
* بعد قراءة فـ1 صـ (24) بالكتاب المدرسي ،، بم تفسر (اذكر السبب) :
- فقر الحياة النباتية والحيوانية بدول الخليج العربية .

* بعد دراسة فـ2 صـ (24) بالكتاب المدرسي ،، أكمل الجدول التالي :

النبات الحولي	النبات المعمر	
نباتات يرتبط وجودها بموسم سقوط المطر.	التعريف
.....	الصبار - العرفج - الرمث - الثندا	أمثلة

* بعد قراءة الفقرة الأخيرة صـ (24) ك.م ،، أكمل المخطط التالي :

* حيوانات تعيش بدول الخليج العربية



1 -
2- حيوانات زاحفة
3-

* بعد دراسة صـ (23) بالكتاب المدرسي اجب عما يلي:

س1 : عرف المناخ :

س2 : أكمل الجملة التالية :

- ينتمي المناخ في دول الخليج العربية إلي مناخ الإقليم

س3 : أكمل الجدول التالي :

وجه المقارنة	فصل الصيف	فصل الشتاء
درجة الحرارة	أقل من 4 درجات مئوية
طول الفصل	طويل' يمتد معظم شهور السنة
الصفات المناخية	يمتاز بالدفء

WWW.KweduFiles.Com

* بعد دراسة صـ (23) بالكتاب المدرسي اجب عما يلي:

س1 : عرف المناخ :

س2 : أكمل الجملة التالية :

- ينتمي المناخ في دول الخليج العربية إلي مناخ الإقليم

س3 : أكمل الجدول التالي :

وجه المقارنة	فصل الصيف	فصل الشتاء
درجة الحرارة	أقل من 4 درجات مئوية
طول الفصل	طويل' يمتد معظم شهور السنة
الصفات المناخية	يمتاز بالدفء

بنك الأسئلة

السؤال الأول : أكمل الجمل التالية :

- القرن يساوي سنة .
- ظهرت المنافسة الاستعمارية الأوروبية علي منطقة الخليج العربي منذ القرن
- عرف الخليج العربي قديماً باسم
- يبدأ موسم الغوص في شهر يونيو وينتهي في شهر
- أعلن عن قيام مجلس التعاون لدول الخليج العربية في مدينة تسمى
- ألغيت معاهدة الحماية البريطانية علي الكويت في عهد الشيخ
- من المناطق الزراعية في دولة الكويت الوفرة و
- عقد الاجتماع التاسع والعشرون لمجلس التعاون الخليجي في عام 2008 م بمدينة اسمها
- ينتمي المناخ في دول الخليج العربية الي مناخ الإقليم
- وقعت دولة الكويت اتفاقية الحماية مع بريطانيا في عام

السؤال الثاني : اختر الإجابة الصحيحة من بين البدائل الموجودة بين الأقواس :

1. تقع دولة الكويت بالنسبة للخليج العربي في جهة :
(الشمال الشرقي - الشمال الغربي - الجنوب الشرقي - الجنوب الغربي)
2. حصلت دولة الكويت علي استقلالها في عام :
(1951م - 1961م - 1971م - 1981م)
3. توجد منطقة سهل الباطنه في دولة عربية خليجية تسمى :
(عمان - السعودية - الإمارات - قطر)
4. أعلن عن قيام السوق الخليجي المشتركة في عام :

(2004م - 2006م - 2008م - 2010م)

5. يطلق علي مطرب سفينة الغوص اسم :

(المجدمي - الطواش - النوخذه - النهام)

6. عقدت القمة السابعة والعشرون لمجلس التعاون الخليجي في عام 2006م بمدينة تسمي :

(الرياض - الدوحة - مسقط - المنامة)

7. استقلت سلطنة عمان في عام :

(1941م - 1951م - 1961م - 1971م)

8. ظهرت حضارة دلمون في دولة عربية خليجية :

(عمان - السعودية - البحرين - قطر)

WWW.KweduFiles.Com

9. الحضارة التي اشتهرت بصهر المعادن قديماً تسمي :

(مجان - فيلكا - دلمون - تاروت)

السؤال الثالث : صح الكلمة الخاطئة التي تحتها خط ، واكتب الاجابة الصحيحة بين القوسين :

- ظهر الإسلام في القرن العاشر الميلادي . ()
- خضعت معظم دول الخليج العربية للإستعمار الفرنسي . ()
- يوجد مقر الأمانة العامة لمجلس التعاون الخليجي في مدينة تسمي أبو ظبي . ()
- تسقط الأمطار في فصل الصيف بسلطنة عمان علي منطقة تسمي تهامه . ()
- تقع شبه الجزيرة العربية بالنسبة لقارة آسيا في الجهة الشمالية الشرقية . ()

• أعلن عن قيام مجلس التعاون لدول الخليج العربية في عام 1971 م .

()

• من صادرات دول الخليج العربية قديماً إلى الهند وشرق إفريقيا الشاي. ()

• تم توقيع اتفاقية الحماية البريطانية علي الكويت في عهد الشيخ صباح السالم. ()

• تشغل شبه الجزيرة العربية 26 دائرة عرضية . ()

• الدولة العربية الخليجية التي لم تتعرض للإستعمار الأجنبي هي الإمارات. ()

السؤال الرابع : بم تفسر (اذكر السبب) :

• خروج الهجرات في أزمنة مختلفة إلى منطقة الخليج العربي .

WWW.KweduFiles.Com

• انصراف سكان دول الخليج العربية عن مهنة الغوص عن اللؤلؤ .

• سفينة البغلة هي أفضل أنواع السفن المستخدمة في رحلة السفر .

• تنافس الدول الإستعمارية الأوروبية في السيطرة علي منطقة الخليج العربي .

• توافر النباتات المعمرة طوال العام .

• فقر الحياة النباتية والحيوانية بدول الخليج العربية .

- كانت حياة الناس في البيئة الصحراوية لدول الخليج العربية قاسية وخشنة .

*

*

السؤال الخامس : قارن بين كل (دوائر العرض - وخطوط الطول) حسب الجدول التالي :

خطوط الطول	دوائر العرض	وجه المقارنة
		التعريف
		العدد

السؤال السادس : اختر من المجموعة (أ) ما يناسبها من المجموعة (ب) بكتابة الرقم المناسب :

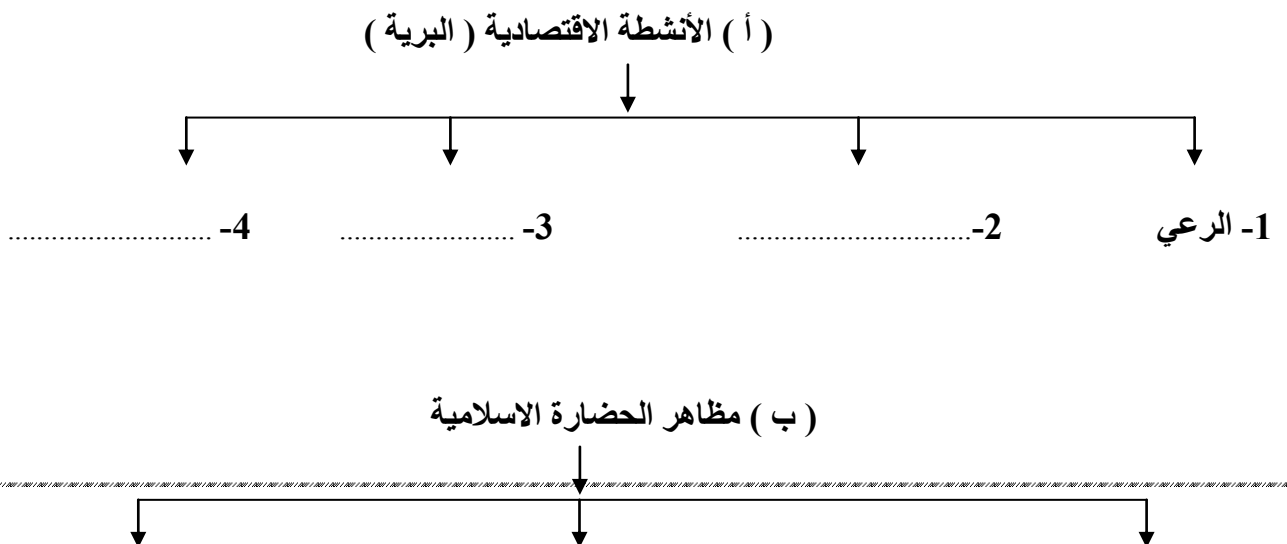
الرقم	المجموعة (أ)	الرقم المناسب	المجموعة (ب)
1	العواص	يسحب الغاصة من أعماق البحر
2	النوخذه	ربان السفينة
3	السيب	تاجر اللؤلؤ
4	المجدمي	يغوص في الأعماق بحثاً عن اللؤلؤ

رئيس البحرية

.....

الرقم	المجموعة (أ)	الرقم المناسب	المجموعة (ب)
1	هاجر المعاضيد إلي	رأس الخيمة
2	هاجر آل الصباح إلي	عمان
3	هاجر القواسم إلي	أبو ظبي
4	هاجر بني ياس إلي	قطر
		الكويت

السؤال السابع : أكمل المخططات السهمية التالية :



الاستعمار	الاستقلال
.....
.....

(3)

المسطحات المائية	المياه الجوفية
.....
.....

(4)

الدشة	القفال
.....
.....

السؤال العاشر: : اكتب اسم المصطلحات التالية بين القوسين :

- منطقة تقع في الصحراء ' فيها مياه عذبة صالحة للزراعة . ()
- أرض مرتفعة سطحها مستوي وتمتد علي مساحة كبيرة . ()
- أشكال سطح الأرض من المرتفعات والمنخفضات كالجبال ' الهضاب و السهول . ()
- نباتات يرتبط وجودها بموسم سقوط المطر . ()
- الاسم الذي يطلق علي صانع السفينة . ()

السؤال الحادي عشر: : اكتب نقطتين فيما يلي:

1. الصفات (الروابط) المشتركة بين دول الخليج العربية
أ-
ب -
2. وسائل صيد الأسماك قديماً .

3. أهداف مجلس التعاون لدول الخليج العربية

أ-

ب -

أ-

ب -

4. أنواع الرياح التي تهب على دول الخليج العربية .

أ-

ب -

5. العوامل التي أثرت في نشأة حضارات منطقة الخليج العربية قديماً .

أ-

ب -

6. إنجازات مجلس التعاون الخليجي .

أ-

ب -

السؤال الثاني عشر : ما المقصود بكل من :

(1) الجبال:

WWW.KweduFiles.Com

(2) مجلس التعاون لدول الخليج العربية :

(2) الحضارة :

(3) البضائع المستوردة:

(4) السهول :

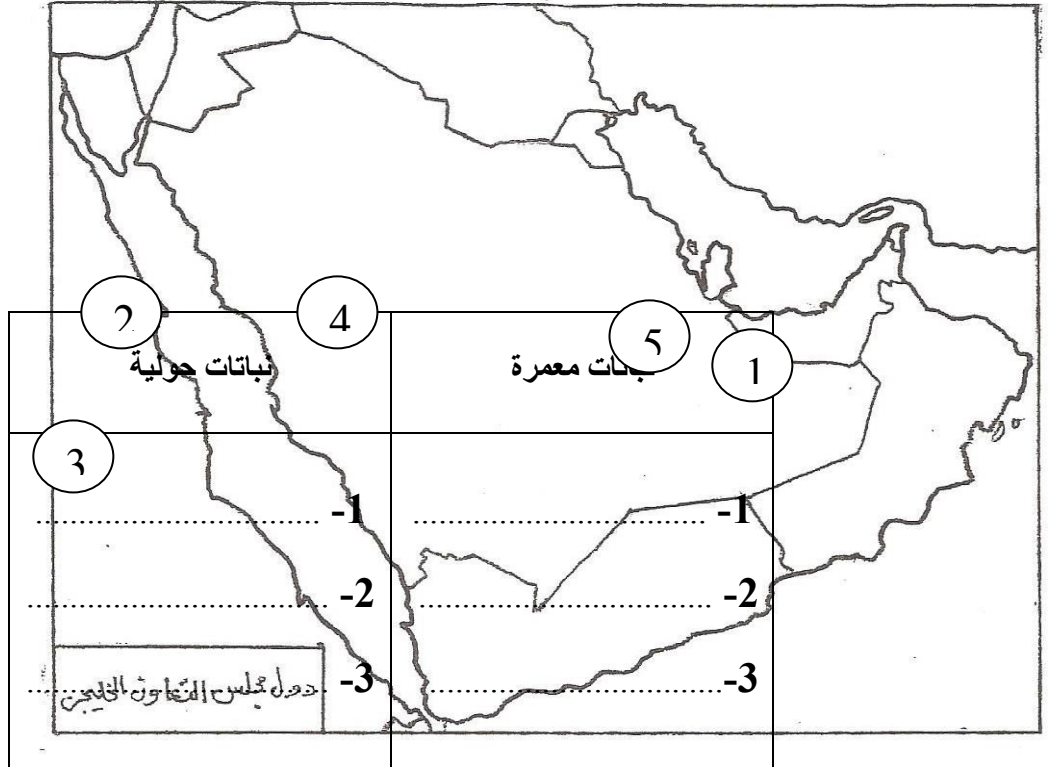
(5) المناخ :

السؤال الثالث عشر : صنف النباتات التالية حسب الجدول الذي يليها :

(الخبزة - العرفج - الصبار - الحويذان - العنصيل - الرمث)

السؤال الرابع عشر : لاحظ خريطة دول مجلس التعاون الخليجي الصماء ،، ثم نفذ عليها المطلوب منك:

WWW.KweduFiles.Com



• الرقم (1) علي الخريطة يشير إلى جبل يسمى

• الرقم (2) علي الخريطة يشير إلى سهل يسمى

- الرقم (3) علي الخريطة يشير إلي مسطح مائي يسمى
- الرقم (4) علي الخريطة يشير إلي هضبة تسمى
- الرقم (5) علي الخريطة يشير إلي دولة تسمى



- حدد موقع الخليج العربي وضع عليه الرمز



- حدد موقع دولة الكويت وضع عليها الرمز



- حدد موقع بحر العرب وضع عليه الرمز



- حدد موقع جبال عسير وضع عليها الرمز

WWW.KweduFiles.Com