

تم تحميل هذا الملف من موقع المناهج الكويتية



منطقة الجهراء التعليمية

الملف نموذج إجابة اختبار منطقة الجهراء التعليمية

[موقع المناهج](#) ← [المناهج الكويتية](#) ← [الصف السادس](#) ← [اجتماعيات](#) ← [الفصل الثاني](#)

روابط مواقع التواصل الاجتماعي بحسب الصف السادس



روابط مواد الصف السادس على تلغرام

[الرياضيات](#)

[اللغة الانجليزية](#)

[اللغة العربية](#)

[التربية الاسلامية](#)

المزيد من الملفات بحسب الصف السادس والمادة اجتماعيات في الفصل الثاني

مراجعة	1
مراجعة	2
مراجعة	3
مذكرة في مادة الاجتماعيات	4
مراجعة محلولة ومفيدة في مادة الاجتماعيات	5



امتحان الفترة الدراسية الثانية
لمقرر الكويت ودول الخليج العربية
للفصل السادس المتوسط
نموذج الإجابة

العام الدراسي: ٢٠٢٣ / ٢٠٢٤ م
الزمن: ساعة وخمسة وأربعون دقيقة
عدد الأوراق: (٥)

- السؤال الأول (موضوعي) يتكون من (أ - ب - ج - د - هـ - و) :

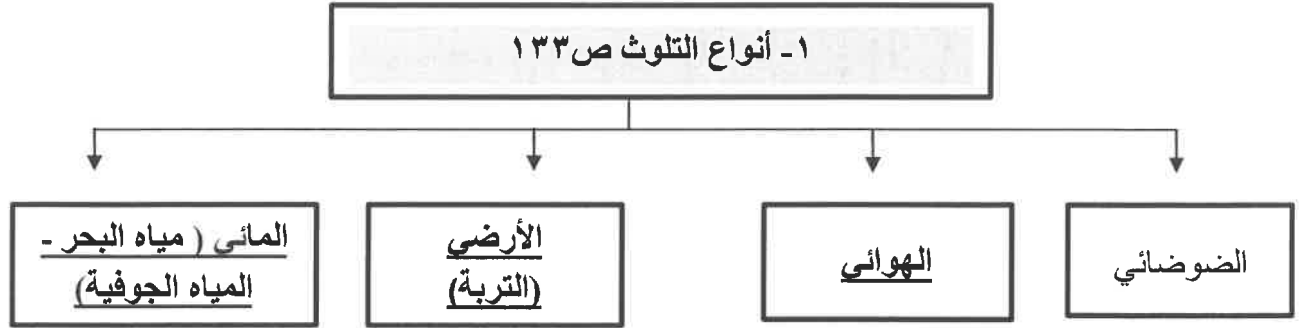
(أ) أكمل العبارات التالية بما يناسبها فيما درست : (٦ درجات)

- ١- أكبر حقل نفطي في دولة الكويت يسمى برقان . ص ٩١
- ٢- العام الذي قام فيه النظام العراقي الغاشم بغزو دولة الكويت ١٩٩٠ م . ص ١٣٩
- ٣- كميات النفط التي يتم استخراجها للاستفادة منها تعرف باسم إنتاج النفط . ص ٨٨
- ٤- مجموعة من العادات والتقاليد والقيم في مجتمع من المجتمعات تسمى الثقافة . ص ١١٨
- ٥- المملكة العربية السعودية لها تجربة رائدة في إنتاج محصول يسمى القمح . ص ٩٢
- ٦- ترجع أصول السلالات السكانية في منطقة الخليج العربية إلى جنس البحر المتوسط وشرق أفريقيا . ص ١٠٥

(ب) ضع خطأ تحت الخيار الصحيح من بين الخيارات التي تلي كل عبارة : (٦ درجات)

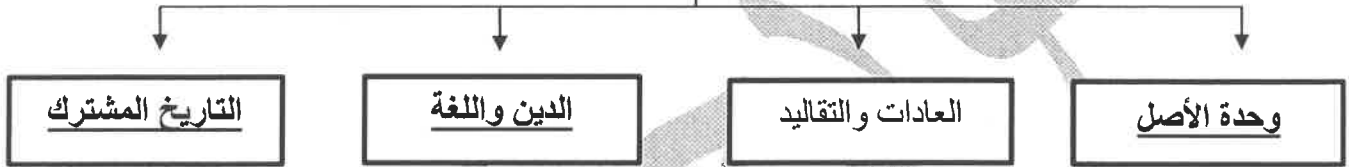
- ١- أصغر دولة خليجية من حيث المساحة : ص ١١٤
الامارات - البحرين - قطر - الكويت
- ٢- بدأ التنقيب عن النفط بدولة الكويت في الحقول الشمالية عام : ص ٨٧
١٩٣٣ م - ١٩٣٤ م - ١٩٣٥ م - ١٩٣٦ م
- ٣- المنطقة التي تتركز فيها صناعة النحاس بسلطنة عُمان : ص ٩٦
- الرويس - امسييد - ينبع - صحار
- ٤- التغيير الذي يحدث لعدد السكان نتيجة للزيادة الطبيعية وغير الطبيعية : ص ١١١
- النمو السكاني - الكثافة السكانية - الهجرة - الأيدي العاملة
- ٥- المدينة الخليجية التي تم فيها الإعلان عن قيام السوق الخليجية المشتركة : ص ١٣٠
- الرياض - الكويت - الدوحة - المنامة
- ٦- بلغ عدد الآبار النفطية الكويتية التي قام النظام العراقي بإحراقها أكثر من : ص ١٣٩
٧٣٤ - ٧٣٥ - ٧٣٦ - ٧٣٧

تابع / السؤال الأول موضوعي :
(ج) أكمل المخططات السهمية التالية: (٦ درجات)



موقع
المنهج الكويتية
almanahj.com

٢- الروابط التي تربط أبناء دول الخليج العربية ص ١١٧-١١٩-١٢٠



(د) صوب ما تحته خط في العبارات التالية بكتابة الإجابة الصحيحة: (٦ درجات)

م	العبارات	التصويب
١	العنف ظاهرة <u>موروثة</u> .	متعلمة
٢	أعلى دولة خليجية في نسبة الوافدين <u>الكويت</u> .	الإمارات
٣	مجموعة من الناس تشترك فيما بينها في الصفات الجسمانية الرئيسة <u>الكثافة</u> . ص ١٠٦	السلالة
٤	الجماعة التي هاجرت إلى رأس الخيمة تسمى <u>بني ياس</u> . ص ١٠٨	القواسم
٥	الدولة الخليجية التي يوجد بها سهل الباطنة <u>الإمارات العربية المتحدة</u> . ص ٩٢	عمان
٦	تحويل المواد الخام إلى مواد يمكن الاستفادة منها تسمى <u>التجارة</u> . ص ٩٥	الصناعة

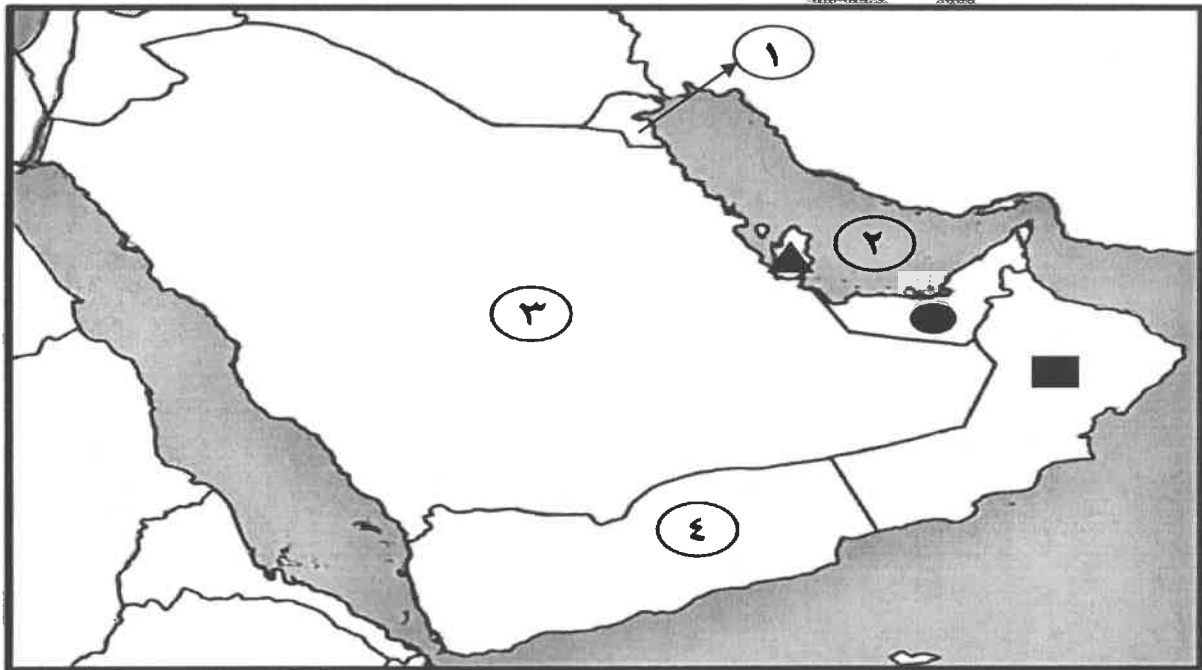
تابع / السؤال الأول موضوعي :

(هـ) صنف مجالات التعاون بين دول مجلس التعاون الخليجي حسب مكانها المناسب في الجدول: ٦ درجات

- المناورات العسكرية - توحيد المناهج التعليمية - زيادة التبادل التجاري
- إنشاء مكتب التربية العربي - إنشاء قوة مشتركة - قيام السوق الخليجية المشترك ص ١٢٩- ص ١٣٠

التعاون الاقتصادي	التعاون الثقافي	التعاون العسكري
- زيادة التبادل التجاري - قيام السوق الخليجية المشترك	- توحيد المناهج التعليمية - إنشاء مكتب التربية العربي	- المناورات العسكرية - إنشاء قوة مشتركة

(و) لاحظ خريطة شبه الجزيرة العربية التي أمامك ثم نفذ المطلوب منك : (٦ درجات)



١- اكتب الرقم الدال على العبارات التالية :

- الخليج العربي يمثل على الخريطة الرقم (٢) ص ٩١
- أكبر دولة خليجية من حيث عدد السكان يمثلها على الخريطة الرقم (٣) ص ١١٤
- الدولة الخليجية التي تقع فيها منطقة الوفرة الزراعية يمثلها على الخريطة الرقم (١) ص ٩٢

٢- حدد على الخريطة ما يلي باستخدام الأشكال التالية :

- الدولة الخليجية التي يوجد بها حضارة هيلي باستخدام الشكل ● ص ١٠٥
- الدولة الخليجية التي هاجرت إليها قبائل الأزد باستخدام الشكل ■ ص ١٠٨
- الدولة الخليجية التي يوجد بها حقل دخان باستخدام الشكل ▲ ص ٩١

- السؤال الثاني : (مقال) يتكون من (أ - ب - ج) :

(أ) فرّق بين كل مما يلي : (٤ درجات)

بيوت بلاستيكية ص ٩٤	الزراعة بدون تربة ص ٩٤
- يزرع فيها الخضراوات في غير مواسمها (أوقاتها) وتقوم بحماية المحاصيل من تقلبات الطقس.	- الزراعة التي تتم في بيئة مائية أو رملية أو حصى أو نشارة خشب تضاف إليها المحاليل الغذائية .
الواردات ص ٩٩	الصادرات ص ٩٩
- البضائع والسلع التي تشتريها دولنا من الخارج.	- السلع والمنتجات التي تبيعها دولنا في الخارج.

(ب) عدد لما يلي : (٤ درجات)

- ١- أهم الدول المستوردة للنفط الكويتي . ص ٩٠ (درجتين - يكتفى بنقطتين)
- الولايات المتحدة الأمريكية - هولندا - اليابان
- ٢ - أسباب مشكلة العنف عند المتعلمين . ص ١٤٩ (درجتين - يكتفى بنقطتين)
- أسباب أسرية - أسباب نفسية - أسباب بيئية عامة

(ج) نفذ المطلوب فيما بين الأقواس : (٤ درجات)

- ١- حاجة دول الخليج العربية إلى إقامة العديد من الموانئ النفطية . (الأسباب) ص ٩٠ (درجتين - يكتفى بنقطتين)
- نتيجة لتزايد الإنتاج النفطي لدول مجلس التعاون من الحقول البرية والبحرية.
- تزايد الطلب العالمي عليه كمصدر أساسي للطاقة.
- ٢ - التعاون السياسي بين دول مجلس التعاون الخليجي . (المظاهر) ص ١٢٩ (درجتين - يكتفى بنقطتين)
- ادانة احتلال الجزر الإماراتية الثلاث .
- مناصرة القضايا العادلة مثل قضية الشعب الفلسطيني وحقه في تقرير مصيره .
- توحيد الموقف السياسي الخليجي تجاه عدوان النظام العراقي البائد على دولة الكويت .

- السؤال الثالث : (مقال) يتكون من (أ - ب - ج) :

(أ) اقرأ الفقرة التالية ثم أجب عما يليها من أسئلة : (٤ درجات)

تسعى دول الخليج العربية للتقليل من المشاكل الاجتماعية وإيجاد حلول لها من خلال عقد ندوات ومؤتمرات خليجية ، حيث تبذل جهوداً واضحة لدراسة المشكلات الاجتماعية مثل العنف والعمالة المنزلية ومعالجة أسبابها ووضع خطط علاجية من خلال المؤسسات الاجتماعية مثل هيئة الشباب والرياضة - دار القرآن - الأندية الصيفية - الرحلات . ص ١٥٠

١- استخراج من الفقرة السابقة ما يلي :

- المؤسسات الاجتماعية التي تبذل جهود لمعالجة المشكلات الاجتماعية . (درجتين - يكتفى بنقطتين)

- هيئة الشاب والرياضة - دار القرآن - الأندية الصيفية - الرحلات

٢- اذكر حلولاً لعلاج مشكلة العنف . ص ١٥٠ (درجتين - يكتفى بنقطتين)

- الاهتمام الجاد بالقرآن الكريم والسنة النبوية الشريفة .
- الاهتمام بالقراءة والقطاعة بدلاً من أصدقاء السوء .
- القدوة الحسنة من كل المحيطين بالشباب (المتعلمين) واتباع أساليب الحوار والتفاهم في علاج المشكلات

والخلافات . (وكل ما يراه المصحح مناسب)

(ب) ما النتائج المترتبة على كل مما يلي : (٤ درجات)

١- ارتباط دول مجلس التعاون بعلاقات تجارية مع دول العالم وفيما بينها . ص ٩٩ (درجتين - يكتفى بنقطتين)

- انتعاش الموانئ التجارية في دول الخليج العربية حيث كان له دوراً بارزاً في تجارة الترانزيت .

- ارتفاع الدخل القومي للدول .

٢- اعتماد المجتمعات الخليجية على العمالة المنزلية . ص ١٤٢ (درجتين - يكتفى بنقطتين)

- تسببت في ظهور العديد من المشكلات منها السلوكيات الخاطئة .

- التأثير بثقافتهم المختلفة .

(ج) علل لما يلي : (٤ درجات)

١- حدوث التلوث المائي . ص ١٣٦ (درجتين - يكتفى بنقطتين)

- النفط ومشتقاته

- مياه الصرف الصحي غير المعالجة - النفايات الخطرة

- مياه الصرف الزراعي - الأمطار الحمضية .

٢- شهدت منطقة الخليج العربية بعد اكتشاف النفط نمواً سكانياً مضطرباً (فجائياً) . ص ١١٠

- ارتفاع دخل الفرد - توفر الرعاية الصحية

- توفر فرص العمل .

انتهت الإجابة ،،،،



وزارة التربية
الإدارة العامة لمنطقة الجاهراء التعليمية
التوجيه الفني للاجتماعيات

امتحان المنهج الكامل
لمقرر الكويت ودول الخليج العربية
للفيف السادس المتوسط
نموذج الإجابة

العام الدراسي: ٢٠٢٣م / ٢٠٢٤م
الزمن: ساعة وخمسة وأربعون دقيقة
عدد الأوراق: (٥)

- السؤال الأول (موضوعي) يتكون من (أ - ب - ج - د - هـ - و) :

(أ) أكمل العبارات التالية بما يناسبها فيما درست : (٦ درجات)

١- الاسم الذي يطلق على صانع السفينة القلاب . ص ٣٣

٢- الحضارة التي عُثر بها على العديد من أفران صهر المعادن تسمى مجان . ص ٤٨

موقع

المنهج الكويتية

almanahj.com/kw

٣- تقع منطقة الخليج العربية في الجهة الجنوبية الغربية من قارة آسيا . ص ١٩

٤- مجموعة من العادات والتقاليد والقيم في مجتمع من المجتمعات تسمى الثقافة . ص ١١٨

٥- البعثة التي كشفت عن وجود تشابه في الآثار الحضارية لدول الخليج العربية الدانمركية . ص ١٠٥

٦- الدولة الخليجية الوحيدة التي لم تتعرض للاستعمار الأجنبي اسمها المملكة العربية السعودية . ص ١٢٠

(ب) ضع خطأ تحت الخيار الصحيح من بين الخيارات التي تلي كل عبارة : (٦ درجات)

١- يتصف مناخ منطقة الخليج العربية بأنه : ص ٢٥

- استوائي قاري - بارد قاري - معتدل قاري - صحراوي قاري

٢- تم صدور إعلان الدوحة بشأن قيام السوق الخليجية المشتركة في يناير عام : ص ١٣٠

- ٢٠٠٤ م - ٢٠٠٦ م - ٢٠٠٨ م - ٢٠١٠ م

٣- عضو من أعضاء طاقم السفينة يسحب الغاصة من أعماق البحر : ص ٣٢

- النوخة - المجدمي - السيب - النهام

٤- الحقل الذي تم فيه اكتشاف كميات ضخمة من النفط في دولة الكويت : ص ٨٧

- بحرہ - الروضتين - برقان - الوفرة

٥- العملية التي يتم فيها تحويل المواد الخام إلى مواد يمكن الاستفادة منها : ص ٩٥

- التكرير - الصناعة - الصادرات - الواردات

٦- الشيخ الذي سميت القمة السابعة والعشرون لمجلس التعاون لدول الخليج العربية باسمه : ص ٧٤

- عبد الله بن عبدالعزيز - جابر الأحمد الصباح - صباح الأحمد الصباح - سلمان بن عبدالعزيز

تابع / السؤال الأول موضوعي :

(ج) صنف مجالات التعاون بين دول مجلس التعاون الخليجي حسب مكانها المناسب في الجدول:

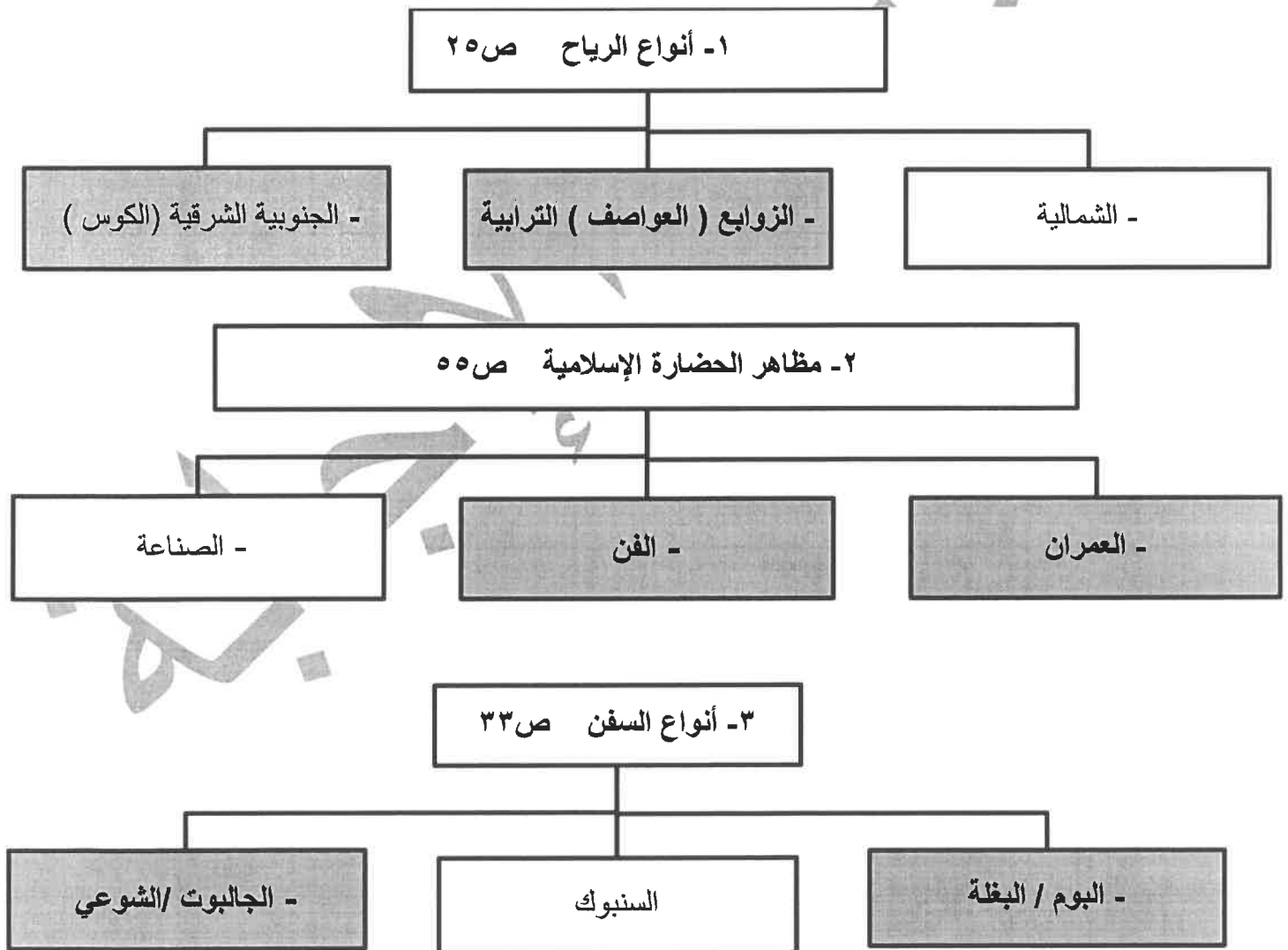
(٦ درجات) ص ١٢٩ - ص ١٣٠

- المناورات العسكرية
- إنشاء مكتب التربية العربي
- توحيد المناهج التعليمية
- إنشاء قوة مشتركة
- زيادة التبادل التجاري
- قيام السوق الخليجية المشتركة

التعاون الاقتصادي	التعاون الثقافي	التعاون العسكري
- زيادة التبادل التجاري - قيام السوق الخليجية المشتركة	- توحيد المناهج التعليمية - إنشاء مكتب التربية العربي	- المناورات العسكرية - إنشاء قوة مشتركة

موقع
المنهج الكويتية
almanahj.com/kw

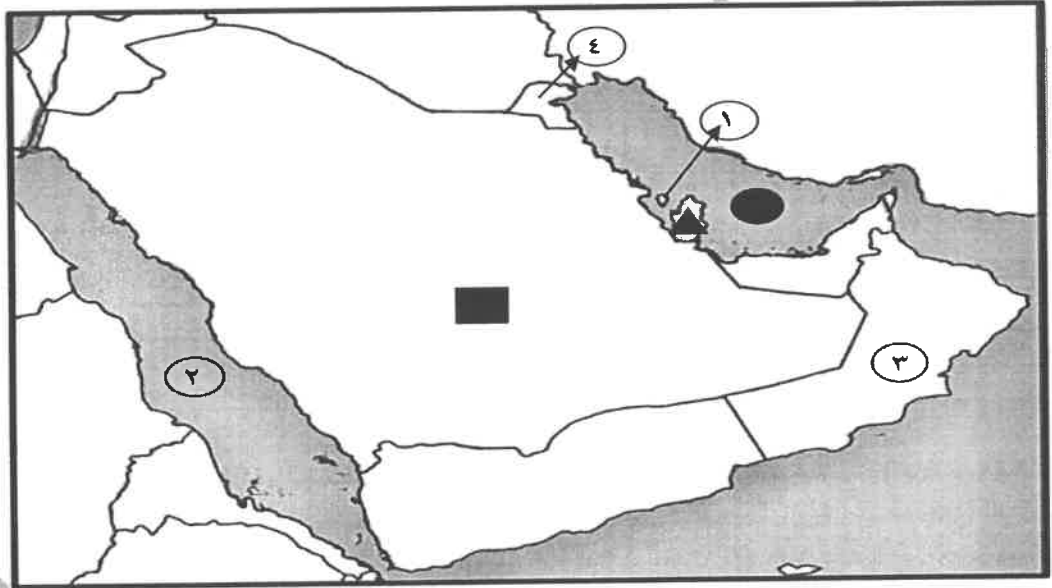
(د) أكمل المخططات السهمية التالية : (٦ درجات) (درجة لكل نقطة)



تابع / السؤال الأول موضوعي :

(هـ) صوب ما تحته خط في العبارات التالية بكتابة الإجابة الصحيحة بين القوسين : (٦ درجات)

- ١- العام الذي قام فيه النظام العراقي بغزو دولة الكويت ١٩٩١ م . (١٩٩٠) ص ١٣٩
 - ٢- الدولة الخليجية التي يوجد بها الجبل الأخضر اسمها البحرين . (عُمان) ص ٢٣
 - ٣- أولى الدول الاستعمارية الأوروبية وصولاً لمنطقة الخليج العربية هولندا . (البرتغال) ص ٦٠
 - ٤- درع واقٍ للأحياء ضد خطر الأشعة فوق البنفسجية الضارة يسمى التلوث . (طبقة الأوزون) ص ١٣٥
 - ٥- تُعد شبه الجزيرة العربية ملتقى الهجرات الخارجية القادمة من آسيا وأوروبا . (أفريقيا) ص ١٠٧
 - ٦- سيطرة دولة قوية على دولة ضعيفة بهدف استغلال موقعها ومواردها يسمى الاستقلال . (الاستعمار) ص ٦١
- (و) لاحظ خريطة شبه الجزيرة العربية التي أمامك ثم نفذ المطلوب مما يلي : (٦ درجات)



١- اكتب الرقم الدال على العبارات التالية :

- البحر الأحمر يمثل على الخريطة الرقم (٢) ص ٢٣
- الدولة الخليجية التي يوجد بها حضارة دلمون يمثلها على الخريطة الرقم (١) ص ٤٨
- الدولة الخليجية التي تقع فيها منطقة الوفرة الزراعية يمثلها على الخريطة الرقم (٤) ص ٩٢

٢- حدد على الخريطة ما يلي :

- الخليج العربي باستخدام الشكل ● ص ٩٢
- الدولة الخليجية التي هاجر إليها المعاضيد باستخدام الشكل ▲ ص ٥٧
- الدولة الخليجية التي يوجد بها حقل الغوار باستخدام الشكل ■ ص ٩١

- السؤال الثاني (مقال) يتكون من (أ - ب - ج) :

(أ) اقرأ الفقرة التالية ثم أجب عما يليها من أسئلة : (٤ درجات)

أعلن قيام مجلس التعاون لدول الخليج العربية في ٢٥ / مايو / ١٩٨١م في مدينة أبوظبي في دولة الإمارات العربية المتحدة وضم كل من دولة الإمارات العربية المتحدة ومملكة البحرين والمملكة العربية السعودية وسلطنة عُمان ودولة قطر ودولة الكويت، وقد جاء إنشاؤه لما بين الدول الأعضاء من علاقات خاصة وصفات مشتركة وأنظمة متشابهة ، أساسها وحدة التراث والانتماء والدين والمصالح المشتركة . ص ٧٠

١- عرف ما تحته خط .

- عبارة عن منظمة سياسية اقتصادية إقليمية تضم ست دول عربية خليجية . (درجة) ص ٧٠

٢- استخرج من الفقرة السابقة ما يلي :

- تاريخ اعلان قيام مجلس التعاون لدول الخليج العربية . (درجة)

- ٢٥ / مايو / ١٩٨١م

- الصفات المشتركة بين دول مجلس التعاون لدول الخليج العربية . (درجتين - يكتفى بنقطتين)

- وحدة التراث - الانتماء - الدين - المصالح المشتركة

(ب) فرق بين كل مما يلي : (٤ درجات)

احتياطي النفط ص ٨٨	إنتاج النفط ص ٨٨
- كميات النفط المخزونة في باطن الأرض.	- كميات النفط التي يتم استخراجها للاستفادة منها.
الواردات ص ٩٩	الصادرات ص ٩٩
- البضائع والسلع التي تشتريها دولنا من الخارج .	- السلع والمنتجات التي تبيعها دولنا في الخارج .

(ج) اذكر اثنين مما يلي : (٤ درجات)

١ - أسباب التلوث المائي .

- مخلفات المصانع - النفط ومشتقاته - مياه الصرف الزراعي

- مياه الصرف الصحي غير المعالجة - النفايات الخطرة - الأمطار الحمضية

٢- أهداف مجلس التعاون لدول الخليج العربية . (درجتين) ص ٧٦

- تحقيق التعاون بين الدول الأعضاء في جميع المجالات .

- تحقيق الترابط والصلات بين دول مجلس التعاون .

- العمل على تقدم دول مجلس التعاون في المجال العلمي .

- السؤال الثالث (مقال) يتكون من (أ - ب - ج):

(أ) قارن بين كلاً مما يلي : (٤ درجات)

أوجه المقارنة	نبات معمر ص ٢٦	نبات حولي ص ٢٦
التعريف	- نباتات متوفرة طول العام لأنها تتحمل الجفاف وارتفاع درجات الحرارة .	- نباتات يرتبط وجودها بموسم سقوط المطر .
الأمثلة	- الصبار - العرفج - الثندا - الرمث (يكتفى بمثال واحد)	- الخبيزة - الحويذان - العنصيل (يكتفى بمثال واحد)

(ب) عدد لما يلي : (٤ درجات)

١- وظائف العمالة المنزلية . (درجتين ويكتفى بنقطتين) ص ١٤٢

- المربيات
- السائقين
- الطباخين
- الخدم

٢- أهم الدول المستوردة للنفط الكويتي . (درجتين ويكتفى بنقطتين) ص ٩٠

- الولايات المتحدة الأمريكية
- هولندا
- اليابان

(ج) علل لما يأتي : (٤ درجات)

١ - حياة السكان في البيئة الصحراوية لمنطقة الخليج العربية قاسية وخشنة . (درجتين ويكتفى بنقطتين) ص ٢٧

- فقر البيئة .
- قلة الموارد فيها خاصة المياه .

٢- شهدت منطقة الخليج العربية بعد اكتشاف النفط نمواً سكانياً مضطرباً (فجائياً) . (درجتين ويكتفى بنقطتين)

- ارتفاع دخل الفرد
 - توفر الرعاية الصحية
 - توفر فرص العمل .
- ص ١١٠

انتهت الإجابة ،،،