

تم تحميل هذا الملف من موقع المناهج الكويتية



إيمان علي

الملف أوراق عمل مراجعة على الاختبار التقويمي الأول

[موقع المناهج](#) ← [المناهج الكويتية](#) ← [الصف الثالث](#) ← [رياضيات](#) ← [الفصل الثاني](#)

روابط مواقع التواصل الاجتماعي بحسب الصف الثالث



روابط مواد الصف الثالث على تلغرام

[الرياضيات](#)

[اللغة الانجليزية](#)

[اللغة العربية](#)

[التربية الاسلامية](#)

المزيد من الملفات بحسب الصف الثالث والمادة رياضيات في الفصل الثاني

[وسائل الصف الثالث في مادة الرياضيات](#)

1

[وسائل الصف الثالث في مادة الرياضيات](#)

2

[وسائل الوحدة التاسعة في مادة الرياضيات](#)

3

[مذكرة رائعة في مادة الرياضيات](#)

4

[مذكرة رياضيات للصف الثالث](#)

5



أوراق عمل مراجعة على الاختبار التقويمي الأول


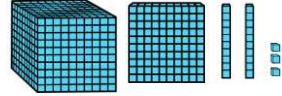
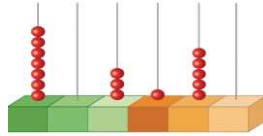


الصف الثالث الابتدائي



اكتب رمز العدد

مليون



تسعمئة ألف ومئة وخمسون



..... ٥ ٠ ٠ ٠ ٠ + ٢٠ ٠ ٠ ٠ + ١٠ ٠ ٠ + ٢٠ + ٥



..... مئة وسبعة وثلاثون ألفا وخمسة عشر




..... تسعمئة ألف وتسعة




اكتب القيمة المكانية للرقم الذي تحته خط


٩٠٠ ٨٢١



٤٧ ١٣٠



٣٦ ١٢٥



إعداد المعلمة : إيمان على





ورقة عمل (الوحدة الاولى)



الصف الثالث الابتدائي



----- \approx ٤٥٦



----- \approx ٨٣٠

قرب الأعداد إلى أقرب مئة



----- \approx ١٦٧٣



----- \approx ٦١٣٥

قرب الأعداد إلى أقرب ألف

قارن بوضع رمز العلاقة المناسب (> أو < أو =) :



٥٤٧٠ ○ ٢٤٧٠



٢١٧ ○ ١٦٣٠



٥٩٠٠ ○ ٥٩٠٠



١٢٥٤٠ ○ ١٢٥٦٠

إعداد المعلمة : إيمان علي

