

تم تحميل هذا الملف من موقع المناهج الكويتية



الملف أسئلة اختبارات الوحدة الخامسة

[موقع المناهج](#) ⇨ [المناهج الكويتية](#) ⇨ [الصف التاسع](#) ⇨ [رياضيات](#) ⇨ [الفصل الأول](#)

روابط مواقع التواصل الاجتماعي بحسب الصف التاسع



روابط مواد الصف التاسع على تلغرام

[الرياضيات](#)

[اللغة الانجليزية](#)

[اللغة العربية](#)

[التربية الاسلامية](#)

المزيد من الملفات بحسب الصف التاسع والمادة رياضيات في الفصل الأول

| | |
|---|---|
| حل كراسة التمارين في مادة الرياضيات | 1 |
| كتاب الطالب لعام 2018 | 2 |
| مراجعة عامة مهمة في مادة الرياضيات | 3 |
| نماذج اختبارات قصيرة 2016 في مادة الرياضيات | 4 |
| حلول واحابات كراسة التمارين في مادة الرياضيات | 5 |

اسئلة اختبارات الأعوام السابقة



رياضيات



الصف التاسع

(9)

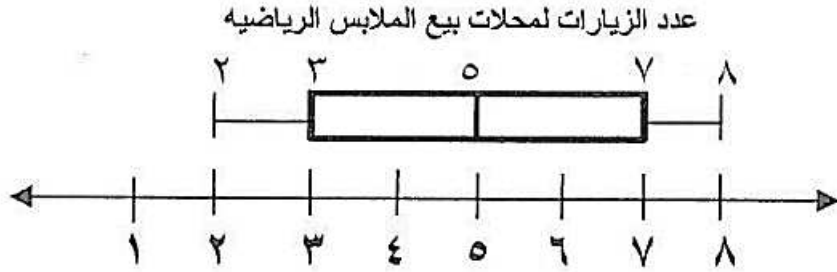
الفصل الدراسي الأول

الوحدة (5)

2022 / 2023

١ - سئل عدد من المتعلمين في أحد فصول الصف التاسع عن عدد مرات زيارتهم لمحلات بيع الملابس الرياضية خلال فترة ما ، والنتائج موضحة في مخطط الصندوق ذو العارضتين في الشكل التالي :

العاصمة ٢٠٢١



مدى البيانات =


الوسيط =

الأربعي الأدنى =

الأربعي الأعلى =

حولي ٢٠٢١

٢ - من مخطط الصندوق ذي العارضتين الموضح بالشكل أوجد ما يلي :



(١) المدى =

(٢) الوسيط =


اسئلة اختبارات تاسع (9) الفصل الدراسي الأول – الوحدة 5
للمزيد من الاختبارات والحلول اشترك في قناتنا على تيليجرام @MathFinal



5 - يبين الجدول التالي الزمن بالدقائق الذي استغرقه ٢٤ متعلماً للوصول من المنزل الى المدرسة . اصنع مدرجاً تكرارياً لهذه البيانات

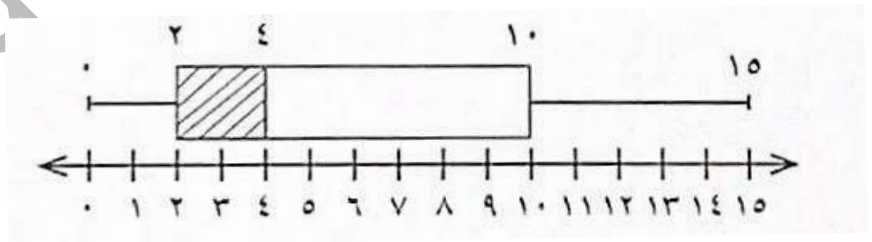
الأحمدي ٢٠٢١

| الفئات | -٥ | -١٠ | -١٥ | -٢٠ |
|---------|----|-----|-----|-----|
| التكرار | ٣ | ٧ | ٩ | ٥ |



٦ - يبين مخطط الصندوق ذي العارضتين مجموعة البيانات ، أوجد كل مما يلي :

الجهراء ٢٠٢١



المدى =

الوسيط =

الأرباعي الأدنى =

الأرباعي الأعلى =

اسئلة اختبارات تاسع (9) الفصل الدراسي الأول – الوحدة 5
للمزيد من الاختبارات والحلول اشترك في قناتنا على تيليجرام @MathFinal



٧ - ارسم مخطط الصندوق ذي العارضتين لمجموعة البيانات التالية :

الخاص ٢٠٢١

٦،٧،١،٣،٥،٨،٤

Handwriting practice lines for the student to draw a box plot.

Telegram @MathFinal

