

تم تحميل هذا الملف من موقع المناهج الكويتية



منطقة الأحمدية التعليمية

الملف نموذج أسئلة اختبار منطقة الأحمدية

موقع المناهج ← المناهج الكويتية ← الصف السابع ← اجتماعيات ← الفصل الثاني

روابط مواقع التواصل الاجتماعي بحسب الصف السابع



روابط مواد الصف السابع على تلغرام

[الرياضيات](#)

[اللغة الانجليزية](#)

[اللغة العربية](#)

[التربية الاسلامية](#)

المزيد من الملفات بحسب الصف السابع والمادة اجتماعيات في الفصل الثاني

مذكرة موضوعية محلولة	1
حل الكتاب	2
حل الوحدة الرابعة في مادة الاجتماعيات	3
بنك اسئلة التربية سابع	4
مراجعات الصف السابع	5

أجب عن جميع الاسئلة

السؤال الأول: موضوعي يتكون من (أ - ب - ج) :

(أ) ظلل الخيار الصحيح من بين الخيارات التي تلي كل عبارة :

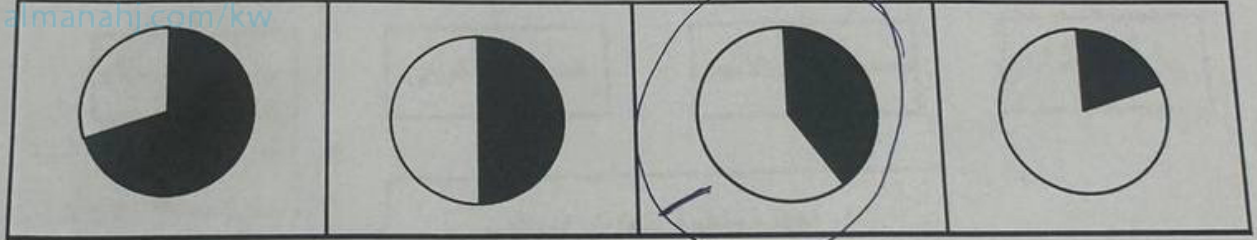
١- الدولة التي استضافت المؤتمرات الثلاثة للمانحين لدعم الوضع الإنساني في سوريا:

مصر	المملكة العربية السعودية	تركيا	الكويت
-----	--------------------------	-------	--------

٢- العام الذي تم فيه إنشاء شرطة البيئة في دولة الكويت:

٢٠١٣ م	٢٠١٤ م	٢٠١٥ م	٢٠١٦ م
--------	--------	--------	--------

٣- نسبة التلوث الهوائي في باكستان الناتج من عوادم السيارات يمثلها الجزء المظلل من الدائرة البيانية:



٤- المنطقة التي أنشأت فيها أول محطة كهرباء تعمل بالطاقة الشمسية في دولة الكويت :

الأحمدي	الجهراء	السالمي	الشقايا
---------	---------	---------	---------

٥- الصورة التي أمامك لعاهل سعودي دعا لإنشاء تجمع يضم الدول الإسلامية:



عبدالله بن عبدالعزيز آل سعود	فهد بن عبدالعزيز آل سعود
فيصل بن عبدالعزيز آل سعود	خالد بن عبدالعزيز آل سعود

السؤال الرابع مقالي يتكون من (أ - ب - ج) :
(أ) لاحظ الصور ثم أجب عن ما يليها من أسئلة :



اسم المشكلة	_____
السبب	_____ - _____



اسم المشكلة	_____
السبب	_____ - _____

(ب) فرّق بين كل مما يلي :

التدوير	التكامل الاقتصادي
_____ - _____	_____ - _____
العولمة	التكامل الاقتصادي
_____ - _____	_____ - _____

(ج) أكتب في ما يلي :

١- الآثار السلبية للتلوث المائي.

٢- التحديات التي تواجه الأقليات الإسلامية حول العالم.

٣- أهم قرارات المؤتمر الإسلامي الخامس.

الدرجة بالحروف
انتهت الأسئلة




السؤال الثالث مقالتي يتكون من (أ - ب - ج) :
(أ) لاحظ الجدول التالي ثم نفذ ما هو مطلوب منك :
افرق بين كل من:

المجموع	الدولة
٩٩,٩٧	كازاخستان
٤٨,٠٩	سيراليون
٧٠,٠٧	اليمن
١٩,١٣	النيجر

مجموع معدلات محو الأمية في الدول الأربعة ان منظمة التعاون الإسلامي لسنة ٢٠٢٠ م

الأمية في البلدان المتقدمة	الأمية في البلدان النامية
.....
.....
.....
.....

٢- حول مجموع معدلات محو الأمية لكل من الدول
(سيراليون - النيجر) إلى أعمدة بيانية



(ب) علل لما يلي :

١- الفقر في الدول الإسلامية.

٢- تعرضت دولة الكويت لتلوث بيئي خطير عام ١٩٩١ م.

(ج) عدد لكل مما يلي :

١- نتائج التلوث الضوضائي.

٢- الهدف من إنشاء الصندوق الكويتي للتنمية الاقتصادية العربية.

٣- نتائج الحرب الأهلية في الصومال عام ١٩٩١ م.



الدرجة بالحروف



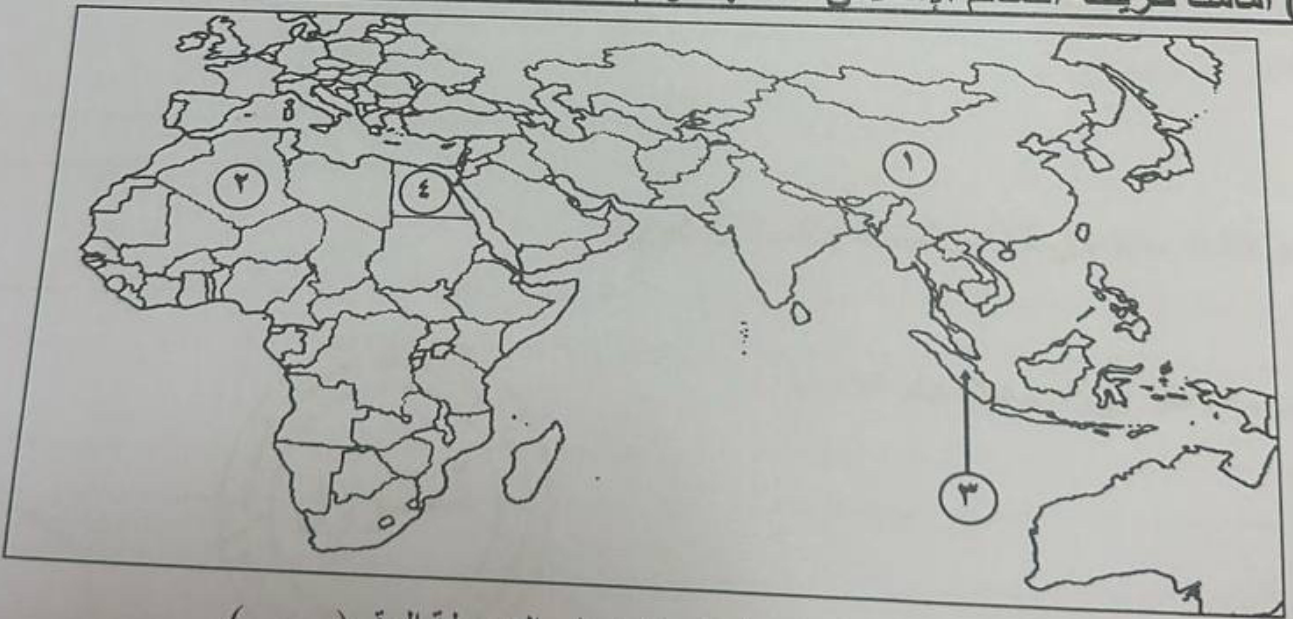
السؤال الثاني موضوعي يتكون من (أ - ب - ج) :
(أ) صحح ما تحته خط في العبارات التالية وذلك بكتابة التصويب في المكان المناسب :

م	العبرة	التصويب
١	الحرب التي شنتها قوات التحالف في ١٧ يناير ١٩٩١م لتحرير الكويت اسمها <u>صقور الجو</u>	
٢	نسبه السكان الذين يعيشون تحت مستوى خط الفقر في العالم الإسلامي <u>٤٠%</u>	
٣	عاصمة تعتبر نموذجاً للتلوث الضوضائي في العالم الإسلامي <u>بغداد</u> .	
٤	الغاز الأول المسؤول عن الاحتباس الحراري في العالم <u>النيتروجين</u> .	
٥	دولة أفريقية عانت من شدة التلوث المائي عام ٢٠١٧م <u>النيجر</u> .	
٦	بدأت القضية الفلسطينية عقب الحرب العالمية الثانية.	

(ب) أكمل العبارات التالية بما يناسبها فيما درست :

- ١- الشيخ الذي تم اختياره كقائد للعمل الإنساني اسمه
- ٢- المدينة التي يقع فيها مقر وكالة الأنباء الإسلامية الدولية (إينا) اسمها
- ٣- بطلة كويتية ساهمت في إطفاء حرائق النفط الناجمة عن الغزو العراقي الغاشم اسمها
- ٤- قوات قامت بإبادة المسلمين وتعذيبهم في حرب البوسنة اسمها
- ٥- دولة خليجية سجلت أعلى معدل في إمام البالغين في القراءة والكتابة اسمها
- ٦- زحف رمال الصحراء على المناطق الجافة والشبه جافة يسمى

(ج) أمامك خريطة العالم الإسلامي - أكتب الرقم الدال على العبارات التي تليها :



- ١- لة حققت التكامل الاقتصادي في مجال الزراعة يمثلها على الخريطة الرقم (.....)
- ٢- لة تمتلك الأيدي العاملة اللازمة لتحقيق التكامل الاقتصادي يمثلها على الخريطة الرقم (.....)
- ٣- لة تعاني فيها الأقلية المسلمة من محاولات طمس هويتهم الثقافية يمثلها على الخريطة الرقم (.....)

الدرجة بالحروف

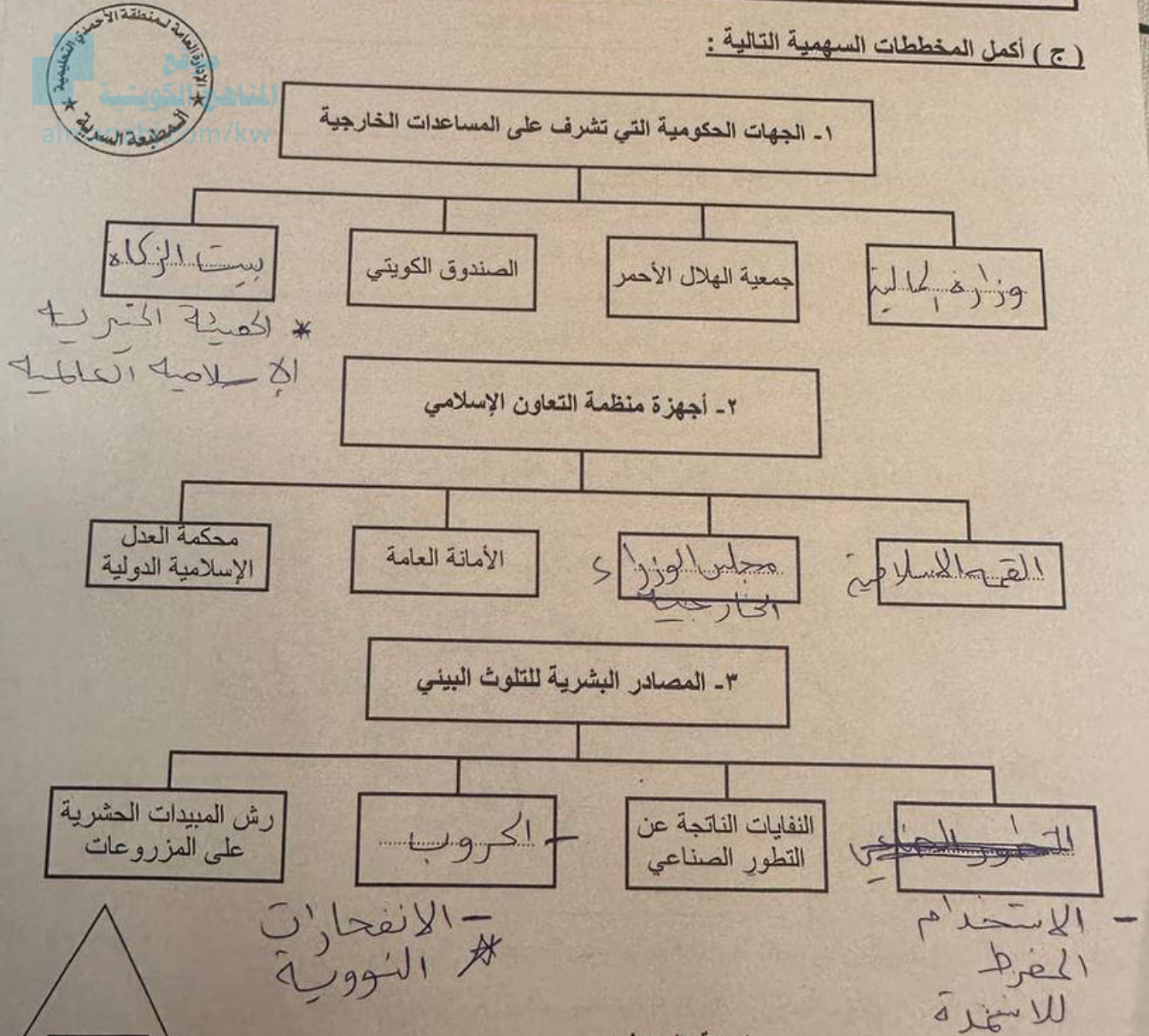
تابع السؤال الأول (موضوعي) :

(ب) صنف الأحداث التالية ما بين القوسين حسب المكان المناسب لها في الجدول التالي:

(الهجوم على مركز الصامطة - اتفاقية الحماية - مؤتمر العقير - ادعاءات عبدالكريم قاسم)

١٨٩٩م	١٩٢٢م	١٩٦١م	١٩٧٣م
اتفاقية الحماية	مؤتمر العقير	ارعدان عبدالكريم قاسم	مركز الصامطة

(ج) أكمل المخططات السهمية التالية :



الدرجة بالحروف