

تم تحميل هذا الملف من موقع المناهج الكويتية



مدرسة التميز النموذجية

الملف نموذج اختبار تجريبي 3

[موقع المناهج](#) ← [المناهج الكويتية](#) ← [الصف الخامس](#) ← [علوم](#) ← [الفصل الأول](#)

روابط مواقع التواصل الاجتماعي بحسب الصف الخامس



روابط مواد الصف الخامس على تلغرام

[الرياضيات](#)

[اللغة الانجليزية](#)

[اللغة العربية](#)

[التربية الاسلامية](#)

المزيد من الملفات بحسب الصف الخامس والمادة علوم في الفصل الأول

كتاب الطالب في مادة العلوم لعام 2018	1
اوراق عمل في مادة العلوم	2
المذكرة الشاملة لامتحان العلوم	3
مذكرة شرح ممتازة في مادة العلوم	4
المصطلحات العلمية للكورس الاول في مادة العلوم	5



اختبار تجريبي 3 للصف الخامس الابتدائي

في مادة العلوم - الفصل الدراسي الأول

الاسم:

الصف:

10

السؤال الأول : أكتب بين القوسين كلمة (صحيحة) للعبارة الصحيحة وكلمة (خطأ) للعبارة غير الصحيحة لكل مما يلي :

- 1- ثاني أكسيد الكربون غاز ينشأ بتأثير الأشعة فوق البنفسجية . ()
- 2- طبقة الأوزون لا تحمي كوكب الأرض من اشعاع الشمس الضار. ()

السؤال الثاني : اختر الإجابة الصحيحة علمياً لكل من العبارات التالية بوضع علامة (v) في المربع المقابل لها :

المناهج الكويتية
almanahj.com/kw

1- يغطي الماء كوكب الأرض بنسبة :

91% 71% 21%

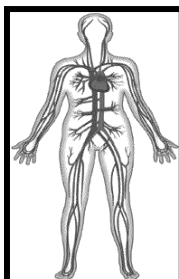
1- الجهاز المسؤول عن هضم الطعام

الجهاز العصبي الجهاز الدوري الجهاز الهضمي

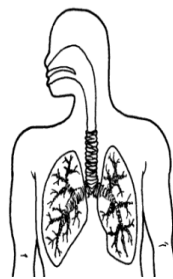
السؤال الثالث: أكمل جدول المقارنة التالي :

.....	أوجه المقارنة الوظيفة
تقطع الطعام إلى أجزاء صغيرة	يوزع الطعام المهضوم إلى جميع أجزاء الجسم	

السؤال الرابع: أكمل البيانات على الرسم :



الجهاز



الجهاز

السؤال الأول : أكتب بين القوسين كلمة (صحيحة) للعبارة الصحيحة وكلمة (خطأ) للعبارة غير الصحيحة لكل مما يلي :

- 1- ثاني أكسيد الكربون غاز ينشأ بتأثير الأشعة فوق البنفسجية . (×)
 2- طبقة الأوزون لا تحمي كوكب الأرض من اشعاع الشمس الضار. (×)

السؤال الثاني : اختر الإجابة الصحيحة علمياً لكل من العبارات التالية بوضع علامة (√) في المربع المقابل لها :

2- يغطي الماء كوكب الأرض بنسبة :

موقع
المناهج الكويتية
almanahj.com/kw

91%

71%

21%

3- الجهاز المسؤول عن هضم الطعام

الجهاز العصبي

الجهاز الدوري

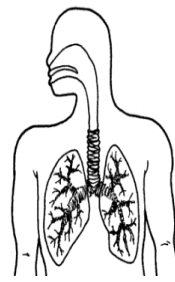
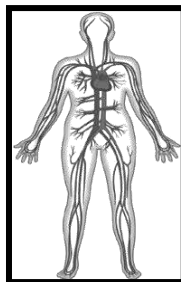
الجهاز الهضمي

السؤال الثالث: أكمل جدول المقارنة التالي :

....الاسنان....الدم.....	أوجه المقارنة
تقطع الطعام إلى أجزاء صغيرة	يوزع الطعام المهضوم إلى جميع أجزاء الجسم	الوظيفة

السؤال الرابع: أكمل البيانات على الرسم :

الجهازالدوري.....



الجهازالتنفسي.....