

أسئلة الفصل الدراسي الأول لمادة الدراسات الاجتماعية

السؤال الأول : - اختر الإجابة الصحيحة من بين البدائل لكل عبارة فيما يأتي :

1- تسابير الحدود السياسية :

أ - خطوط الطول ب - دوائر العرض ج مظاهر السطح د - خطوط الطول ودوائر العرض

2 - التكوينات الكلسية الصخرية الصوانية التي تعرضت لعوامل النحت تسمى

أ - الحماد ب - الانكسارات ج - العرق د - الرق

3- أعلى قمة جبلية في شبه الجزيرة العربية قمة جبل :

أ - جبير ب - النبي شعيب ج - طوبقال د - هلكرد

4- يسود الاقليم المداري في الوطن العربي بشكل عام في المناطق :

أ - الشمالية ب - الشرقية ج - الغربية د - الجنوبية

5- من العوامل الداخلية التي أثرت في تضاريس الوطن العربي :

أ - درجة الحرارة ب - البراكين ج - الرياح د - المياه

6- المسطح المائي الذي يصل جناحي الوطن العربي هو :

أ - قناة السويس ب - البحر المتوسط ج - الخليج العربي د - البحر الاحمر

7- عدد دوائر العرض التي يمتد عليها الوطن العربي :

أ - 50 ب - 39 ج - 49 د - 37

8- جبال نتجت عن حركات بطيئة أصابت الصخور فأدت لارتفاع بعضها وانخفاض البعض الآخر هي الجبال:

أ - الالتوائية ب - البركانية ج - الانكسارية د - الشميلية

9- أعلى قمة جبلية في دولة الإمارات جبل :

أ - حفيت ب - مسافي ج - الحجر د - جيس

10 - دائرة العرض الرئيسية التي تقطع أراضي الوطن العربي من الجنوب :

أ - مدار السرطان ب - خط جرينتش ج - خط الاستواء د - مدار الجدي

11- يقسم خط الاستواء الأرض إلى قسمين :

أ - شمالي وجنوبي ب - شرقي وغربي ج - شرقي وشمالي د - شرقي وجنوبي

12- التكوينات الرملية مثل بحر الرمال العظيم في مصر يطلق عليها :

أ- الحماد ب- الانكسارات ج- العرق د- الرق

13 - عدد خطوط الطول التي يمتد عليها الوطن العربي :

أ- 88 ب- 77 ج- 66 د- 55
14- يسود اقليم البحر المتوسط في الوطن العربي بشكل عام في المناطق :

أ- الشمالية ب- الشرقية ج- الغربية د- الجنوبية

15- من العوامل الخارجية التي أثرت في تضاريس الوطن العربي :

أ- الزلازل ب- البراكين ج- الالتواءات د- المياه

16 - المسطح المائي الذي يصل جناحي الوطن العربي هو :

أ- قناة السويس ب- البحر المتوسط ج- الخليج العربي د- البحر الاحمر

17 - المسطح المائي الذي يحد الوطن العربي من جهة الغرب :

أ- البحر الاحمر ب- الخليج العربي ج- المحيط الاطلنطي د- المحيط الهندي

18- أخفض نقطة عن مستوى البحر في الوطن العربي هو :

أ- الخليج العربي ب- بحر العرب ج- البحر الميت د- المحيط الاطلنطي

19- أعلى قمة جبلية في الوطن العربي جبل :

أ- حفيت ب- طوبقال ج- زاغروس د- جيس

20 - دائرة العرض الرئيسية التي تقطع أراضي الوطن العربي من الوسط :

أ- مدار السرطان ب- خط جرينتش ج- خط الاستواء د- مدار الجدي

21- من امثلة الجبال الانكسارية في الوطن العربي

أ- جبال البحر الاحمر ب- جبال اطلس ج- الجبل الاخضر د- جبال الهملايا

22- يوجد منخفض القطارة والفيوم في هضبة :

أ- شبه الجزيرة العربية ب- بادية الشام ج- أفريقيا الشمالية د- جبال الهملايا

23- من امثلة الجبال الالتوائية في الوطن العربي

أ- جبال البحر الاحمر ب- جبال اطلس ج- جبال الامارات د- جبال الهملايا

24- يحد الوطن العربي من الشرق الخليج العربي وبحر عمان وجبال :

أ- زاغروس ب- اطلس ج- جبال اللانقية د- جبال الهملايا

25- اصغر دول الوطن العربي مساحة :

ج- لبنان

ب- البحرين

أ- جزر القمر

26 - اكبر دول الجناح الاسيوي مساحة :

ج- السعودية

ب- اليمن

أ- الامارات

27- اصغر دول الجناح الأفريقي مساحة :

ج- لبنان

ب- البحرين

أ- جزر القمر

28- تبلغ مساحة الوطن العربي ما يزيد عن مليون كم2:

ج- 9م كم ٢

ب- 14م كم ٢

أ- 10م كم ٢

29- يقع الوطن العربي في نصف الكرة الارضية:

ج- الشرقي

ب- الغربي

أ- الشمالي

30- من الرياح المحلية التي تهب على جمهورية مصر العربية :

ج- الخماسين

ب- السموم

أ- الكوس

31- من الرياح المحلية التي تهب على دولة الامارات العربية المتحدة :

ج- الخماسين

ب- الهبوب

أ- الكوس

32- من العوامل المؤثرة في مناخ الوطن العربي :

ج- كل ما سبق صحيح

ب- التضاريس

أ- الموقع الفلكي

33- يسود إقليم البحر المتوسط في الوطن العربي في :

ج- سواحل بلاد المغرب وبلاد الشام

ب- جنوب السودان

أ- الصحراء الكبرى

34- من امثلة السهول الفيضية في الوطن العربي :

ج- سهول الخليج العربي

ب- سهول النيل

أ- سهول البحر المتوسط

35- من امثلة السهول الساحلية في الوطن العربي :

ج- سهول جوبا وشبيلي

ب- سهول النيل

أ- سهول دجلة والفرات

36- تنتشر في دولة الامارات نباتات حولية ومعمرة مثل :

ج- الكاكاو

ب- الغاف والسدر

أ- القطن

37- يقع الوطن العربي في نصف الكرة الأرضية الشمالي باستثناء الجز الجنوبي من الصومال و جزر:

ج- داس

ب- القمر

أ- السعديات

38- من مزايا التجارة الداخلية :
أ- سهولة انتقال عناصر الإنتاج
ب- وحدة النظام النقدي
ج- كل ما سبق صحيح

39- عمليات البيع والشراء بين المنتجين والمستهلكين من خلال شبكة الانترنت يسمى :
أ- التجارة الداخلية
ب- التجارة الالكترونية
ج- التجارة الدولية

40- من امثلة البضائع الدولية :
أ- النفط
ب- السيارات
ج- الملابس الوطنية

41- من العملات التي تحظى بقبول عام لدى دول العالم :
أ- الروبية الهندية
ب- الدولار الأمريكي
ج- الليرة السورية

42- من العملات التي لا تحظى بقبول عام لدى دول العالم :
أ- اليورو الاوروبي
ب- الدولار الأمريكي
ج- البيسو الفلبيني

43- السلعة التي تأتي في المرتبة الأولى في السلع المستوردة غير النفطية في دولة الإمارات هي:
أ- الذهب الخام ونصف المشغول
ب- الهواتف
ج- السيارات

44- من مزايا التجارة الدولية :
أ- تشغيل الأيدي العاملة
ب- قدرة الدول على تصريف المنتجات الزائدة
ج- أ و ب معا

45- ظهرت التكتلات الاقتصادية بعد الحرب العالمية
أ- الأولى
ب- الثالثة
ج- الثانية

46- من اشهر المناطق الحرة في دولة الامارات عالميا :
أ- جبل علي
ب- الحميرية
ج- ميناء خليفة

47- اقرت الاتفاقية الاقتصادية الموحدة لدول مجلس التعاون عام :
أ- 1980
ب- 1982
ج- 1981

48- من اشكال التكتلات الاقتصادية :
أ- الاتحاد الأوربي
ب- السوق المشتركة
ج- اتفاقية الجات

49- اقرت الاتفاقية الاقتصادية الموحدة لدول مجلس التعاون عام 1981 في مدينة :
أ- جدة
ب- ابوظبي
ج- الرياض

50- اقرت اتفاقية الاتحاد الأوربي عام :
أ- 1990
ب- 1991
ج- 1981

52- الدولة التي انفصلت عن الاتحاد الأوربي نتيجة للاستفتاء الذي اجري عام 2016 :

أ- فرنسا ب- ألمانيا ج- المملكة المتحدة

53- عدد الدول الأعضاء في منظمة التجارة العالمية :

أ- 135 ب- 125 ج- 129

54- اقرت اتفاقية الاتحاد الأوربي في مدينة :

أ- ماستريخت ب- باريس ج- لوكسمبورج

55- انضمت دولة الامارات الى اتفاقية الجات عام :

أ- 1990 ب- 1991 ج- 1995

56- اصبح اليورو العملة الرسمية للاتحاد الأوربي عام :

أ- 2000 ب- 2001 ج- 2002

57- صدر دستور دولة الامارات العربية المتحدة في الثاني من ديسمبر عام :

أ- 1971 ب- 1972 ج- 1973

58- اصبح دستور دولة الامارات العربية المتحدة في عام 1996م (أ) و كان مؤقتاً من عام

أ- دانما ب- مؤقتاً ج- ليتغير كل سنة

59- يتكون الدستور من (125) مادة موزعة على عدد من الأبواب تبلغ :

أ- 10 ب- 12 ج- 20

60- حدثت حرب أكتوبر 1973م بين إسرائيل و

أ- ليبيا وتونس ب- مصر وسوريا ج- العراق والكويت

61- شاركت دولة الامارات في عملية إعادة الامل لدولة

أ- السودان ب- المغرب ج- اليمن

62- دولة خليجية شاركت دول مجلس التعاون الخليجي في حفظ السلام واستقرار امنها عام 2011م :

أ- مملكة البحرين ب- اليمن ج- مصر

63- تعرضت الكويت عام 1990م للغزو :

أ- الفرنسي ب- العراقي ج- الإنجليزي

64- تم اطلاق مدينة الملك عبدالله الاقتصادية في :

أ- دبي ب- أبو ظبي ج- جدة

77- أي من التالي ليست من مزايا التجارة الدولية :

أ- تشغيل عدد كبير من الأيدي العاملة ب- قدرة الدولة على تصريف المنتجات الزائدة ج- وحدة النظام النقدي

78- المنطقة الحرة تنظيم اقتصادي يهدف إلى تبادل السلع بين الدول :

أ- المنتجة ب- المصدرة ج- الأعضاء في التنظيم د- المستوردة

97- أي من التالي ليست من مزايا التجارة الداخلية :

أ- سهولة انتقال عناصر الإنتاج ب- قدرة الدولة على تصريف المنتجات الزائدة ج- وحدة النظام النقدي

80- السلعة التي تأتي في المرتبة الثانية في السلع المستوردة غير النفطية في دولة الإمارات هي:

أ- الذهب الخام ونصف المشغول ب- الهواتف ج- السيارات د- الطائرات

81- قارن بين كل من حسب معطيات الجدول التالي :

أوجه المقارنة	الجيال الالتوائية	الجيال الانكسارية
المفهوم	بهر جبال ناتجة عن حركات بطيئة إحصاء الصخور	هي جبال ناتجة عن حركات سريعة إحصاء الصخور الطرية
مثال من الوطن العربي	جبال عمان - جبال القدس	جبال السامو وجبال البحر الأحمر

أوجه المقارنة	التجارة الداخلية	التجارة الدولية
المفهوم	تبادل السلع والخدمات داخل حدود الدولة .	تبادل السلع والخدمات عبر الحدود بين الدول وبعضها
أهم المميزات	① سهولة الانتقال ② وحدة القوانين ③ وحدة العملة ④ القدرة على تحديد الأسعار	① تقوية العلاقات بين الدول ② اضطلاع توزيع للموارد الطبيعية ③ تسهيل الاقتصاد بين الدول

قارن بين كل من حسب معطيات الجدول التالي

وجه المقارنة	مناخ البحر المتوسط	المناخ المداري	المناخ الصحراوي
الجهات التي يسود فيها	1) إقليم برقة بالنيابا 2) سواحل المغرب 3) بلاد الشام	صحراء شبه الجزيرة الصحراء الكبرى الصحراء	المناطق الجنوبية من الوطن العربي
المميزات المناخية	1) مناخ هاريفي 2) دافئ شتاء	1) ارتفاع الحرارة بالصيف 2) برودة من الشتاء 3) سقوط الأمطار شتاء	1) ارتفاع الحرارة طوال العام 2) سقوط الأمطار شتاء
نوع النبات الطبيعي	البلوط الأرز	النخيل والفاق	السمر والسدر

أوجه المقارنة	السوق المشتركة	المنطقة الحرة
المفهوم	منظمة اقتصادية تضم حكومات بعض الدول لوضع قواعد تنظيم التجارة	تنظيم اقتصادي يهدف إلى تبادل بين دول الأعضاء
أهم المميزات	1) إلغاء الرسوم الجمركية 2) صياغة ارتفاع الأسعار 3) حماية المنتجات الوطنية	1) جذب التجارة الخارجية وإعادة التصدير 2) استيراد المواد الأولية والسلع وإعادة تصنيع وتصديرها

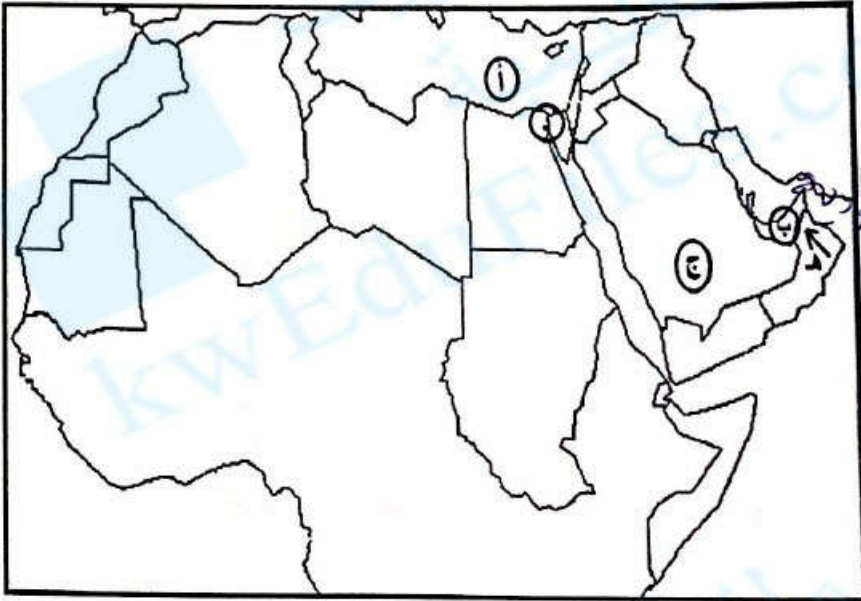
أوجه المقارنة	اتفاقية الجات	الاتفاقية الاقتصادية الموحدة
أوجه التشابه	بين دول مختلفة في العالم	بين الدول العربية وبوطن
أوجه الاختلاف	1) توحيد الرسوم الجمركية بين الدول الأعضاء	1) إلغاء الرسوم الجمركية بين الدول الأعضاء

82- اختر اسم المصطلح العلمي المناسب من بين الأقواس واكتبه أمام العبارة المناسبة مما يلي:

- (الموقع الفلكي - الحداد - الحدود السياسية - الرق - السهول الساحلية - الإقليم المناخي - العرق
 (الوطن العربي - الجبال الانكسارية - السهول الفيضية - الرياح المحلية - التجارة الدولية - الضريبة - الدستور
 (التجارة الداخلية - المعاهدة التجارية - المطقة الحرة - السوق المشتركة - التضامن العربي)

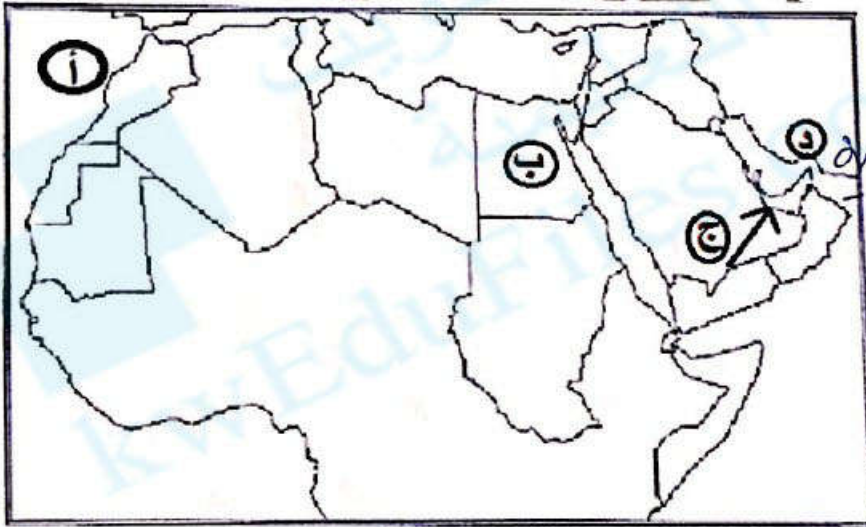
المصطلحات	التعريف
الوطن العربي	تلك المساحة التي تقع في جنوب غرب قارة اسيا و شمال قارة افريقيا
الحدود السياسية	الحدود التي تسير خطوط الطول ودوائر العرض وهي من صنع البشر
الموقع الفلكي	موقع المكان بالنسبة لدوائر العرض وخطوط الطول
الجبال الانكسارية	الجبال التي نتجت عن حركات بطيئة اصابت الصخور الصلبة فأدت لارتفاع بعضها وانخفاض الاخر
الحداد	التكوينات الكلسية الصخرية الصوانية التي تعرضت لعوامل التعرية
الرق	التكوينات الحصوية كما في شرق ليبيا ووسط صحراء الجزائر
العرق	اشرطة رملية متعرجة من الكثبان الرملية مثل بحر الرمال العظيم في مصر
السهول الفيضية	السهول التي تكونت بفعل الأرسابات النهرية
السهول الساحلية	الأراضي المنبسطة المطلة على المسطحات المائية
الإقليم المناخي	جزء من سطح الأرض له خصائص مناخية تميزه عن غيره
الرياح المحلية	رياح ذات طابع واثر محلي تتكون نتيجة لاختلاف الحرارة بين اليابس والماء
التجارة الدولية	تبادل السلع والخدمات عبر الحدود الدولية
التجارة الداخلية	تبادل السلع والخدمات داخل الدولة
المنطقة الحرة	تنظيم اقتصادي يهدف الى حرية تبادل المنتجات الوطنية بين الدول الاعضاء ودول اخرى
الضريبة	مبلغ نقدي تفرضه الدول على بعض السلع لمحاربة السلع الضارة كالسجائر
السوق المشتركة	منظمة اقتصادية اقليمية تأسسها حكومات الدول لوضع ضوابط تسهل المعاملات التجارية
الدستور	مجموعة من القواعد والقوانين التي تحدد نظام الحكم في الدولة وتنظم السلطات العامة في الدولة
التضامن العربي	تعاون ومساندة الدول بعضها البعض لما فيه مصلحتها المشتركة عن طريق الاتفاقيات المختلفة

83- اكتب دلالات الأحرف الموضحة على خريطة الوطن العربي في الفراغات التالية :



- أ - مسطح مائي البحر المتوسط
ب - دولة عربية الإمارات
ج - هضبة الريح القاطن الشرق
د - قناة السويس
هـ - رياح محلية التونس
و - ارسم مدار السرطان على الخريطة

84- اكتب دلالات الأحرف الموضحة على خريطة الوطن العربي في الفراغات التالية :

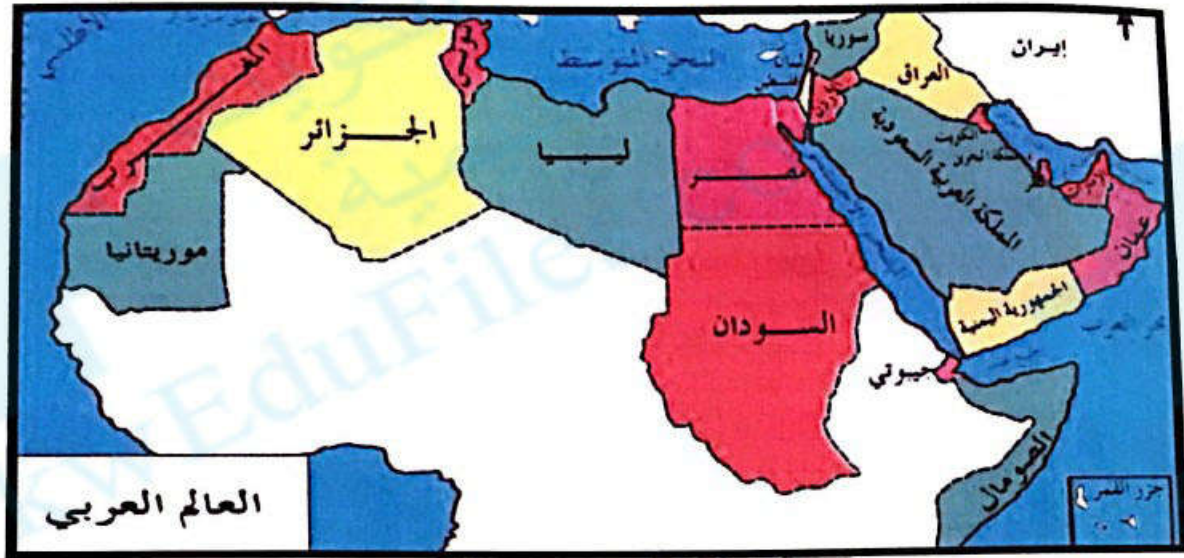


- أ - مسطح مائي المحيط الأطلنطي
ب - دولة عربية جمهورية مصر
ج - رياح محلية السويدي
د - مضيق هرمز
هـ - ارسم خط الاستواء على الخريطة

استخلص من خريطة الوطن العربي نتيجتين اثنتين ترتبنا على اتساع مساحة الوطن العربي؟


- ① ان يقع الوطن العربي بين قارتي آسيا وأفريقيا .
② تنوع درجة الحرارة والرياح في الوطن العربي لتنوع واتساع اراضيها

85- تأمل خريطة الوطن العربي التي امامك ثم اجب عن الأسئلة التي تليها :




- يحد الوطن العربي من الشمال البحر المتوسط وجبال طوروس و.....
- يحد الوطن العربي من الجنوب المحيط .. المحيط الهندي .. وجزء من الصحراء الكبرى والهند
- المضيق الذي يربط الخليج العربي وبحر عمان يسمى مضيق هرمز
- المسطح المائي الذي يصل جناحي الوطن العربي هو البحر الأحمر
- يحد الوطن العربي من الغرب المحيط .. البحر المتوسط
- تقع دولة الامارات بالنسبة للوطن العربي جهة الشرق
- عدد الدول العربية في الجناح الاسيوي 12 دولة
- عدد الدول العربية في الجناح الافريقي 15 دولة
- يحد الوطن العربي من الشرق بحر عمان و الخليج .. البحر العربي .. وجبال جروس ..
- دائرة العرض التي تقطع أراضي الوطن العربي من الجنوب .. خط الاستواء
- دائرة العرض التي تقطع أراضي الوطن العربي من الوسط .. مدار السرطان
- من خلال الخريطة وضح أهمية الوطن العربي ؟
- يمتد خط عرض الصحراء الى العالم أفريقيا اسيا
- يمتد خط عرض البحر الى السودان العراق
- يتنوع الموارد الاقتصادية
- مامة


من مزايا التجارة الالكترونية



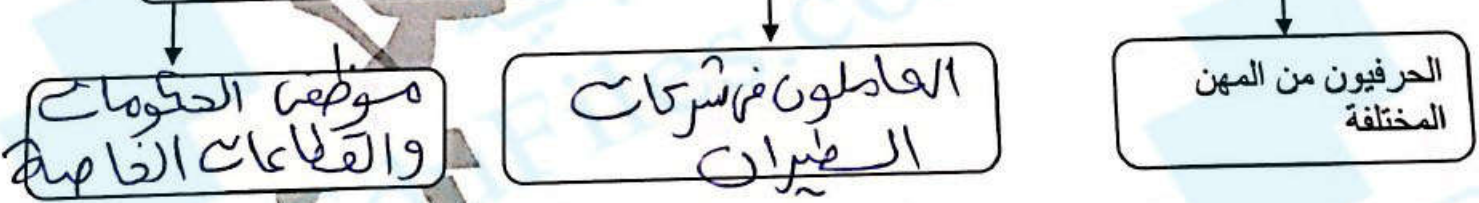
من مجالات التجارة الالكترونية




من عوامل التخصص في الإنتاج



تأخذ حركة انتقال الأفراد عبر الحدود السياسية عدة اشكال منها



من اشكال التبادل التجاري



من اشكال التكتلات الاقتصادية

المنطقة الحرة

السوق المشتركة

المعاهدات التجارية

من اهم بنود المعاهدة التجارية

توحيد الإعفاءات الجمركية

حماية التبادل التجاري

تسهيل تبادل السلع

من اهم مقومات الاقتصادية بين دول مجلس التعاون

وحدة التاريخ المشترك

وحدة الديانة الاسلامية

وحدة الأصول العربية

وحدة الأهل المشتركة

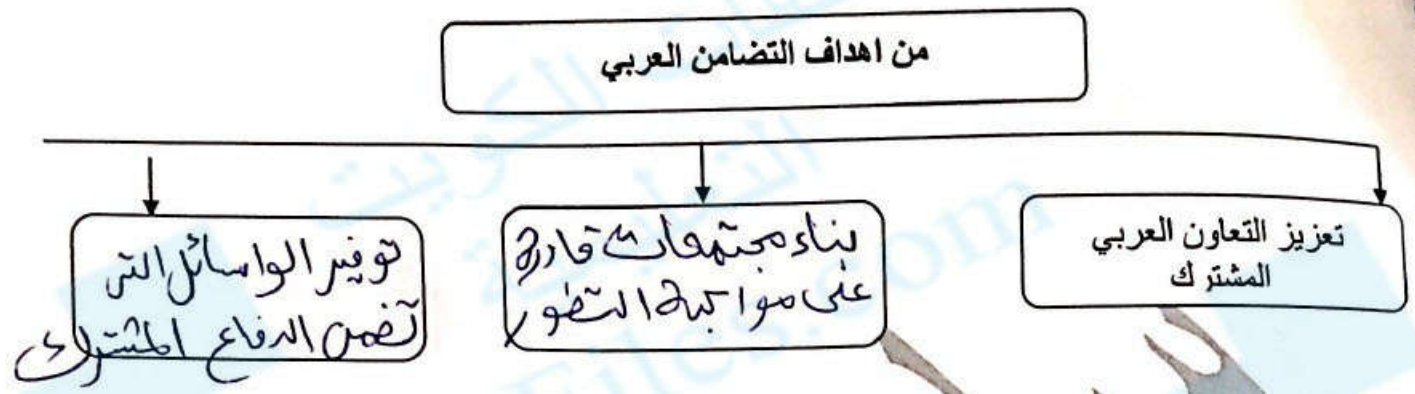
من امثلة التضامن العربي

حرب أكتوبر 1973

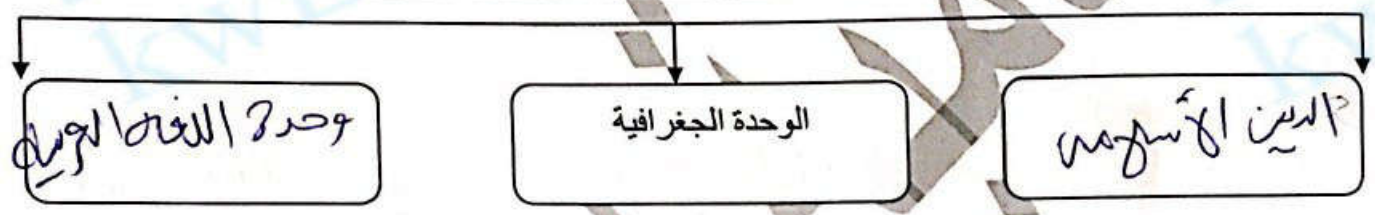
- تحرير البحرين

- حرب العراق والكويت

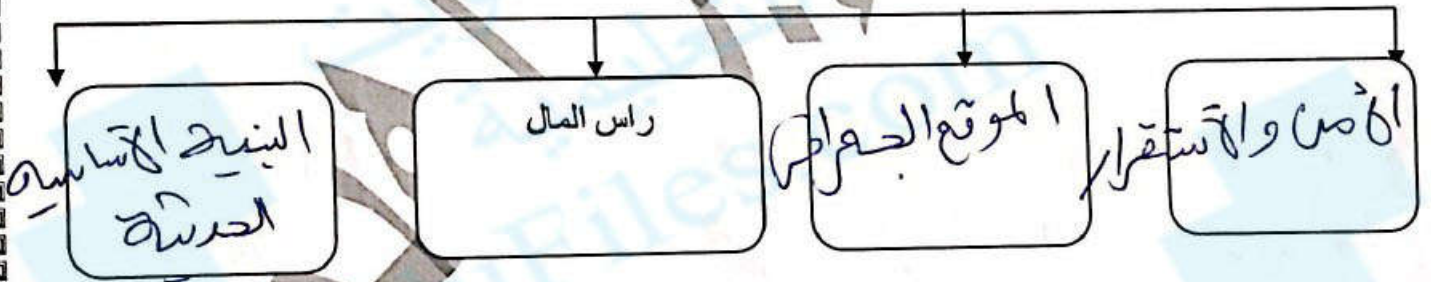
امارة الاصل لسحب اليمن



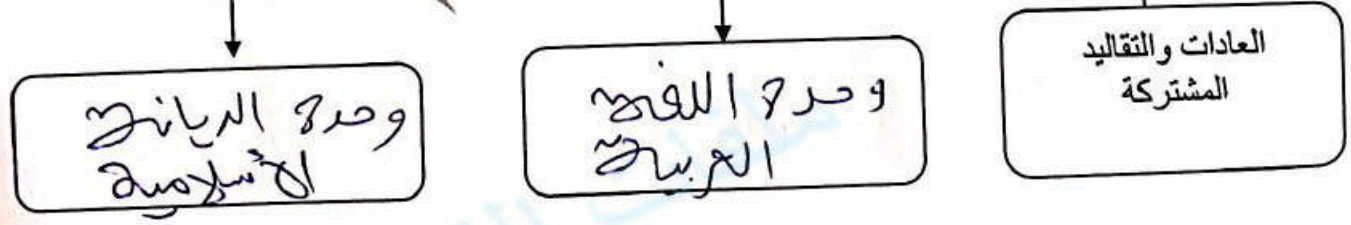
من عوامل التضامن العربي



من اهم مقومات السياحة في دولة الامارات والمملكة العربية السعودية



من اهم الروابط المشتركة بين الامارات والسعودية



- أفسر الآتي : (أذكر سبباً) :

- عدم قدرة الدولة بمفردها على تحقيق الاكتفاء الذاتي لاحتياجاتها كلها ؟

لعدم وجود موارد أولية كافية وقلّة اليد العاملة

- صعوبة انتقال عناصر الإنتاج بين الدول

لعدم لسهولة تبادل تجواري وثقافتل وقوانين الاقتصادية

- أهمية التجارة الدولية ؟

1. تقوية العلاقة بين الدول

- تزايد الرغبة الى انشاء التكتلات الاقتصادية بين الدول بعد الحرب العالمية الثانية ؟

للتحقيق من صالح مشتركة مواجهة المشاكل الاقتصادية

- وضع ضوابط من قبل الدولة على المناطق الحرة ؟

للحماية من تهريب بعض الموارد الطبيعية لها

- اهتمام دولة الامارات بإقامة مناطق تجارية حرة على أراضيها ؟

لتنشيط التجارة الدولية وتنشيط التجارة المحلية

- يعد الاتحاد الأوروبي من اهم التكتلات الاقتصادية المعاصرة ؟

لأنه أكبر الدول المتقدمة في التماسك الاقتصادي بين الأعضاء ،

- انضمام دولة الامارات لاتفاقية الجات

1995 لفتح أسواق عالمية لمنتجات البلاد

- أهمية الدستور في الدولة

تنظيم السلطات العامة للحكومة - وتحديد المهام العامة للحكومة

- اعتبار اللغة العربية اللغة الرسمية للدولة ؟

لأنها اللغة التي نزل بها القرآن الكريم

- قيام الشراكة الاقتصادية الإماراتية السعودية ؟

للتحقيق من أهداف مشتركة بينهم

- اطلاق عاصفة الحزم ؟

وذلك لدعم المملكة العربية السعودية

89 اجب عن الأسئلة التالية:

• من نتائج حرب اكتوبر 1973م

1) أبرز قدره الحرب على التحفيز 2) الكسف عن تأسيس الثورة الفلسطينية

• من مخططات اعداء الامة العربية لإعاقة العمل العربي؟
1) بيم حيدر وهنود للمول - تدمير البنية التحتية للأعمال التجارية العربية

• اهداف الشراكة الامنية بين الامارات والسعودية؟

1) صياغة الخطط والخطط 2) الدفاع عن المطالب العربية

• اهمية الدستور للدولة

1) ~~المصدر~~ 2) تسيير المهام العامة للدولة 3) تنظيم المهام العامة للحكومة

• اهمية الدستور للمواطن؟

1) معرفة حقوقه 2) معرفة واجباته

• (المواطنة مسؤولية: المواطن الصالح يمتلك حسا اجتماعيا عاليا يتضمن ذلك)؟

1) معرفة حقوقه 2) معرفة واجباته

• ايهما يعتبر مصدرا للأخر الدستور ام القوانين

القانون هو مصدر الدستور

• ما هي حقوقي في الدستور؟

1) المساواة أمام القانون - كفالة الحرية الشخصية

• ما هي واجباتي تجاه الدستور؟

1) أداء الضرائب المقررة 2) الدفاع عن الأقطاب

٨٧- أفسر الآتي : (أذكر سببا) :

- غنى الوطن العربي بالثروات المعدنية ؟

لأنه يتمتع بأرضها الفسيفسائية

- وتنوع الصخور البكتونية فيها

- تنوع مناخ الوطن العربي ؟

لأنه يتمتع بأرضها الفسيفسائية وتنوع المناطق الصحراوية لساحله

- سقوط الأمطار على دولة الإمارات العربية المتحدة شتاء ؟

بسبب هبوب الرياح الغربية الغربية

- أهمية الوطن العربي الاقتصادية ؟

لأنه يحتل على مسطحات مائية هامة

- تعد تضاريس الوطن العربي عاملا من عوامل التكامل الجغرافي في الوطن العربي ؟

لتنوعه في التضاريس من جبال وسهول

- وقوع الجزء الأكبر من الوطن العربي ضمن المناخ الصحراوي ؟

وذلك بسبب مرور خط الاستواء و مدار السرطان بها

- تنوع الموارد والثروات الاقتصادية في الوطن العربي ؟

لأنه يتمتع بأرضها الفسيفسائية

- يعد الوطن العربي طريقا هاما للتجارة الدولية ؟

لأنه يحتل على مسطحات مائية هامة

- تعد أرض الوطن العربي وحدة واحدة لا انقطاع بينها ؟

ووحدة اللغة

- سقوط الأمطار على اليمن صيفا ؟

بسبب هبوب الرياح الجنوبية الغربية