

تم تحميل هذا الملف من موقع المناهج الكويتية



الملف نموذج اختبار تقويمي ثاني

[موقع المناهج](#) ← [المناهج الكويتية](#) ← [الصف الرابع](#) ← [رياضيات](#) ← [الفصل الثاني](#)

روابط مواقع التواصل الاجتماعي بحسب الصف الرابع



روابط مواد الصف الرابع على تلغرام

[الرياضيات](#)

[اللغة الانجليزية](#)

[اللغة العربية](#)

[التربية الاسلامية](#)

المزيد من الملفات بحسب الصف الرابع والمادة رياضيات في الفصل الثاني

<a href="#">تدريبات</a>	1
<a href="#">مذكرة شاملة ومجموعة من التمارين</a>	2
<a href="#">مذكرة الاختبار القصير الاول لمادة الرياضيات</a>	3
<a href="#">مذكرة رياضيات للصف الرابع</a>	4
<a href="#">اسئلة تقويمية في الرياضيات للصف الرابع</a>	5



# الاختبار التقويمي الثاني للصف الرابع

الفصل الدراسي الثاني للعام الدراسي 2024-2025

بنود الاختبار	توزيع درجات الاختبار		درجة الاختبار	مدة الاختبار	موعد الاختبار
	مقالي	موضوعي			
الوحدة الثامنة	٣	٢	٥ درجات	لا تتجاوز ١٥ دقيقة من زمن الحصة	الأسبوع ٦

إشراف الموجهة الفنية : أ. مها العنزي

السؤال الأول :

أوجد الناتج

$$\begin{array}{r} 37123 \\ + 13294 \\ \hline \end{array}$$

السؤال الثاني اختر الإجابة الصحيحة بوضع (✓) .

العدد الأقرب إلى الناتج التقديري لـ ١٣٤٠٠ - ٥٣٨١٠				
٤٠٠٠٠٠	٣٠٠٠٠٠	٤٠٠٠٠٠	١٠٠٠٠٠	١
<input type="radio"/>	<input type="radio"/>	<input type="radio"/>	<input type="radio"/>	
حيوانات تعيش في الماء			من مخطط قن المجاور الذي يوضح تصنيف بعض الحيوانات التي تعيش في اليابسة فقط	
حيوانات تعيش على اليابسة				
القط	السلحفاء	الأخطبوط		
الأسد	البطريق	السماك		
القط والأسد		السلحفاء والبطريق		٢
الأسد والسماك	القط والأسد	القط والأسد والبطريق	السلحفاء والبطريق	
<input type="radio"/>	<input type="radio"/>	<input type="radio"/>	<input type="radio"/>	

انتهت الأسئلة ،،،،

السؤال الأول :

أوجد الناتج

٣٧ ١٢٣

١٣ ٢٩٤ +

٥٠ ٤١٧

السؤال الثاني اختر الإجابة الصحيحة بوضع (✓) .

العدد الأقرب إلى الناتج التقديري لـ ١٣ ٤٠٠ - ٥٣ ٨١٠				
٤٠٠ ٠٠٠	٣٠ ٠٠٠	٤٠ ٠٠٠	١٠ ٠٠٠	١
<input type="radio"/>	<input type="radio"/>	<input checked="" type="radio"/>	<input type="radio"/>	
حيوانات تعيش على اليابسة		حيوانات تعيش في الماء		٢
من مخطط قن المجاور الذي يوضح تصنيف بعض الحيوانات الحيوانات التي تعيش في اليابسة فقط				
القط	السلحفاء	الأخطبوط	السماك	
الأسد	البطريق			
السلحفاء والبطريق	القط والأسد والسلحفاء والبطريق	القط والأسد	الأخطبوط والسماك	
<input type="radio"/>	<input checked="" type="radio"/>	<input type="radio"/>	<input type="radio"/>	

انتهت الأسئلة ،،،،

السؤال الأول :

أوجد الناتج

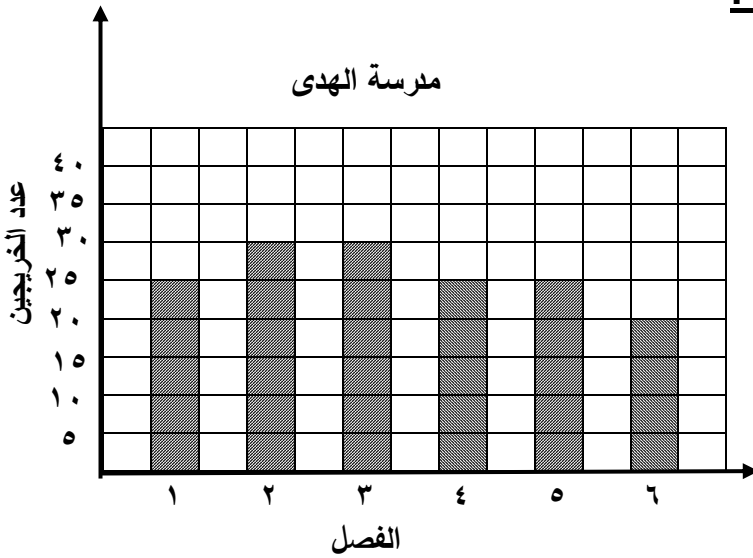
١٥٧ ٥٩٠

٣٨ ٣٠٢ -

السؤال الثاني اختر الإجابة الصحيحة بوضع (✓)

يوضح الشكل البياني عدد الخريجين في كل فصل

من فصول الصف الخامس في مدرسة الهدى



١ يبلغ عدد الخريجين في الفصل ٦

٢٥

٢٠

٣٥

٣٠

١

٢ يزيد عدد الخريجين في الفصل ٣ عن عدد الخريجين في الفصل ٤ بـ

٨ خريجين

٦ خريجين

١٠ خريجين

٥ خريجين

٢

انتهت الأسئلة ،،،

السؤال الأول :

أوجد الناتج

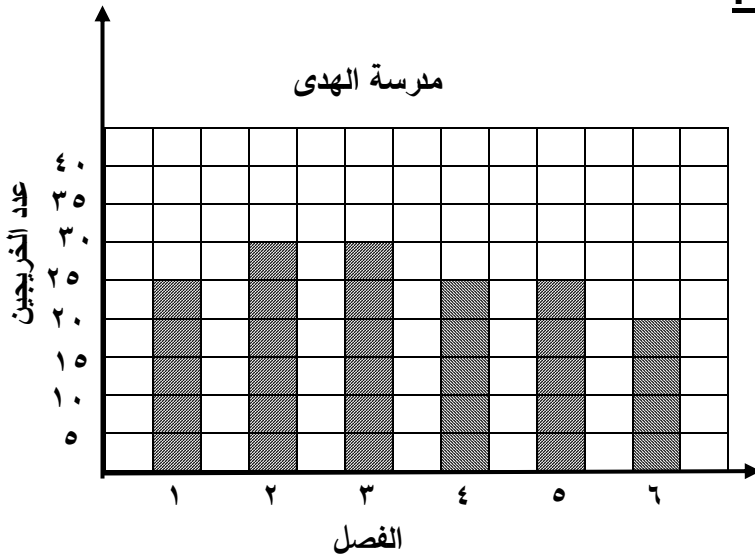
١٥٧ ٥٩٠

- ٣٨ ٣٠٢

١١٩ ٢٨٨

السؤال الثاني اختر الإجابة الصحيحة بوضع (✓)

يوضح الشكل البياني عدد الخريجين في كل فصل  
من فصول الصف الخامس في مدرسة الهدى



١ يبلغ عدد الخريجين في الفصل ٦

٢٥



٢٠



٣٥



٣٠



١

٢ يزيد عدد الخريجين في الفصل ٣ عن عدد الخريجين في الفصل ٤ بـ

٨ خريجين



٦ خريجين



١٠ خريجين

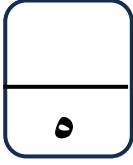


٥ خريجين



٢

انتهت الأسئلة ،،،

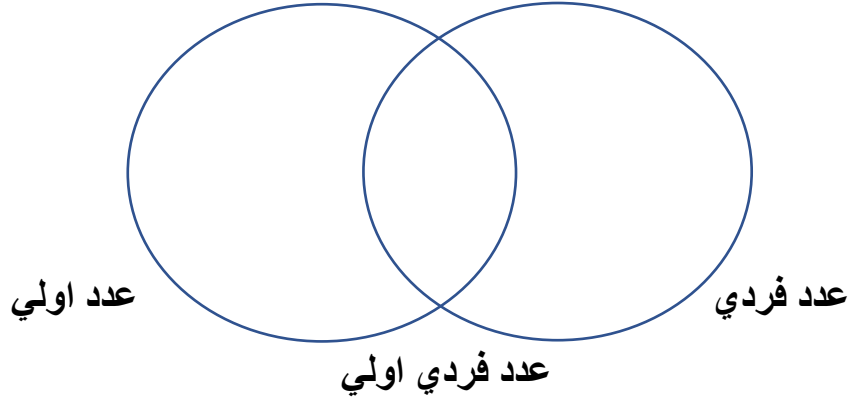


نموذج ٣ اختبار تقويمي (٢)  
في مادة الرياضيات للصف الرابع  
الفصل الدراسي الثاني للعام الدراسي ٢٠٢٤ / ٢٠٢٥



### السؤال الأول :

اكتب الاعداد ٢، ٩، ١١، ١٣، ١٥، ٢٣ في المكان المناسب في مخطط فن التالي



### السؤال الثاني :

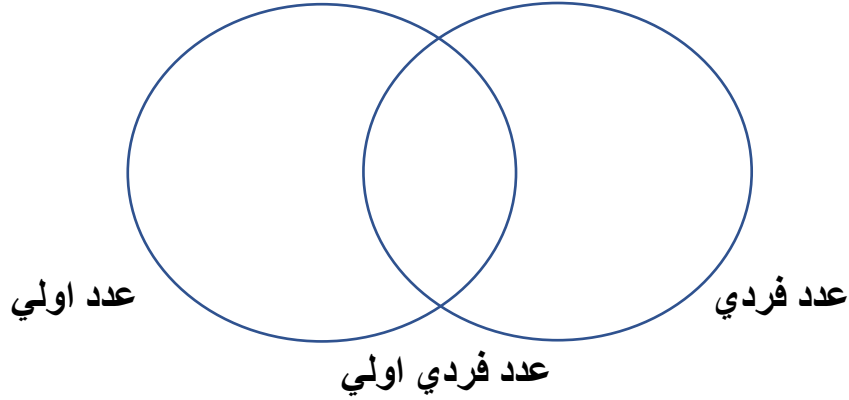
ظل  إذا كانت العبارة صحيحة، و ظل  إذا كانت العبارة خطأ

<input checked="" type="checkbox"/>	<input type="checkbox"/>	١ ناتج جمع العددين ١٦٩١٥، ٢١١٠٥ يساوي ٣٨٠٢٠
<input checked="" type="checkbox"/>	<input type="checkbox"/>	٢ ناتج طرح ٦٠٠٠٠٠ من ٧٠٠٠٠٠ يساوي ١٠٠٠٠

انتهت الأسئلة ،،،

السؤال الأول :

اكتب الاعداد ٢، ٩، ١١، ١٣، ١٥، ٢٣ في المكان المناسب في مخطط فن التالي



السؤال الثاني :

ظل  إذا كانت العبارة صحيحة، و ظل  إذا كانت العبارة خطأ

<input type="checkbox"/>	<input checked="" type="checkbox"/>	١ ناتج جمع العددين ١٦٩١٥، ٢١١٠٥ يساوي ٣٨٠٢٠
<input checked="" type="checkbox"/>	<input type="checkbox"/>	٢ ناتج طرح ٦٠٠٠٠٠ من ٧٠٠٠٠٠ يساوي ١٠٠٠٠

انتهت الأسئلة ،،،