

تم تحميل هذا الملف من موقع المناهج الكويتية



مدرسة التميز النموذجية

الملف الاختبارات التجريبية مادة الجغرافيا

موقع المناهج ← ملفات الكويت التعليمية ← الصف الثاني عشر الأدبي ← جغرافيا ← الفصل الثاني

روابط مواقع التواصل الاجتماعي بحسب الصف الثاني عشر الأدبي



روابط مواد الصف الثاني عشر الأدبي على تلغرام

[الرياضيات](#)

[اللغة الانجليزية](#)

[اللغة العربية](#)

[التربية الاسلامية](#)

المزيد من الملفات بحسب الصف الثاني عشر الأدبي والمادة جغرافيا في الفصل الثاني

مراجعة للفصل الثاني	1
دليل قضايا البيئة والتنمية المعاصرة الالكتروني في مادة الجغرافيا	2
ملخص رائع في مادة الجغرافيا	3
نماذج اسئلة في مادة الجغرافيا	4
اسئلة اختبارات واحاباتها النموذجية في مادة الجغرافيا	5



مدرسة التميز النموذجية ابتدائي - متوسط - ثانوي

الاختبارات التجريبية

مادة الجغرافيا

الصف الثاني عشر أدبي



2026 / 2025
الفصل الدراسي الثاني

نموذج امتحان تجريبي 1 لنهاية الفترة الدراسية الثانية 2026

قضايا البيئة والتنمية المعاصرة للصف الثاني عشر / الأدبي

*- اجب عن جميع الأسئلة التالية

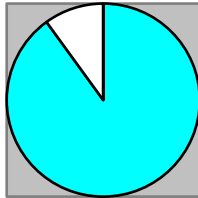
السؤال الأول (إجباري) ويتكون من (أ-ب-ج)

أ. أكمل العبارات التالية بما يناسبها فيما درست

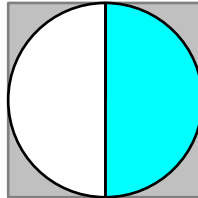
1. عدد الأفراد التي أدت أعاصير بنجلاديش عام 1991م إلى وفاتهم هو
2. العالم الذي يرجع إليه تعبير الجغرافيا السياسية واسس الجغرافيا السياسية اسمه
3. درجة التلوث الذي لا يكون مصحوباً بأي أخطار أو مشاكل بيئية يسمى
4. المنهج الذي يقوم على تحليل الدولة من عدة جوانب مثل الفكرة السياسية يسمى
5. الجهاز الرئيسي الذي يحتوي على قاعدة البيانات والخرائط وكافة البرمجيات
6. تكمن أهمية طبقة الأوزون في إنها تعمل على امتصاص وترشيح اسمها

ب. اختر الإجابة الصحيحة من بين البدائل التي تلي كل عبارة وضع خطأ تحتها

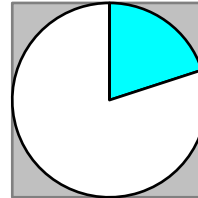
1. يعيش اقل من 50% من سكان العالم شمالا وجنوبا بين دائرتي عرض
أ-صفر - 20 ب- 20 - 40 ج- 40 - 60 د- 60 - 90
2. الغاز الذي يشكل نسبة 78% من مكونات الغلاف الجوي اسمه
أ- النيتروجين ب- الأوكسجين ج- الميثان د- ثاني أكسيد الكربون
3. شهدت نظم المعلومات الجغرافية تطورا كبيرا منذ منتصف الخمسينيات ونجحت في كثير من الدول المتقدمة على رأسها دولة تسمى
أ- كندا ب- الصين ج- الولايات المتحدة الأمريكية د- الأرجنتين
4. الجزء المظلل من الدائرة البيانية لنسبة الغلاف المائي من مساحة الكرة الأرضية يمثله الحرف



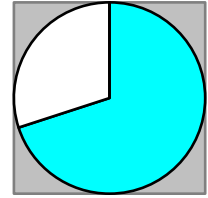
د



ج



ب



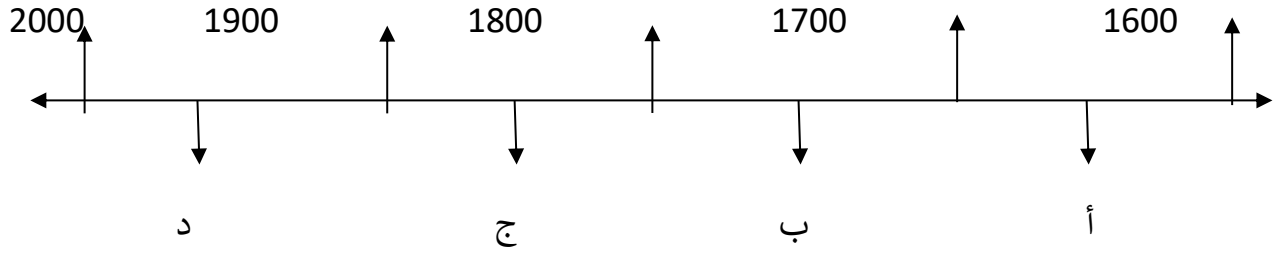
أ

5. جملة عدد السكان مقسومة على جملة مساحة الأراضي الزراعية

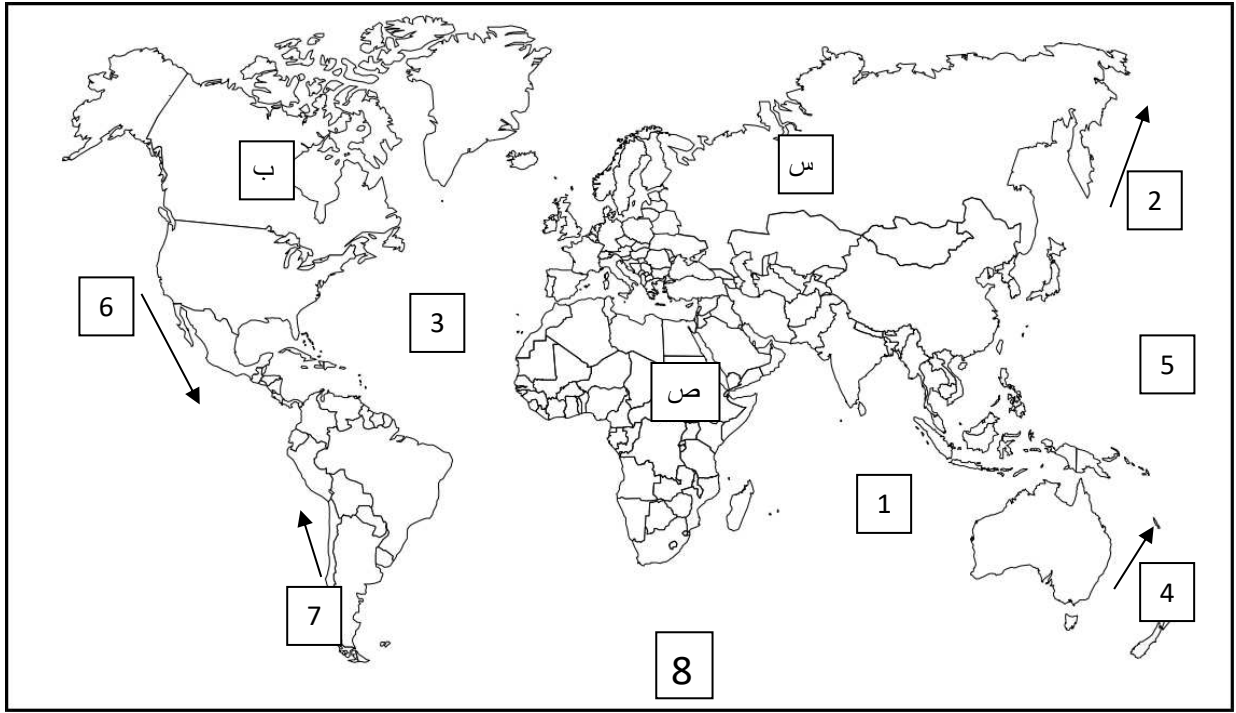
- أ-الاقتصادية ب-الزراعية ج-الفيزيولوجية د-العامة



6. الفترة الزمنية التي هدم فيها السور الاول لمدينة الكويت يمثلها على الخط الزمني التالي الحرف

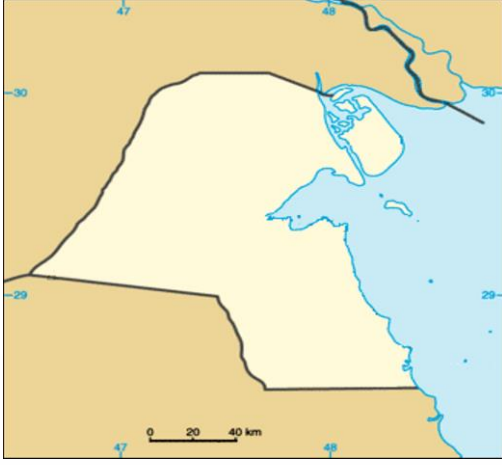


ج. لاحظ الخريطة التي إمامك ثم استعن بالمدلولات التي تليها لإكمال العبارات التالية



1. القارة التي تم تهجير عمالتها إلى الأمريكتين للعمل والإقامة الدائمة يمثلها على الخريطة الحرف.....
2. المنطقة التي اكتشف العلماء فيها فجوة الأوزون يمثلها على الخريطة الرقم.....
3. المحيط الهندي يمثله على الخريطة الرقم.....
4. تيار كاليفورنيا البارد يمثله على الخريطة الرقم.....
5. الدولة التي انفجر فيها المفاعل النووي تشرنوبل يمثلها على الخريطة الحرف.....

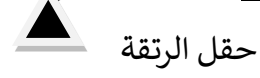





السؤال الثاني: ((اجباري)) ويتكون من (أ - ب - ج)

أ. لاحظ خريطة دولة الكويت التي أمامك ثم اجب عن

الأسئلة التالية 1. حدد المطلوب باستخدام الرموز التالية



حقل الرتقة



حقل الروضتين

2. دال على أن مشكلة التلوث التي حدثت للكويت نتيجة

حرق آبار النفط عالمية وليست إقليمية

.....

ب. فرق بين كل مما يلي من حيث المفهوم

الهجرة العالمية	الهجرة الدولية
.....
الكثافة الصافية	الكثافة العامة
.....

ج. علل لما يلي

1. تلوث المياه العذبة السطحية والجوفية

أ.
مدرسة التميز النموذجية

ب.

ج.
(ابتدائي - متوسط - ثانوي)

2. ما مصادر التلوث الضوضائي

أ.

ب.



السؤال الثالث: (اجباري) ويتكون من (أ - ب - ج)

أ. ادرس الجدول الذي أمامك والذي يمثل (عددا من السمات لعام 2005) ثم اجب عما يليه من أسئلة

1. استخرج حقيقة من الجدول

الأقاليم	معدل المواليد	معدل الوفيات
العالم	21.1	9
البلدان العربية	28.2	6.8
بلدان الاسكوا	29.2	5.9

2. حول معدل الوفيات فقط إلى رسم بياني

ب. قارن بين كل مما يلي حسب ما هو مطلوب منك بالجدول التالي

أوجه المقارنة	العمران الريفي (القرية)	العمران المدني (المدنية)
الوحدات السكنية
الأنشطة الاقتصادية

(ابتدائي - متوسط - ثانوي)

ج- اكتب فيما يلي

1. النتائج المترتبة على الانفجار السكاني

.....
.....

2. المخطط الهيكل الثاني (قام بوضعه الخبير البريطاني كولن بوكانن)

أ-.....

ب-.....



السؤال الرابع: ((اجباري)) ويتكون من (أ - ب - ج)



أ- اجب على الأسئلة التالية

1. الخريطة المقابلة تمثل منظمة إقليمية هي

.....

.....

2. أذكر أهداف هذه المنظمة

..... أ.

..... ب.

ب. برهن على صحة العبارات التالية

1. لحقت بالمياه الكويتية عدة أضرار بيئية جراء الغزو العراقي البائد

..... أ.

..... ب.

2. الدوافع الاقتصادية كانت سببا في نشأة كثير من المدن

.....

.....

ج- بما تفسر العبارات التالية

1. للتلوث الهوائي آثار بشرية

..... أ.

..... ب.

..... ج.

2. البيوت في مدينة الكويت القديمة كانت تبنى متقاربة من بعضها

..... أ.

..... ب.



*-اجب عن جميع الأسئلة التالية

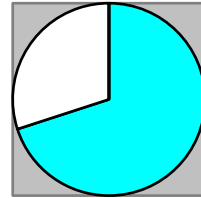
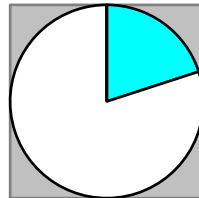
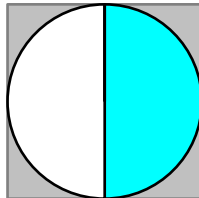
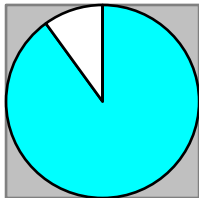
السؤال الأول ويتكون من (أ-ب-ج)

أ. أكمل العبارات التالية بما يناسبها فيما درست

1. عدد الأفراد التي أدت أعاصير بنجلاديش عام 1991م إلى وفاتهم هو 100 ألف فرد....
2. العالم الذي يرجع إليه تعبير الجغرافيا السياسية واسس الجغرافيا السياسية اسمه.....كانت.....
3. درجة التلوث الذي لا يكون مصحوباً بأي أخطار أو مشاكل بيئية يسمى ...المقبول....
4. المنهج الذي يقوم على تحليل الدولة من عدة جوانب مثل الفكرة السياسية يسمىجونز (المجال الموجة)
5. الجهاز الرئيسي الذي يحتوي على قاعدة البيانات والخرائط وكافة البرمجيات.. الخادم ...
6. تكمن أهمية طبقة الأوزون في إنها تعمل على امتصاص وترشيح اسمها... فوق البنفسجية..

ب- اختر الإجابة الصحيحة من بين البدائل التي تلي كل عبارة وضع خطأ تحتها

1. يعيش اقل من 50% من سكان العالم شمالا وجنوبا بين دائرتي عرض
أ-صفر – 20 ب- 20 – 40 ج- 40 – 60 د – 60 – 90
2. الغاز الذي يشكل نسبة 78 % من مكونات الغلاف الجوي اسمه
أ- النيتروجين ب- الأوكسجين ج- الميثان د- ثاني أكسيد الكربون
3. شهدت نظم المعلومات الجغرافية تطورا كبيرا منذ منتصف الخمسينيات ونجحت في كثير من الدول المتقدمة على رأسها دولة تسمى
أ- كندا ب- الصين ج- الولايات المتحدة الأمريكية د- الأرجنتين
4. الجزء المظلل من الدائرة البيانية لنسبة الغلاف المائي من مساحة الكرة الأرضية يمثله الحرف



د

ج

ب

أ

- 5.- جملة عدد السكان مقسومة على جملة مساحة الأراضي الزراعية

د-العامة

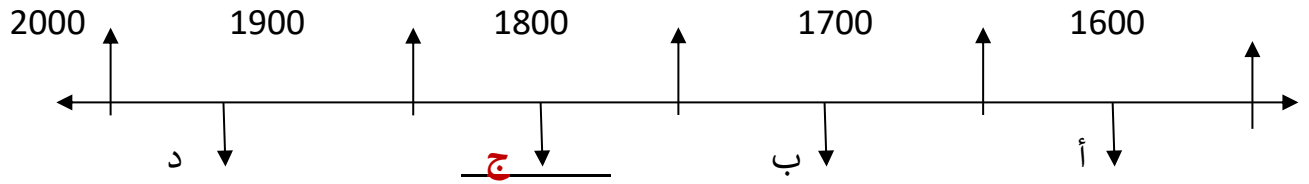
ج-الفيزيولوجية

ب-الزراعية

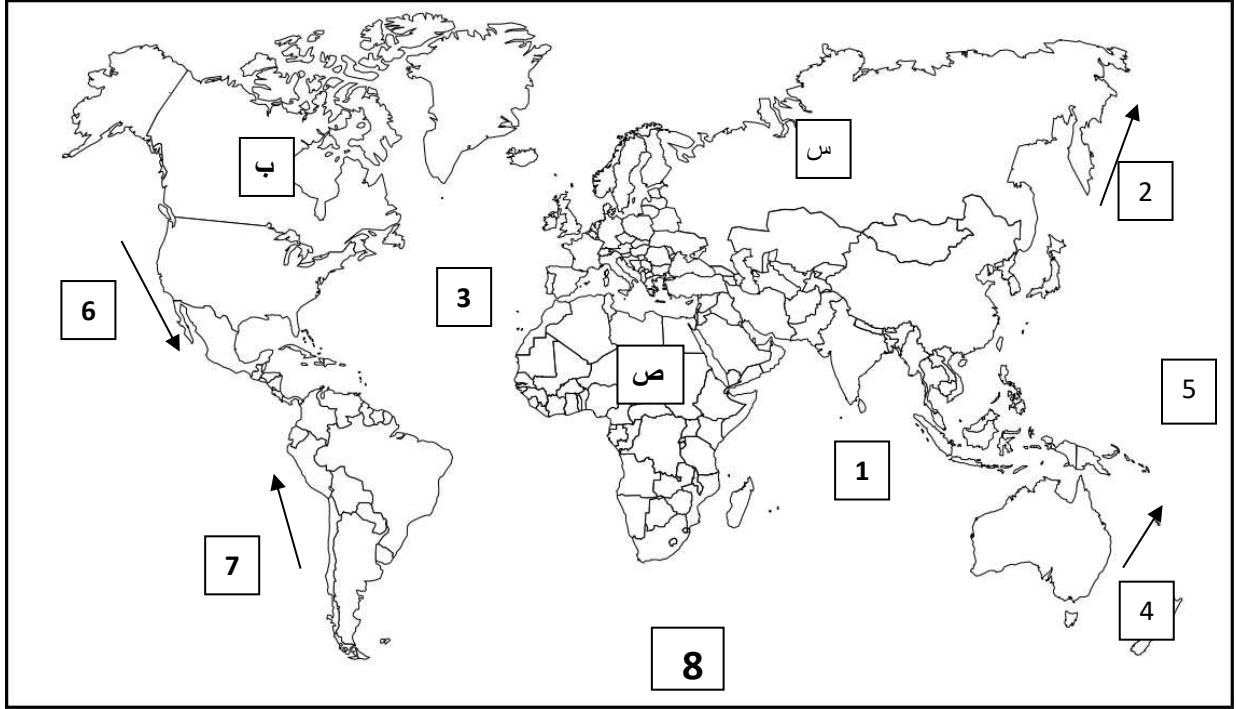
أ-الاقتصادية



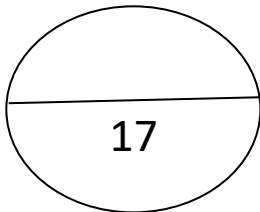
6. الفترة الزمنية التي هدم فيها السور الاول لمدينة الكويت يمثلها على الخط الزمني التالي الحرف



ج- لاحظ الخريطة التي إمامك ثم استعن بالمدلولات التي تليها لإكمال العبارات التالية



1. القارة التي تم تهجير عمالتها إلى الأمريكتين للعمل والإقامة الدائمة يمثلها على الخريطة الحرف...ص.
2. المنطقة التي اكتشف العلماء فيها فجوة الأوزون يمثلها على الخريطة الرقم 8......
3. المحيط الهندي يمثل على الخريطة الرقم 1......
4. تيار كاليفورنيا البارد يمثل على الخريطة الرقم 6......
5. الدولة التي انفجر فيها المفاعل النووي تشيرنوبل يمثلها على الخريطة الحرف .. س.....





السؤال الثاني: ((اجباري)) ويتكون من (أ - ب - ج)

أ. لاحظ خريطة دولة الكويت التي أمامك ثم اجب عن

الأسئلة التالية

1. حدد المطلوب باستخدام الرموز التالية

▲ حقل الرتقة (درجة)

● حقل الروضتين (درجة)

2. دلل على أن مشكلة التلوث التي حدثت للكويت نتيجة

حرق آبار النفط عالمية وليست إقليمية (درجة)

وصلت سحب الدخان الأسود إلى سواحل اليونان بعد عبورها البحر الأسود وبذلك هددت بعض دول هذه المنطقة مثل رومانيا وبلغاريا

ب- فرق بين كل مما يلي من حيث المفهوم

الهجرة العالمية	الهجرة الدولية
تحدث بين قارة وأخرى حيث ينتقل الأفراد من قارة إلى أخرى للإقامة الدائمة	تحدث بين دولة وأخرى حيث ينتقل الأفراد من دولة إلى أخرى للعمل
الكثافة الصافية	الكثافة العامة
جملة عدد السكان مقسومة على جملة المساحات المسكونة فعلياً في الإقليم	جملة عدد السكان مقسومة على جملة مساحة الإقليم

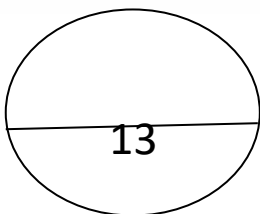
ج. علل لما يلي

1. تلوث المياه العذبة السطحية والجوفية

- تعرض المياه السطحية للتلوث
- التخلص من نفايات المصانع
- قصور خدمات الصرف الصحي
- استخدام الأسمدة الصناعية والمبيدات الحشرية

2 ما مصادر التلوث الضوضائي

1. وسائل النقل المختلفة وخاصة الطائرات - عمليات البناء والإنشاءات
2. الأجهزة المنزلية المختلفة - الضوضاء الناتجة عن الصناعة



السؤال الثالث: ((اجباري)) ويتكون من (أ - ب - ج)

أ. ادرس الجدول الذي أمامك والذي يمثل (عددا من السمات لعام 2005) ثم اجب عما يليه من أسئلة

الأقاليم	معدل المواليد	معدل الوفيات
العالم	21.1	9
البلدان العربية	28.2	6.8
بلدان الاسكوا	29.2	5.9

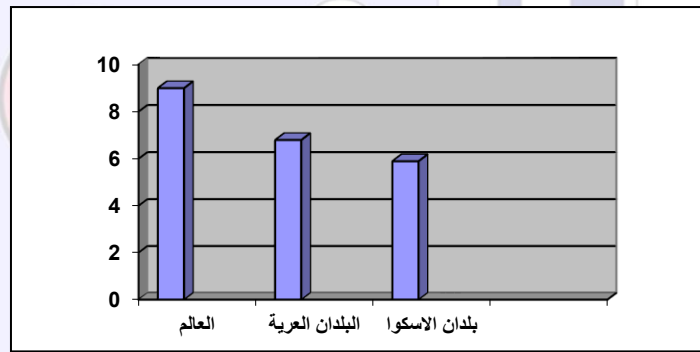
1. استخراج حقيقة من الجدول (درجة)

...معدل الوفيات في الدول العربية تبلغ حوالي 6.8

2. حول معدلات الوفيات فقط إلى رسم بياني (أعمدة بيانية)

(أربع درجات) درجة للرسم (كل عمود درجة)

3.



ب- قارن بين كل مما يلي حسب ما هو مطلوب منك بالجدول التالي

أوجه المقارنة	العمران الريفي (القرية) (درجتان)	العمران المدني (المدنية) (درجتان)
الوحدات السكنية	...منفردة وارتفاعها لا يتعدى طابق أو طابقين....	...ارتفاع الوحدات السكنية وتعرف بناطحات السحاب..
الأنشطة الاقتصادية	الزراعة - الرعي (درجة)	الصناعة - التجارة (درجة)

ج- اكتب فيما يلي

1. النتائج المترتبة على الانفجار السكاني

- ضغط شديد على الموارد

- سرعة استنزاف الموارد

- مشكلات بيئية واجتماعية واقتصادية

2. - المخطط الهيكل الثاني (قام بوضعه الخبير البريطاني كولن بوكانن)

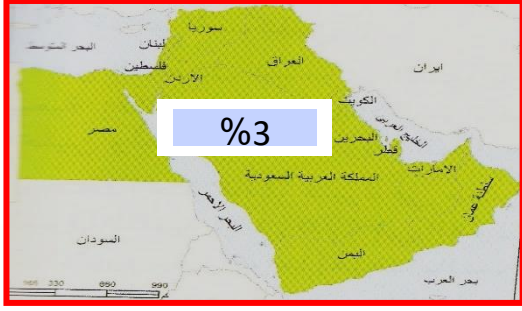
1. خطة قصيرة المدى: تشمل الاهتمام بالمناطق الممتدة من مركز المدينة إلى منطقة الفحيحيل جنوباً ومن

مركز المدينة إلى الجهراء غرباً

2. خطة طويلة المدى: تشمل إنشاء مدن ومناطق سكنية جديدة خارج الحزام الحضري

السؤال الرابع: ((اجباري)) ويتكون من (أ - ب - ج)

أ) اجب على الأسئلة التالية



1. الخريطة المقابلة تمثل منظمة إقليمية هي هي لجنة الأمم المتحدة الاقتصادية والاجتماعية لغربي آسيا تأسست عام 1973م الذي أطلق عليها الاسكوا

2. أذكر أهداف هذه المنظمة

1. دعم التعاون الاقتصادي والاجتماع
2. تحقيق التكامل الإقليمي
3. توحيد السياسات القطاعية

ب. برهن على صحة العبارات التالية

1. لحقت بالمياه الكويتية عدة أضرار بيئية جراء الغزو العراقي البائد

- التأثير على عملية تحليه المياه
 - هجرت الكائنات الحية من مياه الخليج العربي
 - التآثير على الأحياء المائية والأسماك
 - موت الكثير من الكائنات الحية في المياه
 - تدمير الشعب المرجانية
 - تلوث المياه الجوفية
2. الدوافع الاقتصادية كانت سببا في نشأة كثير من المدن يوجد العديد من الدوافع الاقتصادية وراء إنشاء العديد من المدن وتتمثل في الزراعة والصناعة والتعدين والسياحة والتصدير مثل مدينة الأحمدى في الكويت قامت على استخراج وتصدير النفط ومدينة المحلة الكبرى في مصر صناعة الغزل والنسيج ومدينة دبي في الإمارات على التجارة ومدينة الأقصر في مصر على السياحة

ج- بما تفسر العبارات التالية

1. للتلوث الهوائي اثار بشرية

- زيادة الأمراض لسكان المدن والمناطق الصناعية - ارتفاع معدلات الوفيات

- انخفاض الإنتاجية الزراعية بسبب زيادة تركيز الغازات

2. البيوت في مدينة الكويت القديمة كانت تبنى متقاربة من بعضها

- توفير الظل - منع العواصف الترابية الرملية - تقي من الحر - تسمح بمرور الهوا



مدرسة التميز النموذجية
ابتدائي - متوسط - ثانوي

عندما يكون تعليم أبنائكم
اهتمامكم الأول في الحياة

قنواتنا على تليجرام



الصف الرابع



الصف الثالث



الصف الثاني



الصف الأول



الصف الثامن



الصف السابع



الصف السادس



الصف الخامس



صف 11 أدبي



صف 11 علمي



الصف العاشر



الصف التاسع



صف 12 أدبي



صف 12 علمي

