

تم تحميل هذا الملف من موقع المناهج الكويتية



مدرسة القطوف النموذجية

الملف ملخص أسئلة من الصفحة 16 وحتى الصفحة 46

[موقع المناهج](#) ← [المناهج الكويتية](#) ← [الصف الرابع](#) ← [اجتماعيات](#) ← [الفصل الأول](#)

روابط مواقع التواصل الاجتماعي بحسب الصف الرابع



روابط مواد الصف الرابع على تلغرام

[الرياضيات](#)

[اللغة الانجليزية](#)

[اللغة العربية](#)

[التربية الاسلامية](#)

المزيد من الملفات بحسب الصف الرابع والمادة اجتماعيات في الفصل الأول

مسودة كتاب الطالب في مادة الاجتماعيات	1
الوحدة الاولى في مادة الاجتماعيات لعام	2
مراجعة عامة في مادة الاجتماعيات	3
تدريبات مهمة في مادة الاجتماعيات لعام	4
اوراق عمل مهمة في مادة الاجتماعيات	5

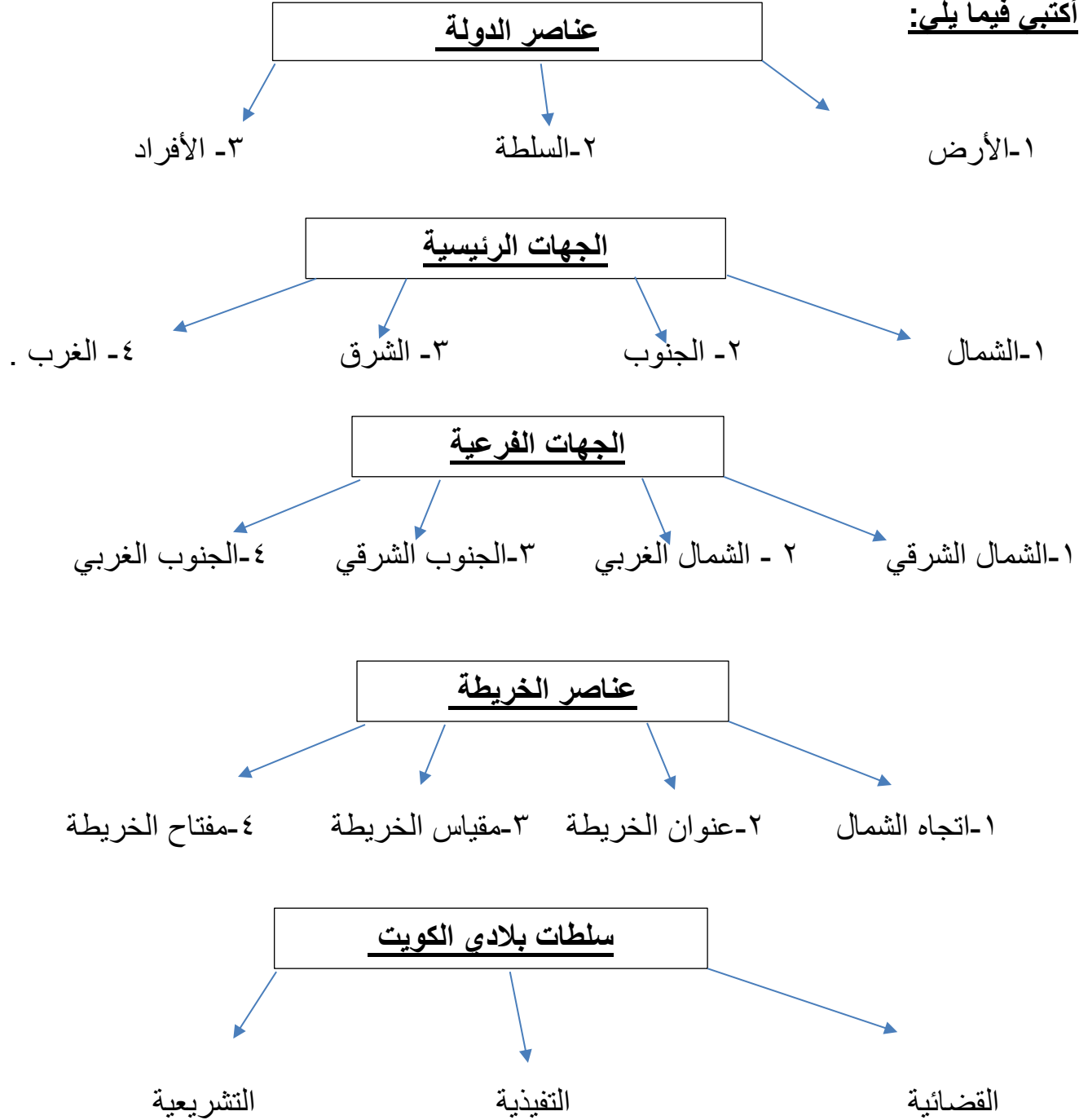
أكمل ما يلي بما يناسبه مما درست:

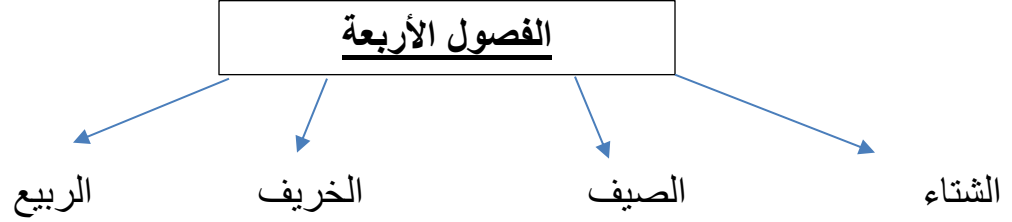
- الرئيس الأعلى للدولة ورئيس السلطات الثلاث هو الشيخ صباح الأحمد حفظه الله .
- السلطة التشريعية في بلادي الكويت متمثلة في مجلس الأمة.
- السلطة التنفيذية في بلادي الكويت متمثلة في الحكومة.
- السلطة القضائية في بلادي الكويت متمثلة في المحاكم.
- عدد أعضاء مجلس الأمة هو ٥٠ عضوا .
- الفترة التي يتم انتخاب أعضاء مجلس الأمة هي كل أربع سنوات .
- الجهة الفرعية لاتجاه القبلة في بلادي الكويت هي الجنوب الغربي.
- تبلغ مساحة بلادي الكويت حوالي ١٧,٨١٨ كم ٢ .
- دولة تحد بلادي الكويت من جهتي الشمال والشمال الغربي تسمى العراق.
- دولة تحد بلادي الكويت من جهتي الجنوب والجنوب الغربي تسمى السعودية.
- أكبر الخيران في شمال الخليج العربي يسمى جون الكويت .
- الدولة التي انتقل إليها آل صباح بعد انتقالهم من الهدار تسمى شبه جزيرة قطر .
- المسطح المائي الذي يحد دولة الكويت من جهة الشرق يسمى الخليج العربي.
- يبلغ عد جزر الكويت حوالي ٩ جزر .
- الجزيرة المأهولة بالسكان في بلادي الكويت تسمى جزيرة فيلكا .
- المدرسة التي افتتحت في عهد الشيخ أحمد الجابر الصباح تسمى مدرسة الأحمدية .
- أكبر جزر بلادي الكويت تسمى بوبيان .
- جزيرة من جزر بلادي الكويت تقع داخل جون الكويت بالقرب من رأس عشيرج تسمى جزيرة أم النمل .
- الحد الفاصل بين الحدود الكويتية , العراقية , السعودية يسمى وادي الباطن .
- سهل يقع غرب بلادي الكويت يسمى سهل الدبدبة .

تلال تقع شمال بلادي الكويت تسمى تلال جال الزور .

مُنَاخ تقع ضمنه بلادي الكويت يسمى الصحراوي الحار .

أكتبى فيما يلى:





ما فائدة الاتجاهات الرئيسية والفرعية

- ١- التعرف إلى مواقع بلادي
- ٢- التعرف إلى اتجاه القبلة .
- ٣- التعرف على الدول التي تحيط بنا .
- ٤- التعرف على اتجاه الخليج بالنسبة لبلادي.

مميزات سطح بلادي الكويت

- ١- سطح مستو (الاستواء).
- ٢- ينحدر تدريجيا من الغرب إلى الشرق.
- ٣- يتكون من السهول الرملية والتلال.
- ٤- وجود ساحل رملي منبسّط قليل التعاريج.

أهمية موقع بلادي الكويت :

- وسط العالم .
- المعبر التجاري بين خطوط الملاحة البرية والبحرية قديما .
- تقع في الجزء الشرقي للوطن العربي .
- تقع في الطرف الشمالي الغربي للخليج العربي.
- المنفذ الشمالي الشرقي لشبه الجزيرة العربية .

أهم ما يميز تضاريس بلادى الكويت :

- بارزة ووعرة .
- تنحدر من الغرب إلى الشرق .
- وجود الأودية والسهول والتلال .

اذكري مناخ بلادى الكويت .

- حار جاف صيفا .
- بارد قليل الأمطار شتاء .

على : حدوث الفصول الأربعة.

- بسبب دوران الأرض حول الشمس مرة كل سنة .

تسمية الكويت بهذا الاسم .

تصغير كلمة كوت

هجرة العتوب من الهدار إلى نجد .

بسبب الجفاف والقحط

اختيار الشيخ صباح بن جابر حاكما لبلادى الكويت .

- ١-صفاته القيادية .
- ٢-حكيمته ونظرته الثاقبة .رلاى

دور آل صباح فى إنماء وازدهار الكويت .

- ١-نمو وازدهار التجارة .
- ٢-أصبحت الكويت أرضا جاذبة للسكان .

عرفى ما يلى:

الدولة : مجموعة من الأفراد يعيشون على قطعة أرض محددة وتنظمهم السلطة.

الخور: لسان بحري ممتد داخل الأرض.

الرأس: لسان من اليابس يمتد داخل الماء .

السهل : أرض مستوية المساحة وواسعة

التضاريس: أشكال سطح الأرض من مرتفعات ومنخفضات .

الوادي : منخفض طولي بين منطقتين مرتفعتين.

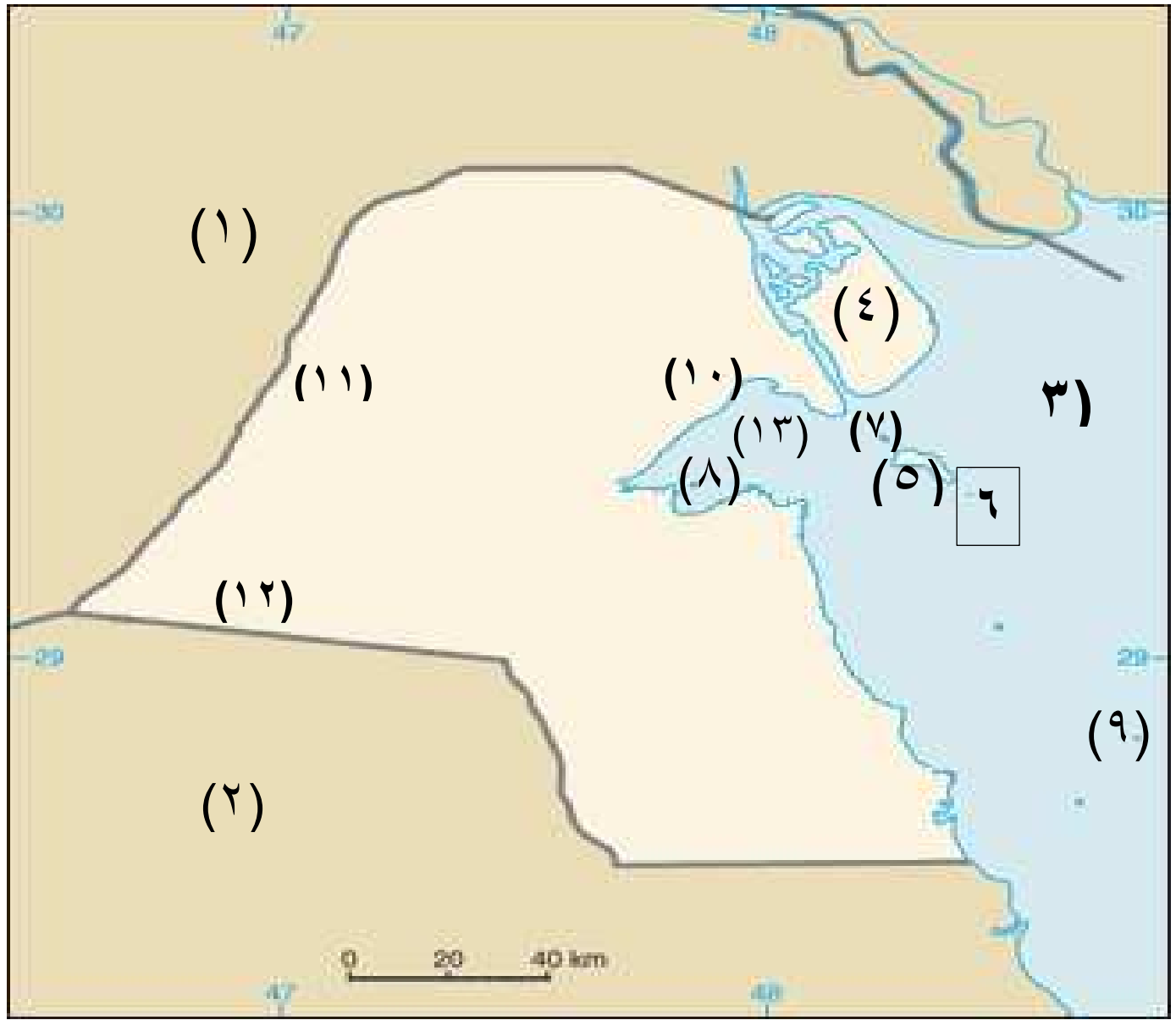
التل: أرض مرتفعة قليلا عن مستوى الأراضي المحيطة بها .

البحر: مسطح مائي كبير ومياهه مالحة .

الطقس: حالة الجو لفترة قصيرة من يوم إلى أسبوع وهو متغير وغير ثابت.

المناخ: حالة الجو لفترة طويلة لا تقل عن ثلاثين عاما .

شبه جزيرة : مساحة من اليابس يحيط بها الماء من ثلاث جهات فقط.



- الرقم (١) على الخريطة يشير إلى دولة تسمى العراق
- الرقم (٢) على الخريطة يشير إلى دولة تسمى المملكة العربية السعودية.
- الرقم (٣) على الخريطة يشير إلى مسطح مائي يسمى الخليج العربي.
- الرقم (٤) على الخريطة يشير إلى جزيرة تسمى بوبيان.

هذا الملخص لا يغني عن الكتاب المدرسي

- الرقم (٥) على الخريطة يشير إلى جزيرة تسمى فيلكا .
- الرقم (٦) على الخريطة يشير إلى جزيرة تسمى عوهة .
- الرقم (٧) على الخريطة يشير إلى جزيرة تسمى مسكان .
- الرقم (٨) على الخريطة يشير إلى جزيرة تسمى أم النمل .
- الرقم (٩) على الخريطة يشير إلى جزيرة تسمى قاروه
- الرقم (١٠) على الخريطة يشير إلى تل يسمى تل جال الزور .
- الرقم (١١) على الخريطة يشير إلى وادي يسمى وادي الباطن .
- الرقم (١٢) على الخريطة يشير إلى سهل يسمى سهل الدبدبة
- الرقم (١٣) على الخريطة يشير إلى خور يسمى جون الكويت