

(أ) صنف ما يلي كلاً حسب موقعه في الجدول التالي : $٥ = ٥ \times ١$

(تجميع السيارات / مصادر الطاقة / الخشب / خامات المعادن / الورق)

| الصناعات التحويلية ص ١٤٢ | الصناعات التجميعية ص ١٤٣ | الصناعات الاستخراجية ص ١٤١ |
|--------------------------|--------------------------|-----------------------------------|
| - الخشب - الورق | - تجميع السيارات | - خامات المعادن - مصادر الطاقة |

(ب) أكمل العبارات التالية بما يناسبها مما درست : $٥ = ٥ \times ١$

- ١- زحف رمال الصحراء على المناطق الجافة وشبه الجافة مشكلة اسمها التصحر..... ص ١٦٢
- ٢- استضافت دولة الكويت القمة العربية الاقتصادية التنموية والاجتماعية عام ...٢٠٠٩م... ص ١٨٦
- ٣- القطاع الذي يشكل نسبة ٥٠% من الاقتصاد العربي في الاقطار غير المنتجة للنفط يسمى..الزراعي.. ص ١١٠
- ٤- الطبقة التي تحمي الأرض من الاشعاعات فوق البنفسجية الضارة تسمىالأوزون ص ١٦٩
- ٥- القارة التي يتوزع بها ٧٠% من سكان الوطن العربي تسمى أفريقيا ص ٩٩

(ج) أختار للمجموعة (ب) ما يناسبها من المجموعة (أ) وذلك بوضع الرقم في المكان المناسب :

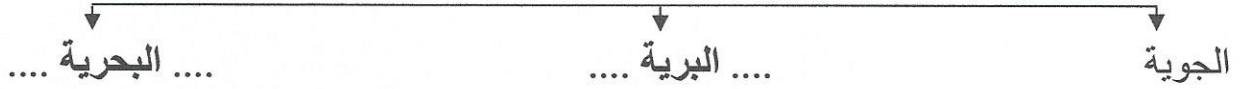
$٥ = ٥ \times ١$

| الرقم | المجموعة (أ) | المكان المناسب | المجموعة (ب) |
|-------|---|----------------|------------------------|
| ١ | القمح والشعير والارز تعتبر بالوطن العربي من | ٣ | الغلات الصناعية ص ١١٤ |
| ٢ | الحديد والنحاس والمنجنيز تعتبر بالوطن العربي من | - | الثروة الرعوية |
| ٣ | القطن والبن وقصب السكر تعتبر بالوطن العربي من | ٥ | الفواكة والأشجار ص ١١٤ |
| ٤ | الأسماك والمحار واللؤلؤ تعتبر بالوطن العربي من | ٢ | الثروة المعدنية ص ١٣٢ |
| ٥ | العنب والتمور والموز تعتبر بالوطن العربي من | ١ | الحبوب الغذائية ص ١١٤ |
| | | ٤ | الثروة المائية ص ١٢٢ |

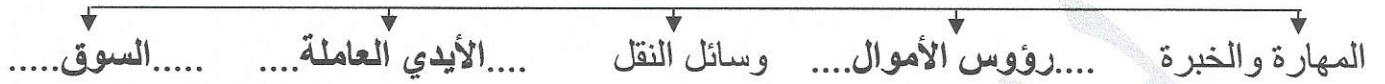
السؤال الثاني : يتكون من (أ - ب - ج)

(أ) أكمل الفراغ في المخططات السهمية التالية بما يناسبها : $٥ = ٥ \times ١$

١- طرق النقل في الوطن العربي . ص ١٤٧



٢- المقومات البشرية للصناعة بالوطن العربي . ص ١٣٩



(ب) اختر الأكمال المناسب للعبارات التالية من بين الخيارات التي تلي كلا منها وضع تحتها خط : $٥ = ٥ \times ١$

١- عقدت المؤتمرات الدولية الثلاثة للمانحين لدعم الوضع الإنساني في سوريا بدولة اسمها : ص ١٨٩


أ- الكويت ب- السودان ج- البحرين د- العراق

٢- صندوق أوظيفي للتنمية تأسس في عام : ص ١٧٩

أ- ١٩٧٠م ب- ١٩٧١م ج- ١٩٧٢م د- ١٩٧٣م

٣- أشهر العلماء العرب في خارج الوطن العربي الدكتور : ص ١٧٦

أ - أحمد شوقي ب- طه حسين ج- أحمد زويل د- حافظ إبراهيم

٤- الصورة التالية  تمثل إحدى حيوانات الثروة الرعوية في الوطن العربي يسمى : ص ١١٩

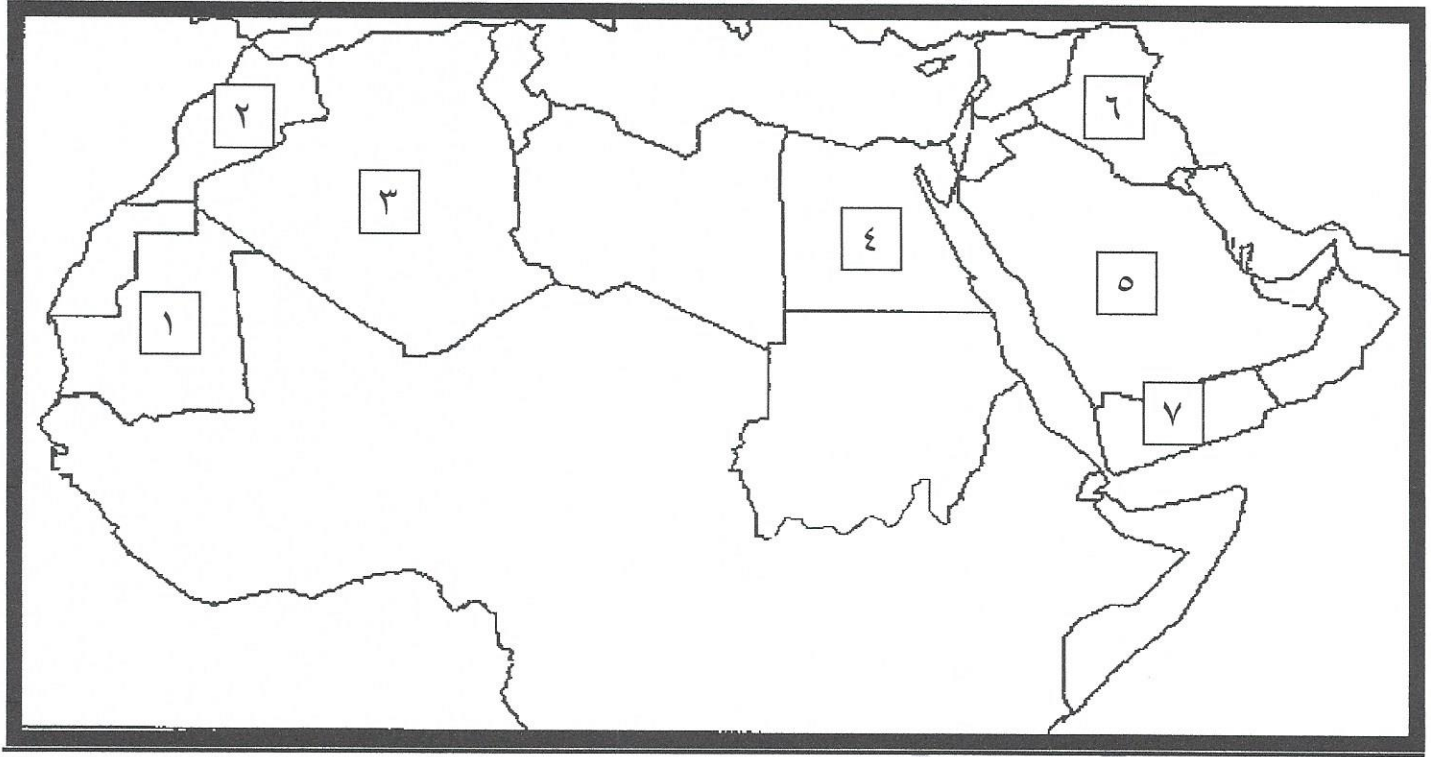
أ- الأغنام ب- الأبقار ج- الإبل د- الماعز

٥- عقدت قمة الأرض بالبرازيل عن مشكلة التلوث البيئي عام : ص ١٦٧

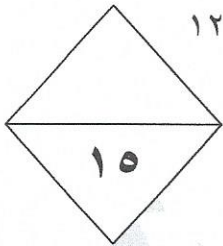
أ- ١٩٩١م ب- ١٩٩٢م ج- ١٩٩٣م د- ١٩٩٤م

يتبع الصفحة التالية

(ج) لاحظ خريطة الوطن العربي الصماء ثم اكتب الرقم الدال على كلاً مما يلي : ٥ = ٥ × ١



- الدولة العربية التي يوجد بها نهر الفرات على الخريطة يمثلها الرقم٦..... ص ١٤٩
- الدولة العربية التي تحتل المركز الاول في انتاج البن على الخريطة يمثلها الرقم٧..... ص ١١٤
- الدولة العربية التي تحتل المركز الاول في انتاج معدن الفوسفات على الخريطة يمثلها الرقم٢..... ص ١٣٢
- الدولة العربية التي تسهم بأكثر من ثلث الإنتاج العربي من الأسماك على الخريطة يمثلها الرقم٤..... ص ١٢٣
- الدولة العربية التي تحتل المركز الاول في احتياط النفط على الخريطة يمثلها الرقم٥..... ص ١٢٩



السؤال الثالث : يتكون من (أ - ب - ج) :

(أ) قارن بين كلاً مما يلي حسب المطلوب في الجدول التالي : ٥ = ٥ × ١

| | | |
|--|--------------------|-------------------|
| أوبك ص ١٣٥ | أوبك ص ١٣٤ | اوجه المقارنة |
| - ثلاث دول عربية . | - خمس دول عالمية . | عدد الدول المؤسسه |
| - دولة الكويت . | - مدينة فيينا . | المقر |
| - منظمتين للدول المصدرة للنفط . - عدد أعضائهما ١١ دولة . - تشترك بهما كل من الدول التالية الكويت والسعودية وقطر والعراق والامارات والجزائر . - في المنظمتين يوجد بهما جهاز الامانة العامة . (يكتفى بنقطة واحدة) | | التشابه بينهما |

٥ = ٥ × ١

(ب) بعد قراءة الفقرة التالية أجب عما يليها :

((يعد الصندوق الكويتي للتنمية الاقتصادية العربية أول مؤسسة للتنمية في الوطن العربي . تأسس في عهد الشيخ عبدالله السالم الصباح . بفكرة ودعم من صاحب السمو الراحل أمير القلوب رحمه الله حيث كان سموه وزيراً للمالية آنذاك . ويتبع الصندوق الكويتي للتنمية الاقتصادية العربية حالياً وزارة الخارجية بدولة الكويت .))

١- ما أسم صاحب فكرة تأسيس الصندوق الكويتي للتنمية الاقتصادية العربية ؟

- الشيخ جابر الأحمد الصباح ص ١٨٤

٢- ماذا يقصد بالتنمية ؟

- ... تعني التطور والتطوير وهي عملية تتطلب التخطيط والمشاركة من الجميع ... ص ١٧٢

٣- أي وزارة بدولة الكويت يتبع الصندوق الكويتي للتنمية الاقتصادية العربية ؟

- وزارة الخارجية ص ١٨٤

٤- عدد أهداف الصندوق الكويتي للتنمية الاقتصادية العربية ؟

- .. تقديم المساعدات اللازمة في حالات الكوارث والنكبات (يكتفى بنقطتين)

- .. يقوم بالمساهمة في تحقيق مشاريع التنمية الضرورية الخاصة بالمجالات الصحية الاجتماعية ...

- .. دعم قضايا الأمة العربية الإسلامية ص ١٨٤

٥ = ٥ × ١

(ج) أكتب فيما يلي مما درست :

١- طرق الحفاظ على ثروة المياه في الوطن العربي . ص ١٦٥

- ترشيد استخدام المياه والحد من التبذير في المنازل (يكتفى بثلاث نقاط)

- تطوير استعمال مياه الصرف الصحي المعالجة في الزراعة

- إقامة البحيرات والسدود لتجميع مياه الأمطار والسيول للاستفادة منها في فصل الجفاف

- ... الحد من هدر المياه في عمليات الري وذلك باستخدام الوسائل الحديثة كالرش بالتنقيط والمحوري

- توقيع اتفاقيات مع الدول المشاركة ودول المنبع لتحقيق مصالح الدول العربية المعنية

- تنظيم عملية الاستفادة من المياه الجوفية ومنع تسرب الإملح الملوثة إليها واستثمارها

على الوجه الأمثل

٢- أهداف الصناعات البتروكيمياوية في الوطن العربي . ص ١٤٥ (يكتفى بنقطتين)

- تنويع مصادر الدخل للدولة المنتجة


- توفير المواد الأولية للصناعات التحويلية لتأمين حاجات القطاعات الاستهلاكية

(خاصة مجال البناء)

- تطوير الصناعات البتروكيميائية إلى تقنيات متخصصة وعالية

يتبع الصفحة التالية

السؤال الرابع : يتكون من (أ - ب - ج) :



(أ) شاهد الصورة التالية ثم اجب عن الاسئلة التي تليها : $٥ = ٥ \times ١$

١- ما اسم مصدر الطاقة الذي تمثله الصورة المقابلة ؟

- النفط / oil ص ١٢٥

٢- لماذا يتمتع هذا المصدر للطاقة بمكانة مهمة على المستوى العالمي ؟ ص ١٣١

- نظراً لأهميته للدول الصناعية المتقدمة في أوروبا واليابان والولايات المتحدة الأمريكية

٣- يعد هذا المصدر من أهم مصادر الطاقة بالوطن العربي . علل ؟ ص ١٢٥

- تقوم عليه صناعات مهمة لا غنى عنها في حياتنا (يكتفى بنقطة)

- مهم بالنسبة لاقتصاد الدول العربية (الاموال)

٤- أذكر أسم الدولة الاولى في انتاج هذه الطاقة بالوطن العربي ؟

- المملكة العربية السعودية ص ١٢٩

٥- أكتب رسالة تقدر بها أهمية هذا المصدر من الطاقة في حياتك اليومية ؟

- أي أجابة مناسبة يراها المصحح من المتعلم

(ب) عرف ما يلي : $٥ = ٥ \times ١$

١- التضامن العربي : العمل على توثيق الصلات بين الدول والشعوب العربيه وحماية لمصالحها السياسية والاقتصادية والثقافية وغيرها ص ١٧٧

٢- الموارد الطبيعية : الثروات التي منحها الله لإقليم من دون أن يكون للإنسان أي دور في وجودها ص ١٠٩

٣- التبادل التجاري: عمليتا التصدير والاستيراد بين الدول ص ١٥١

٤- مقومات الصناعة : العوامل التي تساعد على تحويل المواد الخام إلى سلع استهلاكية ص ١٣٩

٥- النمو السكاني : تزايد عدد السكان من عام لآخر نتيجة للزيادة الطبيعية للسكان والهجرة ... ص ١٠٦

(ج) لاحظ الجدول التالي ثم أجب عن الأسئلة التي تليه: $٥ = ٥ \times ١$

جدول احصائية لبعض الدول العربية تبين مساحة وتقديرات السكان في عام ٢٠١٤ م

| الرقم | اسم الدولة العربية | المساحة كم ^٢ | تقديرات عدد السكان (ألف نسمة) |
|-------|--------------------|-------------------------|---------------------------------|
| ١ | المغرب | ٧١٠,٨٥٠ | ٣٣,٣٠٤,٠٠٠ |
| ٢ | جيبوتي | ٢٣,٢٠٠ | ٩٣٩,٠٠٠ |
| ٣ | السودان | ١,٨٨٢,٠٠٠ | ٣٧,٤٠٢,٠٠٠ |
| ٤ | الصومال | ٦٣٧,٦٥٧ | ١٢,٣١٧,٠٠٠ |
| ٥ | الجزائر | ٢,٣٨١,٧٤١ | ٣٩,٤٠٢,٠٠٠ |
| ٦ | تونس | ١٦٤,١٥٠ | ١٠,٩٨٣,٠٠٠ |

١- استخلص من الجدول الدول العربية التي عدد سكانها أقل من ١١ مليون نسمة من الجدول ؟ ص ١٠٠

- جيبوتي / تونس

٢- استخلص من الجدول أكبر الدول العربية مساحة ؟ ص ١٠٠

- الجزائر

٣- ما أسباب ارتفاع الكثافة السكانية في بعض مناطق دول الوطن العربي ؟ ص ١٠٥

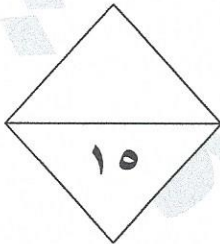
- لتمتعها بمقومات طبيعية ومناخية ملائمة (يكتفى بنقطة واحدة)

- وثروات طبيعية

- وطرق مواصلات

٤- ماذا يستفاد من الإحصاء الحيوي في دول الوطن العربي ؟ ص ٩٩

- تسجيل المواليد والوفيات وحالات الزواج والطلاق



انتهت الاسئلة