



وزارة التربية
الإدارة العامة لمنطقة الأحمدي التعليمية
التوجيه الفني للاجتماعيات




المجال الدراسي: الاجتماعيات
عدد الأوراق (٦)
الزمن: ساعة وخمسة وأربعون دقيقة

امتحان نهاية الفترة الدراسية الثانية
للفص السابع (الكويت والوطن العربي)
للعام الدراسي (٢٠١٨ - ٢٠١٩ م)

الامتحان يتكون من أربعة أسئلة جميعها إجبارية :

السؤال الأول: (موضوعي) يتكون من (أ- ب - ج) (١٨ درجة - درجة لكل اجابة)

أكمل العبارات التالية بما يناسبها مما درست :-

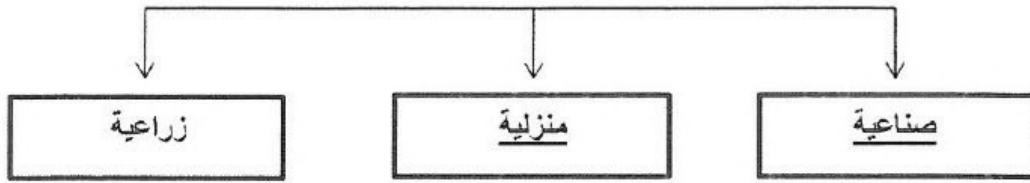
- ١- الدولة العربية الأولى في إنتاج الإبل تسمى الصومال ص ١١٨
- ٢- صاحب المبادرة لعقد القمة العربية الاقتصادية والتنمية الاجتماعية عام ٢٠٠٩ م هو الشيخ صباح الأحمد ص ١٨٦
- ٣- الدولة العربية الأولى في إنتاج الفوسفات والنحاس والمنجنيز تسمى المغرب ص ١٣٢
- ٤- الطبقة التي تحمي الأرض من الإشعاعات فوق البنفسجية الضارة تسمى الأوزون ص ١٦٩
- ٥- القارة التي يتوزع بها ٣٠% من سكان الوطن العربي تسمى آسيا ص ٩٩
- ٦- الصورة التالية  تمثل إحدى حيوانات الثروة الرعوية في الوطن العربي تسمى الإبل ص ١٣٢

(ب) اختر الإجابة الصحيحة للعبارات التالية من بين الخيارات التي تلي كلاً منها وضع خطأ تحتها :

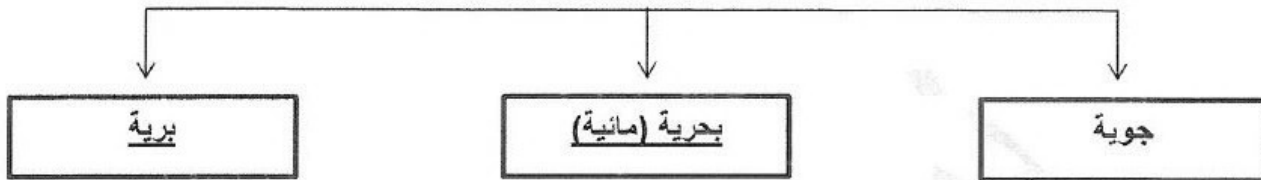
- ١- الدولة العربية التي استضافت مؤتمر المانحين الأول والثاني والثالث لدعم الوضع الإنساني في سوريا : ص ١٨٨
 - أ- الكويت
 - ب- السودان
 - ج- البحرين
 - د- العراق
- ٢- استخدام التكنولوجيا في صناعة الأقمار الصناعية تمثل التنمية : ص ١٧٣
 - أ- المستدامة
 - ب- البشرية
 - ج- الاقتصادية
 - د- الاجتماعية
- ٣- عقد مؤتمر قمة الأرض في البرازيل عام : ص ١٦٧
 - أ- ١٩٩١ م
 - ب- ١٩٩٢ م
 - ج- ١٩٩٣ م
 - د- ١٩٩٤ م
- ٤- المنطقة التي تتركز فيها حقول النفط ويوازي إنتاجها ٨٠% : ص ١٢٦
 - أ- خليج السويس
 - ب- دول الخليج العربي
 - ج- الصحراء الكبرى
 - د- هضبة نجد
- ٥- الغاز الناتج عن عوادم السيارات ويؤدي إلى ارتفاع متزايد في حرارة الأرض : ص ١٦٩
 - أ- النيتروجين
 - ب- الأكسجين
 - ج- أوكسيد الكربون
 - د- الهيليوم
- ٦- من أشهر الحبوب الغذائية في الوطن العربي : ص ١١٤
 - أ- القطن
 - ب- الزيتون
 - ج- القمح
 - د- العنب

تأيم/نموذج إجابة امتحان نهاية الفترة الدراسية الثانية - للصف السابع المتوسط - الاجتماعيات (الكويت والوطن العربي) - للعام الدراسي ٢٠١٨-٢٠١٩ م
ج) اكمل المخططات السهمية التالية بما يناسبه


١- مصادر التلوث ص ١٦٦




٢- طرق النقل ص ١٤٧



٣- أنواع الزيادة السكانية ص ١٠٦



٤- مقومات الإنتاج الزراعي ص ١١١



تابع/نموذج إجابة امتحان نهاية الفترة الدراسية الثانية - للصف السابع المتوسط - الاجتماعيات (الكويت والوطن العربي) - للعام الدراسي ٢٠١٨-٢٠١٩ م
السؤال الثاني: (موضوعي) يتكون من (أ - ب - ج) (١٨ درجة - درجة لكل إجابة)

أ) صوب ما تحته خط في العبارات التالية بكتابة التصويب بين القوسين:-

- ١- الدولة العربية التي تحتل المركز الأول في إنتاج الأسماك تسمى المغرب (مصر) ص ١٢٣
- ٢- القطاع الذي يشكل نسبة ٥٠% من الإقتصاد العربي في الأقطار غير المنتجة للنفط يسمى الصناعي (الزراعي) ص ١١٠
- ٣- عملية تركيب وجمع المواد المصنعة على اختلاف مصادرها كي نحصل على سلع متنوعة تسمى صناعات حرفية (تجميعية) ص ١٤٣
- ٤- بلغ معدل النمو السكاني السنوي بالوطن العربي عام ٢٠٠٦ م حوالي ٤,٢٠% (٢,٢٠%) ص ١٠٦
- ٥- الضرر الذي يلحق بالتربة والهواء والماء يسمى التصحّر (التلوث) ص ١٦٦
- ٦- الدولة العربية التي تحتل المركز الأول في إنتاج البن تسمى السعودية (اليمن) ص ١١٤

ب) ضع خطأ تحت العنصر الذي (لا ينتمي) للمجموعات التالية :-

العناصر	اسم المجموعة
موريتانيا - مصر - <u>الأردن</u> - تونس ص ١٠٠	١- دول الجناح الأفريقي
<u>طاقة كهربائية</u> - رؤوس الأموال - الأيدي العاملة - السوق ص ١٣٩	٢- المقومات البشرية للصناعة
مواد أولية- تحويل وتصنيع - توزيع - <u>مراعي</u> ص ١٣٧	٣- مراحل الصناعة (عملية التصنيع)
حبوب غذائية - غلات صناعية وتجارية - <u>مناخ</u> - فواكه وثمار ص ١١٣	٤- المحاصيل الزراعية
الكويت - <u>الجزائر</u> - ليبيا - السعودية ص ١٣٥	٥- الدول المؤسسة لمنظمة الاوابك
<u>أوبك</u> - المنظمة العربية للتنمية الزراعية - الكسو - المنظمة العربية للتنمية الصناعية والتعدين ص ١٨٢	٦- المنظمات التي يوجد مقرها في الكويت

ج) اكتب المفاهيم الدالة على العبارات التالية :-

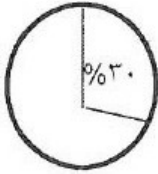
- ١- (التضامن العربي) هو العمل على توثيق الصلات بين الدول والشعوب العربية وحماية مصالحها السياسية والإقتصادية والثقافية ص ١٧٧
- ٢- (التبادل التجاري) عمليتا التصدير والاستيراد بين الدول ص ١٥١
- ٣- (زيادة غير طبيعية) الزيادة الناتجة عن الهجرة ص ١٠٦
- ٤- (الطاقة) قوى محركة للألات وعنصر مهم للتقدم والتطور الإقتصادي في جميع المجالات ص ١٢٥
- ٥- (زيادة طبيعية) الفرق بين معدل المواليد ومعدل الوفيات ص ١٠٦
- ٦- (التصحر) زحف رمال الصحراء على المناطق الجافة وشبه الجافة ص ١٦٢

السؤال الثالث: (مقالى) يتكون من (أ - ب) (درجة لكل نقطة)



أ) شاهد الصورة التالية ثم أجب عن الأسئلة التي تليها:-

- ١- ما اسم مصدر الطاقة الذي تمثله الصورة؟ النفط ص ١٢٥
- ٢- اذكر اسم الدولة العربية الأولى في إنتاج هذا المصدر السعودية ص ١٢٩
- ٣- علل يعد هذا المصدر من أهم مصادر الطاقة بالوطن العربي؟ (يكتفي بنقطة) ص ١٢٥
- تقوم عليه صناعات مهمة لا غنى عنها في حياتنا
- مهم بالنسبة لإقتصاد الدول العربية (الأموال)
- ٤- لماذا يتمتع هذا المصدر للطاقة بمكانة مهمة على المستوى العالمي؟ ص ١٣١
نظراً لأهميته للدولة الصناعية المتقدمة في أوروبا واليابان والولايات المتحدة الأمريكية.
- ٥- حول نسبة إنتاج الوطن العربي من هذا المصدر إلى دائرة بيانية ص ١٢٧
٣٠ %



٦- اكتب رسالة تقدر بها أهمية هذا المصدر من الطاقة في حياتنا اليومية

اي إجابة مناسبة يراها المصحح من المتعلم

ب) عرف المفاهيم التالية:-

- ١- التجارة البينية : التبادل التجاري بين الدول العربية ص ١٥٢
- ٢- الصناعات التحويلية : تقوم على تحويل المواد الأولية من معدنية ونباتية وحيوانية إلى سلع استهلاكية صالحة للاستعمال ص ١٤٢
- ٣- الغاز الطبيعي : غاز مصاحب للنفط الخام أو يوجد منفرداً تتم إيسالته لإستخدامات عديدة ص ١٢٥
- ٤- الإحصاء الحيوي : تسجيل المواليد والوفيات وحالات الزواج والطلاق ونحصل على بياناتها من واقع السجلات الرسمية للدولة ص ٩٩.
- ٥- التنمية : تعني التطور والتطوير وهي عملية تتطلب التخطيط والمشاركة من الجميع ص ١٧٢
- ٦- الموارد البشرية : هي التي ترتبط بالسكان من حيث أعدادهم وتوزيعهم ومناسبة أعدادهم لمساحة الأرض التي يستغلونها ص ١٠٩

السؤال الرابع: (مقالى) يتكون من (أ - ب) (درجة لكل نقطة)

أ) علل لما يلي (اذكر السبب):-

- ١- اختلاف المنتوجات الزراعية من دولة عربية إلى أخرى ص ١١٠ (يكتفى بنقطة واحدة)
- بسبب اختلاف المناخ - والتربة - ومدى توافر المياه في هذه الدول
- ٢- تحتل الأغنام العربية مكاناً مهماً ضمن الثروة الرعوية . ص ١١٨ (يكتفى بنقطتين)
- الأكثر انتشاراً في المراعي العربية / أكثر الحيوانات المستأنسة والملائمة لمراعي الوطن العربي وذلك لتحملها الجفاف والانتقال
- لأهمية منتجاتها بالنسبة للسكان / لأنها مصدر أساسي من مصادر الثروة القومية
- ٣- تركّز زراعة الحمضيات والمواالح في حوض البحر المتوسط ص ١١٣
لأنها تتطلب ظروفاً مناخية خاصة
- ٤- تدنى وفرة المياه في الوطن العربي ص ١٦٤ (يكتفى بنقطتين)
- النمو السريع للسكان الذي يشكل ضغطاً متزايداً على المياه المتوفرة لكل فرد
- ٥٠% من المواد العالم تأتي من خارج حدوده وتتحكم فيها دول المنبع
- الطرق التقليدية المستخدمة في استغلال المياه (الري بالغمر والأستهلاك غير المسئول في مجالات المياه)
- الشبكات المؤهلة لنقل المياه شبكات قديمة
- افتقار الدول العربية الى برامج لإدارة المياه كما انها لا تستخدم الأدوات الاقتصادية لترشيد الاستخدام المتزايد من المياه.

ب) اكتب فيما يلي مما درست :-

- ١- أهداف التنمية البشرية ص ١٧٤ (يكتفى بنقطتين)
- الاهتمام بالطفل العربي ورعايته في مرحلة الطفولة المبكرة (قبل المدرسة)
- توفير فرص العمل ، والرعاية الصحية والقضاء على الفقر
- رفع كفاءة الثروة البشرية علمياً وفكرياً وروحياً
- تعميق المشاركة في الرأي والحوار في ظل الديمقراطية
- ٢- طرق الحفاظ على ثروة المياه في الوطن العربي : ص ١٦٥ (يكتفى بنقطتين)
- ترشيد استخدام المياه والحد من التبذير في المنازل
- الحد من هدر المياه في عمليات الري وذلك باستخدام الوسائل الحديثة كالرش بالتنقيط والمحوري
- تنظيم عملية الاستفادة من المياه الجوفية ومنع تسرب الأملاح الملوثة إليها واستثمارها على

- تطوير إستعمال مياه الصرف الصحي بمعالجة الزراعة

- اقامة البحيرات والسدود لتجميع مياه الأمطار والسيول للإستفادة منها في فصل الجفاف

- توقيع اتفاقيات مع الدول المشاركة ودول المنبع لتحقيق مصالح الدول العربية المعنية

٣- اهداف الصندوق الكويتي للتنمية الاقتصادية العربية ص ١٨٤ (يكتفي بنقطتين)

- المساهمة في تحقيق مشاريع التنمية الضرورية الخاصة بالمجالات الصحية والاجتماعية.

- تقديم المساعدات اللازمة في حالات الكوارث والنكبات

- دعم قضايا الأمة العربية والاسلامية