

تم تحميل هذا الملف من موقع المناهج الكويتية



الملف وسائل ومراجعات وأوراق عمل على الوحدة السادس

[موقع المناهج](#) ← [المناهج الكويتية](#) ← [الصف الثاني](#) ← [رياضيات](#) ← [الفصل الأول](#)

روابط مواقع التواصل الاجتماعي بحسب الصف الثاني



روابط مواد الصف الثاني على تلغرام

[الرياضيات](#)

[اللغة الانجليزية](#)

[اللغة العربية](#)

[التربية الاسلامية](#)

المزيد من الملفات بحسب الصف الثاني والمادة رياضيات في الفصل الأول

[التقريب الى اقرب عشرة في مادة الرياضيات](#)

1

[التقريب الى اقرب عشرة في مادة الرياضيات 4](#)

2

[ورقة عمل في مادة الرياضيات](#)

3

[ورقة عمل المكعبات 1 في مادة الرياضيات](#)

4

[ورقة عمل مقارنة في مادة الرياضيات](#)

5



وزارة التربية
الإدارة العامة لمنطقة الأحمدية التعليمية
مدرسة هدية الابتدائية بنين



نحو الإبداع و التميز

موقع
المناهج الكويتية
almanahj.com/kw



• الوحدة (٦)

للمصف الثاني




• أ. عزه على

إعداد المعلمة

• أ. شيمه المطيري

إشراف رئيسة القسم

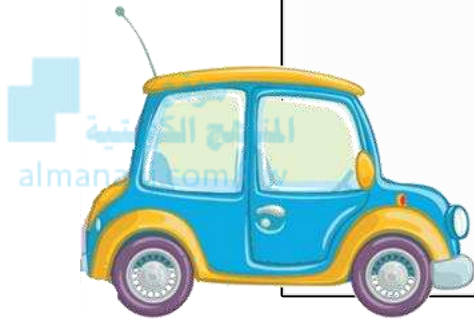


• نشاط التعلّم والتفكير

الوحدة (٦)



• العدد التجاوزي




بند (١-١)







كم عدد الأزهار؟





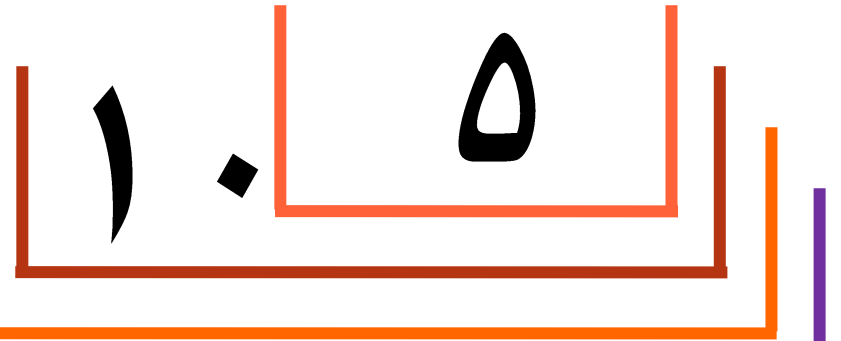
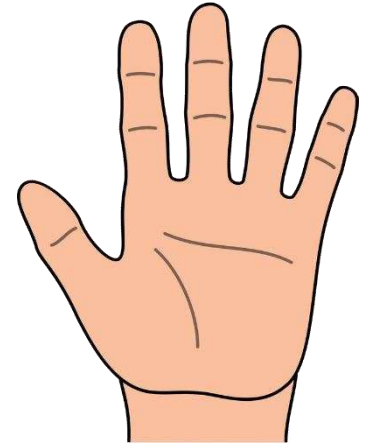
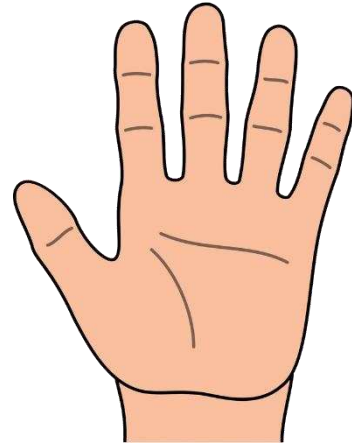
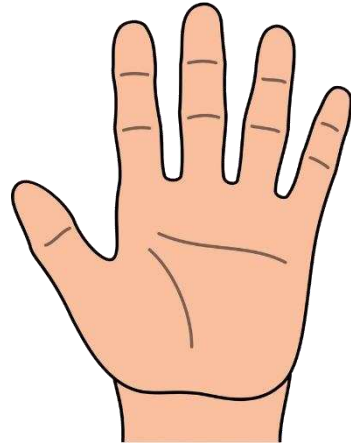
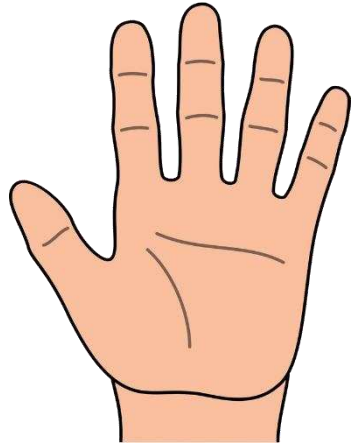
كم عدد الدنانير؟



١٠



كم عدد الأصابع؟



عد تجاوزياً. أكمل رمز العدد الناقص



1

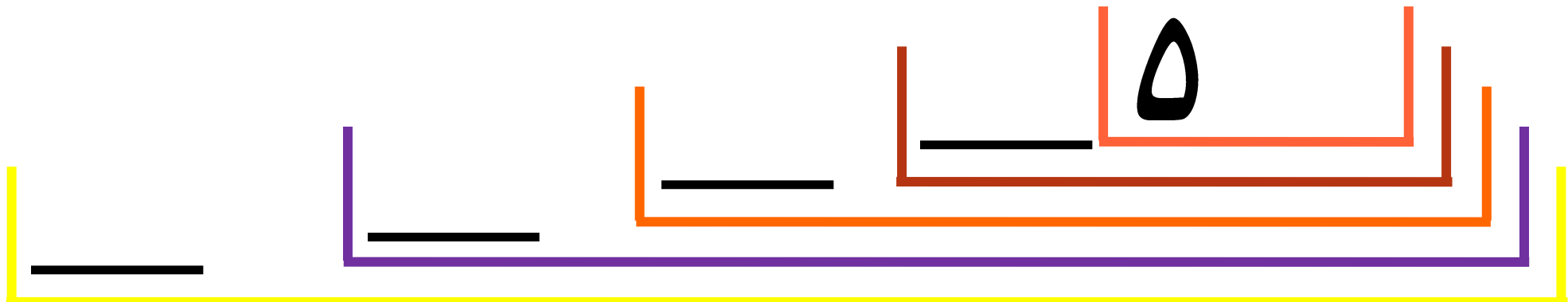
2

3

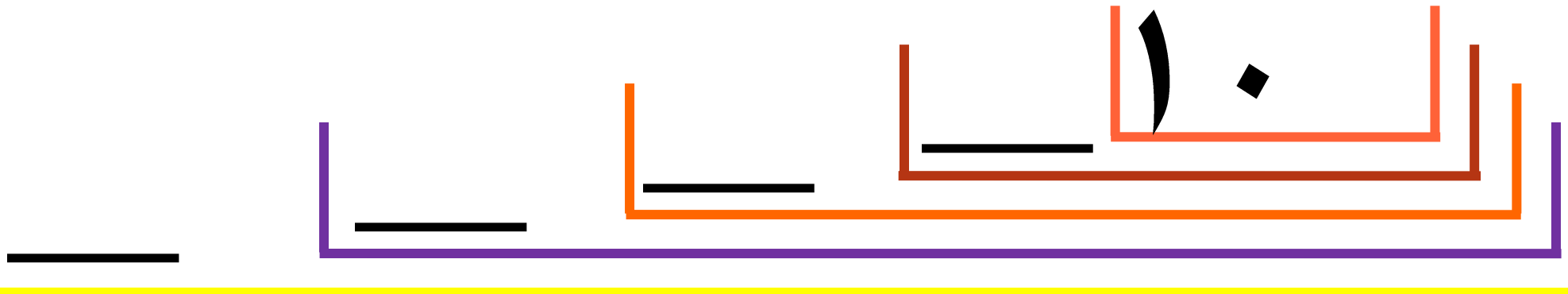

4

5

عد تجاوزياً. أكمل رمز العدد الناقص



عد تجاوزياً. أكمل رمز العدد الناقص



أكمل النمط



٢ ، — ، ٨ ، — ، ٤ ، ٦

٢٠ ، — ، ١٦ ، — ،



أكمل النمط

موقع
المنهاج الكويتية
almanahj.com/kw

أ . ، ب . ، ج . ، د .
هـ . ، و . ، ز . ، ح .



أكمل النمط

موقع
المنهج الكويتية
almanahj.com/kw

هـ ، ا ، ب ، ك ،

د ، ج ،

احك قصة عن العد بالعشرات حتى

٦. وضح بالرسم.

موقع
المنهج الكويتية
almanahj.com/kw



• العدد التجاوزي بلوحة المئة



بند (٦-٢)



عد تجاوزياً بالأربعات بتلوين الأعداد

١٠	٩	٨	٧	٦	٥	٤	٣	٢	١
٢٠	١٩	١٨	١٧	١٦	١٥	١٤	١٣	١٢	١١
٣٠	٢٩	٢٨	٢٧	٢٦	٢٥	٢٤	٢٣	٢٢	٢١
٤٠	٣٩	٣٨	٣٧	٣٦	٣٥	٣٤	٣٣	٣٢	٣١
٥٠	٤٩	٤٨	٤٧	٤٦	٤٥	٤٤	٤٣	٤٢	٤١

عد تجاوزياً بالسّات بتلوين الأعداد

١٠	٩	٨	٧	٦	٥	٤	٣	٢	١
٢٠	١٩	١٨	١٧	١٦	١٥	١٤	١٣	١٢	١١
٣٠	٢٩	٢٨	٢٧	٢٦	٢٥	٢٤	٢٣	٢٢	٢١
٤٠	٣٩	٣٨	٣٧	٣٦	٣٥	٣٤	٣٣	٣٢	٣١
٥٠	٤٩	٤٨	٤٧	٤٦	٤٥	٤٤	٤٣	٤٢	٤١

كون نمطاً من عندك. اختر عدداً وابدأ العد تجاوزياً. لون

لتوضح ما سيبدو عليه النمط .

١٠.	٩	٨	٧	٦	٥	٤	٣	٢	١
٢٠.	١٩	١٨	١٧	١٦	١٥	١٤	١٣	١٢	١١
٣٠.	٢٩	٢٨	٢٧	٢٦	٢٥	٢٤	٢٣	٢٢	٢١
٤٠.	٣٩	٣٨	٣٧	٣٦	٣٥	٣٤	٣٣	٣٢	٣١
٥٠.	٤٩	٤٨	٤٧	٤٦	٤٥	٤٤	٤٣	٤٢	٤١

• الجمع المتكرر






بند (٦-٣)





كم عدد البيض؟



$$\underline{\quad} = \underline{\quad} + \underline{\quad} + \underline{\quad}$$

عدد الكل



كم عدد الصافرات؟



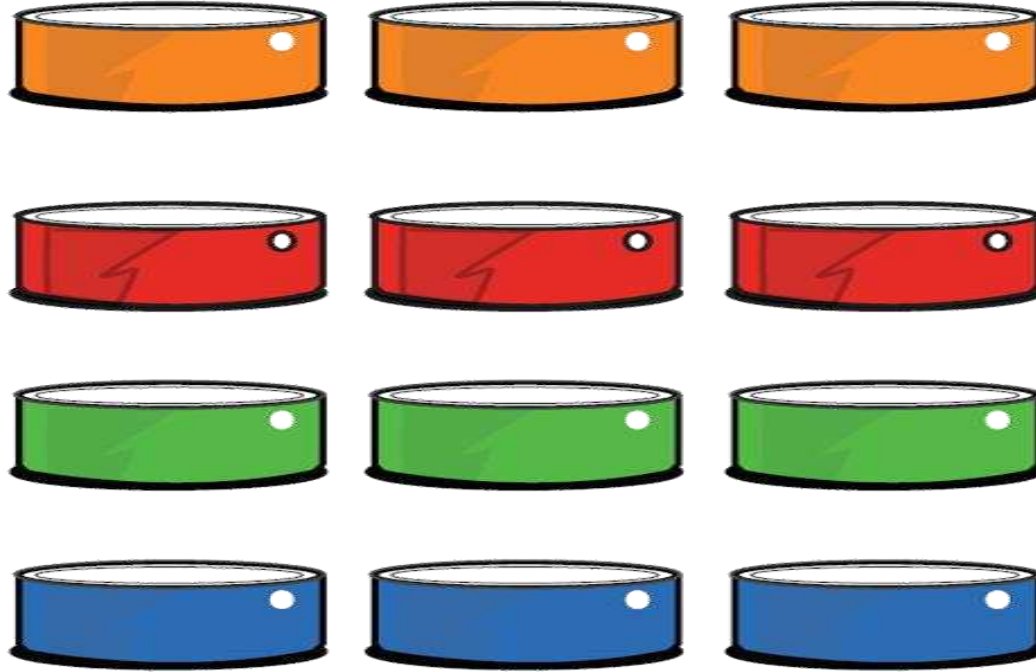
موقع
المنهج الكويتية
almanahj.com/kw

$$\underline{\hspace{2cm}} = \underline{\hspace{2cm}} + \underline{\hspace{2cm}}$$

عدد الكل



كم عدد الاسطوانات؟



موقع
المنهج الكويتية
almanahj.com/kw

— = — + — + — + —

عدد الكل

كون ٥ مجموعات متساوية في عدد العناصر



ضع في كل منها ٤



=



+



+




كون ٤ مجموعات متساوية في عدد العناصر



ضع في كل منها ٢.

$$\text{■} \text{ — } = \text{ — } + \text{ — } + \text{ — } + \text{ — }$$

وضح بالرسم ٣ + ٣ + ٣ ثم أوجد عدد الكل



• حل المسائل : استخدم معطيات الصورة

المنهج الكويتية
almanahj.com/kw



بند (٦-٤)



استخدم معطيات الصورة للإجابة على السؤال التالي



احك قصة جمع متكرر . اكتب العبارة الرياضية الدالة على القصة

استخدم معطيات الصورة للإجابة على السؤال التالي



اذكر قصة توضح عدد الأزهار الكلي . اكتب العبارة الرياضية المناسبة

.....

استخدم معطيات الصورة للإجابة على السؤال التالي



اكتب عبارتي جمع متكرر حول عدد الكرات في الصورة.

.....

.....

• مراجعة الوحدة الخامسة



بند (٦-٥)



أكمل الأعداد الناقصة في الجدول

١٠	٩	٨	٧	٦	٥	٤	٣	٢	١
٢٠		١٨		١٦		١٤		١٢	
٣٠		٢٨		٢٦		٢٤		٢٢	
٤٠		٣٨		٣٦		٣٤		٣٢	
٥٠		٤٨		٤٦		٤٤		٤٢	

عبر عن عدد العناصر






عدد العناصر

$$\underline{\quad} = \underline{\quad} + \underline{\quad} + \underline{\quad} + \underline{\quad}$$

هل يمكن استخدام الجمع المتكرر في

الصورة التالية؟



التصحيح :



اختر الإجابة الصحيحة بوضع

العدد الثالث من العد التنازلي بالأربعينات هو:

١٠	٩	٨	٧	٦	٥	٤	٣	٢	١
٢٠	١٩	١٨	١٧	١٦	١٥	١٤	١٣	١٢	١١
٣٠	٢٩	٢٨	٢٧	٢٦	٢٥	٢٤	٢٣	٢٢	٢١

١٦



١٢

٨



اختر الإجابة الصحيحة بوضع


عدد كل الأرجل هو :




$$٤ + ٤ + ٤ + ٤$$



$$٣ + ٣ + ٣ + ٣$$



$$٤ + ٤ + ٤$$





اختر الإجابة الصحيحة بوضع

الجمع المتكرر ٣ + ٣ :

