



وزارة التربية
الإدارة العامة لمنطقة الأحمدية التعليمية
مدرسة هدية الابتدائية بنين



www.KweduFiles.Com
الوحدة الثانية



للف الرابع



• أ. شيمه صقر المطيري

رئيسة القسم

الجمع والطرح

البند (٨-١)



أوجد الناتج

١ ٣ ٥ ٤

WWW.KweduFiles.Com

٧ ٥ ٥ ٣ +

أوجد الناتج

٨

٤

•

٧

٢

WWW.KweduFiles.Com

٥

٦

•

٢

٩

—

أوجد الناتج

٤

٣

١

٧

٢

www.KweduFiles.Com

٣

٨

٣

٢

٥

٥

١

٧

١

+

اجمع

٤

٢



٧



WWW.KweduFiles.Com

٢

٨



٦



اجمع

٨ ٣ ٦ ٠ ١ ٦

WWW.KweduFiles.Com

٦ ٠ ٠ ٢ ٧ ٩ ٣

١ ٧ ٣ ٤ ٤ ٥

اظرح ١٤٦ ٢٠٠٢ ٥٢

WWW.KweduFiles.Com

١ ♦ ♦ ♦ ♦ ♦ ♦ ♦



صح الخطأ

٧ ٢ ٥ ٠ ٤ ٦ ٥

٤ ١ ٤ ٦ ٣ ٩ ٣ -

٣ ١ ٠ ٦ ١ ٥ ٢

• تنفيذ نواتج التعلم والطرح



البند (٨-٢)



قدر الناتج

← ٤ ٣ ٤ ٥ ٦

WWW.KweduFiles.Com

+ ← ٧ ٩ ٣ ٤ ١ +

قدر الناتج

← ٥ ٨ ١ ٤

WWW.KweduFiles.Com

— ← ٤ ٦ ١ ٧ —

قدر الناتج

← ٤ ٥ ٢ ٣ ٢

WWW.KweduFiles.Com

← ٢ ٧ ١ ٧ -

قدر الناتج

← ٩ ٦ ١ ٤

WWW.KweduFiles.Com ← ٢ ٨ ٠ ٣ ٥

_____ + ← ٥ ١ ٨ ٠ +

• استخدام البيانات : مخططات فن

WWW.KweduFiles.Com




البند (٣-٨)



استعن بشكل قن للإجابة عما يلي

يفضلون السباحة

يفضلون الرماية

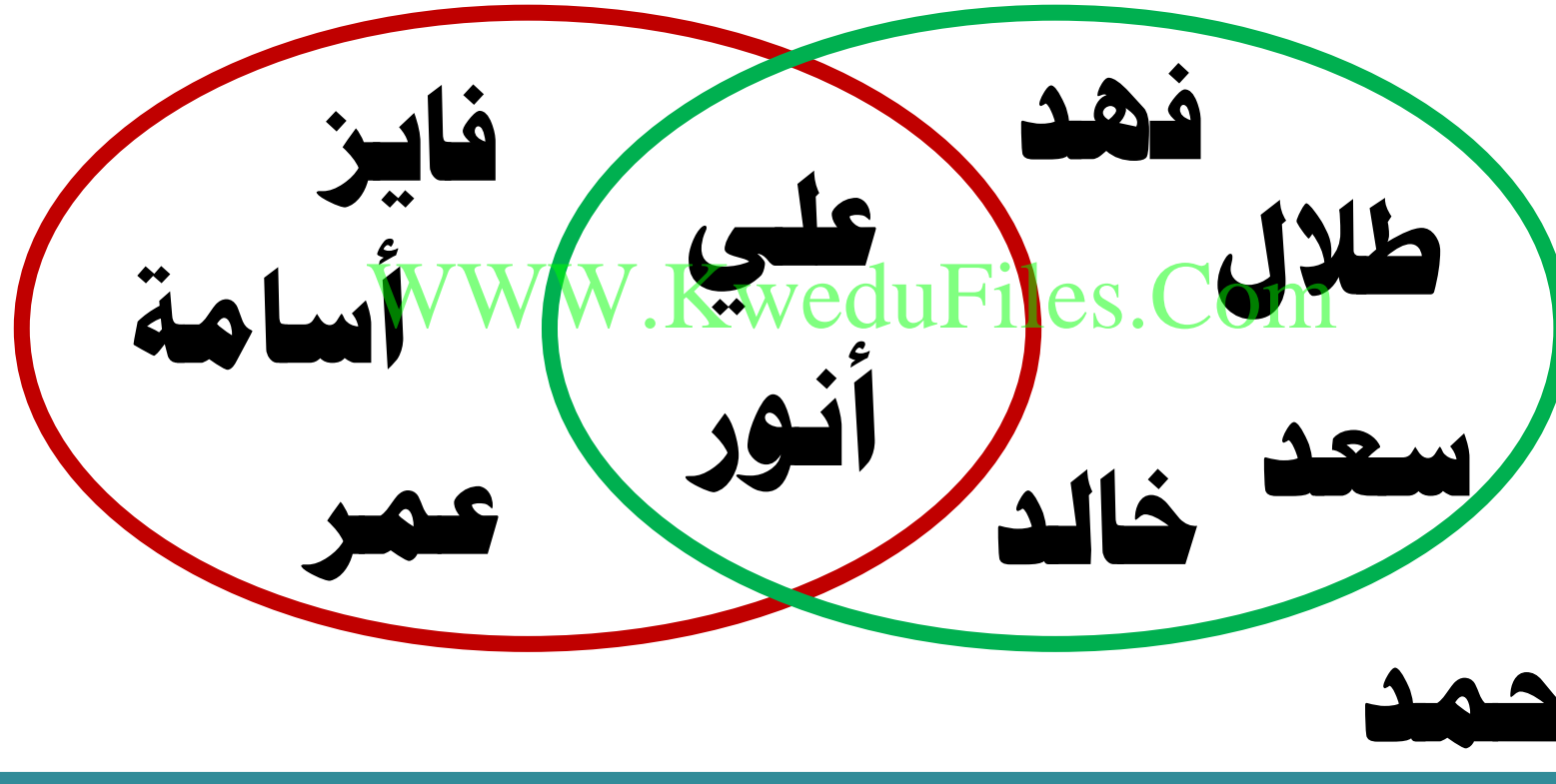


كم عدد الذين يفضلون الرماية فقط ؟ _____

استعن بشكل قن للإجابة عما يلي

يفضلون السباحة

يفضلون الرماية




كم عدد الذين يفضلون السباحة فقط ؟ _____

استعن بشكل قن للإجابة عما يلي

يفضلون السباحة

يفضلون الرماية




كم عدد الذين يفضلون الرماية و السباحة ؟ _

استعن بشكل قن للإجابة عما يلي

يفضلون السباحة

يفضلون الرماية



محمد

من الذي لا يفضل الرماية أو السباحة؟ _____

اكتب الأعداد التالية بالمكان المناسب

١١ ، ٨ ، ٧ ، ٦ ، ٣ ، ٢


WWW.KweduFiles.Com

عَدَدٌ أَوْلِي

عَدَدٌ زَوْجِي


عَدَدٌ زَوْجِي أَوْلِي

(أَعْدَادُ بَعْضِ الْحَيَوَانَاتِ فِي إِحْدَى الْمَزَارِعِ الْعَالَمِيَّةِ)




مِثْلُ عَدَدِ الْخَيْوَلِ بِالْمَزْرَعَةِ إِذَا كَانَ عَدْدُهَا مِليُون

(أَعْدَادُ بَعْضِ الْحَيَوَانَاتِ فِي إِحْدَى الْمَزَارِعِ الْعَالَمِيَّةِ)




أَيُّ الْحَيَوَانَاتِ أَقَلُّ عَدَدًا؟ _____

(أعدادُ بعضِ الحَيواناتِ في إحدى المزارعِ العالَمِيَّةِ)



أيهما أكثر ، الإبل أم البط ؟

(أَعْدَادُ بَعْضِ الْحَيَوَانَاتِ فِي إِحْدَى الْمَزَارِعِ الْعَالَمِيَّةِ)



ما الفرق بين عدد الأغنام و عدد الإبل ؟

• استخدام البيانات : التمثيل البياني

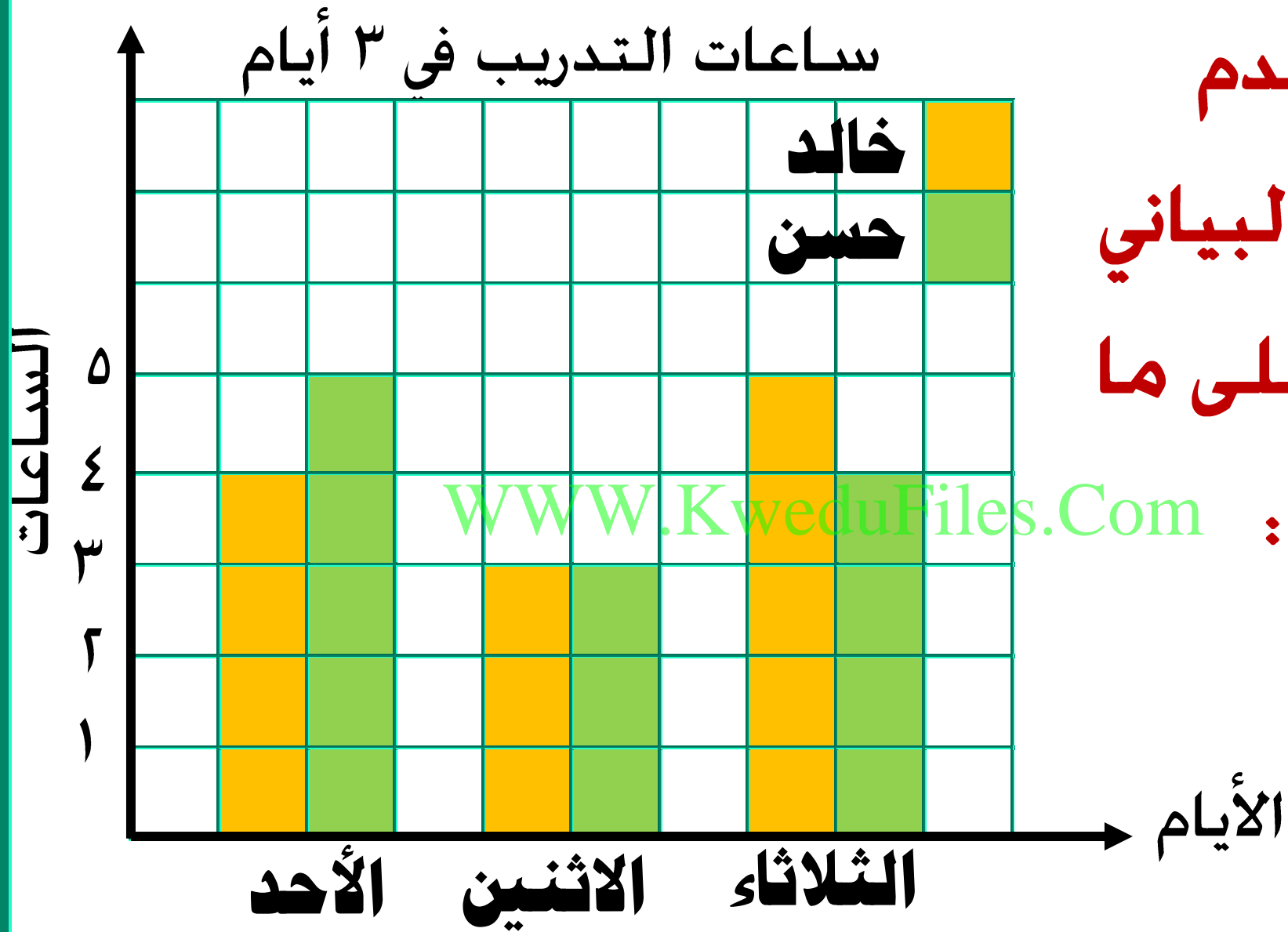
www.KweduFiles.Com

بأمانة المراجعة



البند (٤-٨)





استخدم
التمثيل البياني
للإجابة على ما

يلي :

WWW.KweduFiles.Com

كم ساعة يتدرب خالد في يوم الاثنين؟ _____

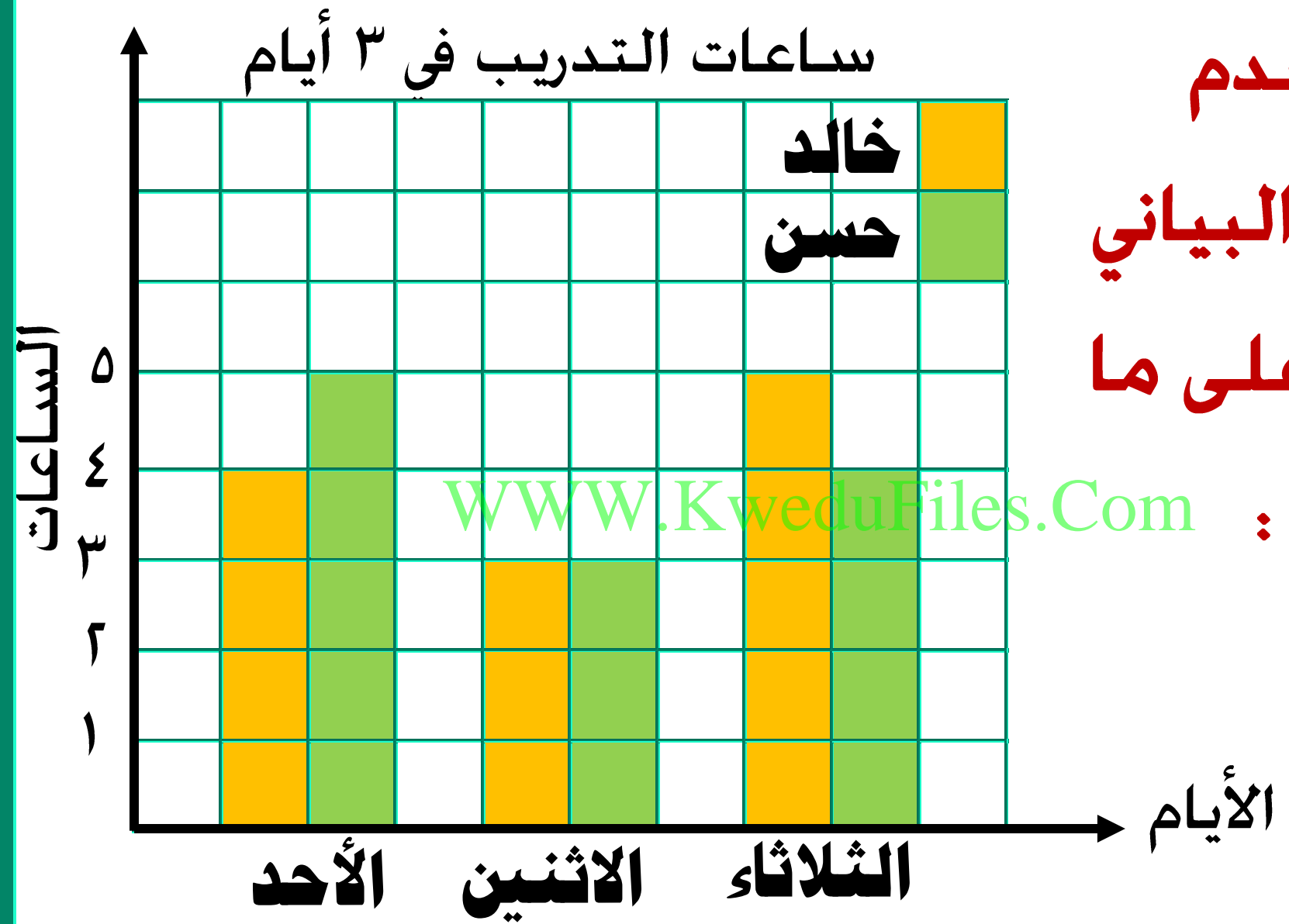
استخدم

التمثيل البياني

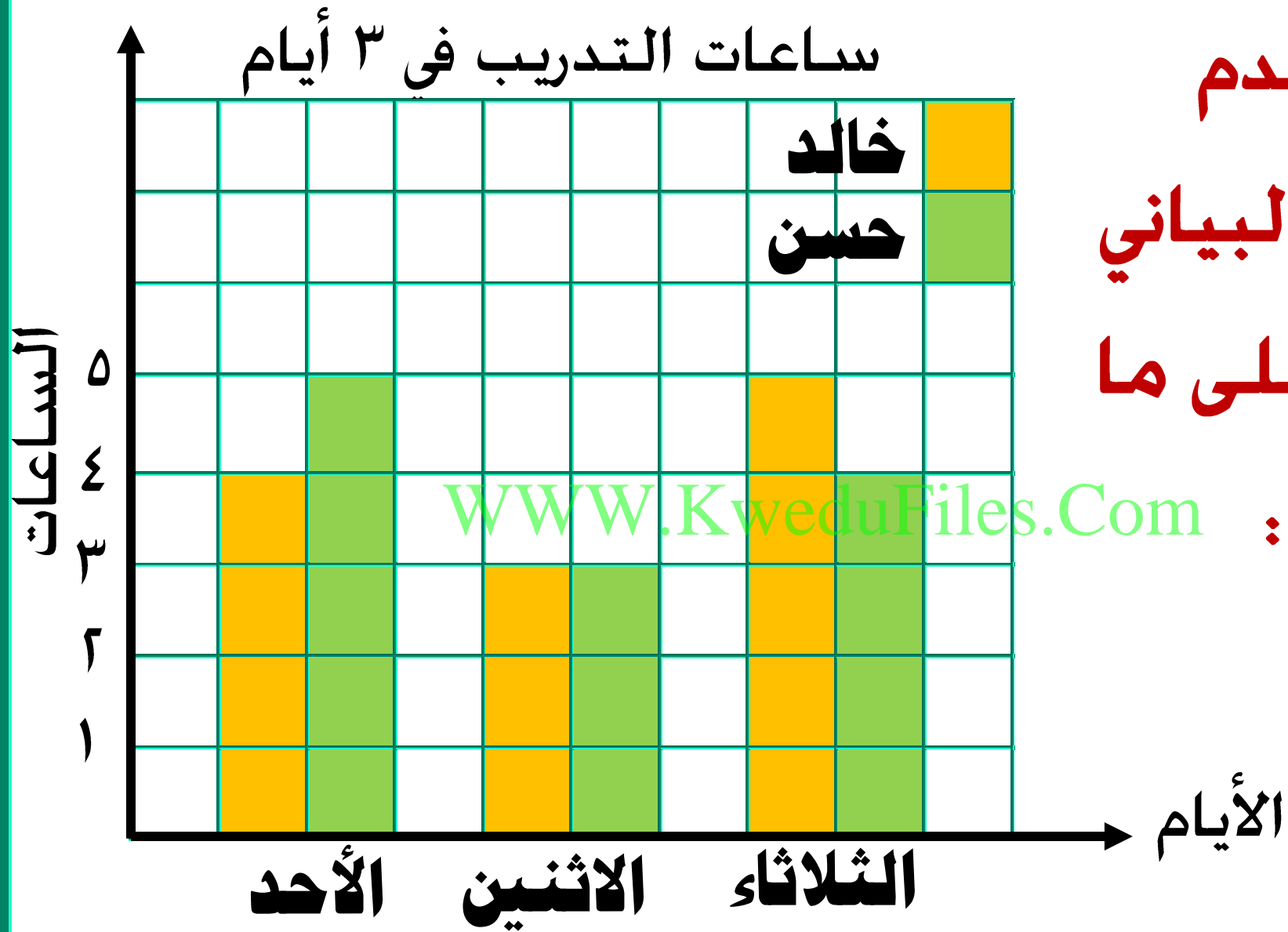
للإجابة على ما

يلي :

WWW.KweduFiles.Com



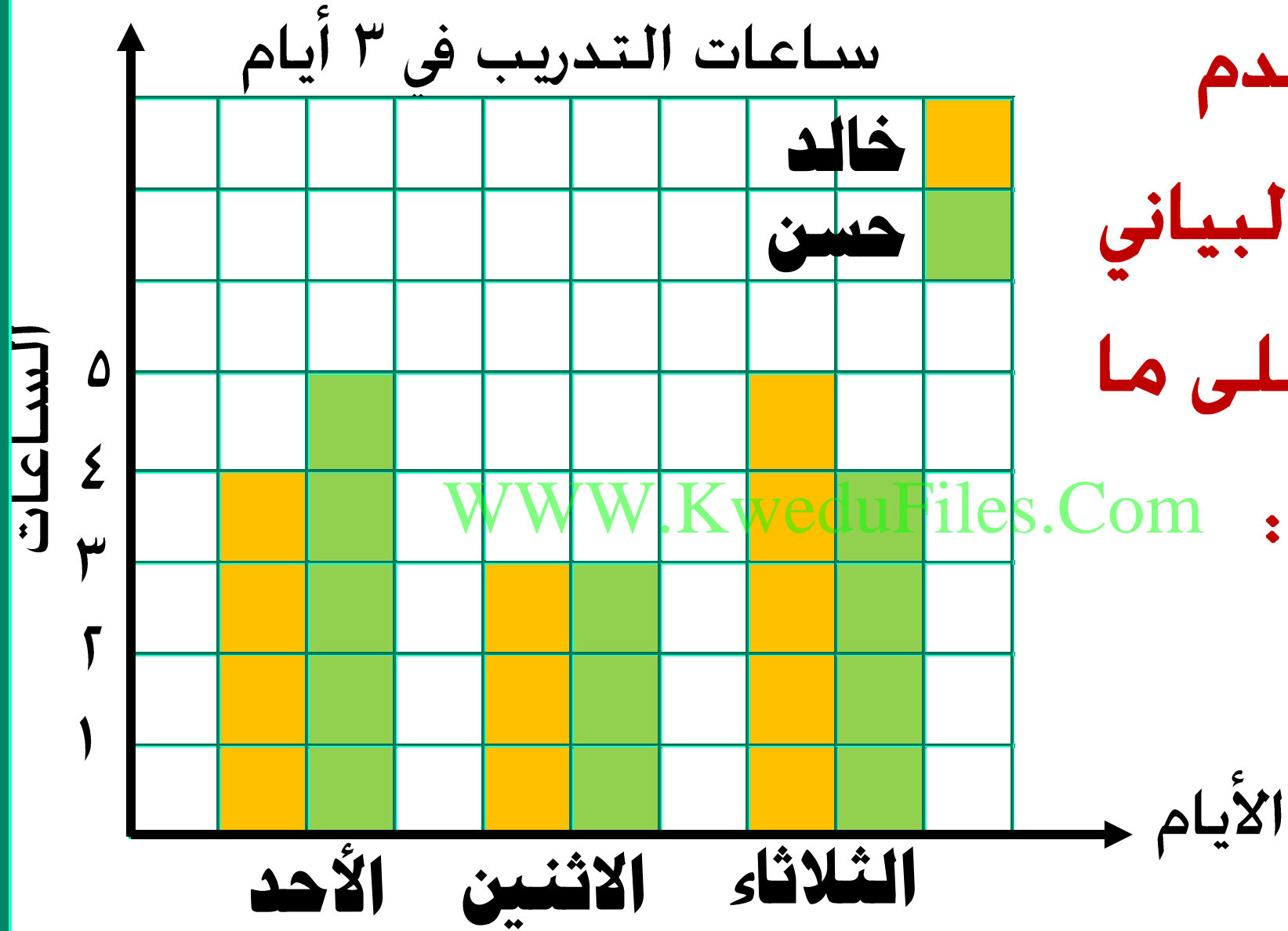
كم ساعة يتدرب حسن في يوم الأحد ؟ _____



استخدم
التمثيل البياني
للإجابة على ما

يلي : WWW.KweduFiles.Com

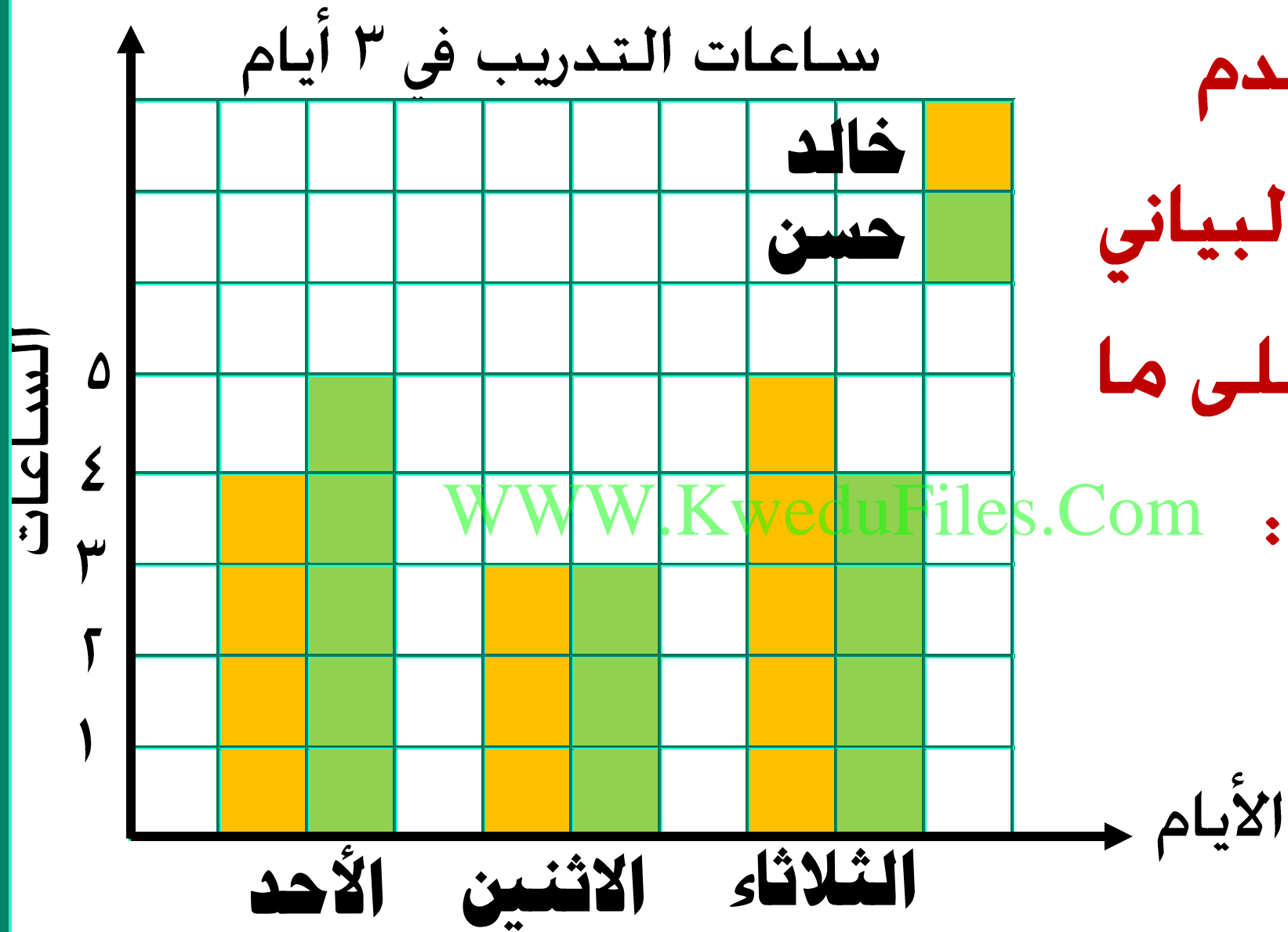
في أي يوم يتدرب خالد ٤ ساعات ؟ _____



استخدم
التمثيل البياني
للإجابة على ما

يلي : WWW.KweduFiles.Com

في أي يوم يتدرب حسن ٤ ساعات ؟ _____



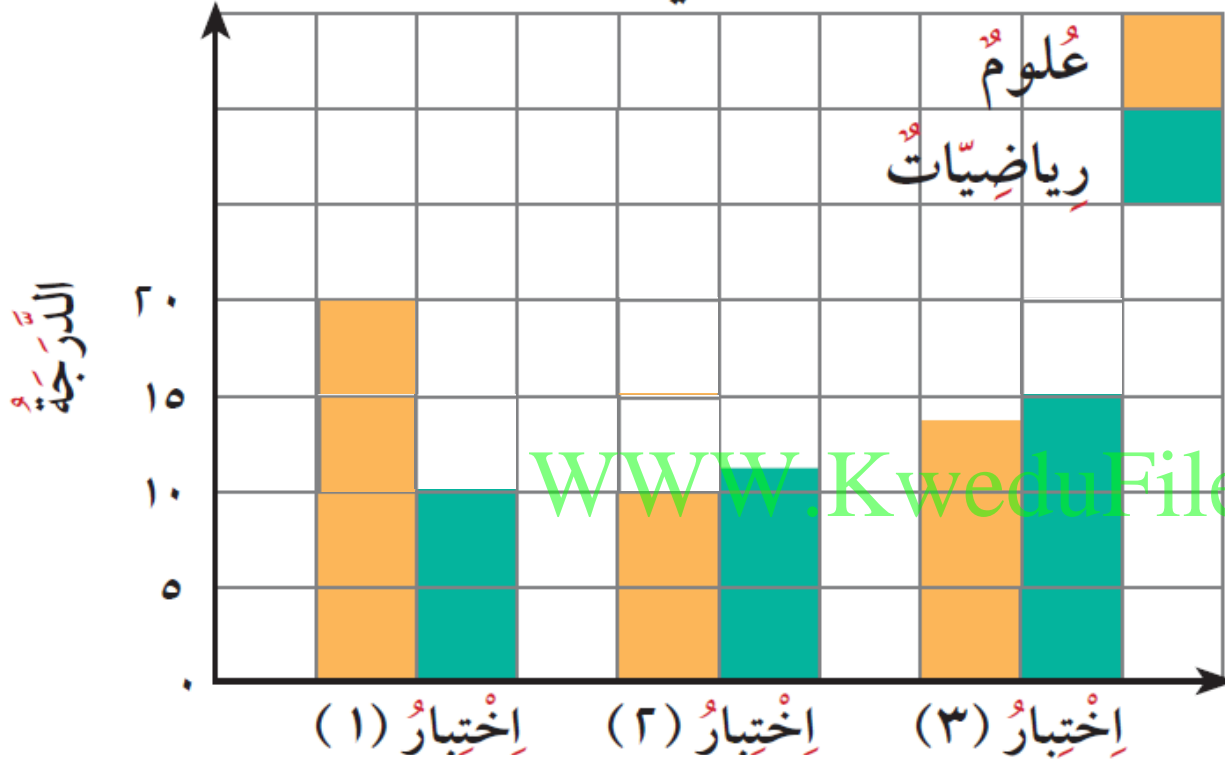
استخدم
التمثيل البياني
للإجابة على ما

يلي :

WWW.KweduFiles.Com

في أي يوم يتساوى خالد و حسن بساعات التدريب ؟

درجات طارق في الإختبارات



اختر الجدول الذي
يعبر عن التمثيل
البياني لدرجات
طارق بالاختبارات

WWW.KweduFiles.Com

| الإختبار (3) | الإختبار (2) | الإختبار (1) | |
|--------------|--------------|--------------|---------|
| 14 | 10 | 20 | علوم |
| 20 | 15 | 10 | رياضيات |



| الإختبار (3) | الإختبار (2) | الإختبار (1) | |
|--------------|--------------|--------------|---------|
| 14 | 10 | 20 | علوم |
| 15 | 12 | 10 | رياضيات |

