





وزارة التربية
الإدارة العامة لمنطقة الفروانية التعليمية
التوجيه الفني للاجتماعيات

مقرر / الكويت والوطن العربي

زمن الإجابة: ساعة ونصف


عدد الأوراق : (٦)

امتحان نهاية الفترة الدراسية الأولى
(الصف السابع)
للعام الدراسي (٢٠١٨م / ٢٠١٩م)
نموذج الإجابة

أجب عن جميع الأسئلة التالية :-

السؤال الأول (موضوعي) ويتكون من (أ - ب - ج - د - هـ - و - ي) : (لكل إجابة درجة)


(أ) لاحظ الصور التي أمامك لإكمال العبارات الآتية بما يناسبها :



الصورة تمثل معلم حضاري
اسمه (الأهرامات) ص ٧٢



الدائرة على الخريطة تمثل قناة
اسمها (قناة السويس) ص ٢٩



الرقم (١) في الصورة يمثل مظهر
تضاريسي اسمه (الجبال) ص ٣٧

ب (صنف الأسماء التالية مكانها الصحيح في الجدول التالي : ص ٩٠
[الإنجيل - موسى عليه السلام - محمد ﷺ - التوراة - القرآن الكريم - عيسى عليه السلام]

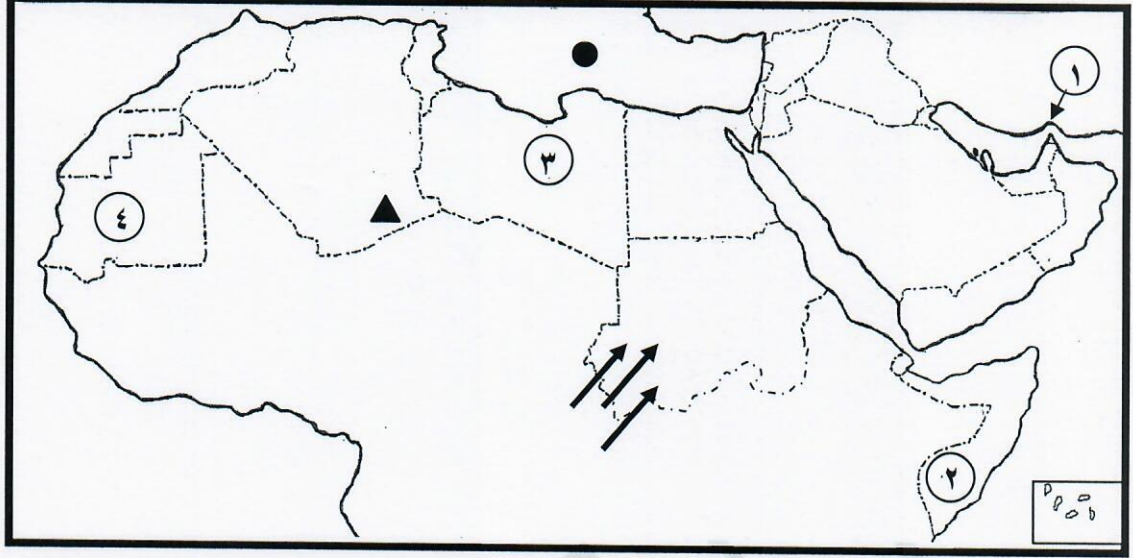
الديانة	الكتاب	النبي
١- اليهودية	التوراة	موسى عليه السلام
٢- المسيحية	الإنجيل	عيسى عليه السلام
٣- الإسلام	القرآن الكريم	محمد ﷺ

ج (صوب ما تحته خط في العبارات التالية :

- ١- أكثر الأشكال التضاريسية انتشاراً في الوطن العربي هي التلال .
 - ٢- المياه التي توجد في باطن الأرض هي البحيرات .
 - ٣- موقع الدولة بالنسبة لليابس والماء هو الموقع الفلكي .
- (الهضاب) ص ٤٠
(المياه الجوفية) ص ٦٠
(الموقع النسبي) ص ٣٣

تابع السؤال الأول :


د) لاحظ خريطة الوطن العربي ثم أجب عن الأسئلة التي تليها :



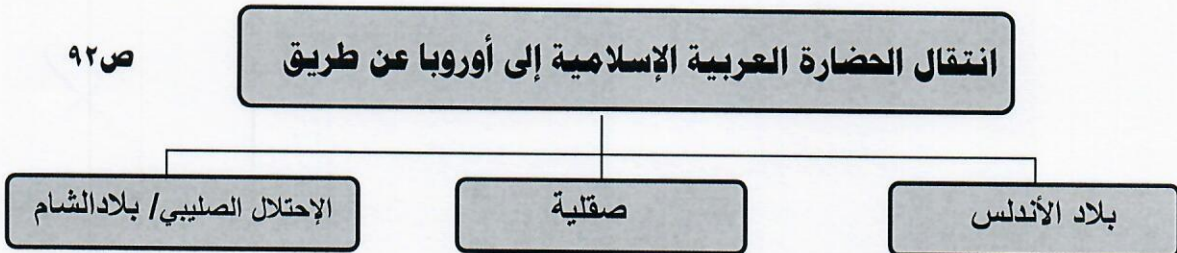
- الشكل (▲) يرمز إلى جبال تسمى (الأحجار)..... ص ٣٨
- الشكل (●) يرمز إلى مسطح مائي يسمى ... (البحر المتوسط) ص ٣٨
- الرقم (١) على الخريطة يشير إلى مضيق مائي يسمى (هرمز) ص ٢٨
- الصومال يمثلها على الخريطة الرقم (٢).....
- الشكل (↗) على الخريطة يشير إلى رياح محلية تسمى (الهبوب)..... ص ٤٨

هـ) أكمل المخططات السهمية التالية :

ص ٥٢



ص ٩٢



تابع السؤال الأول :

و) ضع خطأ تحت الخيار الصحيح من بين الخيارات التي تلي كل عبارة :-

١- المسطح المائي الذي يحد الوطن العربي من جهة الغرب : ص ٣٣

(المحيط الأطلسي - البحر الأحمر - الخليج العربي - البحر المتوسط)

٢- عاصمة جمهورية جزر القمر مدينة : ص ٢٣

(الرباط - موروني - نواكشوط - الخرطوم)

٣- الدولة العربية التي يوجد بها نهر جوبا : ص ٤٢

(الجزائر - تونس - لبنان - الصومال)

٤- تمثل مساحة الوطن العربي من جملة مساحة العالم حوالي : ص ٢٣

(١٠% - ٢٠% - ٣٠% - ٤٠%)

٥- إسم " أوال " أطلق قديماً قبل الفتح الإسلامي على : ص ٨٨

(بلاد الرافدين - جنوب غرب شبه الجزيرة العربية - مصر القديمة - دلمون)

ي) أكتب المفهوم أو المصطلح الدال على العبارات التالية :-

١- (المناخ) حالة الجو خلال فترة زمنية طويلة من حيث درجة الحرارة والرطوبة والأمطار. ص ٤٤

٢- (النبات الطبيعي) النبات الذي ينمو تلقائياً عقب سقوط المطر دون تدخل من الإنسان . ص ٥١

٣- (الحضارة) كل ما يطرأ على المجتمع من تقدم وتطور ورقي في جميع نواحي الحياة الدينية والسياسية

والاقتصادية والاجتماعية والفكرية . ص ٧١

٤- (الوطن العربي) مجموعة الدول العربية التي يجمعها عدد من السمات المشتركة ويمتد ضمن قارتين من

أكبر قارات العالم مساحة. ص ٢٢

السؤال الثاني : يتكون من : [أ ، ب] :-

الدولة	النسبة
الكويت	٥٥%
ليبيا	٥%
الإمارات	٢٧%
قطر	٣٨%

(نسبة استخدام المياه المحلاة)

(أ) **لاحظ الجدول التالي جيدا ثم استعن به في الإجابة :** (٦ درجات)

١- استخراج من الجدول الدولة الأولى في استخدام المياه المحلاة . ص ٦٢ (درجة)
(دولة الكويت)

٢ - رتب الدول العربية في الجدول الذي أمامك ترتيباً تنازلياً حسب نسبة استخدامها للمياه المحلاة .
(درجتان)

الكويت	قطر	الإمارات	ليبيا
--------	-----	----------	-------

٣- أكتب الطرق التي من خلالها نحافظ بها على الثروة المائية في الوطن العربي . ص ٦٣
(٣ درجات ويكتفى بثلاث فقط) / حسب ما يراه المصحح مناسب

- ترشيد استخدام المياه و الحد من التبذير في المنازل .
- الحد من هدر المياه في عمليات الري باستخدام الطرق الحديثة (الرش بالتنقيط والمحوري)
- الاستفادة من المياه الجوفية .
- تطوير استعمال مياه الصرف الصحي المعالجة في الزراعة .
- إقامة البحيرات والسدود لتجميع مياه الأمطار والسيول والاستفادة منها في فصل الجفاف .
- توقيع اتفاقيات مع الدول المشاركة ودول المنبع لتحقيق المصالح المشتركة بين الدول العربية .

(ب) **فرق بين كل من : (٤ درجات / لكل تعريف درجة)**

القناة	ص ٢٨	المضيق	ص ٢٨
مجرى مائي صناعي ضيق يشق لأغراض الري أو النقل		ممر مائي ضيق يصل بين بحرين أو محيطين أو أي مساحتين كبيرتين نسبياً من الماء .	
السهول الفيضية	ص ٤٢	السهول الساحلية	ص ٤٢
الأراضي المنخفضة التي تكونت من التربة التي حملتها مياه الأنهار .		الأراضي المنبسطة التي تجاور سواحل البحار والمحيطات .	

السؤال الثالث : ويتكون من (أ - ب) :-

(عدد كل مما يلي : ٦ درجات) يكتفى بنقطتين فقط)

درجتان ص ٢٦

١- مقومات الهوية العربية .

- الدين الإسلامي
- اللغة العربية
- العادات والتقاليد والقيم
- التاريخ المشترك / التراث
- الأهداف المشتركة

٢- أهم الحيوانات السائدة في المناطق الصحراوية في الوطن العربي . (ما يراه المصحح مناسب) درجتان ص ٥٥

- الإبل .. الماعز .. الضب .. الأرانب البرية
- أنواع من الطيور كالصقور والبوم والحبارى
- أنواع من الحشرات كالجراد والعقارب والخنفس .
- الزواحف كالأفاعي والحيوانات القارضة كالفئران والجربوع .

درجتان ص ٥٩

٣- صفات المطر في الوطن العربي .

- تذبذب كمية المطر بين عام وآخر كما أنها تسقط في أيام معدودة .
- الأمطار في الوطن العربي تقتصر على الأطراف الشمالية والجنوبية منها .
- تتصف بأنها قليلة بصفة عامة (ما عدا مناطق الجبال) .

ب) قارن بين كل من حسب الجدول التالي : ص ٥٢ (٤ درجات)

أوجه المقارنة	الحشائش الحارة (السافانا)	الحشائش المعتدلة (الأستبس)
التعريف	- حشائش طويلة يختلف نوعها حسب كمية الأمطار . درجة	- حشائش قصيرة نوعاً ما تنمو في الشتاء خلال موسم سقوط الأمطار . درجة
الحيوانات التي تتربى عليها (يكتفى بمثال واحد فقط)	تربى عليها الماشية درجة	الأغنام / الإبل / الخيول / الحمير درجة

السؤال الرابع : ويتكون من (أ - ب) :-

أ) قارن بين كل من حسب الجدول التالي : (٤ درجات)

أوجه المقارنة	حضارة جنوب غرب شبه الجزيرة العربية (بلاد اليمن)	حضارة بلاد الرافدين
أسماء الحضارات التي قامت بها	- حضارة معين - حضارة سبأ - حضارة حمير (درجة ويكتفى بنقطتين)	- السومريون - الأكاديون - الكلدانيون - البابليون - الآشوريون (درجة ويكتفى بنقطتين)
اسم الكتابة	- الأبجدية / الخط المسند ص ٨٧ (درجة)	-الكتابة المسمارية..... ص ٨٣ (درجة)

ب) اكتب فيما يلي : (يكتفى بنقطتين)

١- مصادر المياه في الوطن العربي . درجتان ص ٥٧

- مياه الأنهار
- المياه الجوفية
- الأمطار / الأفلاج
- البحيرات / مياه البحار / المحيطات / الخلجان

٢- العوامل التي تؤثر في مناخ الوطن العربي . درجتان ص ٤٦

- العوامل التي تؤثر في مناخ الوطن العربي .
- الموقع بالنسبة لدوائر العرض
- القرب او البعد عن المسطحات المائية
- التضاريس
- الرياح

٣- العوامل التي ساعدت على قيام الحضارة المصرية القديمة . درجتان ص ٧٥

- العوامل التي ساعدت على قيام الحضارة المصرية القديمة .
- تنوع الصخور والمعادن
- امتداد الصحراء
- نهر النيل
- اعتدال المناخ وجفافه