

تم تحميل هذا الملف من موقع ملفات الكويت التعليمية



[com.kwedufiles.www//:https](https://www.kwedufiles.com)

*للحصول على أوراق عمل لجميع الصفوف وجميع المواد اضغط هنا

* للحصول على أوراق عمل لجميع مواد الصف الخامس اضغط هنا

<https://kwedufiles.com/5>

* للحصول على جميع أوراق الصف الخامس في مادة اجتماعيات ولجميع الفصول, اضغط هنا

<https://kwedufiles.com/5social>

* للحصول على أوراق عمل لجميع مواد الصف الخامس في مادة اجتماعيات الخاصة بـ الفصل الأول اضغط هنا

<https://www.kwedufiles.com/5social1>

* لتحميل كتب جميع المواد في جميع الفصول للـ الصف الخامس اضغط هنا

<https://www.kwedufiles.com/grade5>

* لتحميل جميع ملفات المدرس فاطمة الزهراء الكاظمي اضغط هنا

[bot_kwlinks/me.t//:https](https://t.me/bot_kwlinks)

* للحصول على جميع روابط الصفوف على تلغرام وفيسبوك من قنوات وصفحات: اضغط هنا

الروابط التالية هي روابط الصف الخامس على مواقع التواصل الاجتماعي

مجموعة الفيسبوك

صفحة الفيسبوك

مجموعة التلغرام

بوت التلغرام

قناة التلغرام

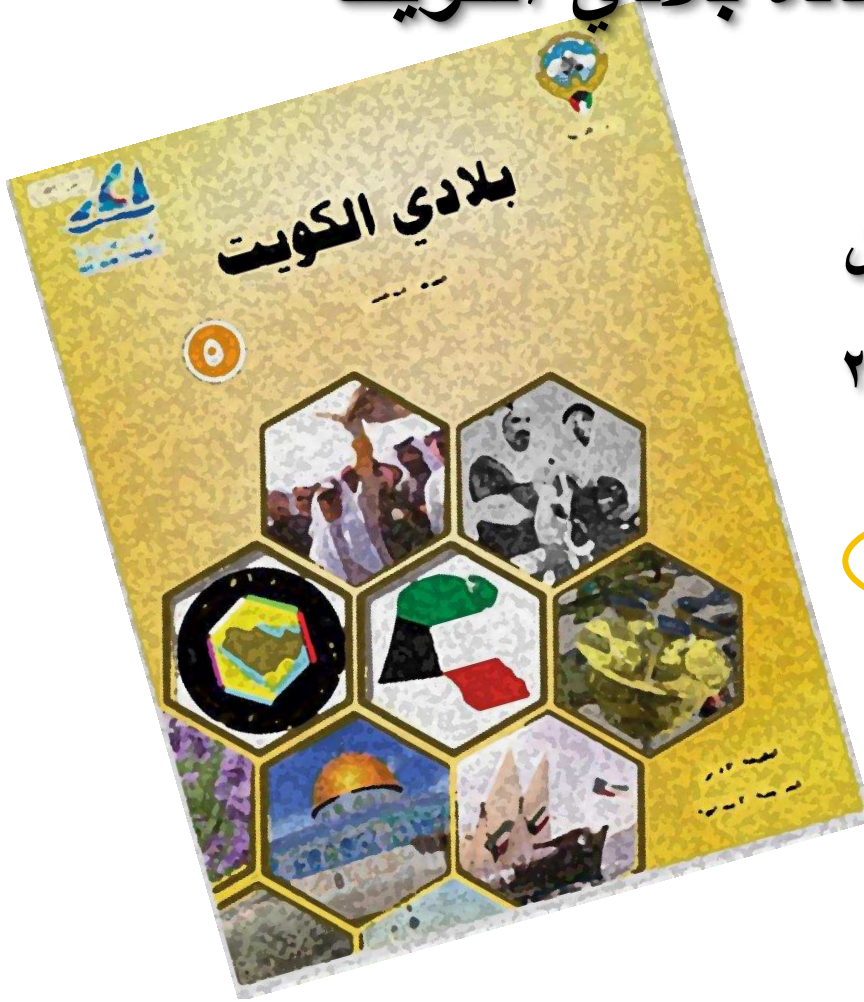
رياضيات على التلغرام

وزارة التربية
الإدارة العامة لمنطقة الأحمدية التعليمية
مدرسة مريم حمد بوادي إ / بنات

KwEduFiles.com

مذكرة مراجعة للصف الخامس

مادة بلادي الكويت



الفصل الدراسي الأول

العام ٢٠١٩ - ٢٠٢٠

ملاحظة : هذه المذكرة لاتغني
عن الكتاب المدرسي

مديرة المدرسة

أ. إيمان الشطي

رئيسة القسم

أ. سماح الهويدي

إعداد المعلمة

أ. فاطمة الزهراء الكاظمي

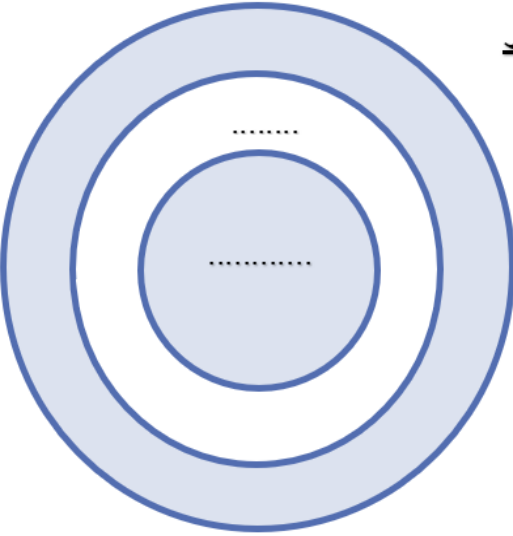
مراجعة الفصل الدراسي الاول / الصف الخامس
الوحدة الأولى / درس : بلادي الكويت صفحة ١٦

إعداد المعلمة : فاطمة الزهراء الكاظمي



س: صل ما بين
بين الصورة وما
يناسبها من نسبة
المياه ونسبة
اليابس في الكرة
الأرضية

س: رتب الكلمات حسب الأكبر إلى الأصغر داخل الدوائر
"خليج ، بحر ، محيط ، ثم اكتب تعريف المفاهيم



البحر :
الخليج :
المحيط :

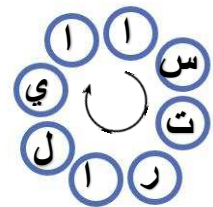
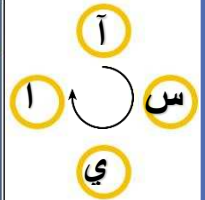
إعداد المعلمة : معصومة البلوشي القارات



تطبيق طريقة
(المتاهة) لتفسير
المفهوم التالي:

القارة هي :

تتبعي الأحرف وتعرفي على أكبر
وأصغر القارات مساحة



مراجعة الفصل الدراسي الاول / الصف الخامس
الوحدة الأولى / درس : بلادي الكويت صفحة ١٦

إعداد المعلمة : فاطمة الزهراء الكاظمي

س : اختر الإجابة الصحيحة من بين البدائل التالية :

١- تقع دولة الكويت في قارة ...

(أ) أفريقيا (ب) آسيا (ج) أوروبا (د) أمريكا الجنوبية

KwEduFiles.com

٢- عدد قارات الكرة الأرضية يساوي ...

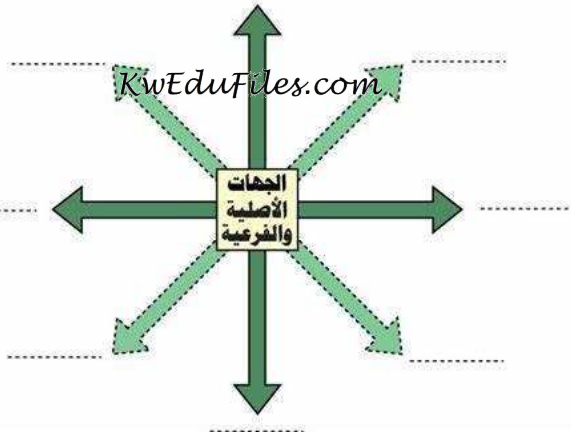
(أ) خمسة (ب) ستة (ج) سبعة (د) ثمانية

٣- القارة الغير مأهولة بالسكان هي قارة ...

(أ) القطبية الجنوبية (ب) استراليا (ج) أمريكا الشمالية (د) آسيا

TYPE PERSONAL NAME

مراجعة الفصل الدراسي الاول / الصف الخامس
الوحدة الأولى / درس : بلادي الكويت ودول الخليج العربية صفحة ٢٣
إعداد المعلمة : فاطمة الزهراء الكاظمي



س : أكتب
اسماء الجهات
الأصلية
والفرعية



س : ضع دائرة حول الشكل ✓ إن كانت الإجابة صحيحة
ودائرة حول الشكل ✗ إن كانت الإجابة خاطئة فيما يلي :

✗ ✓

١- عدد دول الخليج العربية يساوي ست دول

✗ ✓

٢- تقع دولة الكويت في جهة الجنوب لشبه الجزيرة العربية

✗ ✓

٣- تقع دول الخليج العربية على الساحل الشرقي للخليج العربي

✗ ✓

٤- المسطح المائي اسمه الخليج العربي

TYPE PERSONAL NAME

مراجعة الفصل الدراسي الاول / الصف الخامس
الوحدة الأولى / درس : بلادي الكويت ودول الوطن العربي صفحة ٢٦
إعداد المعلمة : فاطمة الزهراء الكاظمي

اجمعي الأرقام و استنتجي عدد دول الوطن العربي =



س : يقع الوطن
العربي بين قارتي
----- و -----

س : حدد موقع
دولة الكويت
بالنسبة
للوطن
العربي
.....


صلي ما بين الصورة ومفهومها ثم عددي السمات
المشتركة بين دول الوطن العربي

الدين الإسلامي

التراث والتاريخ

الأهداف المشتركة

اللغة العربية



إعداد المعلمة فاطمة الزهراء الكاظمي


مراجعة الفصل الدراسي الاول / الصف الخامس
 الوحدة الأولى / درس : بلادي الكويت ودول الوطن العربي صفحة ٢٦
 إعداد المعلمة : فاطمة الزهراء الكاظمي



س : لاحظ الخريطة ثم اكمل الفراغ :

- ١- موقع العالم الاسلامي بالنسبة للعالم هو
- ٢- موقع دولة الكويت بالنسبة للعالم الاسلام هو
- ٣- عدد القارات التي يمتد فيها العالم الاسلامي هو

س: اكتب مميزات العالم الاسلامي :

٣- كثرة الطبيعية	١- عدد المسلمين سكان العالم
١- يطل على بحر و محيطات 	٢- مساحة العالم الاسلامي تساوي مساحة الكرة الارضية

قارني بين مفهومي

مضيق : ص ٢٤

ممر من الماء **يفصل** بين

قناة : ص ٢٨

ممر مائي يشق **للربط** ما بين

رتبي الكلمات لتكون مفهوم " العالم الاسلامي " فيما يلي :

مجموعة دول

يكون فيها

عدد المسلمين

٥٠ %

التعريف

مراجعة الفصل الدراسي الاول / الصف الخامس
الوحدة الثانية / درس : الموارد الطبيعية في بلاد الكويت صفحة ٣٨
إعداد المعلمة : فاطمة الزهراء الكاظمي

س : عرف المفهوم الموارد الطبيعية ؟

KwEduFiles.com

س : أكمل المخطط التالي

أنواع الموارد الطبيعية

.....

.....



س : ضع دائرة حول الموارد
التي تمثل النوع المكتوب
اعلاه في المخطط السهمي :

TYPE PERSONAL NAME

مراجعة الفصل الدراسي الاول / الصف الخامس

الوحدة الثانية / درس : أ. النبات الطبيعي في بلاد الكويت صفحة ٤١

إعداد المعلمة : فاطمة الزهراء الكاظمي

س : عرف مفهوم النباتي الطبيعي ؟ ص٤٢

.....
KwEduFiles.com

س : عرف مفهوم المحمية الطبيعية ؟ ص٤٥

س : صحح ما تحته خط في ما يلي :

(.....)

١- معظم النباتات تنمو في فصل الخريف

(.....)


٢- النباتات الطبيعية في دولة الكويت من النوع القطبي

س : صنف الكلمات في الجدول حسب ما تمثله :

(العرفج / موسمية / تنمو بعد سقوط المطر / تنمو طوال العام / الخزامى / دائمة)

النباتات الحولية	النباتات المعمرة
.....
.....
.....


س : من خلال الصور عددي أهمية النباتات الطبيعية :




مراجعة الفصل الدراسي الاول / الصف الخامس

الوحدة الثانية / درس : أ. النبات الطبيعي في بلاد الكويت صفحة ٤١

إعداد المعلمة : فاطمة الزهراء الكاظمي



KwEduFiles.com



س: اكتب جهود الدولة في المحافظة على النبات الطبيعي :

.....
.....
.....

س: عدد المشكلات التي يواجهها النبات الطبيعي :

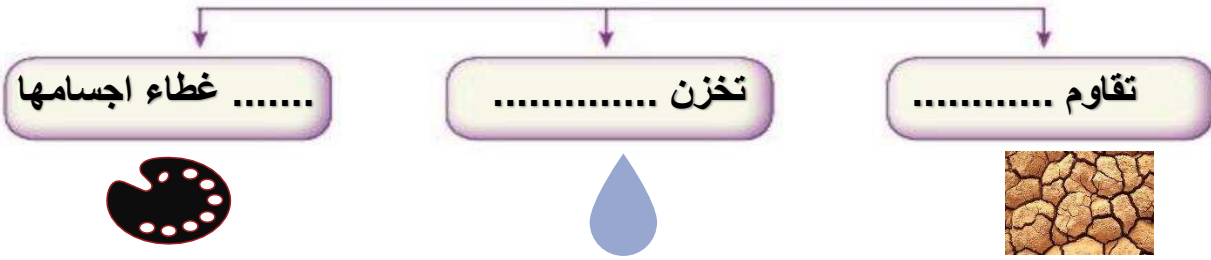
.....
.....
.....

TYPE PERSONAL NAME

مراجعة الفصل الدراسي الاول / الصف الخامس
 الوحدة الثانية / درس :ب. الثروة الحيوانية في بلاد الكويت صفحة ٤٨
 إعداد المعلمة : فاطمة الزهراء الكاظمي

س: اكمل المخطط السهمي بما هو مطلوب منك :

من خلال الصور اذكر كيف تتكيف الحيوانات في بلادك الكويت؟ KwEduFiles.com



س: علل ما يلي :

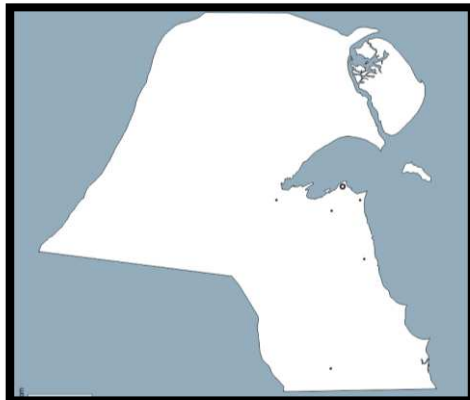
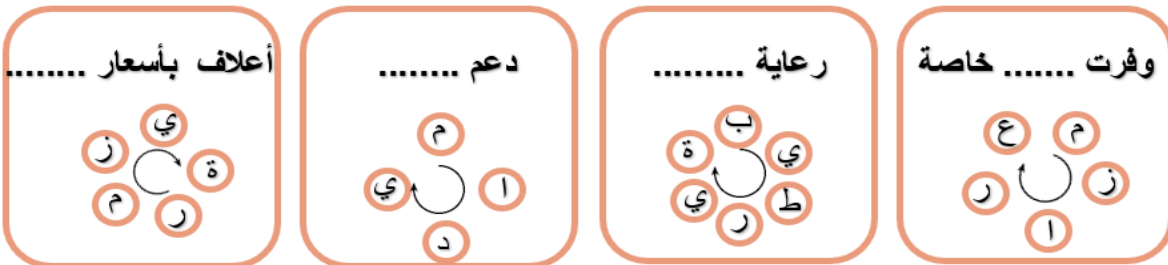
١- خطر إنقراض بعض الحيوانات وانخفاض أعدادها ؟

.....

١- إقامة المحميات الطبيعية في دولة الكويت ؟

.....

س : كيف شجعت بلاد الكويت على الاهتمام بحيوانات الرعي والدواجن ؟



س : حدد على الخريطة مستعينا بالرموز التي امامك أهم مناطق تربية الثروة الحيوانية في دولة الكويت


- الصليبية ■
- كبد ●
- الوفرة ▲
- الشقيا ★

PERSONAL NAME


مراجعة الفصل الدراسي الاول / الصف الخامس
الوحدة الثانية / درس : جد. الثروة السمكية في بلادي الكويت صفحة ٥٣
إعداد المعلمة : فاطمة الزهراء الكاظمي

س : اكتب في ما يلي جهود الدولة في المحافظة

على الثروة السمكية :



س : اعكس الحروف في كل
صورة واستنتج اشهر أنواع
الاسماك في بلادي



ي د ي ب ز



ر و م ا ه



د ي م




ن ا ي ب ر

س : طابق الاشكال الهندسية مع الصور واكتشف طرق الصيد القديمة :

شباك

قرقور

حظرة



TYPE PERSONAL NAME

مراجعة الفصل الدراسي الاول / الصف الخامس

الوحدة الثانية / درس :د. الثروة النفطية في بلادي الكويت صفحة ٥٥

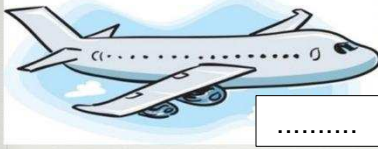
إعداد المعلمة : فاطمة الزهراء الكاظمي

س: ضع الكلمات المناسبة على الصور المناسبة لتتعرف على


استخدامات النفط :

KwEduFiles.com


(كيروسين - صناعات كيميائية - إضاءة - بانزين - تدفئة)



.....



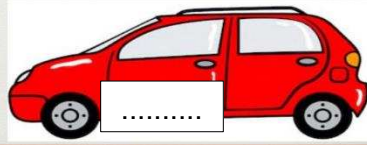
.....



.....



.....



.....

س: عرفى النفط

س: اكتبى مراحل تكوين النفط

س : اختر من البدائل التالية الإجابة الصحيحة في ما يلي :

- أكبر حقل نفط في دولة الكويت هو :
(أ) حقل بحره (ب) حقل برقان (ج) حقل الصابريه (د) حقل الروضتين
- مصدر الطاقة الأساسي والأول في العالم هو :
(أ) الذهب (ب) الفحم (ج) النفط (د) الغاز الطبيعي
- تم تصدير أول شحنة نفط كويتي عام :
(أ) ١٩٤٣ م (ب) ١٩٤٤ م (ج) ١٩٤٥ م (د) ١٩٤٦ م

س : انكر جهود الدولة في المحافظة على الثروة النفطية :

.....
.....

س : ظلل المربع (أ) إذا كانت الإجابة صحيحة و المربع (ب) إذا كانت الإجابة خاطئة :

أ	ب

- تم تصدير أول شحنة نفط من ميناء العبدلي
- تم اكتشاف النفط في عهد الشيخ أحمد الجابر الصباح
- حرققت ابار النفط الكويتية عام ١٩٣٦
- اكتشف حقل الصابرية عام ٢٠٠٩

مراجعة الفصل الدراسي الاول / الصف الخامس

الوحدة الثانية / درس : دور الفرد والمجتمع في المحافظة على الموارد الطبيعية صفحة ٦٢
إعداد المعلمة : فاطمة الزهراء الكاظمي

س : عرف البيئة :

KwEduFiles.com

س : اكتب النتائج المترتبة على الممارسات السلبية ضد البيئة الطبيعية :

.....
.....

.....
.....

س : صل بين الشعار ودلالته في ما يلي :

التدوير

ترشيد الاستهلاك

حماية البيئة

العمل التطوعي



TYPE PERSONAL NAME

س : عرف مفهوم الطاقة

.....

أنواع الطاقة

س : أكمل المخطط السهمي التالي :

غير متجددة



.....

.....

.....

مميزاتها :

.....
.....





.....




مميزاتها :

.....
.....

س : قارن بين استخدامات الرياح في الماضي والحاضر؟

في الماضي	في الحاضر
	
	



س : عرف دوارة الرياح؟

.....
.....

س : اكمل العبارات التالية بما يناسبها؟

- ١- اكتشف الغاز الطبيعي الحر في دولة الكويت عام
- ٢- من مميزات طاقة الرياح أنها و
- ٣- يستخدم الغاز الطبيعي في و
- ٤- حقول الغاز الحر في دولة الكويت و

بتطبيق طريقة دلالة الصور استخرجي مميزات الغاز الطبيعي



اعداد المعلمة : فاطمة الزهراء الكاظمي

المميزات

.....

١- آمن جداً و  للبيئة

.....

٢- يُعد من الغازات الغير 

.....

٣-  أنواع الطاقة استخداماً

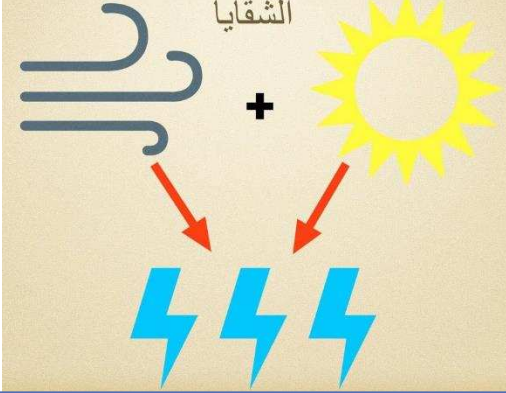
.....

٤- ليس له  ولا 


مراجعة الفصل الدراسي الاول / الصف الخامس
 الوحدة الثالثة / درس : استثمار الطاقة البديلة والنظيفة في بلادي الكويت صفحة ٨٠
 إعداد المعلمة : فاطمة الزهراء الكاظمي

تحويل الطاقة الـ
 الـ إلى طاقة
 KwEduFiles.com و طاقة

لاحظي الصور وحددي أهداف محطة الشقاي




س: احسب نسبة توليد الطاقة الكهربائية في محطة الشقاي




بتطبيق طريقة دلالة الصور عددي مزايا منطقة الشقاي



اتساع
.....



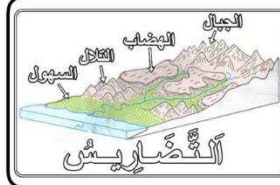
استمرار
.....



سطوع
.....



شدة
.....



سهولة
.....

٢ - أكمل الشكل التالي:

محطات منطقة الشقاي

