

تم تحميل هذا الملف من موقع المناهج الكويتية



منطقة الجهراء التعليمية

الملف نموذج أسئلة منطقة الجهراء

موقع المناهج ← المناهج الكويتية ← الصف السابع ← علوم ← الفصل الثاني

روابط مواقع التواصل الاجتماعي بحسب الصف السابع



روابط مواد الصف السابع على تلغرام

[الرياضيات](#)

[اللغة الانجليزية](#)

[اللغة العربية](#)

[التربية الاسلامية](#)

المزيد من الملفات بحسب الصف السابع والمادة علوم في الفصل الثاني

<a href="#">انفوجرافيك النظام البيئي</a>	1
<a href="#">كتاب الطالب 7</a>	2
<a href="#">دليل المعلم 7</a>	3
<a href="#">تلخيص الطفو</a>	4
<a href="#">حل الوحدة الاولى</a>	5

# مخالفات لائحة الامتحانات

العام الدراسي ٢٠٢٢/٢٠٢٣

وزارة التربية

وزارة التربية  
الإدارة العامة لمنطقة الجهراء التعليمية  
مدرسة لؤلؤة القعود المتوسطة بنات

الاسم	الرقم	التاريخ
		١٥/٥/١٩
		٢٠٢٢/٥/١٥

مدرسة لؤلؤة القعود م بنات

## توقيت التوقيع على المراقبة



وزارة التربية

الإدارة العامة لمنطقة الجهراء التعليمية  
التوجيه الفني للعلوم

امتحان نهاية الفترة الدراسية الثانية  
في مجال العلوم  
للسابع المتوسط

العام الدراسي ٢٠٢٢/٢٠٢٣ م  
الزمن: ساعتان وربع  
عدد الأوراق: ( ٤ )

السؤال الأول: اختر الإجابة الصحيحة علمياً لكل من العبارات التالية وضع إشارة ( ✓ )  
في المربع المقابل لها (١×٨):

١. البحيرة التي يقضي فيها البيط معظم حياته أو يعيش بالقرب منها تعتبر :

- المجال  التجمع  المجموعة البيئية  الموطن الطبيعي


٢. الجسم المصمت الذي كثافته أكبر من كثافة الماء:

- يغمس  يطفو  يعلق فوق القاع  يعلق في المنتصف

٣. المكعب الذي يلقي قوة دفع من الماء أكبر حجمه يساوي:

- 10cm<sup>3</sup>  15 cm<sup>3</sup>  20cm<sup>3</sup>  25cm<sup>3</sup>

٤. الرسم الذي يوضح العلاقة بين كثافة السائل وقوة دفع السائل :



٥. مادة تتكون من اتحاد عنصرين أو أكثر :

- العنصر  المركب  المخلوط  المحلول

٦. الرمز الذي يمثل العنصر هو :

- He  Mgo  CaO  HCL

٧. مادة تستخدم في صناعة الاسمنت:

- هيدروكسيد المغنيسيوم  كلوريد الصوديوم  أكسيد الكالسيوم  كلوريد البوتاسيوم

٨. مكون يمثل أعلى نسبة من مكونات التربة الدبالية :

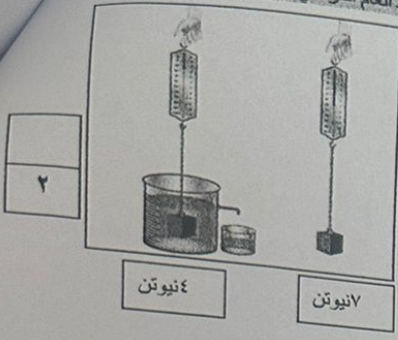
- المعادن  الماء  الهواء  مواد عضوية

درجة السؤال الاول

٨

نموذج امتحان نهاية الفترة الدراسية الثالثة في مجال العلوم للصف السابع المتوسط العام الدراسي ٢٠٢٣-٢٠٢٤

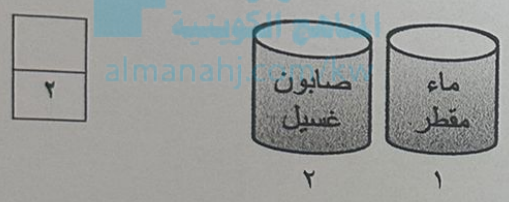
**السؤال الخامس ( ب ):**  
**(١) ادرس الشكل أو الرسم التالي وأجب عن المطلوب: (٣×٢)**



١- احسب قوة دفع السائل.

القانون : .....  
الحل : .....

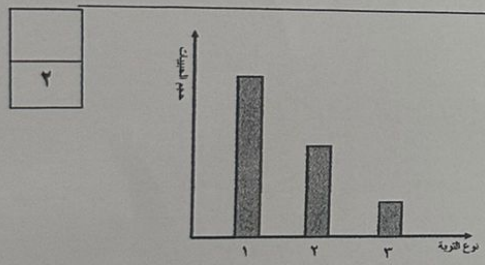
٢- عند وضع ورقتي تباع الشمس الحمراء في الكأسين.



في الكأس رقم ( ١ ) .....

في الكأس رقم ( ٢ ) .....

**(٢) ادرس الرسم البياني ثم أجب.**



العمود رقم ( ١ ) تمثل تربة .....

العمود رقم ( ٣ ) تمثل تربة .....

درجة السؤال الخامس  
١٢

الدرجة النهائية

٥٠

,,, انتهت الأسئلة، مع التمنيات لكم بالنجاح والتوفيق



مدرسة لولوه القعود م بنات .

توقيت التوقيع على

توقيت التوقيع على المراقبة

مدرسة لولوه القعود م بنات .

نموذج امتحان نهاية الفترة الدراسية الثانية في مجال العلوم للصف السابع المتوسط العام الدراسي ٢٠٢٣-٢٠٢٤

السؤال الثاني (أ): أكتب بين القوسين كلمة ( صحيحة ) للعبارة الصحيحة وكلمة ( خطأ ) للعبارة غير الصحيحة علمياً في كل مما يأتي : (١×٨)

١. يعتبر الأسد في جميع الشبكات الغذائية كائن مفترس. ( )
٢. الكائن المستهلك يستخدم ضوء الشمس لصنع الغذاء. ( )
٣. إذا غمر جسم في سائل فإن وزنه يقل بمقدار قوة دفع السائل له. ( )
٤. الأدوية المضادة لحموضة المعدة مصنوعة من الأحماض. ( )
٥. غاز الهيدروجين يساعد على الاشتعال. ( )
٦. التجوية هي العملية المسؤولة عن تكوين التربة. ( )
٧. الخبثاري أماكن تحتفظ بالماء لمدة قصيرة. ( )
٨. العقد البكتيرية في جذور النباتات البقولية تثبت النيتروجين في التربة. ( )

٨

السؤال الثاني (ب): أكمل الفراغات التالية بما يناسبها علمياً: (١×٤)

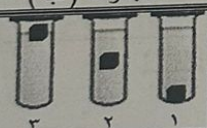
- ١- يعتبر الأرنب في السلسلة الغذائية كائن .....
- ٢- تطفو السفينة لأنها تزيح مقدار من الماء يساوي .....
- ٣- يرمز لعنصر الكلور بالرمز .....
- ٤- التربة التي تحتوي على..... تكون الأنسب للزراعة .

٤

درجة السؤال الثاني

١٢

السؤال الثالث : في الجدول التالي اختر العبارة أو الشكل من المجموعة ( ب ) و أكتب رقمها أمام ما يناسبها من عبارات المجموعة ( أ ): (١×٦)

الرقم	المجموعة ( أ )	المجموعة ( ب )
( )	-قوة دفع السائل الأكبر في المخبار.	
( )	-قوة دفع السائل الأقل في المخبار.	
( )	-غاز يستخدم في ملأ المناطيد.	٤. I
( )	-فلز سائل يستخدم في الترمومترات.	٥. He
( )	- حمض يستخدم في تركيب البطاريات.	٦. Hg
( )	- حمض يعتبر مصدر لفيتامين C.	٧. الكبريتيك
		٨. الأسكوربيك
		٩. الهيدروكلوريك

٦

درجة السؤال الثالث

توقيت التوقيع على المراقبة

نموذج امتحان نهاية الفترة الدراسية الثانية في مجال العلوم للصف السابع المتوسط العام الدراسي ٢٠٢٣-٢٠٢٤

السؤال الرابع (أ): علل لما يأتي تعليلا علميا سليما :- (٢×٣)

١. يملأ قائد الغواصة الخزانات بالماء.

٢. المادة الغازية لها شكل متغير.

٣. الدبال مهم للنباتات.

السؤال الرابع(ب): قارن بين كل من: (٢×٣)

وجه المقارنة	الجمل	الدب القطبي
مكان العيش		

وجه المقارنة	الجسم الطافي	الجسم المغمور
اتجاه قوة دفع السائل		

وجه المقارنة	مكعب خشب	ماء
حركة الجزيئات		

درجة السؤال الرابع

السؤال الخامس (أ): أي مما يلي لا ينتمي للمجموعة مع نكر السبب :- (٢×٣)

١. ضوء الشمس - بخار الماء - النبات - التربة.

الذي لا ينتمي هو.....السبب:

٢. Na - O<sub>2</sub> - CO<sub>2</sub> - C .

الذي لا ينتمي هو.....السبب:

٣. الليمون. - الخل - الصابون - تمر هندي.

الذي لا ينتمي هو.....السبب: