

تم تحميل هذا الملف من موقع المناهج الكويتية



منطقة حولي التعليمية

الملف نموذج أسئلة اختبار منطقة حولي التعليمية

[موقع المناهج](#) ← [المناهج الكويتية](#) ← [الصف السادس](#) ← [اجتماعيات](#) ← [الفصل الثاني](#)

روابط مواقع التواصل الاجتماعي بحسب الصف السادس



روابط مواد الصف السادس على تلغرام

[الرياضيات](#)

[اللغة الانجليزية](#)

[اللغة العربية](#)

[التربية الاسلامية](#)

المزيد من الملفات بحسب الصف السادس والمادة اجتماعيات في الفصل الثاني

مراجعة	1
مراجعة	2
مراجعة	3
مذكرة في مادة الاجتماعيات	4
مراجعة محلولة ومفيدة في مادة الاجتماعيات	5



وزارة التربية

الإدارة العامة لمنطقة حولي التعليمية مقرر / الكويت ودول الخليج العربية
التوجيه الفني للاجتماعيات الصف السادس المتوسط
العام الدراسي: ٢٠٢٣/٢٠٢٤ م الزمن: ساعة و ٥ دقائق
عدد الصفحات: ٥

أجب عن جميع الأسئلة

السؤال الأول (موضوعي): ويتكون من (أ - ب - ج - د - هـ - و - ي):
(أ) ظلل الخيار الصحيح من بين الخيارات التي تلي كل عبارة مما يلي:

١ - أول حقل بدأ التنقيب فيه عن النفط في دولة الكويت عام ١٩٣٤ م:

برقان	الروصتين	بحرة	الزور
-------	----------	------	-------

٢ - المحصول الزراعي الذي كانت للمملكة العربية السعودية تجربة رائدة في إنتاجه:

القمح	الأرز	الفروالة	التفاح
-------	-------	----------	--------

٣ - مجموعة من العادات والتقاليد والقيم في مجتمع من المجتمعات:

اللغة	الثقافة	السلالات	التاريخ المشترك
-------	---------	----------	-----------------

٤ - المدينة التي تم فيها الإعلان عن قيام السوق الخليجية المشتركة:

الكويت	المنامة	أبوظبي	الدوحة
--------	---------	--------	--------

٥ - العام الميلادي الذي تعرضت فيه دولة الكويت للغزو العراقي الغاشم:

١٩٨٨ م	١٩٨٩ م	١٩٩٠ م	١٩٩١ م
--------	--------	--------	--------

٦ - الطبقة التي تمثل درع واقٍ للأحياء ضد خطر الأشعة فوق البنفسجية الضارة:

طبقة الهواء	طبقة الأوزون	طبقة الملوثات	طبقة الضوضاء
-------------	--------------	---------------	--------------

(ب) صوّب ما تحته خط في العبارات التالية:

م	العبارة	التصويب
١	تم تصدير أول شحنة من النفط الكويتي عام ١٩٤٦ م في عهد الشيخ صباح السالم.	
٢	السلع والمنتجات التي تباعها دولنا إلى الخارج تسمى <u>الواردات</u> .	
٣	أعلى دولة خليجية في نسبة الوافدين عام ٢٠٠٦ م اسمها <u>دولة قطر</u> .	
٤	الدولة الخليجية الوحيدة التي لم تتعرض للإستعمار اسمها <u>سلطنة عُمان</u> .	
٥	العنف ظاهرة <u>موروثة</u> .	
٦	قوة مشتركة تضم جميع دول مجلس التعاون الخليجي تسمى <u>عاصفة الصحراء</u> .	

تابع السؤال الأول (موضوعي) :

(ج) صنف ما يلي حسب ما يناسبه في الجدول الذي يليه :

- ١- مظاهر التعاون بين دول مجلس التعاون الخليجي :
(توحيد المناهج التعليمية - ايدانة احتلال الجزر الاماراتية الثلاثة - مناصرة قضية فلسطين)

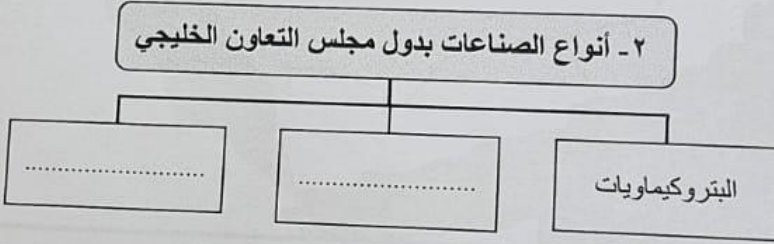
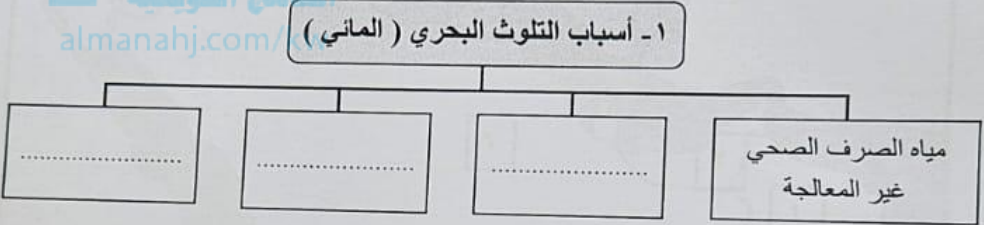
التعاون الثقافي	التعاون السياسي

٢- الحضارات التالية حسب موقعها في دول الخليج العربية :

(تاروت - دلمون - أم النار)

البحرين	قطر	السعودية

(د) أكمل المخططات السهمية التالية :



(هـ) ضع علامة (√) أمام العبارة الصحيحة وعلامة (×) أمام العبارة الخاطئة :

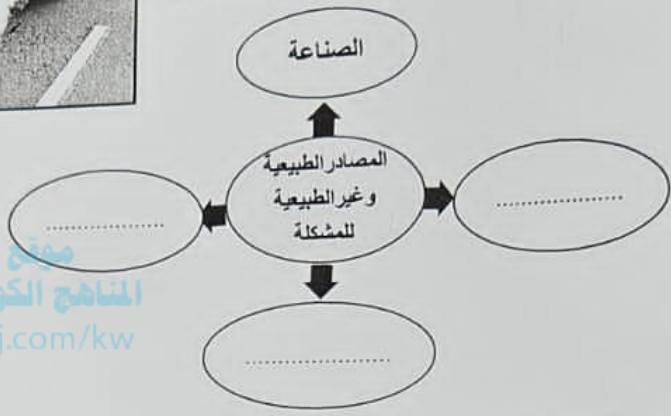
العلامة	العبارة
	١- مملكة البحرين أعلى دولة خليجية في نسبة إنتاج النفط في دول مجلس التعاون الخليجي .
	٢- الكثافة السكانية تقاس بقسمة عدد السكان على مساحة الدولة .
	٣- عدد الآبار النفطية الكويتية التي فجرها وأحرقها النظام العراقي البائد أكثر من ٥٢٠ بئراً .
	٤- الطباخ والسائق والمربية من وظائف العمالة المنزلية .

المقال الثالث (مقالى) : ويتكون من (أ - ب - ج) :



١- أكتب نوع المشكلة الموضحة في الصورة.

٢- أكمل الخريطة الذهنية للمصادر الطبيعية وغير الطبيعية للمشكلة.



منهج المناهج الكويتية
almanahj.com/kw

(ب) فرق بين كل مما يلي :

حلول لعلاج مشكلة العنف	حلول لعلاج مشكلة العمالة المنزلية
.....
.....

(ج) عدد ما يلي :


١- أسباب قيام دول الخليج العربية بإقامة العديد من الموانئ النفطية.

.....
.....

٢- مظاهر التلوث الناتجة عن الغزو العراقي لدولة الكويت.

.....
.....

تابع السؤال الأول (موضوعي) :
(و) ضع عنواناً مناسباً للصور التالية :



١-
٢-
٣-

(ي) أمامك خريطة دول الخليج العربية الصماء أكتب الرقم الدال على العبارات التالية :



- ١- حقل بركان النفطى يقع في الدولة التي يمثلها على الخريطة الرقم ()
- ٢- سهل الباطنة الزراعي يقع في الدولة التي يمثلها على الخريطة الرقم ()
- ٣- الدولة التي هاجر إليها المعاصيد يمثلها على الخريطة الرقم ()
- ٤- منطقة جبل علي الصناعية تقع في الدولة التي يمثلها على الخريطة الرقم ()
- ٥- الخليج العربي يمثلها على الخريطة الرقم ()
- ٦- حقل الغوار النفطى يقع في الدولة التي يمثلها على الخريطة الرقم ()



السؤال الثاني (مقالى) : ويتكون من (أ - ب - ج) :

(أ) اقرأ الفقرة التالية ، ثم أجب عما يليها من أسئلة :

شهدت منطقة الخليج العربية بعد إكتشاف النفط نمواً سكانياً مضطرباً . نتيجة لأسباب عدة أهمها " ارتفاع دخل الفرد - توفر الرعاية الصحية - توفر فرص العمل " مما شجع على استقطاب الهجرات الداخلية والخارجية .

١ - ضع عنواناً مناسباً للفقرة .

٢ - علل شهدت منطقة الخليج العربية بعد إكتشاف النفط نمواً سكانياً مضطرباً .

.....
.....
.....

(ب) أكتب نقطتين لكل مما يلي :

١ - الروابط الثقافية التي تربط بين سكان دول الخليج العربية .

.....
.....

٢ - التحديات التي تواجه دول الخليج العربية .

.....
.....

(ج) عرّف المفاهيم التالية :

م	المفهوم	التعريف
١	إحتياطي النفط
٢	الترانزيت
٣	التلوث
٤	الصناعة