

تم تحميل هذا الملف من موقع المناهج الكويتية



عُلا

الملف مذكرة عُلا الإثرائية مرفقة بالإجابة

[موقع المناهج](#) ⇨ [المناهج الكويتية](#) ⇨ [الصف السادس](#) ⇨ [اجتماعيات](#) ⇨ [الفصل الأول](#)

روابط مواقع التواصل الاجتماعي بحسب الصف السادس



روابط مواد الصف السادس على تلغرام

[الرياضيات](#)

[اللغة الانجليزية](#)

[اللغة العربية](#)

[التربية الاسلامية](#)

المزيد من الملفات بحسب الصف السادس والمادة اجتماعيات في الفصل الأول

نموذج احابة اختبار لمنطقة مبارك الكبير عام 2016	1
اوراق عمل مهمة في مادة الاجتماعيات	2
بنك اسئلة ممتاز في مادة الاجتماعيات	3
بنك معلومات مهم في مادة الاجتماعيات	4
تلخيص اجتماعيات بشكل مبسط	5

UULA.COM

الأسبوع



UULA

الاجتماعيات

الكورس الأول



2025 - 2024



الموقع

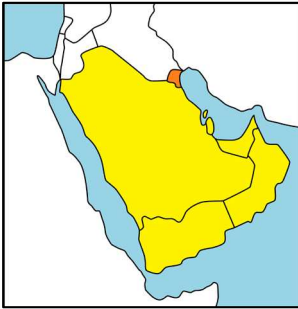
أكمل ما يلي:

- تقع منطقة الخليج العربي بالنسبة لقارة آسيا في الجهة الجنوبية الغربية
- عدد الدوائر العرضية التي تشغلها منطقة الخليج العربية شمال خط الاستواء 16
- عدد خطوط الطول التي تشغلها منطقة الخليج العربية شرق خط جرينتش 25
- تقع منطقة الخليج العربية بالنسبة لمسطح الخليج العربي في الجهة الغربية
- تقع دولة الكويت بالنسبة للخليج العربي في جهة الشمال الغربي

علل أهمية موقع منطقة الخليج العربية

☆ ممكن أن يأتي السؤال بصيغة أخرى: علل - شبه الجزيرة العربية تقع في موقع جغرافي مهم

- لأنها تقع في وسط العالم
- تتحكم في أهم طرق التجارة العالمية



هو ذراع مائي لبحر العرب يمتد من خليج عمان جنوباً حتى شط العرب شمالاً

الخليج العربي

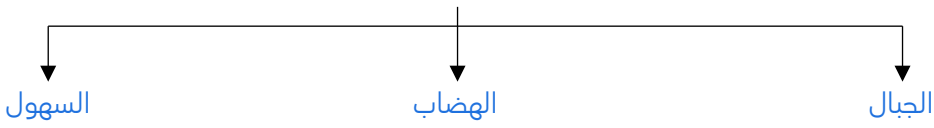
❏ فرق بين كل من:

الموقع النسبي	الموقع الفلكي
الموقع بالنسبة لليابس والماء	الموقع بالنسبة لخطوط الطول ودوائر العرض

❏ قارن بين كل من:

دوائر العرض	خطوط الطول	وجه المقارنة
خطوط وهمية تقسم الأرض إلى قسمين شمالي وجنوبي	خطوط وهمية تقسم الأرض إلى نصفين شرقي وغربي	التعريف
180	360	العدد
خط الاستواء	خط جرينتش	الخط الرئيسي

عدد أشكال التضاريس



الجبل

كل مرتفع وله قمة لا يقل ارتفاعه عن 1000 متر

التل

كل مرتفع وله قمة ويقل ارتفاعه عن 1000 متر

الهضبة

أرض مرتفعة سطحها مستوي وتمتد لمساحات كبيرة

السهول

أجزاء فسيحة من سطح الأرض تتميز باستوائها وقلة ارتفاعها

المناخ

المناخ

حالة الجو في مكان ما خلال فترات زمنية طويلة

أكمل ما يلي:

المناخ السائد في منطقة الخليج العربي هو صحراوي قاري

ترتفع درجة الحرارة في الصيف في منطقة الخليج العربي إلى أكثر من 40 درجة

تنخفض درجة الحرارة في منطقة الخليج العربي في فصل الشتاء إلى أقل من 4 درجات

تتميز الأمطار في منطقة الخليج العربي بأنها قليلة وغير منتظمة وتسقط في فصل الشتاء

تسقط الأمطار في الجبل الأخضر بعمان وعسير بالسعودية في فصل الصيف

عدد - مميزات الأمطار في منطقة الخليج العربي

- قليلة
- غير منتظمة
- تسقط في فصل الشتاء

عدد أنواع الرياح التي تهب على دول الخليج العربي

- الرياح الشمالية
- الرياح الجنوبية الشرقية (الكوس)
- الزوابع (العواصف الترابية)

الكوس

هي الرياح الجنوبية الشرقية



الحياة النباتية والحيوانية

❏ علل الحياة النباتية والحيوانية فقيرة في دول الخليج العربية بسبب قلة الأمطار

❏ أكمل النباتات الطبيعية في منطقة الخليج العربي أغلبها نباتات صحراوية

❏ عدد أنواع (أقسام) النباتات في منطقة الخليج العربية

- نباتات معمرة
- نباتات حولية

❏ قارن بين كل من:

وجه المقارنة	النباتات المعمرة	النباتات الحولية
التعريف	هي نباتات متوفرة طوال العام لأنها تتحمل الجفاف وارتفاع درجة الحرارة	نباتات يرتبط وجودها بموسم سقوط المطر
مثال	الصبار والعرفج والثندا والرمث	الخبيزة والحويذان والعنصيل

علل لما يلي :

❏ توافر النباتات المعمرة في منطقة الخليج العربي طوال العام

- لأنها تتحمل الجفاف وارتفاع درجات الحرارة
- جذورها الطويلة
- قلة أوراقها
- لكثرة الأشواك فيها
- قدرتها على تخزين المياه

❏ عدد أنواع الحيوانات التي تعيش في منطقة الخليج العربية

- الحيوانات المستأنسة (الإبل - الأغنام - الماعز)
- الحيوانات غير المستأنسة (الزواحف : السحلية - الضب - الثعبان)
- الحيوانات البرية (الغزلان - الثعالب - الذئاب)



الأنشطة البرية

❏ عدد - الخصائص البشرية لسكان منطقة الخليج العربية قديماً

- كانت حياة السكان قاسية وخشنة
- تشابه الأعمال التي يقوم بها أبناء منطقة الخليج العربية
- الأعمال كانت مرتبطة بالبيئة البرية والبيئة البحرية

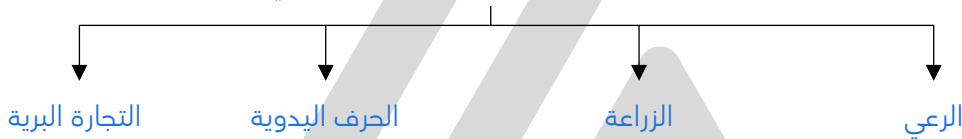
❏ علل كانت حياة السكان في البيئة الصحراوية لدول الخليج العربية قاسية وخشنة

- بسبب فقر البيئة
- قلة الموارد وخاصة المياه

❏ علل تشابه الأعمال التي يقوم بها أبناء منطقة الخليج العربي قديماً

بسبب تشابه الظروف الجغرافية والبيئية والمناخية

❏ عدد الأنشطة البرية لسكان منطقة الخليج العربي قديماً



أكمل ما يلي:

- ❏ بالرغم من فقر النباتات في منطقة الخليج العربية إلا أنه يستفاد منه في حرفة تسمى الرعي
- ❏ حرفة تعتمد على ما ينمو من نباتات بعد سقوط الأمطار في منطقة الخليج العربي تسمى الرعي
- ❏ النباتات التي تستخدم كمرعى للإبل والأغنام تسمى النباتات المعمرة

هي المياه التي توجد في باطن الأرض

المياه الجوفية

منطقة تقع في الصحراء فيها مياه عذبة صالحة للزراعة

الواحة

❏ عدد أنواع الحرف اليدوية لأبناء منطقة الخليج العربية

☆ ممكن أن يأتي السؤال بصيغة أخرى: اكتب المدلول المناسب للصور التالية



خياطة البشوت




حياكة السدو



صناعة الخوص

عدد طرق التجارة البرية القديمة بالجزيرة العربية



الأنشطة البحرية

عدد أنواع الأنشطة البحرية لسكان منطقة الخليج العربي قديماً



عدد وسائل صيد الأسماك قديماً

- الميدار
- الحظرة
- الفرقور

علل كانت مهنة الغوص على اللؤلؤ من أشهر الحرف التي مارسها أبناء دول الخليج العربية قديماً

لأن الاقتصاد كان يعتمد اعتماداً رئيسياً على الغوص

أكمل ما يلي:

- مهنة كان يعتمد عليها الاقتصاد في منطقة الخليج العربي اعتماداً رئيسياً تسمى الغوص على اللؤلؤ
- الشهر الذي يبدأ فيه موسم الغوص على اللؤلؤ هو شهر يونيو (6)
- الشهر الذي ينتهي فيه موسم الغوص على اللؤلؤ هو شهر سبتمبر (9)
- عدد الشهور التي يستغرقها موسم الغوص على اللؤلؤ أربعة أشهر

فرق بين كل من:

☆ ممكن أن يأتي السؤال بصيغ أخرى: **عرف - أكمل**

القفال	الدشة
نهاية موسم الغوص	بداية موسم الغوص

علل انصراف دول الخليج العربي عن حرفة الغوص على اللؤلؤ

- بسبب اكتشاف النفط
- ظهور اللؤلؤ الصناعي

المهنة	أهم الأعمال
النوخذة	ربان السفينة
المجدي	رئيس البحرية
الغواص	يغوص في أعماق البحر بحثاً عن اللؤلؤ
السيب	يسحب الغاصة من أعماق البحر
النهام	مطرب السفينة
الرضيف	صغار السن والمساعد للسيب في السفن الكبيرة
التباب	الصبية الذين يعملون على ظهر السفينة لاكتساب الخبرة
الطواش	تاجر اللؤلؤ

أكمل ما يلي:

- الحرفة الأساسية والمكملة للأنشطة البحرية تسمى صناعة السفن
- الصناعة التي برع وتميز فيها أبناء منطقة الخليج العربية تسمى صناعة السفن
- يطلق على صانع السفينة اسم القلاف
- اذكر أشهر أنواع سفن الغوص والتجارة
 - البوم
 - البغلة
 - السنبوك
 - الجالبوت
 - الشوعي
- علل تعتبر سفينة البغلة هي أفضل أنواع السفن المستعملة في رحلة السفر
 - متانتها وقدرتها على نقل الحمولة الكبيرة
 - قلة تعرضها للأخطار البحرية

هي جميع أشكال المياه على سطح الأرض مثل البحار والخلجان والمحيطات والبحيرات والأنهار

المسطحات المائية

- علل لعب الموقع الجغرافي دوراً في ازدهار التجارة في منطقة الخليج العربي
 - موقعها المطل على المسطحات المائية
 - نقل البضائع من الخليج إلى الهند واليمن وسواحل شرق إفريقيا
 - كانت هذه السفن تعود محملة بالأخشاب والأغذية

فرق بين كل من:

صادرات دول الخليج	واردات دول الخليج
التمور - اللؤلؤ	السكر - الشاي - الأرز - التوابل



حضارات منطقة الخليج العربي قديماً

الحضارة

هي إبداع الإنسان الخليجي وإسهاماته في تطور وتقدم ورقي مجتمعه في جميع نواحي الحياة وحل مشاكله

❏ أكمل عُرف الخليج العربي قديماً باسم البحر الأدنى أو بحر شروق الشمس

❏ دلل ظهرت في منطقة الخليج العربي حضارات عديدة متعددة

★ ممكن أن يأتي السؤال بصيغة أخرى: عدد حضارات منطقة الخليج قديماً

حضارة دلمون

حضارة مجان

الحضارة الهلنستية

أكمل ما يلي:

★ ممكن أن يأتي السؤال بصيغ أخرى: اختياري - اكتب مدلول الصورة

❏ ظهرت الحضارة الهلنستية في جزيرة فيلكا في دولة الكويت

❏ الحضارة التي اشتهرت بصهر المعادن تسمى حضارة مجان

❏ الدولة التي يوجد بها حضارة مجان هي سلطنة عمان

❏ ظهرت حضارة دلمون في دولة البحرين



❏ عدد العوامل التي ساعدت على قيام الحضارات في منطقة الخليج العربية

- الموقع المتميز
- توفر آبار مياه الشرب
- البيئة الطبيعية الملائمة للاستقرار

القلب أو الجلب

يطلق على البئر عند سكان منطقة الخليج العربية

❏ عدد النتائج المترتبة على الموقع المتميز للخليج العربي

- إنشاء علاقات تجارية واسعة مع المناطق المجاورة
- عادت عليه بمزايا اقتصادية عديدة
- سهولة اتصال سكانه مع المناطق المجاورة
- انطلاق الهجرات وتأسيس الحضارات



الحضارة الإسلامية في منطقة الخليج العربية

أكمل ما يلي:

- ❑ القرن الذي ظهر فيه الإسلام بمنطقة الخليج العربي السابع الميلادي
- ❑ المدينة التي انطلقت منها الحضارة الإسلامية تسمى المدينة المنورة

❑ عدد - المناطق التي نشر فيها سكان شبه الجزيرة العربية الإسلام والحضارة الإسلامية

- الهند
- ساحل مكران
- الساحل الشرقي لأفريقيا
- جنوب شرق آسيا

❑ عدد - المتاحف المتخصصة في التراث الإسلامي في دول الخليج العربية

★ يمكن أن يأتي السؤال بصيغ أخرى: اختاري - اكتب مدلول الصورة



دار الآثار الإسلامية في الكويت



متحف الشارقة للحضارة الإسلامية



متحف دار القرآن الكريم في مملكة البحرين

ضع علامة (✓) أو علامة (×) أمام العبارات التالية:

- ❑ ظهر الإسلام في القرن العاشر الميلادي (×)
- ❑ شارك أبناء منطقة الخليج العربية في نشر الإسلام فقط (×)
- ❑ لم يتأثر سكان منطقة الخليج العربية بمظاهر الحضارة الإسلامية (×)
- ❑ ساهم سكان منطقة الخليج العربية في نشر الإسلام في جنوب شرق آسيا (✓)

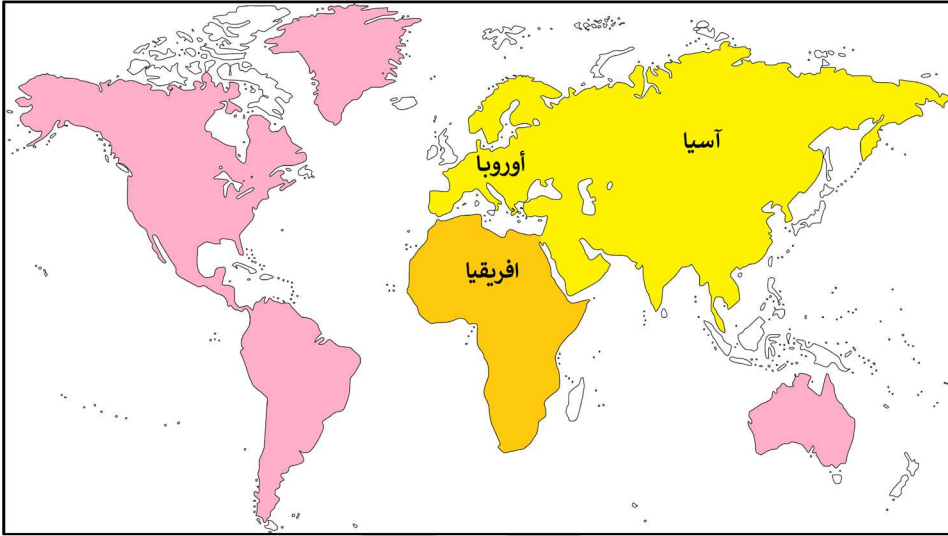
❑ عدد مظاهر الحضارة الإسلامية

- الصناعة
- الفن
- العمران



تطور الحياة السياسية وظهور الدول الحديثة

أكمل يطلق على قارات آسيا وإفريقيا وأوروبا اسم العالم القديم



علل أهمية موقع الخليج العربي

- الموقع المتميز في قلب العالم القديم
- طريق تجاري
- ممر مائي عالمي
- لعب دور الوسيط التجاري

علل ظهور الوحدات السياسية في منطقة الخليج العربي

- الموقع المتميز
- بسبب هجرات القبائل واستقرارها

عدد - أسماء دول الخليج العربية

- دولة الكويت
- سلطنة عمان
- المملكة السعودية
- قطر
- البحرين
- الإمارات

أكمل ما يلي:

المنطقة التي خرجت منها الهجرات في الخليج تسمى الهدار

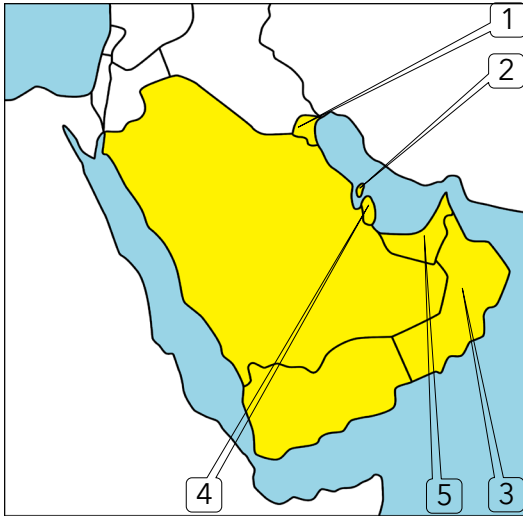
الهجرة التي خرجت من منطقة الهدار إلى منطقة الخليج تسمى العتوب

يطلق على هجرة آل صباح وآل خليفة إلى الكويت والبحرين اسم هجرة العتوب

صنف الهجرات التي حدثت في منطقة الخليج العربي:

المعاضيد - بني ياس - آل خليفة - آل صباح - القواسم - الأزدي

الكويت	البحرين	قطر	عمان	رأس الخيمة	أبو ظبي
آل صباح	آل خليفة	المعاضيد	الأزدي	القواسم	بني ياس



لاحظ خريطة شبه الجزيرة العربية ثم نفذ المطلوب منك:

- ❏ دولة خليجية هاجر إليها آل صباح يمثلها على الخريطة رقم 1
- ❏ دولة خليجية هاجر إليها آل خليفة يمثلها على الخريطة رقم 2
- ❏ هاجر الأزدي إلى دولة خليجية تحمل على الخريطة رقم 3
- ❏ هاجر المعاضيد إلى دولة خليجية تحمل على الخريطة رقم 4
- ❏ الدولة الخليجية التي هاجر إليها كلا من القواسم وبني ياس يمثلها على الخريطة 5

❏ أكمل الجدول التالي:

السبب	النتيجة
الموقع المتميز	جذب الهجرات إلى منطقة الخليج العربي
اكتشاف النفط	بدأت مرحلة جديدة لدول الخليج العربية في تأثيرها في السياسة الدولية



المنافسة الاستعمارية الأوروبية على الخليج العربي

هو سيطرة دولة قوية على دولة ضعيفة بهدف استغلال موقعها ومواردها

الاستعمار

❏ علل تنافس الدول الاستعمارية على منطقة الخليج العربية

- استغلال الموقع
- إدراك أهمية موقع منطقة الخليج العربية

أكمل ما يلي:

- ❏ القرن الذي بدأت فيه المنافسة الاستعمارية على منطقة الخليج العربية الخامس عشر
- ❏ أول دولة أوروبية استعمارية وصلت الخليج العربي واحتلت أجزاء مهمة منه تسمى البرتغال
- ❏ ثاني دولة أوروبية استعمارية وصلت الخليج بعد البرتغال تسمى هولندا
- ❏ ثالث دولة أوروبية استعمارية جاءت إلى منطقة الخليج بعد البرتغال وهولندا تسمى إنجلترا
- ❏ الشكل الاستعماري الذي نجح فيه الإنجليز بالسيطرة على منطقة الخليج العربية يسمى المعاهدات والاتفاقيات

❏ عدد - الأساليب التي اتبعتها الاستعمار للسيطرة على دول منطقة الخليج العربية

- المعاهدات
- الاتفاقيات

أكمل ما يلي:

- ❏ العام الميلادي الذي تم فيه توقيع اتفاقية الحماية البريطانية الكويتية 1899م
- ❏ الأسلوب الاستعماري الذي اتبعته بريطانيا لاستعمار الكويت يسمى اتفاقية الحماية

علل قيام الشيخ مبارك الصباح بتوقيع اتفاقية الحماية مع بريطانيا عام 1899 م

لحماية إمارة الكويت من أي خطر خارجي



مرحلة الاستقرار والتطور

أكمل ما يلي:

تحررت دول الخليج العربي من التبعية البريطانية في النصف الثاني من القرن العشرين

أمير الكويت الذي ألغى معاهدة الحماية بين بريطانيا والكويت يسمى الشيخ عبدالله السالم الصباح

العام الميلادي الذي تم فيه إلغاء معاهدة الحماية البريطانية على الكويت 1961م

استبدلت اتفاقية الحماية البريطانية بمعاهدة أخرى تسمى معاهدة الاستقلال

فرق بين كل من:

الاستقلال	الاستعمار
هو تحرر الدولة من المستعمر الأجنبي وقيامها بمسؤولية إدارة شؤونها الداخلية والخارجية	هو سيطرة دولة قوية على دولة ضعيفة بهدف استغلال موقعها و مواردها

تعني حكم الشعب لنفسه

الديمقراطية

أكمل ما يلي:

استمدت دول الخليج العربية مبادئ حقوق الإنسان من الشريعة الإسلامية

العام الميلادي الذي تم فيه إصدار وثيقة الدستور الكويتي 1962 م

العام الميلادي الذي أصدرت فيه منظمة الأمم المتحدة الإعلان العالمي لحقوق الإنسان 1948 م

أول دولة خليجية حصلت على استقلالها تسمى الكويت

الدولة الخليجية التي لم تتعرض للاستعمار تسمى المملكة العربية السعودية

العام الميلادي الذي تم فيه قيام المملكة العربية السعودية 1932 م



رحلة إلى دول الخليج العربية

علل شهدت دول الخليج العربي نهضة عمرانية هائلة وتقدم كبير

- بسبب الاستقلال
- امتلاكها الكامل لثرواتها النفطية

هو عبارة عن منظمة سياسية اقتصادية اقليمية تضم ست دول عربية خليجية

مجلس التعاون لدول الخليج العربية

أكمل ما يلي:

أعلن قيام مجلس التعاون لدول الخليج العربية في 25 مايو عام 1981 م

❑ المدينة التي أعلن فيها قيام مجلس التعاون لدول الخليج العربية تسمى أبو ظبي

❑ الدولة التي أعلن فيها قيام مجلس التعاون لدول الخليج العربية تسمى الإمارات

❑ المدينة التي يوجد بها مقر مجلس التعاون لدول الخليج العربية الرياض

❑ الدولة التي يوجد بها مقر مجلس التعاون لدول الخليج العربية تسمى السعودية

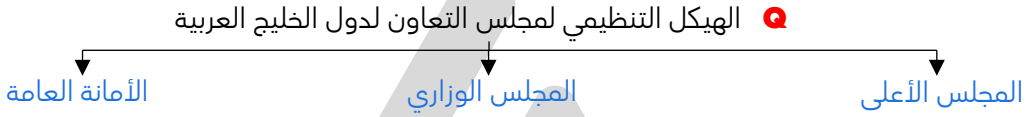
❑ عدد الدول الأعضاء في مجلس التعاون لدول الخليج العربية ست دول

❑ عدد الصفات المشتركة بين دول مجلس التعاون لدول الخليج العربية

- التراث
- الدين
- الانتماء
- المصالح المشتركة

أكمل المخطط السهمي التالي:

☆ ممكن أن يأتي السؤال بصيغ أخرى: عدد - استنتج الرابط الأكبر



مجلس التعاون لدول الخليج العربية

أكمل ما يلي:

❑ صاحب فكرة إنشاء مجلس التعاون لدول الخليج العربي يسمى

الشيخ جابر الأحمد

❑ العام الميلادي الذي وجه فيه الشيخ جابر الأحمد إلى إنشاء مجلس التعاون لدول الخليج العربية 1976 م

❑ علل قيام الشيخ جابر الأحمد في عام 1976م بتوجيه دعوة لإنشاء وحدة خليجية

- تحقيق التعاون في جميع المجالات
- إيجاد نوع من الاتحاد على أسس سليمة لمصلحة شعوب المنطقة

❑ عدد أهداف مجلس التعاون لدول الخليج العربية

- تحقيق التعاون بين الدول الأعضاء في جميع المجالات
- تحقيق الترابط بين دول مجلس التعاون
- العمل على تقدم دول مجلس التعاون في المجال العلمي

❑ عدد إنجازات مجلس التعاون لدول الخليج العربية

☆ ممكن أن يأتي السؤال بصيغة أخرى: **أكمل**

- إقامة الاتحاد الجمركي
- انطلاق السوق الخليجي المشترك في يناير عام 2008 م
- التنسيق في المحافل الدولية لكل القضايا التي تهم المجلس
- وثيقة التطوير الشامل للتعليم
- اتفاقية الدفاع المشترك واستمرار تعزيز قوة درع الجزيرة
- التعاون في مجال العمل البيئي لحل المشكلات ذات الاهتمام المشترك وتوحيد الرؤى في المحافل الدولية
- البيئية بما يخدم دول المجلس