

تم تحميل هذا الملف من موقع المناهج الكويتية



الملف نموذج إجابة التعليم الخاص

[موقع المناهج](#) ← [المناهج الكويتية](#) ← [الصف السادس](#) ← [اجتماعيات](#) ← [الفصل الثاني](#)

روابط مواقع التواصل الاجتماعي بحسب الصف السادس



روابط مواد الصف السادس على تلغرام

[الرياضيات](#)

[اللغة الانجليزية](#)

[اللغة العربية](#)

[التربية الاسلامية](#)

المزيد من الملفات بحسب الصف السادس والمادة اجتماعيات في الفصل الثاني

مراجعة	1
مراجعة	2
مراجعة	3
مذكرة في مادة الاجتماعيات	4
مراجعة محلولة ومفيدة في مادة الاجتماعيات	5

السؤال الأول : موضوعي ويتكون من (أ- ب)

(أ) اختر الإجابة الصحيحة من بين البدائل التي تلي كل عبارة وضع تحتها خط :- (١ × ٦ = ٦ درجات)

١- عدد الابار النفطية التي أحرقتها وفجرها النظام العراقي البائد : ص١٣٩
{ ٥٣٧ - ٦٣٧ - ٧٣٧ - ٨٣٧ }

٢- مجموعة من العادات والتقاليد والقيم في مجتمع من المجتمعات : ص١١٨
{ التاريخ - الدين - اللغة - الثقافة }

٣- الدولة الخليجية الرائدة في انتاج محصول القمح : ص٩٢
{ البحرين - السعودية - الكويت - قطر }

٤- العام الذي تعرضت فيه دولة الكويت للغزو العراقي الغاشم : ص١٣٩
{ ١٩٩٠م - ١٩٩٢م - ١٩٩٤م - ١٩٩٦م }

٥- الحقل الذي اكتشف فيه كميات ضخمة من النفط في دولة الكويت : ص٨٧
{ الخفجي - برقان - الزور - الوفرة }

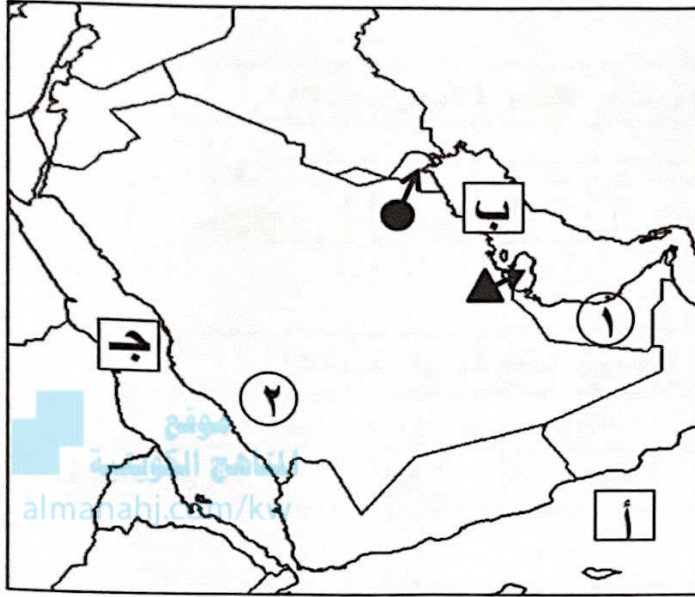
٦- المدينة الخليجية التي تم فيها الاعلان عن قيام السوق الخليجية المشتركة : ص١٣٠
{ المنامة - الرياض - الدوحة - مسقط }

(ب) أكمل العبارات التالية بما يناسبها :- (١ × ٦ = ٦ درجات)

- ١- تم تصدير أول شحنة من النفط الكويتي في عام ١٩٤٦م ص٩٠
- ٢- القوة المشتركة التي تضم جميع دول مجلس التعاون الخليجي تسمى درع الجزيرة ص١٢٩
- ٣- أول حقل نفطي في دولة الكويت يسمى بحره ص٨٧
- ٤- نوع من التلوث يحدث نتيجة دخول مواد غريبة في التربة مما يلحق الضرر في خواصها ومكوناتها يسمى التلوث الارضي (التربة) ص١٣٤
- ٥- أصبحت منطقة الخليج العربي منطقة جذب سكاني بعد اكتشاف النفط ص١١٣
- ٦- اطلاق الملوثات الهوائية تؤثر على طبقة للغلاف الجوي تسمى الأوزون ص١٣٥

السؤال الثاني : موضوعي ويتكون من (ا- ب)

(ا) أمامك خريطة شبة الجزيرة العربية الصماء أرسم وأكتب المدلولات التالية :- (١ × ٦ = ٦ درجات)



- ١- منطقة العبدلي الزراعية تقع في الدولة التي يمثلها على الخريطة الرمز ص ٩٢
- ٢- البحر الأحمر يمثل على الخريطة الحرف ص ٩٢
- ٣- الامارات العربية المتحدة يمثلها على الخريطة الرقم ص ٩٢
- ٤- الخليج العربي يمثل على الخريطة الحرف ص ٩٢
- ٥- سهل تهامة يمثل على الخريطة الرقم ص ٩٢
- ٦- حقل دخان يقع في الدولة التي يمثلها على الخريطة الرمز ص ٩١

(ب) صنف الغاوين المناسبة حسب الصور التالية مستعيناً فيما بين القوسين :- (١ × ٦ = ٦ درجات)

{ التلوث الهوائي - زراعة بدون تربة - عملية التنقيب عن النفط
تصدير أول شحنة للنفط الخام الكويتي - الزراعة في بيوت بلاستيكية - التلوث الضوضائي }




(عملية التنقيب عن النفط) ص ٨٧



(الزراعة في بيوت بلاستيكية) ص ٩٤




(التلوث الهوائي) ص ١٣٣



(التلوث الضوضائي) ص ١٣٣



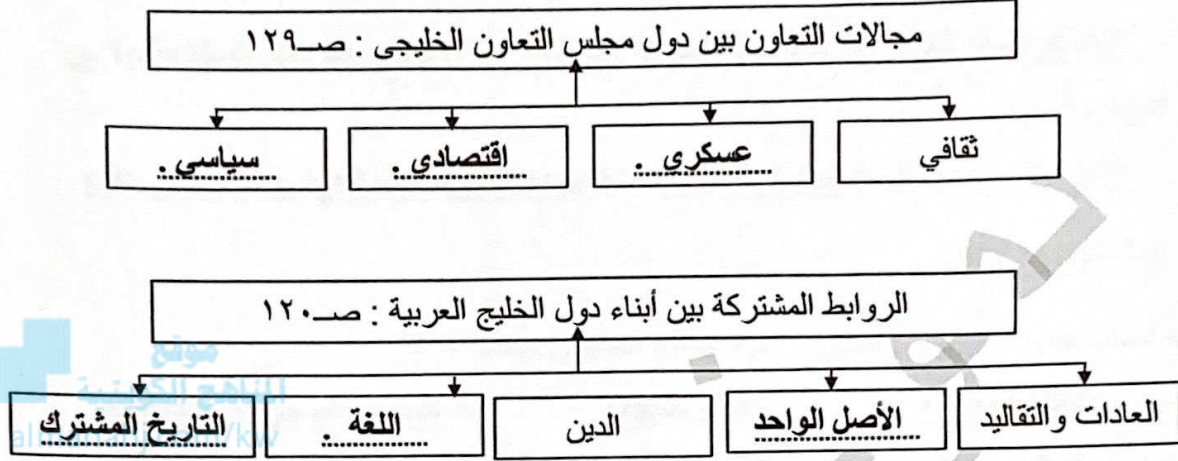
(تصدير أول شحنة للنفط الخام الكويتي) ص ٩٠



(الزراعة بدون تربة) ص ٩٤

السؤال الثالث : موضوعي ويتكون من (أ - ب)

(أ) أكمل المخططات السهمية التالية بما يناسبها :- ($٦ \times ٦ = ٦$ درجات)



(ب) اختر للمجموعة (أ) ما يناسبها من المجموعة (ب) بوضع الرقم المناسب :-
($٦ \times ٦ = ٦$ درجات)

(أ)	الرقم المناسب	(ب)
١- النمو السكاني .	٢	تحويل المواد الخام الى مواد يمكن الاستفادة منها تسمى . ص٩٥
٢- الصناعة .	٦	السلوك العدواني الموجه ضد الغير ، والذي يتسم بالتخريب والتدمير ، سواء كان ذلك السلوك أقوالاً أو أفعالاً . ص١٤٤
٣- الزيادة الطبيعية.	١	التغير الذي يحدث لعدد السكان نتيجة للزيادة الطبيعية وغير الطبيعية ص١١١
٤- العمالة المنزلية	٥	إعادة تصدير البضائع المستوردة . ص٩٩
٥- الترانزيت .	٤	مجموعة من الأفراد الذين يشاركون الأسرة في دور أو أكثر داخل المنزل أو خارجه من المربيات والطباخين والسائقين والخدم. ص١٤٢
٦- العنف .	٣	(عدد المواليد - عدد الوفيات) . ص١١٠

السؤال الرابع : مقالى ويتكون من (أ - ب - ج)

(أ) اكتب فيما يلى :- (٢ × ٣ = ٦ درجات)

١- حلوأ لعلاج مشكلة العنف : ص١٥٠

- الاهتمام الجاد بالقرآن الكريم والسنة النبوية الشريفة - الاهتمام بالقراءة والمطالعة بدلاً من
أصدقاء السوء

- القدوة الحسنة من كل المحيطين بالشباب (المتعلمين) واتباع أساليب الحوار والتفاهم في علاج
المشكلات والخلافات .

٢- أسباب التلوث البحري (المائي) لمياه الخليج العربي : صفحة ١٣٦

- مخلفات المصانع - النفط ومشتقاته - مياه الصرف الصحي غير المعالجة

- مياه الصرف الزراعي - النفايات الخطرة - الامطار الحمضية

٣- عناصر البيئة الأساسية : صفحة ١٣٣

- هواء - ماء - تربة

(ب) علل لما يلى :- (٢ × ٢ = ٤ درجات)

١- حاجة دول الخليج العربي الى اقامة العديد من الموانئ النفطية: صفحة ٩٠

- تزايد الانتاج النفطي لدول مجلس التعاون من الحقول البرية والبحرية

- تزايد الطلب العالمي على النفط كمصدر أساسي للطاقة

٢- شهدت منطقة الخليج العربي بعد اكتشاف النفط نمو سكانياً فجائياً: صفحة ١١٠

- ارتفاع دخل الفرد

- توفر الرعاية الصحية - توفر فرص العمل

(ج) عرف المفاهيم التالية :- (١ × ٢ = ٢ درجات)

الدخل القومي	مجموع الدخول التي تحصل عليها الدولة خلال عام تسمى . ص٩٥
التلوث	الضرر الذي يصيب عناصر البيئة الاساسية (هواء- ماء- تربة) فتتحول من عناصر مفيدة الي عناصر ضارة . ص١٣٣

السؤال الخامس : مقالى ويتكون من (أ - ب - ج)

(أ) فرق بين كل مما يلى :- (١ × ٤ = ٤ درجات)

احتياط النفط ص ٨٨	انتاج النفط ص ٨٨
كميات النفط المخزونة في باطن الارض	كميات النفط التي يتم استخراجها للاستفادة منها
الواردات ص ٩٩	الصادرات ص ٩٩
البضائع والسلع التي تشتريها دولنا من الخارج	السلع والمنتجات التي تبيعها دولنا في الخارج

موقع
المناهج الكويتية
almanahj.com/kw

(ب) عدد اثنين لكل من :- (٢ × ٤ = ٨ درجات)

- ١- الأضرار الناتجة من تلوث التربة . ص ١٣٤
- ضعف قدرتها على الانتاج الزراعي .
- تلوث الانتاج الزراعي مما يؤثر على صحة الانسان .
- ٢- مظاهر التعاون الثقافي بين دول مجلس التعاون الخليجي . ص ١٣٠
- توحيد المناهج التعليمية وتطويرها - انشاء مكتب التربية العربي ومقرة الرياض
- اجتماع وزراء التربية والتعليم لدول الخليج العربية كل عامين لوضع السياسات التربوية .
- ٣- أهم الدول المستوردة للنفط الكويتي . ص ٩٠
- الولايات المتحدة الامريكية
- هولندا - اليابان
- ٤- الاثار المترتبة على حرق الابار النفطية لدولة الكويت . ص ١٣٩
- سبب كميات كبيرة من الدخان محدثاً تلوثاً هوائياً هائلاً .
- تساقط الرذاذ النفطي على التربة محدثاً تلوثاً أرضياً حيث تحول لونه من اللون الأصفر إلى اللون الأسود
- الآثار الخطرة على صحة الانسان والكائنات الحية .

((انتهت الأسئلة))

السؤال الأول : موضوعي ويتكون من (أ - ب)

(أ) اختر الإجابة الصحيحة من بين البدائل التي تلي كل عبارة وضع تحتها خط :- (١ × ٦ = ٦ درجات)

١- الشيخ الذي أطلق اسمه على القمة السابعة والعشرين لمجلس التعاون لدول الخليج العربية : ص٤٧
{ صباح الأحمد الصباح - عبدالله السالم الصباح - جابر الأحمد الصباح - سعد عبدالله الصباح }

موقع
المناهج الكويتية
almanahj.com/kw

٢- الدولة الخليجية التي قامت على أرضها حضارة دلمون : ص٤٨

{ سلطنة عمان - قطر - الكويت - البحرين }

٣- يطلق على تاجر اللؤلؤ قديماً : ص٣٢

{ الغواص - الطواش - النوخذة - النهام }

٤- المحصول التي نجحت المملكة العربية السعودية في انتاجه ولها تجربة رائدة فيه : ص٩٢

{ القمح - التفاح - الغنم - الموز }

٥- أول حقل نفطي في دولة الكويت : ص٨٧

{ برقان - بحره - الروضتين - الخفجي }

٦- العاصمة الخليجية التي أعلن فيها قيام السوق الخليجية المشتركة : ص١٣٠

{ الرياض - أبوظبي - الدوحة - مسقط }

(ب) أكمل العبارات التالية بما يناسبها :- (١ × ٦ = ٦ درجات)

١- الزيادة المستمرة في عدد السكان بسبب الهجرة تسمى الزيادة الغير طبيعية ص١١٠

٢- تعرضت دولة الكويت للغزو العراقي الغاشم في عام ١٩٩٠م... ص١٣٩

٣- بداية موسم الغوص يسمى الدشة ص٣٢

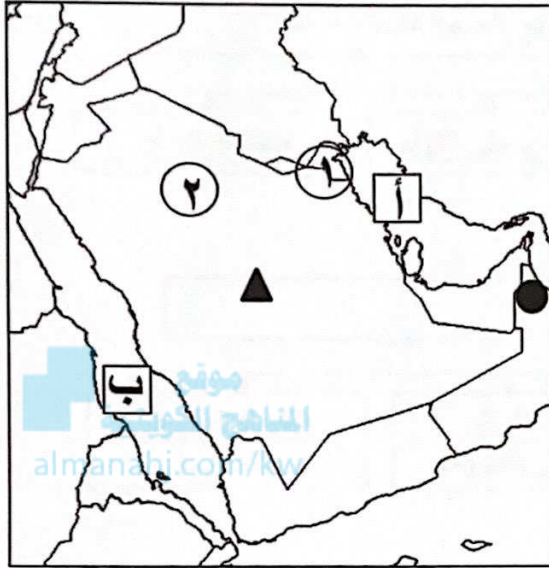
٤- إعادة تصدير البضائع المستوردة يسمى الترانزيت ص٩٩

٥- أعلن قيام مجلس التعاون الخليجي في مدينة تسمى أبوظبي ص٧٠

٦- تقع منطقة الخليج العربية بالنسبة لقارة آسيا في الجهة الجنوبية الغربية ص١٩

السؤال الثاني : موضوعي ويتكون من (أ- ب)

(أ) أمامك خريطة شبة الجزيرة العربية الصماء أرسم وأكتب المدلولات التالية :- (١ × ٥ = ٥ درجات)



- ١- هضبة نجد يمثلها على الخريطة الرمز ... ص ٢٣
- ٢- الخليج العربي يمثل على الخريطة الحرف أ ... ص ٢٣
- ٣- حقل برقان يقع في الدولة التي يمثلها على الخريطة الرقم ١ ... ص ٩١
- ٤- صحراء النفود يمثلها على الخريطة الرقم ٢ ... ص ٢٣
- ٥- الجبل الاخضر يمثل على الخريطة الرمز ... ص ٢٣

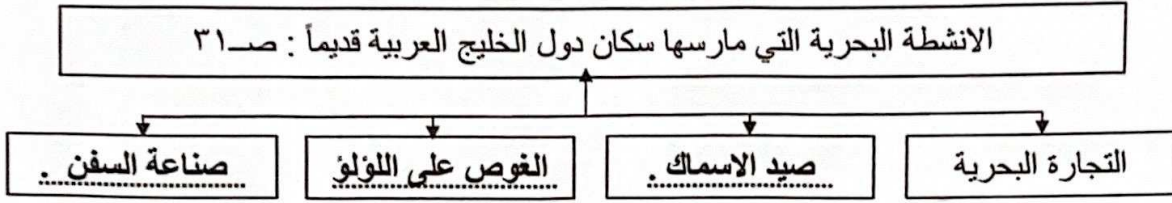
(ب) ظلل الحرف (أ) اذا كانت العبارة صحيحة وظلل الحرف (ب) اذا كانت العبارة خاطئة فيما يلي :-

(١ × ٧ = ٧ درجات)

م	العبارة	أ	ب
١	أهم الدول المستوردة للنفط الكويتي هي الولايات المتحدة الأمريكية . ص ٩٠		
٢	أصبحت منطقة الخليج العربي منطقة جذب سكاني بعد اكتشاف النفط . ص ١١٣		
٣	عدد الآبار النفطية التي أحرقها النظام العراقي البائد ٧٤٥ بئراً . ص ١٣٩		
٤	عرف الخليج العربي قديماً باسم البحر الأدنى . ص ٤٧		
٥	أول دولة استعمارية أوروبية دخلت منطقة الخليج العربي هي البرتغال . ص ٦٠		
٦	تم تصدير أول شحنة من النفط الكويتي في عهد الشيخ عبدالله السالم الصباح . ص ٩٠		
٧	الرياح الجنوبية الشرقية التي تهب على منطقة الخليج العربي تسمى الكوس . ص ٢٥		

السؤال الثالث : موضوعي ويتكون من (أ - ب)

(أ) أكمل المخططات السهمية التالية بما يناسبها :- (١ × ٦ = ٦ درجات)



(ب) اختر للمجموعة (أ) ما يناسبها من المجموعة (ب) بوضع الرقم المناسب :-
(١ × ٦ = ٦ درجات)

(أ)	الرقم المناسب	(ب)
١- النمو السكاني.	٢	السلوك العدوانى الموجه ضد الغير ، والذي يتسم بالتخريب والتدمير ، سواء كان ذلك السلوك أقوالاً أو أفعالاً . ص ١٤٤
٢- العنف .	٦	ذراع مائي لبحر العرب يمتد من خليج عمان جنوباً حتى شط العرب شمالاً . ص ١٩
٣- خطوط الطول .	١	التغيير الذي يحدث لعدد السكان نتيجة للزيادة الطبيعية وغير الطبيعية ص ١١١
٤- التلوث .	٥	هو أن تسيطر دولة قوية على دولة ضعيفة بهدف استغلال موقعا ومواردها (خيراتها) . ص ٦١
٥- الاستعمار .	٤	الضرر الذي يصيب عناصر البيئة الاساسية (هواء- ماء- تربة) فتنحول من عناصر مفيدة الى عناصر ضارة . ص ١٣٣
٦- الخليج العربي	٣	عبارة عن خطوط وهمية أي غير موجودة على سطح الأرض ترسم على الكرة الأرضية ، وتقسّم الكرة الارضية الى قسمين شرقي وغربي . ص ٢١

السؤال الرابع : مقالتي ويتكون من (أ - ب)

(أ) أكتب فيما يلي :- (٢ × ٣ = ٦ درجات)

١- الروابط المشتركة بين أبناء دول الخليج العربية : ص ١٢٠

- الأصل الواحد . - العادات والتقاليد .

- الدين واللغة . - التاريخ المشترك .

٢- مظاهر التعاون العسكري بين دول مجلس التعاون الخليجي . ص ١٢٩

- المناورات (التدريبات) العسكرية . - قبول أبناء دول مجلس التعاون في الكليات العسكرية .

- انشاء قوه مشتركة تضم جميع دول مجلس التعاون الخليجي (درع الجزيرة) .

٣- الدول التي وصلت إليها التجارة البحرية لمنطقة الخليج العربي . ص ٣٤

- الهند .

- اليمن . - سواحل شرق أفريقيا .

(ب) علل لما يلي :- (٢ × ٣ = ٦ درجات)

١- سفينة البغلة أفضل أنواع السفن المستعملة في رحلة السفر : صفحة ٣٤

- متانتها وقدرتها على نقل الحمولة الكبيرة .

- قلة تعرضها للأخطار البحرية .

٢- أهمية موقع منطقة الخليج العربي : صفحة ١٩

- تقع في وسط العالم .

- تتحكم بأهم طرق التجارة العالمية .

٣- شهدت منطقة الخليج العربي بعد اكتشاف النفط نمو سكانيًا فجائيًا : صفحة ١١٠

- ارتفاع دخل الفرد .

- توفر الرعاية الصحية . - توفر فرص العمل .

السؤال الخامس : مقالى ويتكون من (أ - ب - ج)

(أ) فرق بين كل مما يلى :- (١ × ٤ = ٤ درجات)

الموقع النسبي صـ ٢٠	الموقع الفلكي صـ ٢٠
الموقع بالنسبة للماء واليابس	الموقع بالنسبة لخطوط الطول ودوائر العرض
الواردات صـ ٩٩	الصادرات صـ ٩٩
البضائع والسلع التى تشتريها دولنا من الخارج	السلع والمنتجات التى تبيعها دولنا فى الخارج

(ب) اذكر اثنين لكل من :- (٢ × ٣ = ٦ درجات)

١- أسباب التلوث البحري (المائي) لمياه الخليج العربي : صفحة ١٣٦

- مخلفات المصانع .
- النفط ومشتقاته .
- مياه الصرف الصحى غير المعالجة .
- مياه الصرف الزراعى .
- النفايات الخطرة .
- الامطار الحمضية .

٢- الحيوانات المستأنسة فى منطقة الخليج العربي . صـ ٢٦

- الأبقار .
- الأغنام .
- الماعز .

٣- أشكال سطح الأرض . صـ ٢٣

- الجبال .
- الهضاب .
- السهول .

(ج) عرف المفاهيم التالية :- (١ × ٢ = ٢ درجات)

الصناعة	تحويل المواد الخام الى مواد يمكن الاستفادة منها صـ ٩٥
المناخ	حالة الجو فى مكان ما خلال فترات زمنية طويلة صـ ٢٥

((انتهت الأسئلة))