

تم تحميل هذا الملف من موقع ملفات الكويت التعليمية



[com.kwedufiles.www//:https](https://www.kwedufiles.com)

\*للحصول على أوراق عمل لجميع الصفوف وجميع المواد اضغط هنا

\* للحصول على أوراق عمل لجميع مواد الصف الخامس اضغط هنا

<https://kwedufiles.com/5>

\* للحصول على جميع أوراق الصف الخامس في مادة رياضيات ولجميع الفصول, اضغط هنا

<https://kwedufiles.com/5math>

\* للحصول على أوراق عمل لجميع مواد الصف الخامس في مادة رياضيات الخاصة بـ الفصل الأول اضغط هنا

<https://www.kwedufiles.com/5math1>

\* لتحميل كتب جميع المواد في جميع الفصول للصف الخامس اضغط هنا

<https://www.kwedufiles.com/grade5>

\* لتحميل جميع ملفات المدرس التوجيه الفني للرياضيات اضغط هنا

[bot\\_kwlinks/me.t//:https](https://me.t/bot_kwlinks)

\* للحصول على جميع روابط الصفوف على تلغرام وفيسبوك من قنوات وصفحات: اضغط هنا

الروابط التالية هي روابط الصف الخامس على مواقع التواصل الاجتماعي

مجموعة الفيسبوك

صفحة الفيسبوك


مجموعة التلغرام

بوت التلغرام

قناة التلغرام

رياضيات على التلغرام

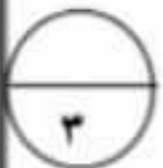
**السؤال الأول: ( أ ) أكتب في الصورة المعتادة والصورة العشرية ما يدل على الاجزاء الملونة فيما يلي :**



..... ، .....



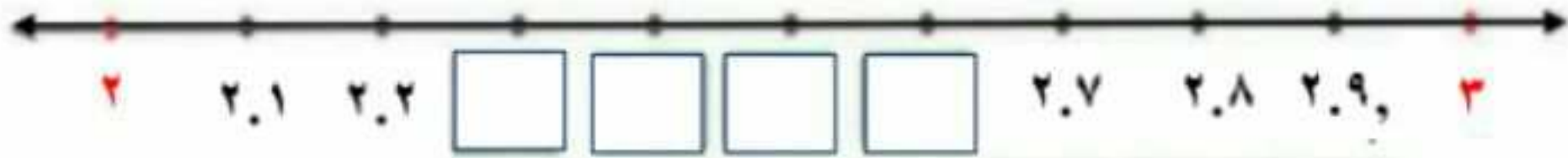
**( ب ) أكتب في الصورة العشرية كلا مما يلي :**



.....  $\frac{2}{1000}$   $\frac{3}{1000}$

ثمانية عشر صحيح وستة أجزاء من مئة.....

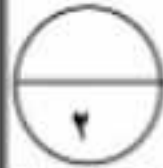
**( ج ) أكتب رموز الاعداد العشرية على خط الاعداد :**



**السؤال الثاني: ( أ ) رتب تصاعديا :**

٤.٧ - ١.٨ - ٦ - ٤.١٩٥

--	--	--	--



**( ب ) قرب الى منزلة الرقم الذي تحته خط :**



$\square \approx 0.\underline{9}6$

$\square \approx ٦.١\underline{٥}٣$

**السؤال الثالث: لكل بند فيما يلي أربع اختيارات واحد فقط منها صحيح ، ظلل الدائرة الدالة على الاختيار الصحيح :**

❖ العدد العشري ٢.١٠٠ يكافئ.....

- أ ٢.٠٠١    
 ب ٢.٠١    
 ج ٢.١٠    
 د ٢٠.١

❖ القيمة المكانية للرقم الذي تحته خط ٠.٤٣٨ هو.....

- أ ٠.٣    
 ب ٠.٠٣    
 ج ٠.٠٠٣    
 د ٣