

تم تحميل هذا الملف من موقع المناهج الكويتية



منطقة الفروانية التعليمية

الملف نموذج إجابة منطقة الفروانية

[موقع المناهج](#) ← [المناهج الكويتية](#) ← [الصف السادس](#) ← [اجتماعيات](#) ← [الفصل الأول](#)

روابط مواقع التواصل الاجتماعي بحسب الصف السادس



روابط مواد الصف السادس على تلغرام

[الرياضيات](#)

[اللغة الانجليزية](#)

[اللغة العربية](#)

[التربية الاسلامية](#)

المزيد من الملفات بحسب الصف السادس والمادة اجتماعيات في الفصل الأول

نموذج اجابة اختبار لمنطقة مبارك الكبير عام 2016	1
اوراق عمل مهمة في مادة الاجتماعيات	2
بنك اسئلة ممتاز في مادة الاجتماعيات	3
بنك معلومات مهم في مادة الاجتماعيات	4
تلخيص اجتماعيات بشكل مبسط	5



تم التحميل من شبكة ياكويت التعليمية



Telegram:
[ykuwait_net_home](https://t.me/ykuwait_net_home)

الإلجابية
التنمودة جية

منطقة الفروانية التعليمية



امتحان نهاية الفترة الدراسية الاولى

العام الدراسي ٢٠٢٢ | ٢٠٢٣ م

نموذج الإجابة

الصف السادس
الكويت ودول الخليج العربية

المجال : الكويت ودول الخليج العربية

امتحان نهاية الفترة الدراسية الاولى

منطقة الفروانية التعليمية

الزمن: ساعة ونصف

الصف السادس

التوجيه الفني للاجتماعيات

عدد الاوراق: ٥

للعام الدراسي ٢٠٢٢|٢٠٢٣م

اجب عن جميع الأسئلة التالية : درجة لكل نقطة

السؤال الأول: موضوعي ويتكون من (أ - ب - ج - د - هـ - و) :

(أ) أكمل العبارات التالية فيما درست :



- ١- الموقع بالنسبة للماء واليابس يسمىالنسبي ص ٢٠
- ٢- الرياح الجنوبية الشرقية التي تهب على منطقة الخليج العربي يسمى.....الكوس..... ص ٢٥
- ٣- الحرفة التي تعتمد على ينمو من نباتات وحشائش بعد سقوط الأمطار تسمى.....الرعي..... ص ٢٨
- ٤- يطلق على صانع السفينة اسمالقلاب..... ص ٣٣
- ٥- نهاية موسم الغوص على اللؤلؤ يسمىالقفال..... ص ٣٢
- ٦- الاسم الذي عُرف به الخليج العربي قديمابحر شروق الشمس ص ٤٧
- ٧- تم انطلاق السوق الخليجي المشترك في يناير عام٢٠٠٨..... م ص ٧٧

(ب) اختر للقائمة (أ) ما يناسبها من القائمة (ب) بوضع الرقم في المكان المناسب : ص ٣٢

الرقم	القائمة (أ)	المكان المناسب	القائمة (ب)
١-	الغواص	٤	يسحب الغاصة من أعماق البحر
٢-	النوخذة	٥	مطرب السفينة
٣-	التباب	٦	تجار اللؤلؤ
٤-	السيب	١	يفوص في أعماق البحر بحثاً عن اللؤلؤ
٥-	النهام	٢	ربان السفينة
٦-	الطواويش	٣	الصبية الذين يعملون على ظهر السفينة

تم التحميل من شبكة ياكويت التعليمية



(ج) اختر الإجابة الصحيحة للعبارات التالية من بين الخيارات التي تلي كل منها وضع خطأ تحتها :

١- تقع تلال جال الزور في دولة خليجية : ص ٢٣

المملكة العربية السعودية	الكويت	قطر	الامارات العربية المتحدة
--------------------------	--------	-----	--------------------------

٢- تقع منطقة الخليج العربية بالنسبة لقارة آسيا في جهة : ص ١٩

الجنوبية الغربية	الشمالية الغربية	الشمالية الشرقية	الشرقية الجنوبية
------------------	------------------	------------------	------------------

٣- من النباتات المعمرة في دول الخليج العربية : ص ٢٦

الخبيزة	العنصيل	الصبار	الحويذان
---------	---------	--------	----------

المناهج الكويتية
almanahj.com/kw

٤- القرن الميلادي الذي ظهر فيه الإسلام : ص ٥٣

السادس	السابع	الثامن	التاسع
--------	--------	--------	--------

٥- أول الدول الأوروبية الاستعمارية التي وصلت للخليج العربي : ص ٦٠

البرتغال	أسبانيا	هولندا	الانجليز
----------	---------	--------	----------

٦- حاكم الكويت الذي حصلت في عهده دولة الكويت على الاستقلال : ص ٦٣

عبدالله السالم الصباح	صباح السالم الصباح	جابر الأحمد الصباح	صباح الأحمد الصباح
-----------------------	--------------------	--------------------	--------------------

٧- صدرت منظمة الأمم المتحدة الإعلان العالمي لحقوق الانسان عام : ص ٦٤

١٩٤٨م	١٩٥٨م	١٩٦٨م	١٩٧٨م
-------	-------	-------	-------

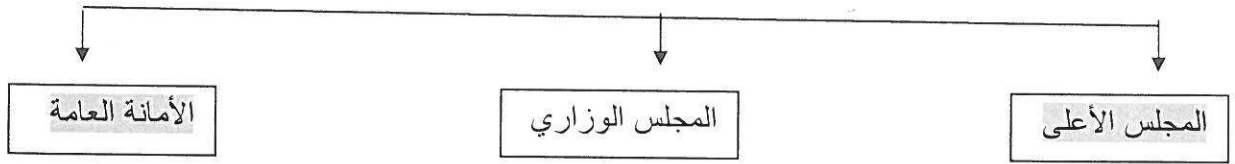
(د) صنف الهجرات التالية حسب مكانها المناسب في الجدول التالي : ص ٥٧

(المعاضيد - الأزد - آل الصباح - بني ياس - القواسم - آل خليفة)

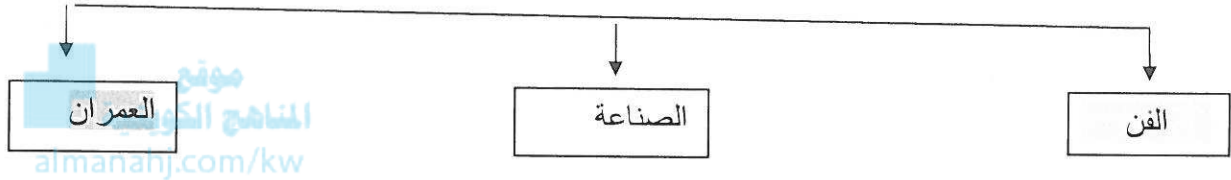
منطقة الاستقرار	الكويت	أبو ظبي	البحرين	عُمان	قطر	رأس الخيمة
الهجرة	آل الصباح	بني ياس	آل خليفة	الأزد	المعاضيد	القواسم

(هـ) اكمل المخططات السهمية التالية :

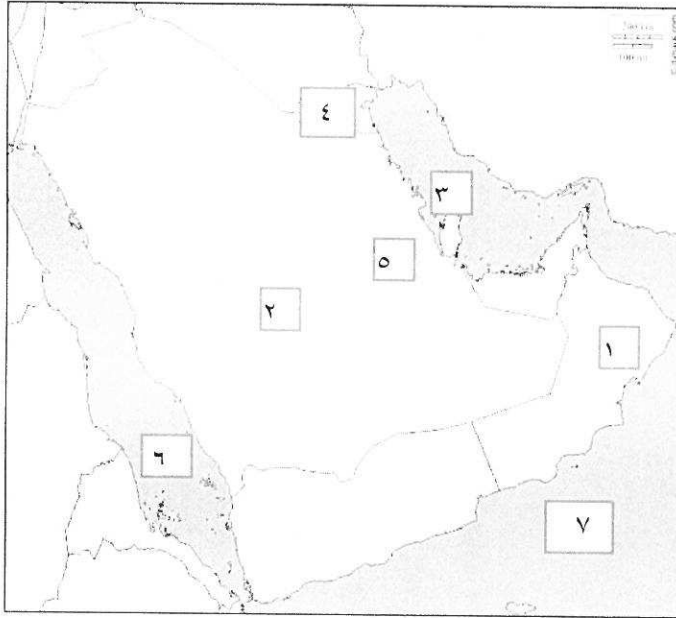
١- الهيكل التنظيمي لمجلس التعاون لدول الخليج العربية ص. ٧٠



٢- مظاهر الحضارة الإسلامية ص. ٥٥



(و) لاحظ خريطة شبه الجزيرة العربية ثم أجب عن الأسئلة التي تليها : ص ٢٣



- ٣ - الخليج العربي يمثلته على الخريطة الرقم
- ٤ - دولة الكويت يمثلها على الخريطة الرقم
- ١ - الجبل الأخضر يمثلته على الخريطة الرقم
- ٢ - هضبة نجد يمثلها على الخريطة الرقم
- ٥ - سهل الأحساء يمثلته على الخريطة الرقم
- ٦ - البحر الأحمر يمثلته على الخريطة الرقم

تم التحميل من شبكة ياكويت التعليمية



Telegram:
[ykuwait_net_home](https://t.me/ykuwait_net_home)

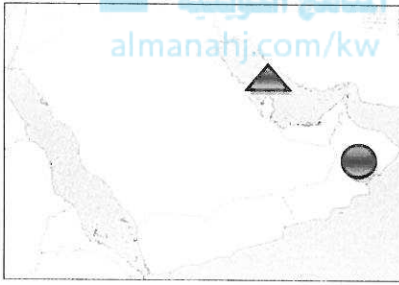
السؤال الثاني (مقالي) ويتكون من (أ - ب - ج) :

(أ) أقرأ الفقرة التالية ثم أجب عما يليها من أسئلة :

" ساعد موقع الخليج العربي المتميز على إزدهار المنطقة بالعديد من المعالم الحضارية التي ظهر فيها واضحاً إبداع الإنسان الخليجي واسهاماتها في تطور ورقي مجتمعه، مما أدى الي ظهور العديد من المواقع الحضارية في كل من فيلكا وسلطنة عُمان والبحرين "

١- عرف مفهوم الحضارة: ص ٤٥ (درجة)
هو إبداع الإنسان الخليجي واسهاماته في تطور وتقدم ورقي مجتمعه في جميع نواحي الحياة وحل مشاكله .

٢- عدد العوامل المؤثرة في نشأة الحضارات بمنطقة الخليج العربية؟ ص ٥١ - ٥٢ (درجتين)
- موقع الخليج العربي المتميز على إنشاء علاقات تجارية واسعة مع المناطق المجاورة وسهولة اتصال سكانه مع المناطق أدى الي انطلاق الهجرات وتأسيس أقدم الحضارات .
- توفر آبار مياه الشرب الناتجة من سقوط الأمطار وحفر آبار قليلة العمق .
- تمتاز بعض مناطق الخليج العربية بملائمة بيئتها الطبيعية للاستقرار وقيام الحضارات .



٣- عين على الخريطة التي أمامك (شبه الجزيرة العربية) كلا من حضارة (مجان - دلمون) وذلك باستخدام الرموز (درجتين)



(ب) قارن بين كل مما يلي حسب الجدول : ص ٢١

وجه المقارنة	خطوط الطول (درجة)	دوائر العرض (درجة)
المفهوم	عبارة عن خطوط وهمية أي غير موجودة على سطح الأرض ترسم على الكرة الأرضية وتقسّم الكرة الأرضية إلي قسمين شرقي وغربي	عبارة عن خطوط وهمية أي غير موجودة على سطح الأرض ترسم على الكرة الأرضية وتقسّم الكرة الأرضية إلي قسمين شمالي وجنوبي
العدد	٣٦٠ خطأً (نصف درجة)	١٨٠ دائرة (نصف درجة)

(ج) اكتب نقطتين فيما يلي : (٤ درجات)

١- البضائع المستوردة الي منطقة الخليج العربية قديماً.
سكر - شاي - أرز - توابل - تمر - لؤلؤ

٢- السمات والصفات المشتركة بين دول الخليج العربية.
وحدة التراث - الانتماء - الدين - المصالح المشتركة

السؤال الثالث (مقالي) ويتكون من (أ - ب - ج) :

(أ) فرق بين المفاهيم التالية مما يلي : (٦ درجات)

نباتات حولي ص ٢٦	نباتات معمر ص ٢٦
نباتات يرتبط وجودها بموسم سقوط المطر	نباتات متوفرة طوال العام لأنها تتحمل الجفاف وارتفاع درجة الحرارة بسبب جذورها الطويلة وقلة أوراقها وكثرة الأشواك فيها وقدرتها العالية على تخزين المياه
الاستقلال ص ٦٣	الاستعمار ص ٦١
تحرر الدولة من المستعمر الأجنبي وقيامها بمسؤولية إدارتها شؤونها الداخلية والخارجية	هو أن تسيطر دولة قوية على دولة ضعيفة بهدف استغلال مواردها (خيراتها)
الهضبة ص ٢٣	السهول ص ٢٣
أرض سطحها مستوي وتمتد مساحة كبيرة	هي أجزاء فسيحة من سطح الأرض تتميز باستوائها وقلة ارتفاعها

تم التحميل من شبكة ياكويت التعليمية



Telegram:
ykuwait_net_home

(ب) علل (اذكر السبب) لما يلي : (درجة لكل نقطة)

١- سفينة البغلة هي أفضل أنواع السفن المستعملة في رحلة السفر . ص ٣٤
لمتانتها وقدرتها على نقل الحمولة الكبيرة كما تمتاز بقلة تعرضها للأخطار البحرية

٢- تنافس الدول الأوروبية الاستعمارية على منطقة الخليج العربية . ص ٦٠
لاستغلال الموقع وإدراكاً منها لأهمية الموقع

٣- إنشاء مجلس التعاون لدول الخليج العربية . ص ٧٤
بهدف تحقيق التعاون في جميع المجالات - إيجاد نوع من الاتحاد على أسس سليمة ومتينة لمصلحة شعوب هذه المنطقة واستقرارها

انتهت الأسئلة

