

تم تحميل هذا الملف من موقع المناهج الكويتية



الملف ورقة عمل (4) خواص المستطيل والمعين والمربع

[موقع المناهج](#) ← [المناهج الكويتية](#) ← [الصف الثامن](#) ← [رياضيات](#) ← [الفصل الأول](#)

روابط مواقع التواصل الاجتماعي بحسب الصف الثامن



روابط مواد الصف الثامن على تلغرام

[الرياضيات](#)

[اللغة الانجليزية](#)

[اللغة العربية](#)

[التربية الاسلامية](#)

المزيد من الملفات بحسب الصف الثامن والمادة رياضيات في الفصل الأول

مسودة كتاب الطالب لعام 2018	1
كتاب الطالب معدل في مادة الرياضيات لعام 2018	2
طريقة تصميم نشاط تعليمي في مادة الرياضيات	3
حل كامل كتاب الرياضيات	4
النسخة المعتمدة لكتاب الرياضيات لعام 2018	5

ورقة عمل (٤)

٨ - ٤ المستطيل (خواصه و الكشف عنه)


٨ - ٥ المعين (خواصه و الكشف عنه)

٨ - ٦ المربع (خواصه و الكشف عنه)

ظلّل (أ) إذا كانت العبارة صحيحة ، ظلّل (ب) إذا كانت العبارة غير صحيحة



١ المربع هو معين قطراه متطابقان .

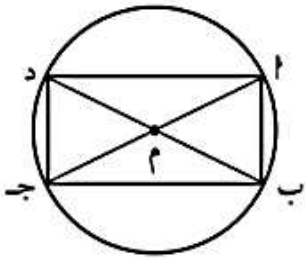


٢ الشكل المقابل يمثل مستطيلاً



لكل بند من البنود التالية أربعة اختيارات ، واحد فقط منها صحيح ،

أختَر الاختيار الدال على الإجابة الصحيحة



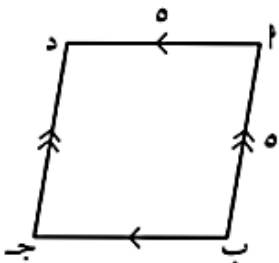
١ الشكل المقابل يمثل دائرة مركزها م فإنّ الشكل أ ب ج د هو :

أ) مربع

ب) مستطيل

ج) معين

د) شبه منحرف



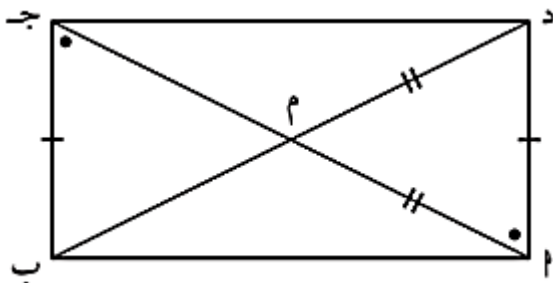
٢ في الشكل المقابل أ ب ج د يمثل :

أ) معين

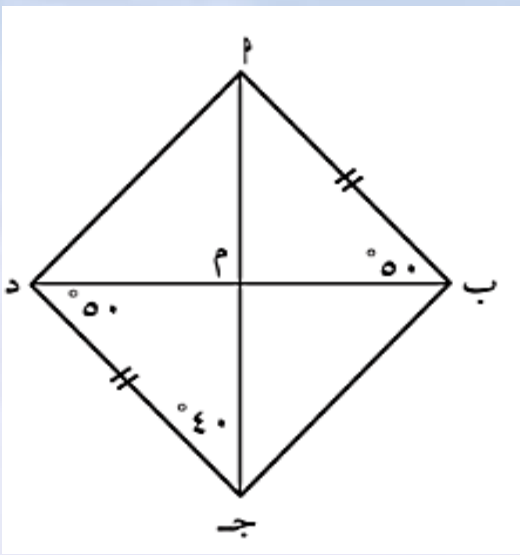
ب) مستطيل

ج) مربع

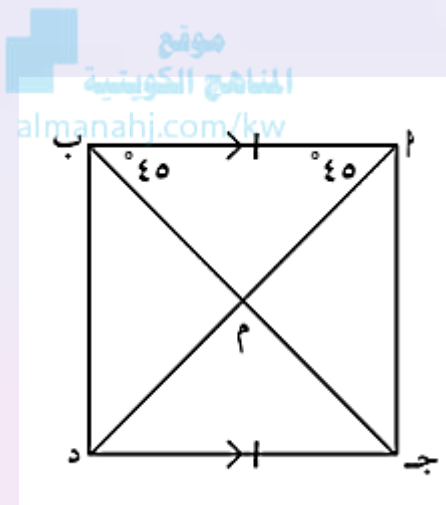
د) شبه منحرف



أثبت أنّ : الشكل أ ب ج د مستطيل .



أثبت أن: الشكل ا ب ج د معين .



أثبت أن: الشكل ا ب د ج مربع .

اعداد المعلمة : هبه عاطف رئيسة القسم : أ / خديجة الياس

الموجه الفني : أ / سميرة المتروك