

تم تحميل هذا الملف من موقع المناهج الكويتية



منطقة العاصمة التعليمية

الملف نموذج أسئلة منطقة العاصمة

[موقع المناهج](#) ← [المناهج الكويتية](#) ← [الصف السابع](#) ← [اجتماعيات](#) ← [الفصل الثاني](#)

روابط مواقع التواصل الاجتماعي بحسب الصف السابع



روابط مواد الصف السابع على تلغرام

[الرياضيات](#)

[اللغة الانجليزية](#)

[اللغة العربية](#)

[التربية الاسلامية](#)

المزيد من الملفات بحسب الصف السابع والمادة اجتماعيات في الفصل الثاني

مذكرة موضوعية محلولة	1
حل الكتاب	2
حل الوحدة الرابعة في مادة الاجتماعيات	3
بنك اسئلة التربية سابع	4
مراجعات الصف السابع	5

السؤال الرابع : (مقالي) ويتكون من (أ - ب - ج) :

(أ) علل ما يلي (اذكر السبب) :

١- تحتل الأضام مكاناً مهماً ضمن الثروة الرعوية في الوطن العربي.

٢- تدني وفرة المياه في الوطن العربي .

(ب) عدد (اثنين) لما يلي :

١- طرق النقل في الوطن العربي .

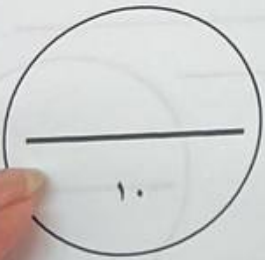
٢- أسماء المعادن المهمة التي يمتلكها الوطن العربي .

(ج) لاحظ الصورة المقابلة ثم أجب عن الأسئلة التالية :

١- ما اسم المنظمة التي يمثلها الشعار المقابل ؟

٢- ما اسم الدولة العربية التي انضمت إلى المنظمة في ٥ مايو ١٩٤٥ م ؟

درجة السؤال الرابع بالحروف



تاريخ : امتحان نهاية الفترة الدراسية الثانية - تموز الكويت والوطن العربي - الصف السابع المتوسط - العام الدراسي ٢٠٢٣/٢٠٢٤ م

السؤال الثاني (موضوعي) ويتكون من (أ - ب)

(أ) اختر البديل الصحيح من بين البدائل التي تلي كل عبارة مما يلي وضع خطا تحتها :

- ١- صاحب المبادرة لعقد المؤتمر الدولي الأول لمناحي سوريا عام ٢٠١٣ م اسمه الشيخ :

عبدالله السالم	جابر الأحمد	صباح الأحمد
صباح السالم	صباح الأحمد	صباح السالم
- ٢- نسبة المساحة المزروعة في الوطن العربي من المساحة القابلة للزراعة حوالي :

٢٦%	٣٦%	٤٦%
٢٦%	٣٦%	٤٦%
- ٣- التنمية التي تطلق على برامج تحسين نوعية الحياة ولا تتحقق إلا بمشاركة جميع المواطنين :

الاقتصادية	المستدامة	البشرية
الاقتصادية	المستدامة	البشرية
- ٤- الدولة العربية التي تمتلك ٦,٦% من ثروة الوطن العربي من الإبل :


الصومال	الموذن	جيبوتي
الصومال	الموذن	جيبوتي
- ٥- العام الذي أنشأ فيه الصندوق الكويتي للتنمية الاقتصادية العربية :

١٩٥١ م	١٩٦١ م	١٩٧١ م
١٩٥١ م	١٩٦١ م	١٩٧١ م

(ب) اكتب المفاهيم أو المصطلحات الدالة على العبارات التالية :

العبارات	المفهوم / المصطلح
العمل على توثيق الصلات بين الدول والشعوب العربية وحماية مصالحها السياسية والاقتصادية والثقافية .	
نسبة عدد السكان الكلي في دولة ما أو منطقة ما إلى المساحة الكلية لهذه الدولة أو المنطقة .	
عمليات التصدير والاستيراد بين الدول .	
الثروات التي منحها الله لإقليم من دون أن يكون للإنسان أي دور في وجودها .	
الفرق بين معدل المواليد ومعدل الوفيات .	

سؤال الثاني بالحروف



نوع : امتحان نهاية الفترة الدراسية الثانية - لمرور الكويت والوطن العربي - لصف السابع المتوسط - العام الدراسي ٢٠٢٣/٢٠٢٤ م

السؤال السادس : (مقال) ويتكون من (أ - ب - ج) :

(أ) اقرأ الفقرة التالية ثم أجب عما يليها من أسئلة :

" موقع الوطن العربي في المناطق الجافة وشبه الجافة يعرضه بشكل أساسي لمشكلة التصحر ، فأكثر الدول العربية تهديداً بالتصحر هي السودان والصومال وموريتانيا " .
١- عرف ما تحته خط .

٢- استخلص من الفقرة السابقة :

أسماء (اثنين) من الدول العربية الأكثر تهديداً بالتصحر .

(ب) قارن بين كل مما يلي حسب المطلوب في الجدول أدناه :

أوجه المقارنة	منظمة الدول المصدرة للنفط / أوبك	منظمة الأقطار العربية المصدرة للنفط / أوابك
سنة التأسيس		
المقر الحالي (المدينة)		

(ج) عرف ما يلي :

١- التجارة البينية :

٢- الطاقة :

٣- مقومات الصناعة :

درجة السؤال السادس بالحروف

١٠

انتهت الأسئلة ،،،

تمنياتنا لكم بالنجاح والتوفيق ،،،

تلمع : امتحان نهاية الفترة الدراسية الثانية - لمقر الكويت والوطن العربي - لتصف السابع المتوسط - العام الدراسي ٢٠٢٣/٢٠٢٤ م

السؤال الخامس: (مقالي) ويتكون من (أ - ب - ج) :

(أ) لاحظ الجدول الإحصائي المقابل ثم أجب عن الأسئلة التالية :

١- كم تبلغ نسبة احتياطي النفط الخام في الجناح الأفريقي ؟

جدول نسب إنتاج واحتياطي النفط في الجناح الآسيوي والجناح الأفريقي في الوطن العربي

الجناح	إنتاج النفط	احتياطي النفط
الآسيوي	%٨٨	%٩٠
الأفريقي	%١٢	٥

٢- ظلل الجزء الصحيح في الدائرة البيانية التالية الذي يمثل :

نسبة إنتاج النفط الخام في الجناح الآسيوي.



(ب) فرق بين كل مما يلي من حيث (التعريف) :

الغاز الطبيعي	النفط
الهجرة الخارجية	الهجرة الداخلية

(ج) اكتب اثنين عما يلي :

١- مراحل عملية التصنيع (الصناعة) .

٢- العقبات التي تواجه الإنتاج الزراعي في الوطن العربي .

رجة السؤال الخامس بالحروف



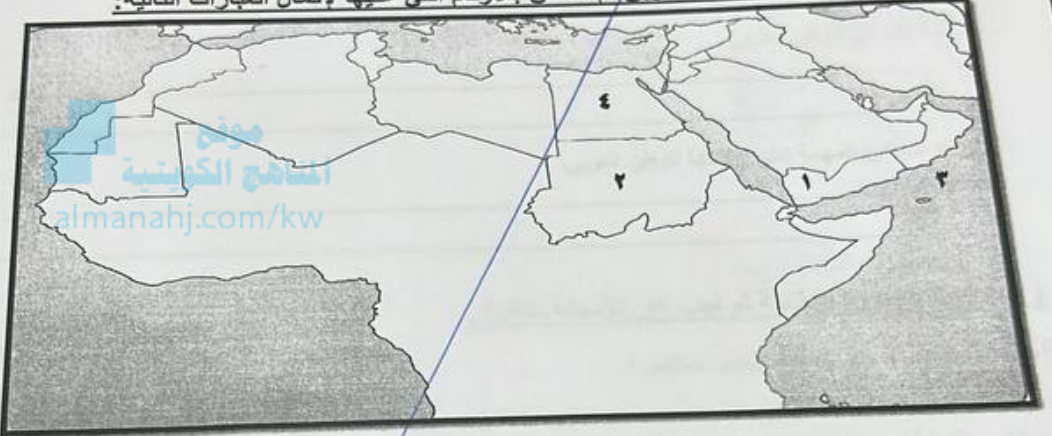
السؤال الثالث (موضوعي) و يتكون من (أ - ب)

(أ) صنف أنواع الصناعات التالية حسب مكانها الصحيح في الجدول أدناه:

(المنسوجات - الغاز - الخشب - النفط - الإشعاعية - الفحم - الغذائية)

الصناعات الاستخراجية	الصناعات التحويلية

(ب) لاحظ خريطة دول الوطن العربي ثم استعن بالأرقام التي عليها لإكمال العبارات التالية:



- المسطح المائي الذي يحمل على الخريطة الرقم (٣) اسمه بحر
- الدولة العربية الأولى في إنتاج البن يمثلها على الخريطة الرقم
- الدولة العربية التي تحتل المركز الأول في إنتاج القمح يمثلها على الخريطة الرقم

درجة السؤال الثالث بالحروف



السؤال الأول (موضوعي) ويتكون من (أ - ب)

(أ) أكمل العبارات التالية بما يناسبها :


- ١- الغلات التي تدخل في التصناعة وتزرع بغرض التجارة والحصول على نقد تسمى
- ٢- القدرة التي يتركز فيها ٧٠٪ من سكان الوطن العربي اسمها
- ٣- الضرر الذي يلحق بالتربة والهواء والماء ويصيب عناصر البيئة من عدة مصادر للملوثات يعرف باسم
- ٤- الدولة التي عقد فيه أكبر مؤتمر للأمم المتحدة عام ١٩٩٢م وعرف باسم قمة الأرض اسمها
- ٥- عدد دول الوطن العربي يبلغ

(ب) أكمل المخططات السهمية بما يناسبها :

- ١- أقسام مناطق الوطن العربي من حيث الكثافة السكانية .



- ٢- المقومات البشرية للصناعة .



درجة السؤال الأول بالحروف

