

تم تحميل هذا الملف من موقع المناهج الكويتية



مذكرات الصفوة

الملف مذكرة الصفوة الإثرائية للوحدة الثالثة الوطن العربي ملامح بشرية واقتصادية

موقع المناهج ← المناهج الكويتية ← الصف السابع ← اجتماعيات ← الفصل الثاني

روابط مواقع التواصل الاجتماعي بحسب الصف السابع



روابط مواد الصف السابع على تلغرام

[الرياضيات](#)

[اللغة الانجليزية](#)

[اللغة العربية](#)

[التربية الاسلامية](#)


المزيد من الملفات بحسب الصف السابع والمادة اجتماعيات في الفصل الثاني

مذكرة موضوعية محلولة	1
حل الكتاب	2
حل الوحدة الرابعة في مادة الاجتماعيات	3
بنك اسئلة التربية سبع	4
مراجعات الصف السابع	5

غير مصدق
بالتصوير



60431360



@SAFWA7

الفصل الدراسي الثاني 2025م



مذكرات

الصفوة

7

إختيارك الأول

KUWAIT



اجتماعيات

اطادة

السابع

الصف

سلسلة مذكرات الصفوة لجميع المراحل

الوحدة الثالثة: الوطن العربي ملامح بشرية واقتصادية

الدرس الأول: نحو السكان وتوزيعهم في الوطن العربي

الإحصاءات السكانية التي تعتمد عليها دراسة السكان

الإحصاء الحيوي

التعداد السكاني

• فرق بين التعداد السكاني والإحصاء الحيوي .

الإحصاء الحيوي	التعداد السكاني
- تسجيل المواليد والوفيات وحالات الزواج والطلاق ونحصل على بياناتها من واقع السجلات الرسمية للدولة	- تقوم الدولة من حين إلى آخر بإجراء تعداد لسكانها كل (خمسة أو عشرة سنوات) لتحصل على معلومات وافية عن أوضاع سكانها.

• المعلومات التي تحصل عليها الدولة من التعداد السكاني.

- عددهم الإجمالي
- عدد كل جنس (ذكور وإناث)
- أعمارهم.

• أكمل الجمل التالية بما يناسبها :

1. مساحة الوطن العربي من إجمالي مساحة العالم يقدر بنحو ((13,5)) مليون كم²
2. عدد سكان الوطن العربي حسب إحصاء عام 2014م يقدر بنحو ((382)) مليون نسمة
3. إجمالي عدد الدول العربية في قارتي آسيا وأفريقيا ((22)) دولة
4. يتوزع سكان الوطن العربي بين قارتي آسيا و ((إفريقيا))
5. نسبة سكان الوطن العربي في القارة الإفريقية يقدر بنحو ((70)) %
6. نسبة سكان الوطن العربي في القارة الآسيوية يقدر بنحو ((30)) %
7. العام الذي أنشئت فيه الكويت الإدارة المركزية للإحصاء هو ((1963)) م
8. العام الذي تم فيه عمل أول تعداد سكاني في دولة الكويت ((1957)) ميلادياً
9. الجهة الرسمية التي قامت بإجراء أول تعداد سكاني في دولة الكويت اسمها ((دائرة الشؤون الاجتماعية))

• **عرف المفاهيم التالية:**

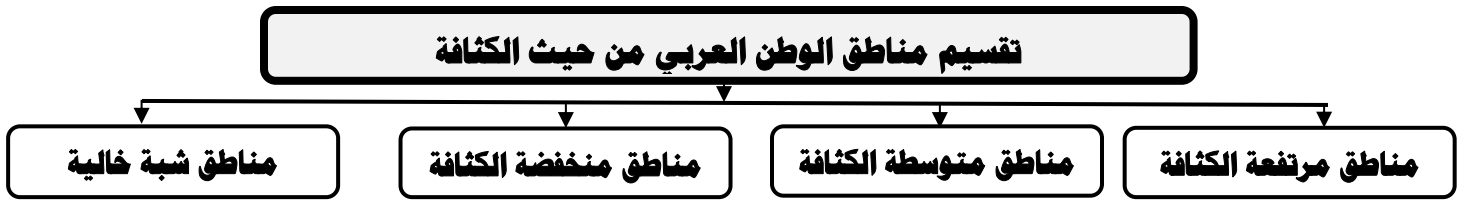
- ((**الكثافة السكانية**)): نسبة عدد السكان الكلي في دولة ما إلى المساحة الكلية لهذه الدولة.
- ((**النمو السكاني**)): تزايد عدد السكان من عام لآخر نتيجة الزيادة الطبيعية والهجرة.

• **علل : اختلاف عدد السكان بين دولة وأخرى.**

- بسبب المساحة الكلية
- العوامل الطبيعية والبشرية.

• **علل : لا تعطي الكثافة السكانية صورة واضحة عن توزيع السكان داخل الدولة.**

- حيث تعاني بعض الدول من سوء توزيع السكان فيها (مثال مصر يتركز السكان على مساحة صغيرة وادي النيل ودلتاه)

• **ما المناطق المناخية التي يقل فيها السكان؟**

- المناخ الصحراوي
- المناخ البارد .
- المناخ الاستوائي.

• **ما المناطق التي يجذب السكان للعيش فيها؟**

- المناطق السهلية لتمتعها بمقومات طبيعية ومناخية وسهولة القيام بالأنشطة الاقتصادية.

• **كيف تغلب الإنسان على صعوبة العيش والزراعة في الجبال ؟**

- عن طريق التطور العلمي وتحويل الجبال لمدرجات وزرعها وشق الطرق.

• **عدد العوامل المؤثرة في توزيع السكان.**

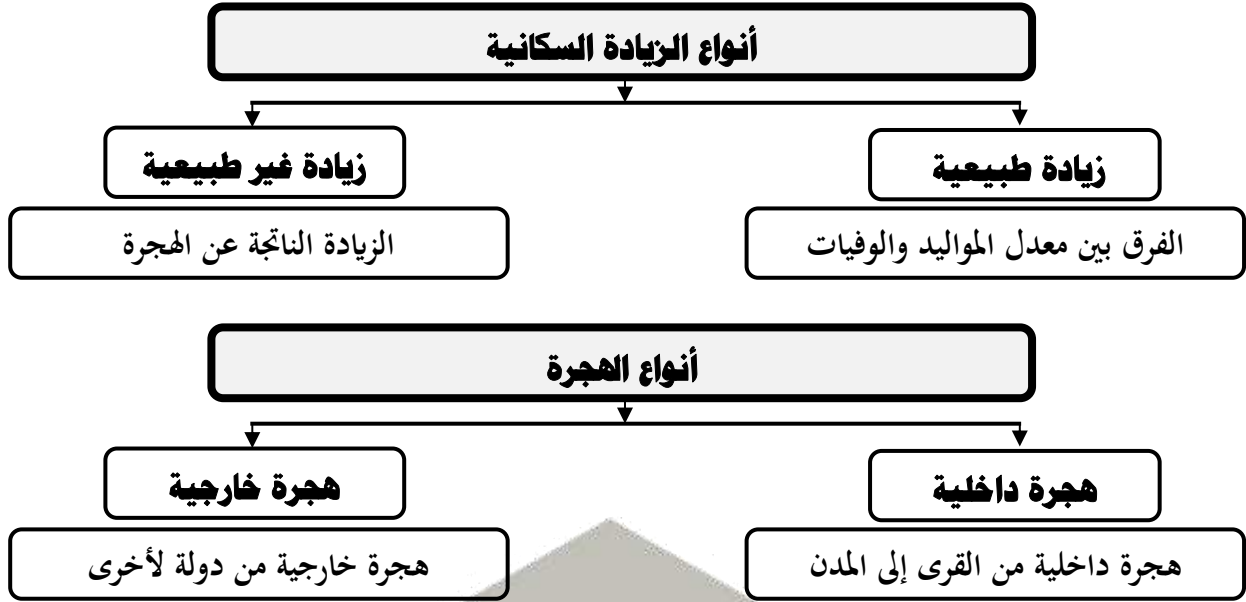
- (العوامل الطبيعية) موارد المياه - التضاريس
- (العوامل البشرية) الأنشطة الاقتصادية

• **اذكر أسباب النمو السكاني في الوطن العربي.**

- الزيادة الطبيعية
- الزيادة الغير طبيعية.

• **علل : هجرة الأيدي العاملة من دول آسيا إلى بعض دول الوطن العربي**

- توفر فرص العمل
- ارتفاع الأجور
- توفر الخدمات الصحية.



• **أكمل الجمل التالية بما يناسبها :**

1. أكبر الدول العربية من حيث المساحة تسمى ((**الجزائر**))
2. أصغر الدول العربية من حيث المساحة تسمى ((**البحرين**))
3. أكبر الدول العربية مساحة في الجناح الآسيوي تسمى ((**السعودية**))
4. أكبر الدول العربية مساحة في الجناح الأفريقي تسمى ((**الجزائر**))
5. أصغر الدول العربية مساحة في الجناح الأفريقي تسمى ((**جزر القمر**))
6. أصغر الدول العربية مساحة في الجناح الآسيوي تسمى ((**البحرين**))
7. أكثر الدول العربية من حيث عدد السكان في الجناح الأفريقي تسمى ((**مصر**))
8. أقل الدول العربية من حيث عدد السكان في الجناح الأفريقي تسمى ((**جزر القمر**))
9. أكثر الدول العربية من حيث عدد السكان في الجناح الآسيوي تسمى ((**العراق**))
10. أقل الدول العربية من حيث عدد السكان في الجناح الآسيوي تسمى ((**البحرين**))
11. يبلغ عدد السكان في الجناح العربي الآسيوي حوالي ((150,925)) مليون نسمة
12. يبلغ عدد السكان في الجناح العربي الأفريقي حوالي ((231,384)) مليون نسمة
13. الدولة العربية التي تعاني من سوء توزيع السكان في الوطن العربي تسمى ((**مصر**))
14. معدل النمو السكاني في الوطن العربي يقدر بنحو ((2,20)) %
15. معدل النمو السكاني السنوي العالمي يقدر بنحو ((1,7)) %

الدرس الثاني : الموارد الاقتصادية في الوطن

أولاً: إنتاج الغذاء في الوطن العربي

• فرق بين الموارد الطبيعية والموارد البشرية .

الموارد الطبيعية	الموارد البشرية
- الثروات التي منحها الله لإقليم من دون ان يكون للإنسان أي دور في وجودها	- الموارد التي ترتبط بالسكان من حيث اعدادهم وتوزيعهم



• علل : اختلاف المنتجات الزراعية من دولة عربية لأخرى.

- بسبب اختلاف المناخ
- اختلاف نوع التربة
- مدى توفر المياه في هذه الدول.

• علل : تركيز زراعة الحمضيات والمواالح في حوض البحر المتوسط.

- لأنها تتطلب ظروفاً مناخية خاصة.

• **أكمل الجمل التالية بما يناسبها :**

1. القطاع الذي يمثل المرتبة الأولى من اقتصاد الوطن العربي ((**القطاع الزراعي**))
2. نسبة مساهمة القطاع الزراعي في الاقتصاد العربي تقدر بنحو ((50)) %
3. نسبة مساهمة القطاع الصناعي في الاقتصاد العربي تقدر بنحو ((20)) %
4. نسبة مساهمة قطاع الخدمات العامة في الاقتصاد العربي تقدر بنحو ((30)) %
5. نسبة ما تمتلكه الصومال من ثروة الوطن العربي الرعوية (الإبل) تقدر بنحو ((6,6)) %
6. المزروعات التي تتطلب ظروف مناخية خاصة وتتركز معظمها في حوض البحر المتوسط ((**الفواكه والثمار**))
7. الدولة العربية التي تحتل المركز الأول في إنتاج محصول الذرة الشامية تسمى ((**مصر**))
8. الدولة العربية التي تحتل المركز الأول في إنتاج محصول القمح تسمى ((**مصر**))
9. الدولة العربية التي تحتل المركز الأول في إنتاج محصول الأرز تسمى ((**مصر**))
10. الدولة العربية التي تحتل المركز الأول في إنتاج محصول الشعير تسمى ((**المغرب**))
11. الدولة العربية التي تحتل المركز الأول في إنتاج محصول قصب السكر تسمى ((**مصر**))
12. الدولة العربية التي تحتل المركز الأول في إنتاج محصول القطن تسمى ((**مصر**))
13. الدولة العربية التي تحتل المركز الأول في إنتاج محصول البن تسمى ((**اليمن**))
14. الدولة العربية التي تحتل المركز الأول في إنتاج الموالح تسمى ((**مصر**))
15. الدولة العربية التي تحتل المركز الأول في إنتاج التمور تسمى ((**السعودية**))
16. الدولة العربية التي تحتل المركز الأول في إنتاج العنب تسمى ((**سوريا**))
17. الدولة العربية التي تحتل المركز الأول في إنتاج الموز تسمى ((**الصومال**))
18. أهم المزروعات في الوطن العربي تسمى ((**الحبوب الغذائية**))
19. غلات تدخل في الصناعة وترزق من أجل التجارة يطلق عليها اسم ((**الغلات النقدية**))
20. يطلق على الغلات الصناعية والتجارية اسم ((**الغلات النقدية**))
21. نسبة الأراضي المزروعة في الوطن العربي من إجمالي الأراضي القابلة للزراعة تقدر بنحو ((56)) %

