

تم تحميل هذا الملف من موقع المناهج الكويتية



الملف نموذج إجابة أسئلة الاختبار الفصير (2)

[موقع المناهج](#) ⇨ [المناهج الكويتية](#) ⇨ [الصف الثاني عشر العلمي](#) ⇨ [لغة عربية](#) ⇨ [الفصل الأول](#)

روابط مواقع التواصل الاجتماعي بحسب الصف الثاني عشر العلمي



روابط مواد الصف الثاني عشر العلمي على تلغرام

[الرياضيات](#)

[اللغة الانجليزية](#)

[اللغة العربية](#)

[التربية الاسلامية](#)

المزيد من الملفات بحسب الصف الثاني عشر العلمي والمادة لغة عربية في الفصل الأول

2021

اسئلة مراجعة الاختبار التصيري (٢) - كيمياء الثاني عشر - نموذج اجابة

● اكتب بين القوسين المصطلح العلمي التي تدل عليه العبارات التالية :

(سرعة التفاعل الكيميائي)

١ كمية المتفاعلات التي يحدث لها تغير خلال وحدة الزمن

(نظرية التصادم)

٢ لذرات و النيونات و الجزيئات يهكن أن تتفاعل و تكون نواتج عندها يصطدم بعضها ببعض



بطاقة حركية كافية في الاتجاه الصحيح

(طاقة التنشيط)

٣ أقل كمية من الطاقة التي تحتاج اليها الجسيمات لتتفاعل

(المركب المنشط (الحالة الانتقالية))

٤ جسيمات تظهر خلال التفاعل لا تكون من المواد المتفاعلة ولا الناتجة وتتكون لحظياً

موقع
المنهج الكويتية
almanahj.com/kw

عند قمة حاجز التنشيط

(المادة المحفزة)

٥ مادة تزيد من سرعة التفاعل من دون استهلاكها , إذ يمكن بعد توقف التفاعل استعادتها من المزيج

المتفاعل من دون أن تتعرض لتغير كيميائي

(المادة المانعة للتفاعل)

٦ مادة تعارض تأثير المادة المحفزة وتُضعف تأثيرها وهذا يؤدي الى ببطء التفاعلات أو انعدامها

(التفاعلات غير العكوسة)

٧ تفاعلات تحدث في اتجاه واحد حتى تكتمل , بحيث لا تستطيع المواد الناتجة من التفاعل أن تتحد

مع بعضها البعض لتكوين المواد المتفاعلة مرة أخرى تحت ظروف التجربة

(التفاعلات العكوسة)

٨ تفاعلات كيميائية لا تستمر في اتجاه واحد حتى تكتمل , بحيث لا تُستهلك المواد المتفاعلة تماماً

لتكوين النواتج , و تتحد المواد الناتجة مع بعضها البعض لتعطي المواد المتفاعلة مرة أخرى

(التفاعلات العكوسة المتجانسة)

٩ تفاعلات عكوسة تكون فيها المواد المتفاعلة والناتجة من التفاعل في حالة واحدة من حالات المادة

(التفاعلات العكوسة غير المتجانسة)

١٠ تفاعلات عكوسة تكون فيها المواد المتفاعلة والناتجة في أكثر من حالة واحدة من حالات المادة

(الاتزان الكيميائي الديناميكي)

١١ حالة النظام التي تثبت فيها تراكيز المواد المتفاعلة والمواد الناتجة وتكون عندها سرعة

التفاعل الطردية مساوية لسرعة التفاعل العكسي طالما بقي النظام بعيداً عن أي مؤثر خارجي

(قانون فعل الكتلة)

١٢ عند ثبات درجة الحرارة , تتناسب سرعة التفاعل الكييميائي طردياً مع تراكيز المواد المتفاعلة

كل مرفوع الى أس يساوي عدد الهوللات أهم كل مادة في المعادلة الكييميائية الموزونة هوللات

(موضع الاتزان)

١٣ التراكيز النسبية للمواد المتفاعلة والمواد الناتجة عند الاتزان

١٤ النسبة بين حاصل ضرب تركيزات المواد الناتجة من التفاعل الى حاصل ضرب تركيزات

(ثابت الاتزان K_{eq})

المواد المتفاعلة كل مرفوع لأس يساوي عدد مولاته في المعادلة الكيميائية الموزونة

١٥ اذا حدث تغيير في أحد العوامل التي تؤثر في نظام متزن ديناميكيًا ، يُعدّل النظام نفسه الى

(مبدأ لوشاتيليه)

حالة إتران جديدة بحيث يُبطل أو يقلل من تأثير هذا التغيير

ضع علامة (✓) أمام العبارة الصحيحة و علامة (×) أمام العبارة الخاطئة في ما يلي :

١ تحدث التفاعلات الكيميائية جميعها بالسرعة نفسها عند الظروف نفسها

(×)

٢ جميع التصادمات التي تحدث بين الجسيمات المتفاعلة تؤدي الى حدوث تفاعل كيميائي

(×)

موقع
المنهج الكويتية
almanahj.com/kw

٣ يُمكن تغيير سرعة التفاعل بتغيير ظروف التفاعل

(✓)

٤ يعتبر المركب المنشط من المواد المتفاعلة

(×)

٥ يؤدي خفض درجة الحرارة الى زيادة سرعة التفاعلات الكيميائية

(×)

٦ تفاعل محلول كلوريد الصوديوم مع محلول نترات الفضة أسرع من تفاعل كلوريد الصوديوم الصلب

(✓)

مع نترات الصوديوم الصلب

٧ زيادة عدد الجسيمات المتفاعلة في حجم معين يقلل من سرعة التفاعل الكهيميائي

(×)

٨ غبار الفحم انشط من كتل الفحم الكبيرة

(✓)

٩ المواد المحفزة تعمل على زيادة حاجز طاقة التنشيط للتفاعل

(×)

١٠ الأنزيمات تعتبر من المواد المحفزة الحيوية التي تزيد من سرعة التفاعلات البيولوجية

(✓)

١١ يفضل التسخين في زيادة سرعة التفاعلات أكثر من استخدام المواد المحفزة في جميع التفاعلات الكيميائية

(×)

١٢ المادة المانعة للتفاعل تُعارض تأثير المادة المحفزة ما يؤدي الى ببطء التفاعل الكيميائي

(✓)

١٣ في التفاعلات العكوسة لا تُستهلك المواد المتفاعلة تماماً لتكوين النواتج

(✓)

١٤ عند حدوث حالة الاتزان الكهيميائي الديناميكي لتفاعل عكسي يجب أن تتساوى تراكيز المواد المتفاعلة و الناتجة

(×)

١٥ تتغير قيمة ثابت الاتزان عند تغيير درجة حرارة النظام

(✓)

١٦ إذا كانت قيمة ثابت الاتزان K_{eq} للتفاعل الطردى لأحد التفاعلات الوترية يساوي (2) فإن قيمة ثابت الاتزان [✓]

للتفاعل العكسي تساوي (0.5)

١٧ يكون تكون المواد الناتجة مفضلًا عندما يكون $K_{eq} > 1$ [✓]

١٨ يكون تكون المواد المتفاعلة مفضلًا عندما يكون $K_{eq} < 1$ [✓]

ضع علامة (✓) بين القوسين المتقابلين لأنسب اجابة صحيحة تكمل بها العبارات التالية :

١ تبعاً لنظرية التصادم :

موقع
المنهج الكويتية
almanahj.com/kw

كل تصادم بين جسيمات المواد المتفاعلة يؤدي الى حدوث تفاعل كيميائي

التصادمات بين جسيمات المواد المتفاعلة هي الشرط اللازم لحدوث التفاعل لكنه غير كافي

التفاعل بين الجسيمات التي لها طاقة أقل من طاقة التنشيط تؤدي الى حدوث تفاعلات بطيئة

التصادمات بين الجسيمات التي لها طاقة أكبر من طاقة التنشيط لا تؤدي الى حدوث تفاعل

٢ احد التغيرات التالية لا يزيد من سرعة التفاعل الكيوياني :

زيادة درجة الحرارة

زيادة تركيز المتفاعلات

إضافة مادة تزيد طاقة التنشيط

إضافة مادة محفزة للتفاعل

٣ يؤدي ارتفاع درجة الحرارة في معظم التفاعلات تقريباً الى زيادة التفاعلات بسبب زيادة :

احتمالية التصادمات الفعالة بين الجسيمات المتفاعلة

تركيز المواد المتفاعلة

طاقة حاجز التنشيط اللازمة لبدء التفاعل

حجم جسيمات المواد المتفاعلة

٤ إحدى العبارات التالية غير صحيحة حيث انه كلما صغر حجم الجسيمات المتفاعلة زاد :

معدل التصادمات فيما بينها

ضغطها

نشاطها

من سرعة التفاعل فيما بينها

٥ احد أشكال الفحم التالية هي الأقل نشاطاً :

الجرافيت الصلب

غبار الفحم

الفحم الساخن

بخار الفحم

٦ جميع الطرق التالية تعمل على زيادة نشاط مادة صلبة متفاعلة ما عدا واحدة وهي :

إذابتها في مذيب مناسب

تبريد هذه المادة

زيادة درجة حرارتها

طحن المادة وتحويلها الى مسحوق ناعم

٧ تعمل الهادة المحفزة للتفاعل على :

زيادة الزمن اللازم لإتمام التفاعل

زيادة حاجز طاقة التنشيط

إيجاد آلية بديلة ذات طاقة تنشيط أقل للتفاعل

تقليل كمية النواتج في فترة زمنية معينة

٨ العامل الذي يعمل على تقليل سرعة التفاعل الكيميائي :

تقليل حجم الجسيمات المتفاعلة

زيادة درجة الحرارة

إضافة مادة مانعة للتفاعل

زيادة تركيز المواد المتفاعلة

٩ احد العوامل التالية غير مفضل لزيادة سرعة التفاعل الكيميائي على الدوام :

زيادة تركيز المواد المتفاعلة

تقليل حجم الجسيمات المتفاعلة

زيادة درجة الحرارة

إضافة مادة محفزة

١٠ إذا كانت قيمة ثابت الاتزان للتفاعل الممتز التالي $\text{CaCO}_3(\text{s}) \rightleftharpoons \text{CaO}(\text{s}) + \text{CO}_2(\text{g})$ تساوي 0.2 فإن هذا يعني أن :

تركيز $[\text{CO}_2]$ يساوي 0.2 M

سرعة التفاعل العكسي أكبر من الطردي

سرعة التفاعل الطردي أكبر من العكسي

تركيز $[\text{CO}_2]$ يساوي 5 M

١١ احد العوامل التالية يؤثر على ثابت الاتزان K_{eq} :

تركيز المواد المتفاعلة

حجم الجسيمات المتفاعلة

درجة الحرارة

المادة المحفزة

١٢ في التفاعل الممتز التالي $\text{C}_2\text{H}_6(\text{g}) \rightleftharpoons \text{C}_2\text{H}_4(\text{g}) + \text{H}_2(\text{g})$ ($H = +138 \text{ KJ}$) يمكن زيادة كمية الايثين (C_2H_4) الناتجة :

بإضافة الهيدروجين الى مزيج التفاعل

بتقليل حجم وعاء التفاعل

بخفض درجة الحرارة

برفع درجة الحرارة

⦿ اطراف الفراغات في الجمل و العبارات التالية بما يناسبها :

١ ﴿ تُقاس سرعة التفاعل الكيميائي بكمية المتفاعلات التي يحدث لها تغير خلال وحدة الزمن

٢ ﴿ أقل كمية من الطاقة التي تحتاجها الجسيمات لتتفاعل تسمى طاقة التنشيط

٣ ﴿ المركب المنشط هو عبارة عن جسيمات تتكون لحظياً عند قمة حاجز طاقة التنشيط و يبلغ عمره 10^{-13} s

٤ ﴿ يؤدي ارتفاع درجة الحرارة الى زيادة سرعة التفاعل الكيميائي

٥ ﴿ كلما صغر حجم الجسيمات زادت مساحة السطح لكتلة معينة



٦ ﴿ يمكن زيادة سطح مادة متفاعلة صلبة إما بإذابتها في مذيب مناسب أو طحنها

٧ ﴿ تتناسب سرعة التفاعل الكيميائي تناسباً عكسياً مع حجم الجسيمات المتفاعلة

٨ ﴿ الأنزيمات التي تزيد من سرعة هضم السكريات والبروتينات في جسم الانسان تُعتبر من المواد المحفزة لهذه التفاعلات

٩ ﴿ اشتعال كتلة كبيرة من الفحم أبطء من اشتعال غبار الفحم المتناثر

١٠ ﴿ إذا كان التعبير عن ثابت الاتزان لأحد التفاعلات الغازية هو $K_{eq} = \frac{[NH_3]^2}{[N_2][H_2]^3}$ فتكون معادلة التفاعل



١١ ﴿ في النظام المتزن التالي: $2CO_{(g)} \rightleftharpoons CO_{2(g)} + C_{(s)}$ فإن زيادة الضغط على هذا النظام

يؤدي الى زيادة استهلاك غاز (CO)

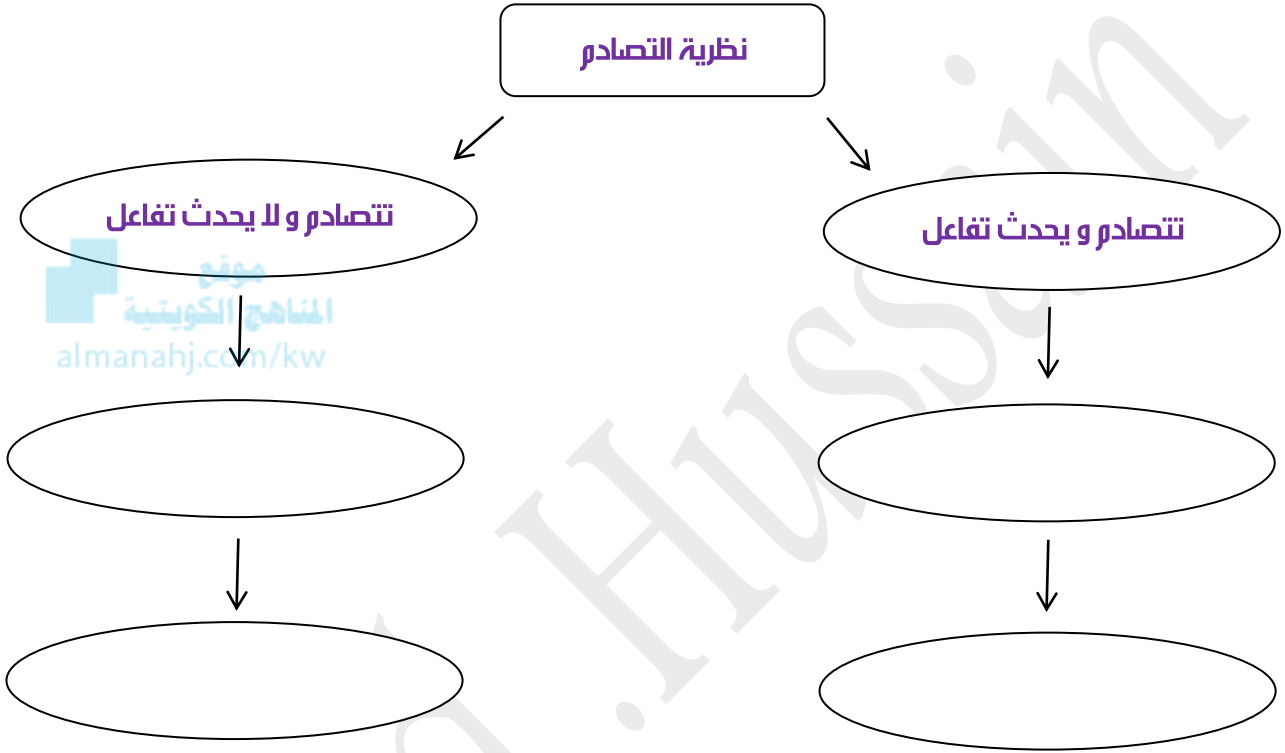
١٢ ﴿ عندما تكون قيمة $K_{eq} > 1$ تكون المواد الناتجة الأكثر تواجداً من المواد المتفاعلة

١٣ ﴿ عندما تكون قيمة $K_{eq} < 1$ تكون المواد المتفاعلة الأكثر تواجداً من المواد الناتجة

١٤ ﴿ ترتبط قيمة K_{eq} للتفاعل درجة الحرارة أي تتغير بتغيرها

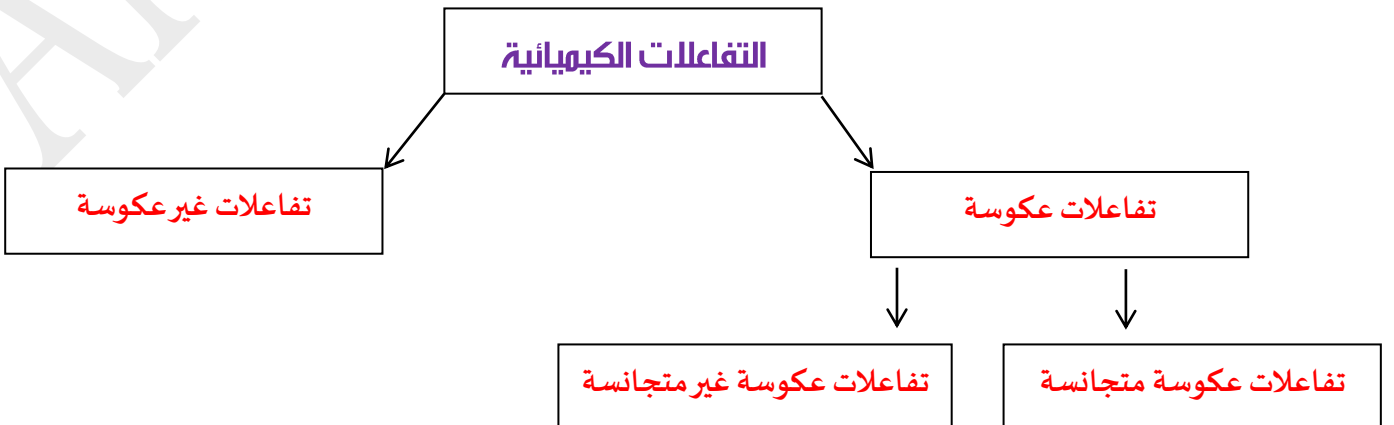
أكمل خريطة المفاهيم التالية موضح سلوك الجسيمات أثناء التفاعل :

الجسيمات تمتلك طاقة تنشيط أكبر من طاقة التفاعل \ الجسيمات تمتلك طاقة تنشيط أقل من طاقة التفاعل
تصادم غير مؤثر \ نظرية التصادم \ تصادم مؤثر



أكمل الفراغات في الخطط التالي مستعينا بالمصطلحات التالية :

تفاعلات عكوسة - تفاعلات عكوسة متجانسة - التفاعلات الكيميائية - تفاعلات غير عكوسة - تفاعلات عكوسة غير متجانسة



● **علل لكل مما يلي تعليلاً علمياً صحيحاً أو اكتب التفسير العلمي المناسب :**

١ ✦ يرتدي عامل اللحام نظارة خاصة عند قيامه بعملية لحام المعادن باستخدام غاز الايثانين والاكسجين

لكي يقي عينيه من وهج اللهب الناتج عن احتراق غاز الايثانين

٢ ✦ يشتعل عود الثقاب على الفور بمجرد حكه

لأن الحرارة المتولدة من احتكاك عود الثقاب كافية لاستمرار التفاعل

٣ ✦ لا يكفي تصادم جسيمات المادة مع بعضها بعضاً لكي يحدث التفاعل

لأنها يجب أن تمتلك طاقةً كافيةً حتى تتمكن من تخطي قمة حاجز طاقة التنشيط و عندها تتحول الى موادٍ ناتجة

٤ ✦ ارتفاع درجة حرارة المواد المتفاعلة يؤدي الى زيادة سرعة تفاعلها

لزيادة طاقة الجسيمات و بالتالي زيادة سرعتها مما يزيد من احتمال تصادمها و بالتالي يسرع من عملية تكوين النواتج

٥ ✦ سرعة تفاعل الكربون مع الاكسجين عند درجة حرارة الغرفة تساوي صفراً

لان الجسيمات المتصادمة لا تملك طاقةً كافيةً لتجاوز قمة حاجز طاقة التنشيط

٦ ✦ يزداد توهج رقاقة خشبية مشتعلة عند ادخالها في مخبر مملوء بغاز الاكسجين

لان زيادة تركيز الأكسجين يزيد من سرعة تفاعل الاحتراق

٧ ✦ يُمنع التدخين في الأماكن التي تُستخدم فيها الانايبب المعبأة بالأكسجين

لزيادة تركيز الأكسجين في هذه الأماكن و بالتالي زيادة سرعة تفاعل الاحتراق

٨ ✦ احتراق قطعة من الخشب أبطأ من احتراق حزمة من العصي لها نفس الكتلة

لأن زيادة مساحة السطح تزيد من سرعة التفاعل

٩ ✦ يدرك عمال المناجم أن كتل الفحم الكبيرة أقل خطراً من غبار الفحم المعلق و المتناثر في الهواء

لأن حجم جسيماته صغير جداً و بالتالي يكون نشطاً جداً و قابل للانفجار

١٠ ✦ تفاعل محلول حمض الهيدروكلوريك مع برادة الحديد أسرع من تفاعله مع قطعة من الحديد

لأن زيادة مساحة السطح تزيد من سرعة التفاعل

١١ ✦ يتم اضافة مادة محفزة لبعض التفاعلات الكيميائية

لأنها تعمل على ايجاد آلية بديلة ذات طاقة تنشيط أقل و بالتالي زيادة سرعة التفاعل الكيميائي

١٢ ✦ تُعتبر المواد المحفزة الحيوية (الانزيمات) عامل مساعد في زيادة سرعة التفاعل أفضل من زيادة درجة الحرارة في العمليات الحيوية

لأن رفع درجة الحرارة يُشكل خطراً على حياة الانسان

١٣ ✦ تُضاف مادة مانعة للتفاعل لبعض التفاعلات الكيميائية

حيث أنها تعمل على ابطائها أو إيقافها

١٤ ✦ التفاعل التالي: $AgNO_{3(aq)} + NaCl_{(aq)} \rightarrow AgCl_{(s)} + NaNO_{3(aq)}$ لا يُعتبر من التفاعلات العكسية

لأن المواد الناتجة عن التفاعل لا تتفاعل مع بعضها البعض لتكون المواد المتفاعلة

١٥ ✦ التفاعل التالي: $CH_3COOH_{(l)} + H_2O_{(l)} \rightleftharpoons CH_3COO^{-}_{(aq)} + H_3O^{+}_{(aq)}$ يُعتبر من التفاعلات العكسية

لأن المواد الناتجة عن التفاعل تتفاعل مع بعضها البعض لتكون المواد المتفاعلة

١٦ ✦ عندما يصل النظام الى حالة الاتزان الكيميائي الديناميكي تثبت تركيزات المواد المتفاعلة و المواد الناتجة من التفاعل

لأنه عند الوصول الى حالة الاتزان الكيميائي الديناميكي تكون سرعة التفاعل الطردني مساوية لسرعة التفاعل العكسي

١٧ ✦ تعبير ثابت الاتزان K_{eq} لا يشمل المواد الصلبة لأن تركيزها ثابت لا يتغير و يساوي الواحد

١٨ ✦ في التفاعل التالي: $HNO_{2(aq)} + H_2O_{(l)} \rightleftharpoons H_3O^{+}_{(aq)} + NO_{2^{-}(aq)}$ لا يدخل الماء ضمن تعبير ثابت الاتزان

لأنه يعمل كمذيب و بالتالي يكون تركيزه ثابت و يساوي الواحد

١٩ ✦ تُسرّع المادة المحفزة التفاعل الطردني و التفاعل العكسي بدرجة متساوية

لأن التفاعل العكسي هو التفاعل المضاد تماماً للتفاعل الطردني

✎✎ قارن بين كل مها يلي في الجدول التالي :

وجه المقارنة	K_{eq} أكبر من 1	K_{eq} أقل من 1
إتجاه موضع الاتزان في التفاعلات العكسية (طردى - عكسى)	طردى	عكسى

✎✎ ادرس التفاعل الهترن التالي ثم أجب عن المطلوب :



التغير	النتائج المكتملة	الإجابة الصحيحة
أثر زيادة الضغط على إنتاج أول أكسيد الكربون	(يزداد - يقل - لا يتأثر)	لا يتأثر
أثر زيادة درجة الحرارة على إنتاج أول أكسيد الكربون	(يزداد - يقل - لا يتأثر)	يزداد
أثر إضافة بخار الماء على قيمة ثابت الاتزان K_{eq}	(يزداد - يقل - لا يتأثر)	لا يتأثر
أثر طحن و تفتيت الكربون على سرعة التفاعل	(يزداد - يقل - لا يتأثر)	يزداد
أثر إضافة مادة محفزة على طاقة تنشيط التفاعل	(تزداد - تقل - لا تتأثر)	تقل

✎✎ قم بدراسة النظام الترن التالي ثم اجب عن الاسئلة التالية :



١ يزاح موضع الاتزان في إتجاه تكوين عند رفع درجة الحرارة

٢ تقل قيمة ثابت الاتزان (K_{eq}) عند درجة الحرارة

٣ ماذا يحدث لموضع الاتزان عند خفض الضغط المؤثر على النظام

٤ يزاح موضع الاتزان في إتجاه تكوين عند إضافة المزيد من بخار الماء

٥ اكتب عبارة ثابت الاتزان (K_{eq})

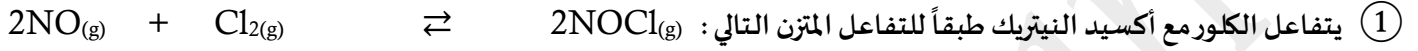
ماذا تتوقع أن يحدث في كل من الحالات التالية ، مع التفسير ؟

١ لعامل المناجم عند تعرضهم لغبار الفحم المهلك و المتناثر في الهواء

التوقع :

التفسير :

كل المسائل التالية :



فإذا وجد عند الاتزان أن تركيز كل من (NO ، Cl₂ ، NOCl) هو

(0.32 M ، 0.2 M ، 0.1 M) على الترتيب ، فاحسب قيمة ثابت الاتزان (K_{eq}) لهذا التفاعل :

$$K_{eq} = \frac{[\text{NOCl}]^2}{[\text{NO}]^2 \cdot [\text{Cl}_2]} = \frac{[0.1]^2}{[0.32]^2 \cdot [0.2]} = 0.4883$$

٢ يحضر الميثانول (CH₃OH) في الصناعة بتفاعل غاز CO ، مع غاز H₂ عند درجة 500 K حسب التفاعل المتزن التالي :



فإذا وجد عند الاتزان أن المخلول يحتوي على (0.0406 mol) ميثانول ، (0.302 mol) هيدروجين (0.170 mol) أول أكسيد

الكربون وأن حجم الإناء يساوي (2 L) ، فاحسب قيمة ثابت الاتزان (K_{eq}) لهذا التفاعل

$$K_{eq} = \frac{[\text{CH}_3\text{OH}]}{[\text{H}_2]^2 \cdot [\text{CO}]}$$

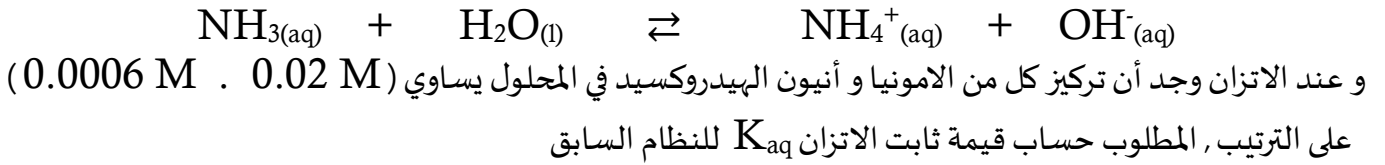
$$[\text{CH}_3\text{OH}] = \frac{n}{v} = \frac{0.0406}{2} = 0.0203 \text{ M}$$

$$[\text{H}_2] = \frac{0.302}{2} = 0.151 \text{ M}$$

$$[\text{CO}] = \frac{0.170}{2} = 0.085 \text{ M}$$

$$K_{eq} = \frac{[\text{CH}_3\text{OH}]}{[\text{H}_2]^2 \cdot [\text{CO}]} = \frac{[0.0203]}{[0.151]^2 \cdot [0.085]} = 10.47$$

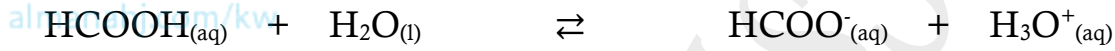
③ أذيت كمية من الأمونيا في الماء حتى حدوث الاتزان التالي :



$$K_{\text{eq}} = \frac{[\text{NH}_4^+][\text{OH}^-]}{[\text{NH}_3]} = \frac{[0.0006][0.0006]}{[0.02]} = 0.000018$$



④ تُرك محلول لحمض الفورميك HCOOH في الماء حتى حدوث الاتزان التالي :



فإذا وجد أن تركيز كاتيون الهيدرونيوم في المحلول عند الاتزان يساوي (4.2×10^{-3} M) , احسب تركيز الحمض عند الاتزان
علماً بأن قيمة ثابت الاتزان K_{eq} يساوي 1.764×10^{-4}

$$K_{\text{eq}} = \frac{[\text{HCOO}^-][\text{H}_3\text{O}^+]}{[\text{HCOOH}]}$$

$$1.764 \times 10^{-4} = \frac{[4.2 \times 10^{-3}][4.2 \times 10^{-3}]}{[\text{HCOOH}]}$$

$$[\text{HCOOH}] = 0.1\text{M}$$

5) تفاعل ثاني أكسيد الكبريت مع الأكسجين في وعاء حجمه (5 L) لتكوين ثالث أكسيد الكبريت و عند درجة حرارة معينة حدث



و عند الإلتزان كان عدد مولات كل من SO_3 , O_2 , SO_2 هو (0.3 , 0.2 , 0.4) على الترتيب

احسب قيمة ثابت الإلتزان K_{eq} في هذه الظروف

الحل :

العلاقة الرياضية :



التعويض :

6) أدخلت كمية من غاز النيتروجين و غاز الهيدروجين في وعاء حجمه (10 L) و سمح لهما بالتفاعل عند درجة حرارة معينة فحدث



فإذا كان عدد مولات النيتروجين و الهيدروجين و الأمونيا عند الإلتزان تساوي (27 , 2.5 , 0.5) مول على الترتيب

احسب قيمة ثابت الإلتزان K_{eq}