



وزارة التربية
الإدارة العامة لمنطقة الأحمدية التعليمية
مدرسة هدية الابتدائية بنين

وسائل الوحدة (٧).

www.kwedufiles.com

للمصف الأول



• المعلمة : نورة المطيري .

إعداد

• رئيسة القسم : شيمه المطيري

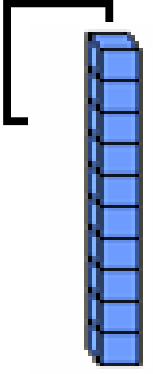

إشراف

الأعداد إلى العدد ٢٠

www.KweduFiles.Com



بند (٧-١)




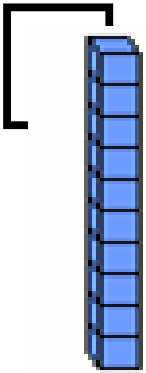
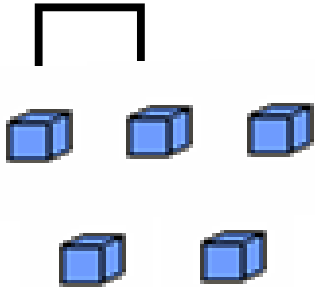
عشرات	وحدات
	

● اكتب رمز العدد الممثل .

WWW.KweduFiles.Com

عشرات	آحاد
	





عشرات	وحدات
	

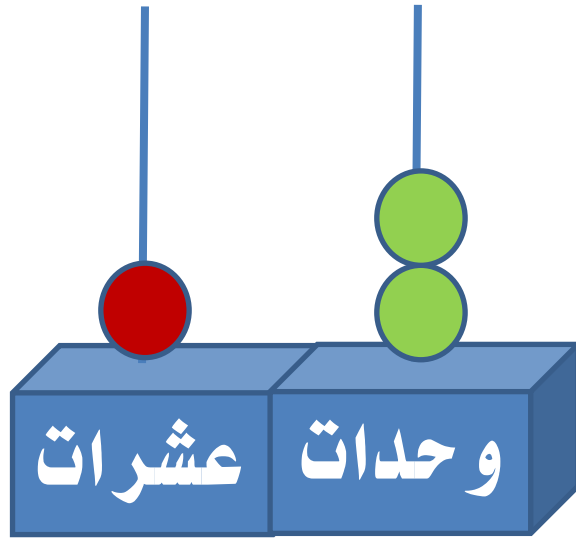
● اكتب رمز العدد الممثل .

WWW.KweduFiles.Com

عشرات	أحاد
<input type="text"/>	<input type="text"/>



• اكتب رمز العدد الممثل .

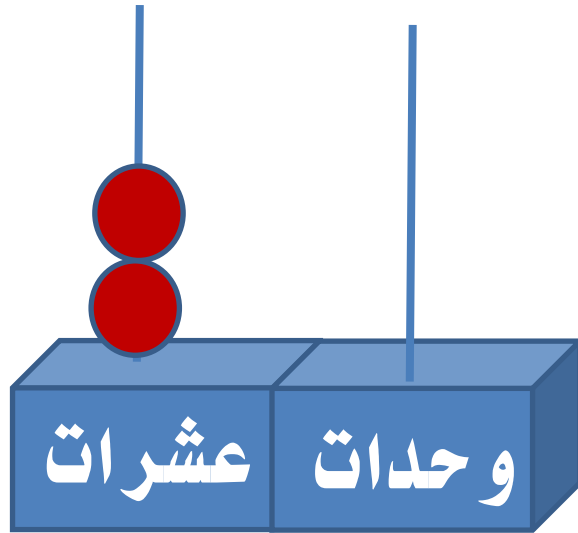


WWW.KweduFiles.Com

عشرات	أحاد
<input type="text"/>	<input type="text"/>



• اكتب رمز العدد الممثل .

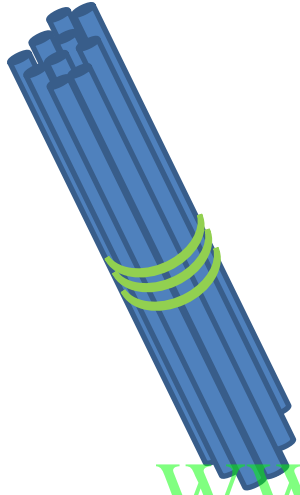


WWW.KweduFiles.Com

عشرات	أحاد
<input type="text"/>	<input type="text"/>



● اكتب رمز العدد الممثل .



WWW.KweduFiles.Com

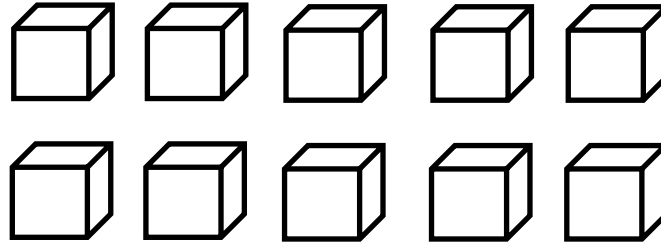
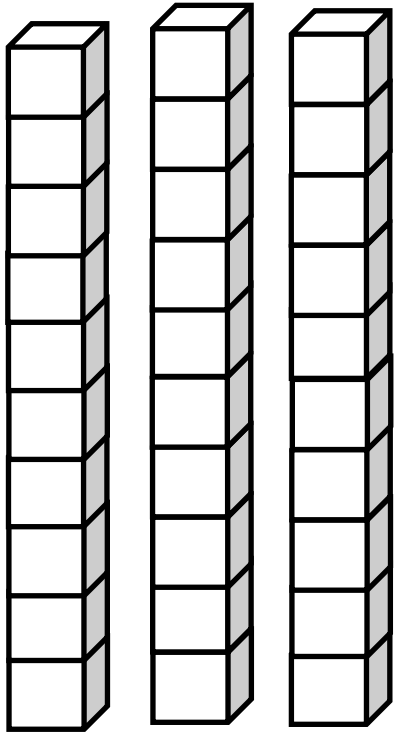
عشرات	أحاد
<input type="text"/>	<input type="text"/>



● لون . اكتب رمز العدد .

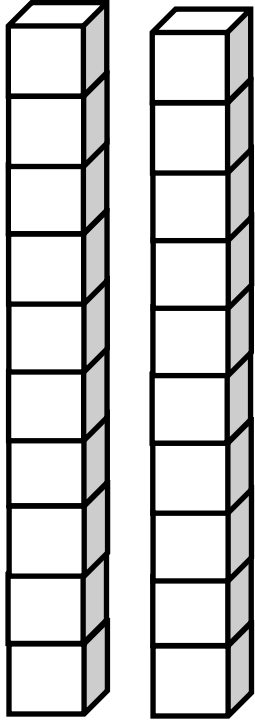
٥ وحدات و ١ عشرة

WWW.KweduFiles.Com


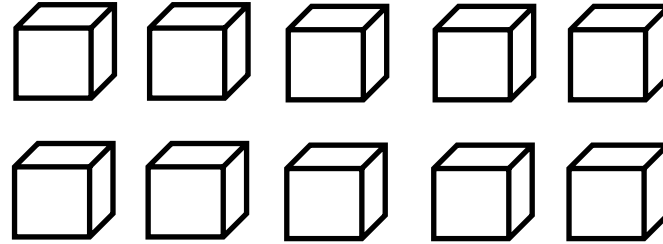


● لون . اكتب رمز العدد .

٧ وحدات



WWW.KweduFiles.Com






• أكمل خط الأعداد .





(أ) ارسم العدد نفسه من الفواكة المبينة أعلاه .

WWW.KweduFiles.Com

(ج) صل :



-
-
-

● الفاكهة الأكثر عدداً

● الفاكهة الأقل عدداً



(ب) أكمل الجدول .

العدد	الفاكهة
	
	
	

● لون الإجابة الصحيحة :

أنا عدد أصغر من العدد ١٥ . رقم أحادي أكبر من رقم

عشراتي . من أنا ؟ WWW.KweduFiles.Com

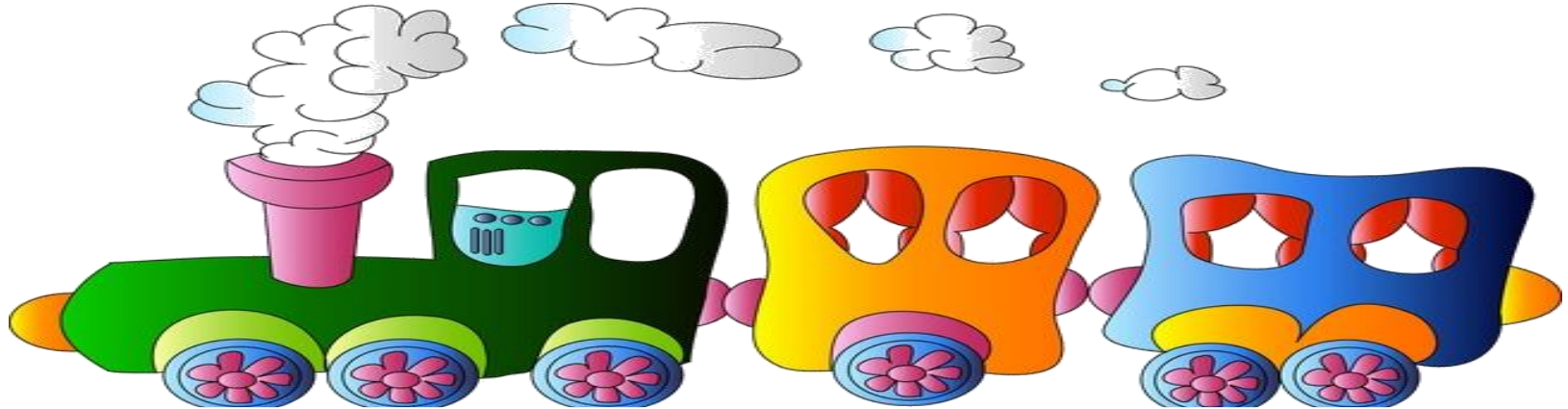
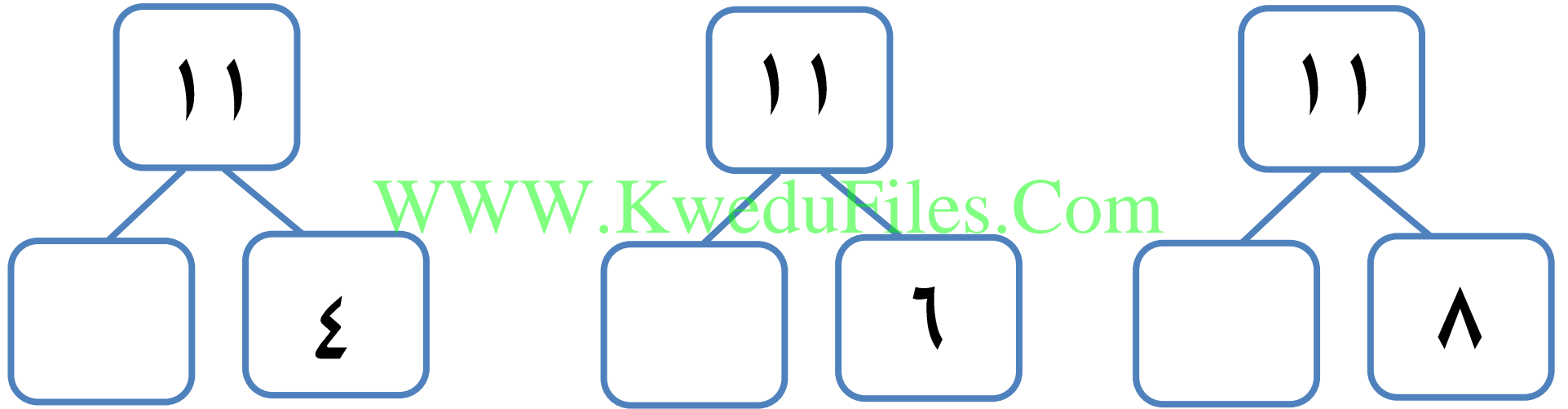


• مكونات الأعداد إلى العدد ٢٠

بند (٧-٢)



● حل مستخدماً العناصر : أكمل :



● حل مستخدماً العناصر : اكتب مكونات العدد ١٤ :

١٤

١٤

١٤

WWW.KweduFiles.Com



● حل مستخدماً العناصر : اكتب مكونات العدد ٢٠ :

٢٠

٢٠

٢٠

WWW.KweduFiles.Com

□ □ □ □ □ □ □ □



● اكتب مكونات عدد من عندك .

WWW.KweduFiles.Com



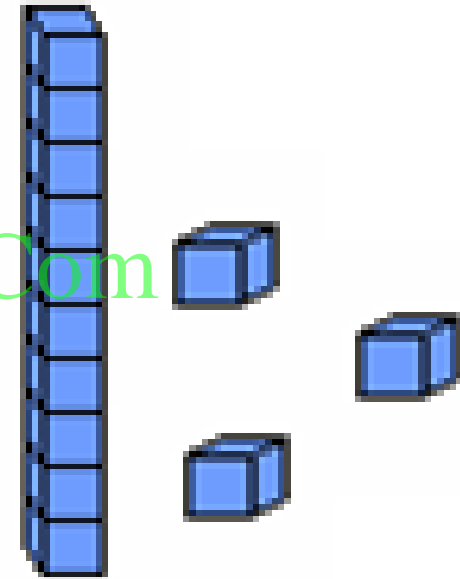
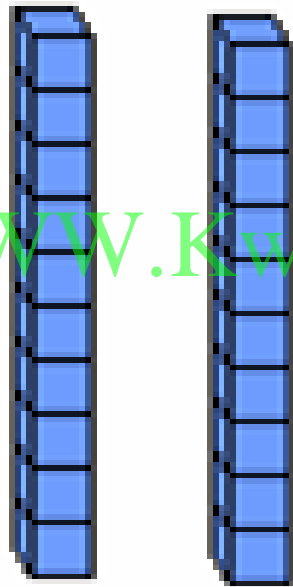
• مقارنة الأعداد إلى العدد ٢٠

WWW.KweduFiles.Com




بند (٣-٧)



● اكتب رمز العدد الممثل . قارن مستخدما العلامة المناسبة (< أو > أو =).

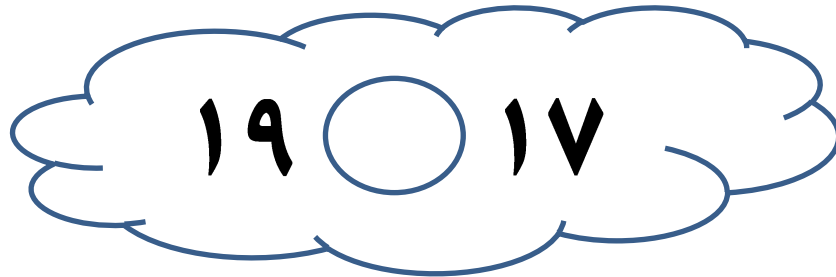
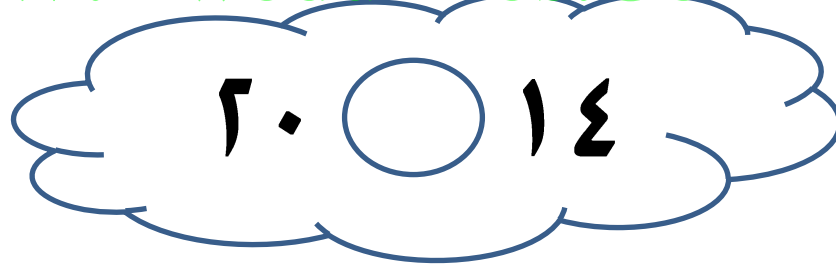
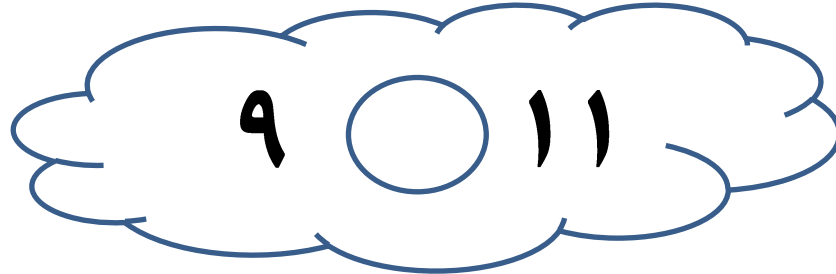


WWW.KweduFiles.Com



عشرات	وحدات

● قارن . اكتب رمز العلاقة المناسبة (< أو > أو =) . استخدم  و  .

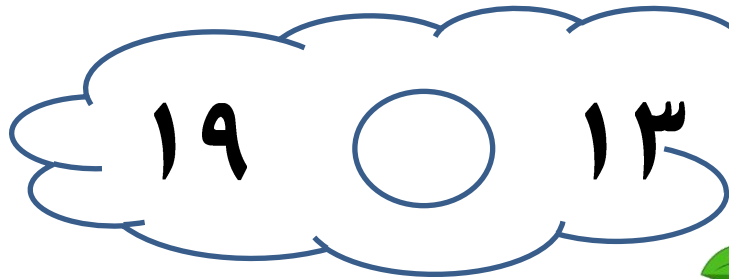



www.KweduFiles.Com

● قارن باستخدام خط الأعداد .



WWW.KweduFiles.Com


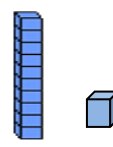


• ترتيب الأعداد الى العدد ٢٠

WWW.kweduFiles.Com

بند (٧-٤)



● حل مستخدماً . أو  أو 

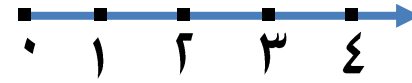
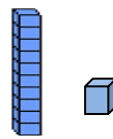

رتب الأعداد . من الأصغر إلى الأكبر .

WWW.KweduFiles.Com


١ ، ٤ ، ١ ، ٦ ، ١ ، ١

--	--	--



● حل مستخدماً | أو  أو  

رتب الأعداد . من الأكبر الى الأصغر .



W.KweduFiles.Com

٩ ، ١٥ ، ٨

--	--	--

● أكمل بكتابة أعداد من عندك بحيث يكون الترتيب :

(أ) من الأصغر الى الأكبر

	١٧	
--	----	--


(ب) من الأكبر الى الأصغر

	٦	
--	---	--







● أكمل مستخدماً (قبل ، بين ، بعد) .



● حوط لتوضيح الترتيب .




السابع 

الخامس 

الثالث 

● لون لتوضيح الترتيب .



الأول

الثامن



السادس



الثالث



الأول



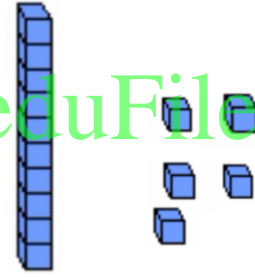

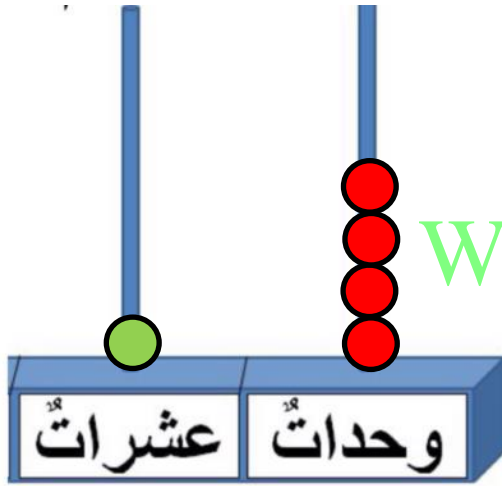
•مراجعة الوحدة السابعة

www.KweduFiles.Com

بند (٧-٥)



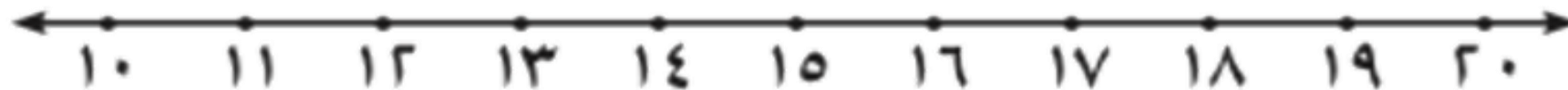
● عد الوحدات والعشرات ، ثم اكتب رمز العدد .



WWW.KweduFiles.Com

● قارن . اكتب رمز العلاقة ($<$ أو $>$ أو $=$) . بإمكانك استخدام خط

الأعداد .




WWW.KweduFiles.Com

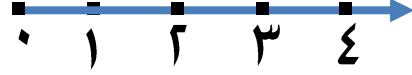
٢٠ * ١٢

١٥ * ١٥

١٣ * ١٨



● حل مستخدماً . أو



رتب الأعداد من الأكبر الى الأصغر .

رتب الأعداد من الأصغر الى الأكبر .

١٩ ، ١٤ ، ١٧ ، ٩

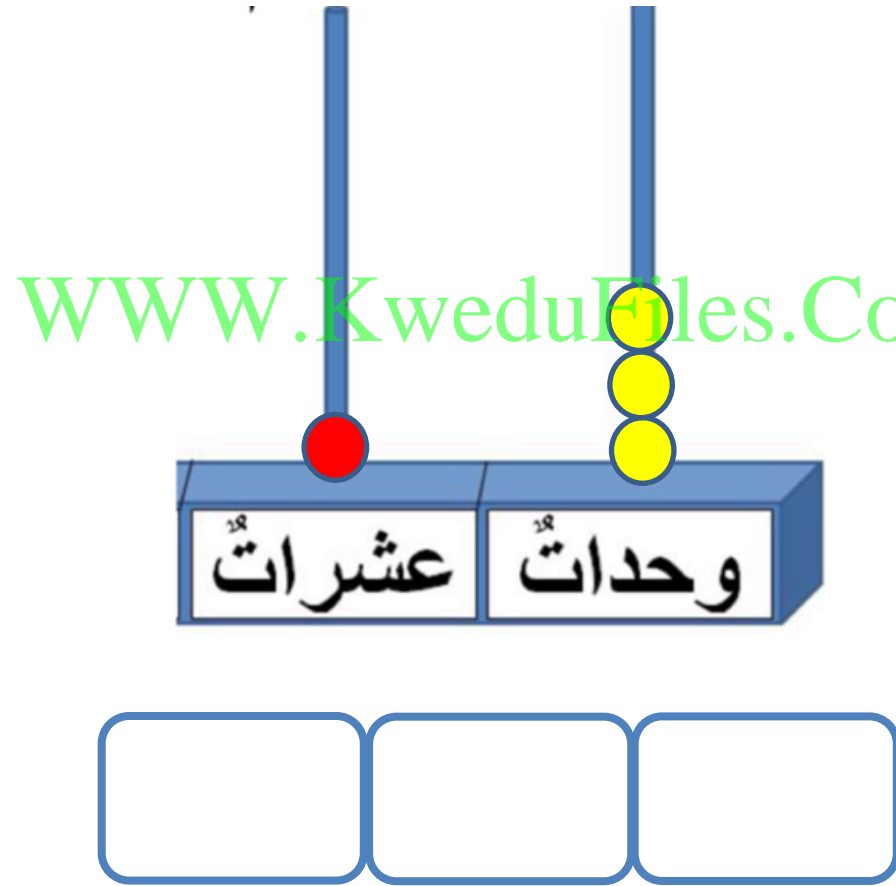
--	--	--

--	--	--



● أكمل بكتابة أعداد من عندك بحيث يكون الترتيب من العدد الأصغر الى

العدد الأكبر.

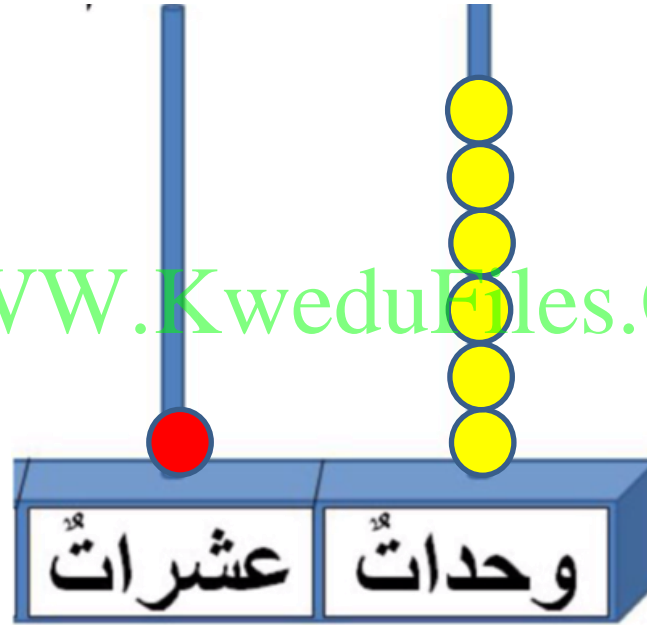


● أكمل بكتابة أعداد من عندك بحيث يكون الترتيب من العدد الأصغر إلى

العدد الأكبر.



WWW.KweduFiles.Com



● أكمل سلسلة الأعداد مستخدماً (قبل ، بعد ، بين) .



٢٠



WWW.KweduFiles.Com

١٦

١٥



● حوط لتوضيح الترتيب مستخدماً الشكل المناسب

الثاني  الخامس  السابع 