



المجال : الكويت والعالم  
الزمن : ساعة ونصف  
عدد الصفحات : ( ٦ )

امتحان نهاية الفترة الدراسية الثانية  
للعام الدراسي : ٢٠١٨/٢٠١٩ م  
للمنصف التاسع  
نموذج الإجابة

وزارة التربية  
الإدارة العامة لمنطقة الفروانية التعليمية  
التوجيه الفني للاجتماعيات

أجب على الأسئلة التالية :

السؤال الأول:- موضوعي ويتكون من ( أ - ب - ج - د - هـ - و )

أ - أكمل العبارات التالية بما يناسبها فيما درست :

- ١- العالم الذي اخترع جهاز الهاتف يسمى ألكسندر غراهام بل ص ٩٥
  - ٢- المنظمة الدولية التي تأسست عام ١٩١٩م من قبل الدول المنتصرة في الحرب العالمية الأولى تسمى عصبة الأمم ص ١٢٧
  - ٣- أقيمت أول مستوطنة بريطانية في استراليا في عام ١٧٨٨م في مدينة تسمى سيدني ص ٨٧
  - ٤- عملية تغيير شامل في أدوات الإنتاج الصناعي ووسائله وحجمه تسمى الثورة الصناعية ص ١١٥
  - ٥- العام الذي انضمت فيه دولة الكويت إلي هيئة الأمم المتحدة ١٩٦٣م ص ١٥٠
  - ٦- الصورة المقابلة تمثل قائد الثورة الشيوعية في روسيا اسمه لينين ص ١٢٢
- ب - ضع خطأ تحت الخيار الصحيح من بين الخيارات التي تلي كل عبارة :



- ١- أكبر قارات العالم مساحة قارة : ص ٧٩  
- أفريقيا - أمريكا الشمالية - أمريكا الجنوبية - آسيا
- ٢- الملاح الذي أثبت كروية الأرض : ص ١١٦  
- جون كابوت - ماجلان - كولمبس - هنري الملاح
- ٣- يقع مقر المنظمة الإقليمية لحماية البيئة البحرية في : ص ١٤٦  
- البحرين - عمان - الكويت - السعودية
- ٤- الجهاز الرئيسي لمنظمة الأمم المتحدة ويضم جميع الدول الأعضاء : ص ١٢٨  
- الأمانة العامة - مجلس الوصايا - الجمعية العامة - مجلس الأمن
- ٥- تقع اليابان في الأقاليم المعتدلة الدافئة والباردة بين دائرتي عرض : ص ٩٢  
- ( ٥ - ٤٦ شمالاً ) - ( ١٠ - ٤٦ شمالاً ) - ( ١٦ - ٤٦ شمالاً ) - ( ٢٦ - ٤٦ شمالاً )
- ٦- يقع مقر محكمة العدل الدولية في مدينة : ص ١٢٨  
- لاهاي - روما - جنيف - أمستردام



ج - اختر من القائمة ( أ ) ما يناسبها من القائمة ( ب ) بوضع الرقم المناسب :

م	( أ )	الرقم المناسب	( ب )
١	الإنفاق الأمثل للمال بحيث يتم استخدام أساليب وتدابير حكيمة في عملية الاستهلاك . ص ١٠٨	٣	الرسوم الجمركية
٢	اقتطاع جزء من الدخل بشرط يأخذ طريقه للاستثمار . ص ١٠٨	٤	الدخل القومي
٣	ضريبة تفرضها الدولة بما لها من حق السيادة على البضائع المستوردة أو المصدرة . ص ١٠٧	٥	الاستثمار
٤	دخل الدولة خلال عام من مختلف المصادر . ص ١٠٨	-	الضرائب
٥	توظيف الفائض من الأموال أو النقود الناتج عن زيادة دخل الدولة . ص ١٠٨	١	الترشيد
		٢	الادخار

د - صنف أنواع التعاون التالية حسب الصورة المناسبة :

( التعاون الجبري - التعاون الاختياري - التعاون الأسري - التعاون الدفاعي ) ص ١١٠



التعاون الاختياري



التعاون الجبري



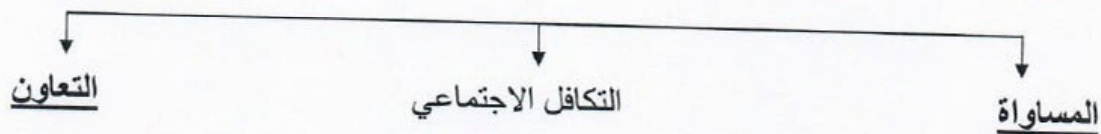
التعاون الدفاعي



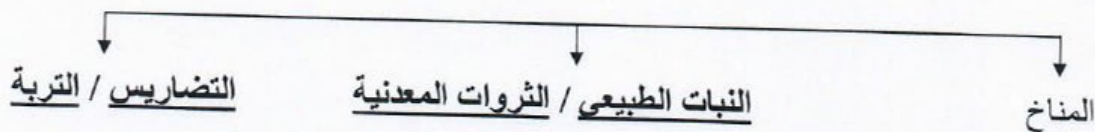
التعاون الأسري

هـ - أكمل المخططات السهمية التالية :

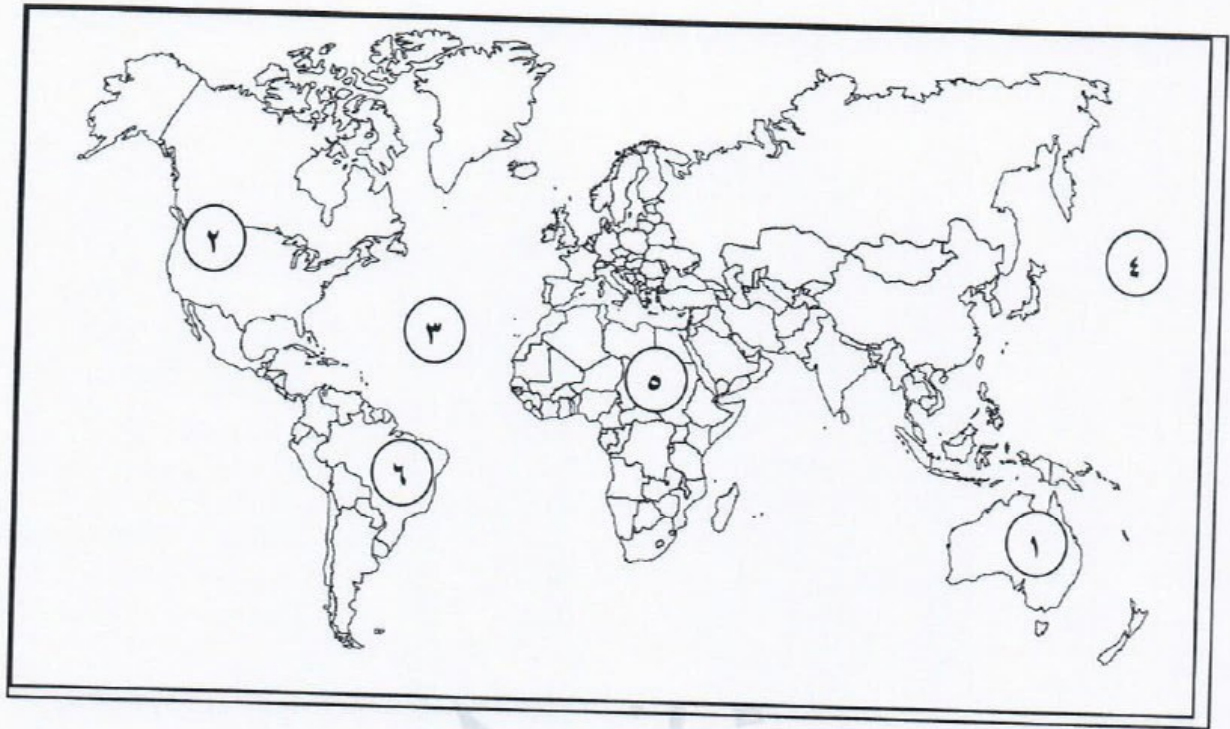
١. ركائز العدالة الاجتماعية ص ١٠٩



٢. العوامل الطبيعية التي تتحكم في توزيع السكان ص ٨٣



و- أمامك خريطة العالم الصماء نفذ المطلوب عليها :



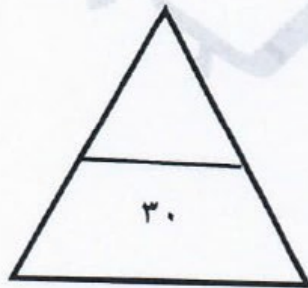
- قارة أفريقيا يمثلها على الخريطة الرقم .....٥..... ص ٧٩

- المحيط الأطلسي يمثلها على الخريطة الرقم .....٣..... ص ١١٦

- الدولة التي عقد بها مؤتمر قمة الأرض عام ١٩٩٢م يمثلها على الخريطة الرقم .....٦..... ص ١٣٥

- الدولة التي بها أضخم صخرة في العالم يمثلها على الخريطة الرقم .....١..... ص ٨٥

- جبال روكي يمثلها على الخريطة الرقم .....٢..... ص ٧٩





السؤال الثاني :- مقالتي ويتكون من ( أ - ب )

أ- قارن بين كل من :

أوجه الاختلاف	الحرب العالمية الأولى	الحرب العالمية الثانية
عدد الدول المشاركة	<u>٣٣ دولة</u> ص ١١٧ (درجة واحدة)	٦٢ دولة ص ١٢٤ (درجة واحدة)
السبب المباشر	- قيام طالب صربي باغتيال ولي عهد النمسا في مدينة سراييفو عاصمة البوسنة . ص ١١٦ (درجة واحدة)	- سياسة هتلر التوسعية في أوروبا والاستيلاء على ممر دانزج البولندي سنة ١٩٣٩م . ص ١٢٤ (درجة واحدة)
أهم النتائج	١- اختفاء أربع إمبراطوريات عريقة (الألمانية - الروسية - النمساوية - التركية) . ٢- فرض غرامة مالية كبيرة على الدول المهزومة . ٣- فرض القيود على الجيش والأسطول الألماني وفقدان ألمانيا لأجزاء من أراضيها . ص ١١٩-١٢٠ (درجة واحدة)	١- عدلت خريطة أوروبا السياسية من جديد . ٢- قضى على النازية والفاشية . ٣- انقسمت ألمانيا إلى قسمين (شرقية - غربية) . ٤- خرجت الولايات المتحدة والاتحاد السوفييتي من الحرب كأكبر دولتين في العالم . ص ١٢٦ (درجة واحدة)

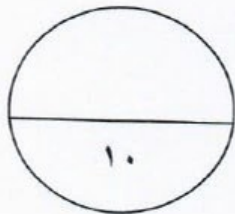
ب - علل لما يلي :

١- يعتبر النفط والغاز الطبيعي مادة إستراتيجية في عصرنا الحاضر . ص ١٣٠ (درجة واحدة)  
توفرهما بكميات كبيرة في مناطق محدودة / سهولة نقلهما وتخزينهما / يعتبران مادتان هامتان وقت السلم والحرب .

٢- وضعت هيئة الأمم المتحدة دولة الكويت في قائمة الشرف الخاصة . ص ١٥٠ (درجة واحدة)  
بسبب التزامها الدائم بقرارات الأمم المتحدة منذ انضمامها عام ١٩٦٣م .

٣- تمكن اليابانيون من ربط دولتهم بشبكة من الجسور والأنفاق العملاقة وخطوط السكك الحديدية . ص ٩٣ (درجة واحدة)  
للتغلب على الشكل المشتت لدولتهم .

٤- تشتهر أستراليا على مستوى العالم بإنتاجها للصوف . ص ٨٧ (درجة واحدة)  
بسبب ثروتها الرعوية





السؤال الثالث :- مقالتي ويتكون من ( أ - ب )

أ - فرق بين كل مما يلي :

منظمة الأوبك ص ١٣٢	منظمة الأوبك ص ١٣٢
- هي منظمة الأقطار العربية المصدرة للنفط تأسست عام ١٩٦٨ م . (درجة واحدة)	- هي منظمة الأقطار المصدرة للنفط تأسست عام ١٩٦٠ م . (درجة واحدة)
الصادرات ص ٨٨	الواردات ص ٨٨
- السلع والخدمات التي تباع للبلاد الأجنبية . (درجة واحدة)	- السلع والخدمات التي يشتريها البلد من العالم الخارجي . (درجة واحدة)

ب - دلل على صحة العبارات التالية : ( يكفي بنقطتين لكل سؤال )

١- للانضمام لعضوية هيئة الأمم المتحدة لابد من وجود شروط . ص ١٢٧ (درجتان)

أ. أن تكون الدولة مستقلة / أن تكون الدولة محبة للسلام .

ب. أن تتعهد بتنفيذ قوانين هيئة الأمم المتحدة .

٢- وجود أوجه تشابه بين الأنظمة الدكتاتورية . ص ١٢٢ (درجتان)

أ. الزعامة المطلقة . / الحزب هو السلطة الوحيدة في الدولة .

ب. استخدام وسائل بوليسية وإرهابية لفرض النظام الجديد . / التوسع في أوروبا .

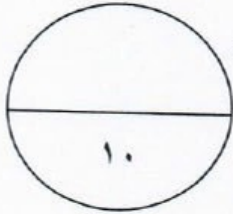
٣- لدولة الكويت دور فاعل وإيجابي على المستوى العربي . ص ١٥١ (درجتان)

أ. انضمت الكويت لجامعة الدول العربية منذ استقلالها ١٩٦١ م وكان لها دوراً فعالاً في مجالات متعددة .

ب. كان للكويت دوراً بارزاً في تأسيس مجلس التعاون الخليجي . / الوقوف إلى جانب

الشعب الفلسطيني . / الاهتمام بمشكلة إقليم دارفور في السودان . / استضافة المؤتمر

الموسم الثالث لوزراء خارجية دول جوار العراق في الكويت في ٢٢ أبريل ٢٠٠٨ م .



السؤال الرابع :- مقالتي ويتكون من ( أ - ب )

أ - عرف المفاهيم والمصطلحات التالية :

- ١- التنمية الاجتماعية : النهوض بمختلف المجالات البشرية والإنسانية في المجتمع. ص ١١٠ (درجة واحدة)
- ٢- الاحتباس الحراري : ارتفاع درجات حرارة الأرض عن معدلها الطبيعي. ص ١٣٣ (درجة واحدة)
- ٣- العولمة : سهولة الحركة والانتقال بين دول العالم من خلال تذويب الحدود. ص ١٠٩ (درجة واحدة)
- ٤- السبخة : أرض تبخر عنها الماء وبقيت عليها طبقة مالحة. ص ٨٥

ب - أجب عن الأسئلة التالية : ( يكتفي بنقطتين لكل سؤال )

- ١- ما الآثار الناتجة عن تآكل طبقة الأوزون . ص ١٣٤ (درجتان)  
أ. ارتفاع درجة حرارة الجو المحيط بالكرة الأرضية / ارتفاع نسبة الإصابة بالأمراض الجلدية وأمراض العيون .

ب. إتلاف الغطاء النباتي وانخفاض إنتاجية المحاصيل الزراعية .

- ٢- عدد أنشطة الصندوق الكويتي للتنمية الاقتصادية . ص ١٤٤ (درجتان)

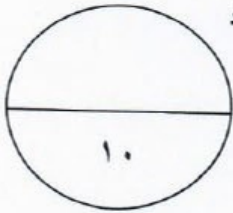
أ. تقديم القروض والضمانات للدول النامية .

ب. تقديم المنح على سبيل المعونة الفنية .

- ٣- اذكر العناصر التي تحدد الرأي العام . ص ١٠٦ (درجتان)

أ. وجود قضية أو مسألة تكون محل اهتمام الناس . / وجود عدد من الأفراد لديهم اهتمام بالقضية .

ب. التعبير أو الإفصاح عن الرأي أو وجهة النظر سواء بالكلمة المكتوبة أو المنطوقة .



انتهت الأسئلة مع تمنياتنا لكم بالتوفيق ،،